

الامتحان الوطني الموحد للبكالوريا

الدورة الاستدراكية 2016

- الموضوع -

RS 52

المملكة المغربية
وزارة التربية الوطنية
والتكوين المهني



المركز الوطني للتقويم
والامتحانات والتوجيه



3	مدة الإنجاز	الإقتصاد العام والإحصاء	المادة
6	المعامل	شعبة علوم الإقتصاد والتدبير مسلك العلوم الاقتصادية	الشعبة أو المسلك

Les pages 6 et 7 sont à rendre obligatoirement avec la copie
L'utilisation de la machine à calculer non programmable est autorisée
Pour les calculs, retenir deux chiffres après la virgule
Évitez les ratures et les surcharges, mentionnez le numéro du dossier puis celui de la question
0,5 point de la note sur 20 est réservé à la présentation de la copie

DOSSIER 1 : POLITIQUES CONJONCTURELLES ET EQUILIBRES MACROECONOMIQUES

DOCUMENT 1 : Principaux indicateurs économiques au Maroc

Selon le haut commissariat au plan (HCP), le Maroc devrait connaître un quasi-doublement de son taux de croissance économique en 2015, à près de 5%. Cette performance s'attribue notamment à un fort rendement agricole, qui permettrait une légère baisse du taux de chômage pour s'établir à 9,7%, et à une importante baisse des prix des matières premières y compris le pétrole. Cependant, tous les prévisionnistes sont d'accord qu'en 2016, le Maroc connaîtra bien un fort ralentissement du taux de sa croissance économique à environ 2%. En cause, un recul attendu de la valeur ajoutée agricole qui va contrebalancer des facteurs favorables comme la baisse du prix du pétrole. Par ailleurs, le déficit budgétaire après avoir dépassé 7% en 2012, a été ramené à 5% fin 2014 et devrait être de 4,5% en fin d'année 2015. Cette amélioration du déficit est en partie due à l'efficacité des politiques économiques liée en particulier à la « réussite » de la réforme de la caisse de compensation, qui subventionne des produits de grande consommation. Le coût de cette caisse ne devrait pas dépasser 23 milliards de dirhams en 2015 contre 53 milliards de dirhams en 2012. En outre, en 2015, l'inflation reste modérée et devrait s'établir à 1,5%, quant au solde des transactions courantes, toutes les prévisions tablent sur un déficit de 3 % du PIB.

Source : www.telquel au 21/01/15 et Le Budget Economique Exploratoire, HCP, 2016 (texte adapté)

DOCUMENT 2 : Données de la comptabilité nationale marocaine en millions de DH (Prix courants)

Rubriques	2015 (*)
Produit intérieur brut (PIB)	953 854
Dépenses de consommation finale (DCF)	758 416
Exportations des biens et services (X)	323 605
Variation des stocks (ΔS)	32 530
Importations des biens et services (M)	447 602
Formation brute du capital fixe (FBCF)	.. ?..

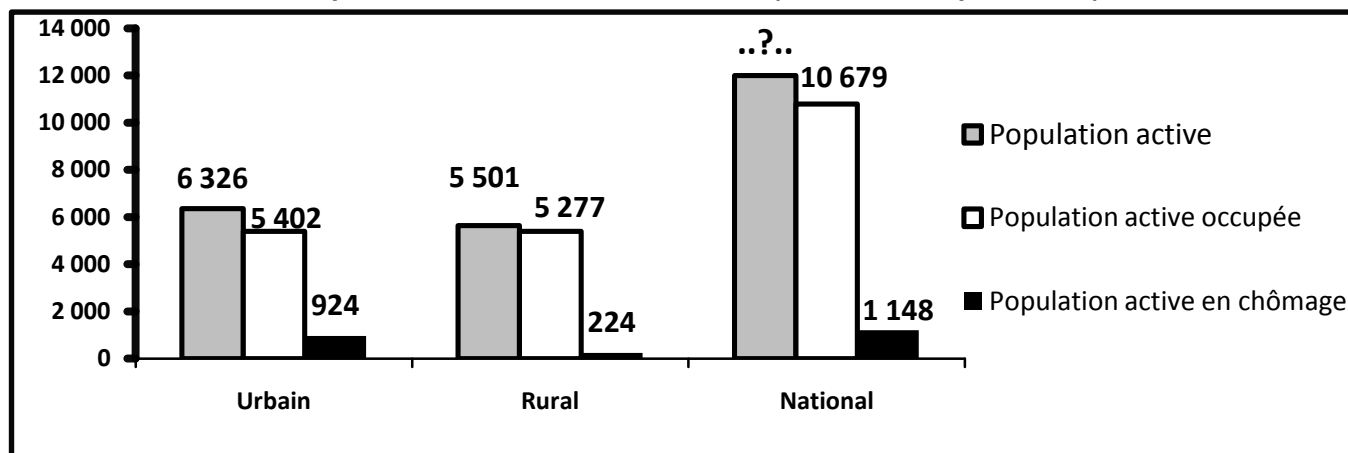
(*) Prévisions

Source : Le Budget Economique Exploratoire, HCP, 2015

DOCUMENT 3 : Situation du marché du travail en 2015

Selon le HCP, entre 2014 et 2015, le taux de chômage est passé de 9,9% à 9,7% au niveau national, de 14,8% à 14,6% en milieu urbain et de 4,2% à ...?...% en milieu rural.

Population active marocaine en 2015 (en milliers de personnes)



Source : Enquête nationale sur l'emploi, HCP

DOCUMENT 4 : Taux directeur, un potentiel de baisse inexploité ?

Après deux baisses successives de 3% à 2,75% puis à 2,5%, Bank Al-Maghrib a maintenu inchangé son taux directeur depuis décembre 2014. **Décision qui risque de ne pas donner un nouveau coup de pouce à la demande intérieure.**

Pourtant, plusieurs facteurs sont favorables pour une baisse du taux directeur. D'une part, la conjoncture internationale ne laisse pas penser que des pressions inflationnistes d'origine externe viendraient s'exercer sur l'économie marocaine : la reprise de l'activité dans l'union européenne, principal partenaire commercial du Maroc, reste faible, le prix du pétrole en baisse, les taux directeurs des principales banques centrales sont à des niveaux proches de zéro et l'inflation est également à des niveaux extrêmement bas en zone euro et aux Etats-Unis. D'autre part, sur le plan interne, on note l'absence de tensions inflationnistes émanant de la demande ou d'origine monétaire liée au ralentissement de la distribution des crédits.

Taux d'inflation et évolution des crédits bancaires en %

Année (xi)	2011	2012	2013	2014	2015
Variation en % des crédits bancaires (yi)	10,6	4,6	3,9	2,2	0,2
Taux d'inflation	0,9	1,3	1,9	0,4	1,6

Par ailleurs, l'agrégat M3 a enregistré, en glissement mensuel, en novembre 2015, une hausse de 0,6% pour s'établir à 1 122 milliards de DH. Cette évolution résulte de la progression de 0,4% des créances sur l'économie, de 1,6% des créances nettes sur l'Administration centrale et de 0,9% des réserves internationales nettes.

Source : www.lavieeco.com au 05/10/2015 et au 01/02/2016 (texte adapté)

DOCUMENT 5 : Quelques orientations de la politique budgétaire au Maroc en 2016

(...) Pour le projet de la loi de finances 2016, le ministre de l'économie et des finances a souligné que les avancées réalisées en matière des équilibres macro-économiques, en l'occurrence la baisse du déficit budgétaire, ne sont pas liées aux facteurs conjoncturels mais sont le résultat de réformes « structurelles et audacieuses », portant sur la réduction des dépenses de la compensation en les orientant vers un appui à l'investissement dans des secteurs à haute valeur ajoutée. En outre, il a été décidé l'augmentation du taux de la TVA sur certains produits, la réforme de l'impôt sur les sociétés et le plafonnement de certaines dépenses.

Cependant, pour certains analystes, la maîtrise du déficit budgétaire risque d'être temporaire et due aux facteurs surtout conjoncturels, à savoir la bonne campagne agricole, la baisse des prix du pétrole, le poids croissant de la dette publique...

Par ailleurs, le recours à l'endettement est un résultat évident du déficit budgétaire en vue d'investir et de réaliser le développement, « Nous sommes pour **un endettement destiné à l'investissement générateur de richesses** » a souligné le ministre.

Source : www.lavieeco.com au 02/01/2016 (texte adapté)

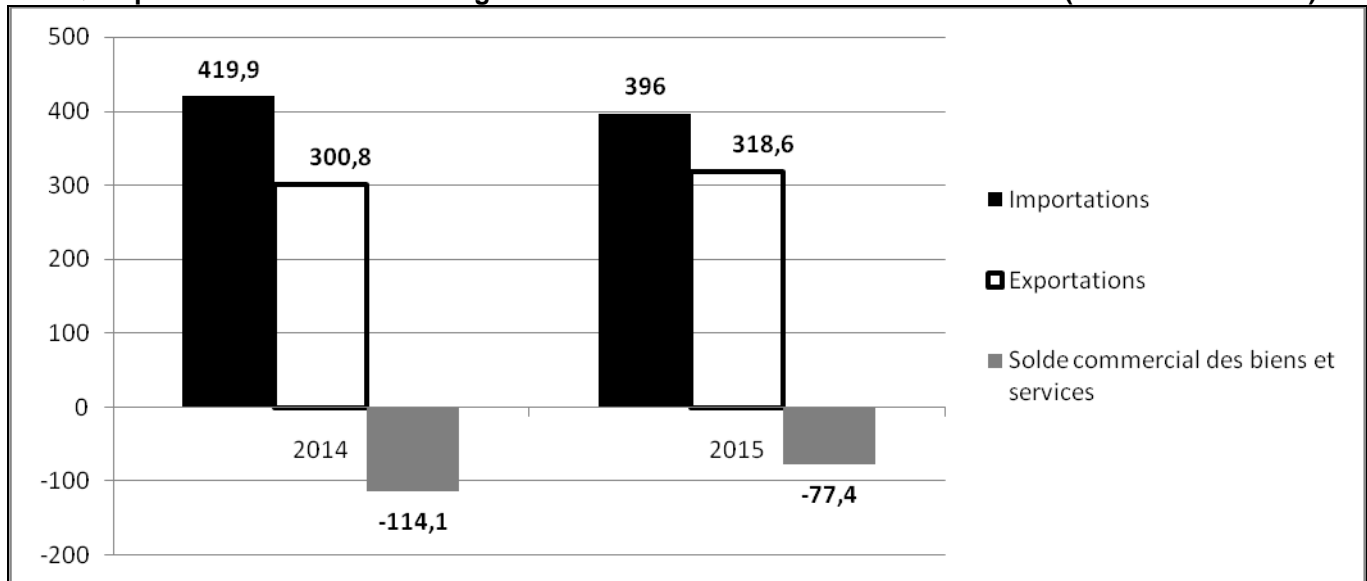
DOCUMENT 6 : Le déficit commercial s'allège de 35 milliards de DH en 2015

Au terme de l'année 2015, les résultats préliminaires des échanges extérieurs marocains laissent apparaître un allègement du déficit commercial de 35 milliards de dirhams (Mds DH), suite à la progression des exportations et à la baisse des importations. En effet, les exportations ont atteint 185,4 Mds DH, tirées par la dynamique des expéditions du secteur automobile (+8,4 Mds DH) et des ventes de phosphates et dérivés (+6,2 Mds DH), conjuguée au bon comportement des exportations du secteur de l'agriculture et agroalimentaire (+3,9 Mds DH)...

S'agissant des importations, celles-ci ont accusé une régression de 5,6% pour atteindre 319,6 Mds DH. Cette évolution provient pour l'essentiel du recul de la facture énergétique et du repli des achats de produits alimentaires (- 6 Mds DH).

Toutefois, cette bonne performance est due en partie aux facteurs conjoncturels, notamment la baisse des cours des produits énergétiques et la bonne campagne agricole.

Quelques indicateurs des échanges extérieurs marocains en biens et services (En milliards de DH)



Sources : www.telquel.ma au 19/01/2016 et www.oc.gov.ma (texte adapté)

TRAVAIL A FAIRE :

13,50 points

Documents de référence	N° de question	Questions	Barème
Document 1	1	a- Relevez en quantifiant trois indicateurs macroéconomiques au Maroc en 2015 ; b- Dégagez deux facteurs de fragilité de l'économie marocaine ; c- Précisez un effet éventuel de la réforme de la caisse de compensation sur : c ₁ - Les ménages ; c ₂ - Le budget de l'Etat ; d- Représentez la situation économique prévue pour le Maroc en 2015, annexe n° 1, page n°6 ; e- Appréciez sur la base du graphique « Annexe 1 », la situation économique du Maroc en 2015 par rapport à celle des États-Unis.	0,25 pt 0,25 pt 0,25 pt 0,25 pt 0,50 pt 0,50 pt
Document 2	2	Calculez et lisez : a- la donnée manquante ; b- la demande extérieure nette.	0,50 pt 0,50 pt
Document 3	3	a- Calculez et lisez pour 2015 le taux de chômage de la population rurale ; b- Caractérissez en illustrant le chômage au Maroc.	0,50 pt 0,50 pt
Document 4	4	a- Complétez les annexes n° 2 et 3, page n°6 ; b- Dégagez deux facteurs défavorables à la croissance économique au Maroc ; c- Expliquez le passage en gras souligné ; d- Déterminez l'équation de la droite d'ajustement linéaire selon la méthode des moindres carrés (méthode développée), sachant que : $x_i = \text{Les années} ; y_i = \text{Variation en \% des crédits bancaires} ;$ $\sum x_i \cdot y_i = 41,3 ; \sum x_i^2 = 55 ; \bar{y} = 4,3$ e- Calculez le taux d'évolution prévisionnel du crédit bancaire pour l'année 2017.	1,50 pt 0,25 pt 0,50 pt 1,00 pt 0,25 pt

Document 5	5	a- Relevez un moyen de financement du déficit budgétaire ; b- Précisez et expliquez une limite éventuelle de ce moyen de financement ; c- Expliquez le passage en gras souligné;	0,25 pt 0,25 pt 0,5 pt
Document 6	6	a- Expliquez en illustrant l'évolution du solde commercial au Maroc en 2015 ; b- Calculez et lisez pour l'année 2015 : b ₁ – le taux de couverture ; b ₂ – le taux d'ouverture sachant que le PIB de l'année 2015 est de 953 854 millions de dirhams.	0,50 pt 0,50 pt 0,50 pt
Documents du dossier n°1	7	Synthèse : (Exploitez les documents du dossier 1, vos réponses et connaissances acquises). En 2015, l'économie marocaine s'est caractérisée par une amélioration des équilibres macro-économiques, principalement les soldes budgétaire et commercial, cependant, cette amélioration reste fragile. Après avoir présenté les facteurs d'amélioration de ces deux soldes et leurs fragilités, proposez des solutions pour y remédier. NB : La synthèse doit être structurée en : Introduction, développement et conclusion.	3,50pts

DOSSIER 2 : MONDIALISATION ET DEVELOPPEMENT

DOCUMENT 7 : Le Maroc face à la mondialisation

Lorsqu'on parle de la mondialisation, certains soulignent les aspects positifs, comme l'accroissement des contacts entre les continents et les pays, les progrès de l'internet et des communications, les échanges de toute sorte. Cependant, la mondialisation telle qu'elle existe aujourd'hui a des effets négatifs écologiques et sociaux. Les changements climatiques en sont une manifestation, mais aussi l'accroissement de la pauvreté et des distances économiques et sociales entre groupes humains.

Le Maroc conscient de ces effets, se veut un immense chantier de réformes, d'initiatives et de projets économiques et sociaux, dont la portée est d'améliorer les conditions de vie des citoyens et d'accélérer l'intégration du pays dans la mondialisation à travers des groupements régionaux. Cette intégration dans l'économie mondiale doit être accompagnée de l'édification d'une économie moderne, reposant sur le déploiement de mesures appropriées, facilitant l'investissement et garantissant le meilleur environnement pour les affaires tout en veillant à une répartition équitable des richesses entre régions et classes sociales.

Source : www.lematin.ma au 30/01/2014 (texte adapté)

DOCUMENT 8 : Attirer les investisseurs au Maroc, ce n'est pas aussi bénéfique qu'on le pense

Le Maroc, avec l'Egypte, se maintiennent en tête des destinations phares des investisseurs dans la région nord-africaine. Le royaume a attiré en 2014 plus de 3,6 milliards de dollars d'investissements directs étrangers (IDE).

Les arguments forts de la réalisation marocaine est sans doute sa stabilité politique, les efforts entrepris en matière d'infrastructures et la proximité avec l'Europe qui représente également l'un des principaux atouts du Maroc.

(...) Les investissements en provenance de l'étranger ont bien contribué à la croissance de l'économie marocaine, mais, ils ne bénéficient pas au bien-être de la population. Le volume des IDE a fortement augmenté au Maroc depuis l'an 2000, ce qui doit coïncider en principe avec l'amélioration du PIB par habitant et la réduction de la pauvreté. Les IDE qui viennent au Maroc sont trop concentrés dans le secteur tertiaire, en particulier les services et le tourisme (finance, affaires, hôtellerie et restauration), mais aucun IDE ou presque ne visait le secteur primaire, source de revenu d'une grande partie de la population marocaine.

Sources : www.leconomiste.com du 28/08/2015 et www.tel quel du 30/04/2015 (texte adapté)

DOCUMENT 9 : L'IDH du Maroc en 2015

L'indice du développement humain (IDH) du Maroc n'a presque pas évolué en 2015. Sa valeur est estimée à 0,617, contre 0,614 un an plus tôt. En revanche, la Libye, la Tunisie et l'Algérie affichent respectivement des indices de 0,784 ; 0,721 et 0,717.

Les classements en fonction de l'IDH sont basés sur des seuils fixés comme suit :

- IDH inférieur à 0,550 pour un développement humain faible ;
- IDH entre 0,550 et 0,699 pour un développement humain moyen ;
- IDH entre 0,700 et 0,799 pour un développement humain élevé ;
- IDH de 0,800 ou plus pour un développement humain très élevé.

Le rapport sur le développement humain 2015 soulève un des points les négatifs pour le Maroc, il s'agit de la durée moyenne de scolarisation qui atteint péniblement 4,4 ans, alors qu'elle tourne autour de 12 ans dans les pays à développement humain très élevé, relevons cependant l'amélioration de l'espérance de vie des marocains.....

Source : www.telquel.com au 22/07/2014 et 15/12/2015 (texte adapté)

DOCUMENT 10 : Le sous-développement, objet de controverse

Le sous-développement est la situation dans laquelle les besoins fondamentaux ne sont pas satisfaits.

Pour certains économistes, les économies des pays sous-développés se caractérisent par la juxtaposition d'un secteur moderne à plus forte intensité capitalistique et dont la production est souvent orientée vers l'exportation et d'un autre traditionnel à faible productivité qui souffre de sous emploi.

Ces deux secteurs sont faiblement liés, ce qui conduit à l'absence d'effet d'entraînement du secteur moderne vers le secteur traditionnel, de ce fait, la croissance d'une branche ne se propage pas aux autres branches de l'économie.

Pour d'autres économistes, **les économies des pays sous-développés seraient victimes d'une insuffisance structurelle des revenus, de la demande et de l'épargne, facteurs qui empêchent leur développement.**

Source : Dictionnaire de science économique, édition Armand Colin, 2013 (texte adapté)

TRAVAIL A FAIRE :

6,00 points

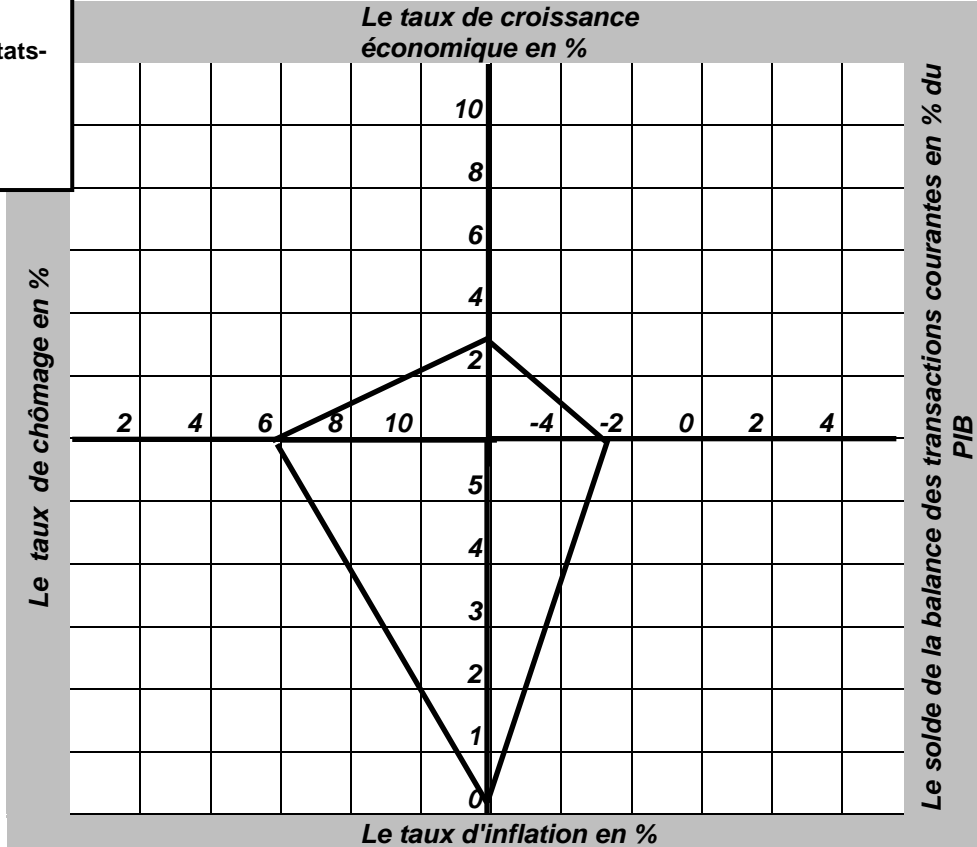
Documents de référence	N° de question	Questions	Barème
Document 7	8	a- Relevez deux avantages et deux inconvénients de la mondialisation ; b- Dégagez une stratégie à adopter face à la mondialisation ; c- Montrez comment cette stratégie pourrait limiter l'impact négatif de la mondialisation sur l'économie marocaine.	0,50pt 0,25pt 0,50pt
Document 8	9	a- Relevez : a ₁ - trois facteurs d'attraction des IDE par le Maroc ; a ₂ - un indicateur non économique de sous-développement ; b- Précisez en justifiant un effet éventuel des IDE attirés par le Maroc sur le compte des transactions courantes ; c- Montrez que les IDE n'ont pas bien contribué à la réduction de la pauvreté au Maroc.	0,25pt 0,25pt 0,50pt 0,5pt
Document 9	10	a- Relevez deux composantes de l'IDH ; b- Appréciez en expliquant le niveau de développement humain au Maroc.	0,25pt 0,50pt
Document 10	11	a- Complétez l'annexe n° 4 page n°7 ; b- Expliquez le passage en gras souligné.	1,00pt 0,50pt
Annexe 5	12	Complétez l'annexe n°5, page n°7.	1,00pt

Annexes à remplir et à rendre obligatoirement avec la copie

Annexe n° 1 :

Le carré magique de Kaldor : représentation graphique

Légende :
— Cas des États-Unis en 2015



Source : Graphique élaboré à partir des données statistiques de la Coface

Annexe n° 2 :

Compétez le texte ci-après à l'aide des expressions suivantes : (l'inflation, capitaux, l'offre, liquidités, court terme):

Le marché interbancaire est un marché des à Le taux d'intérêt sur ce marché résulte de la confrontation de l'offre et de la demande des entre les banques. Si par exemple, la banque centrale veut accroître le taux d'intérêt débiteur pour lutter contre, elle diminue de la monnaie.

Annexe n° 3 :

Une action de la politique monétaire	•
Deux causes de la faible inflation au Maroc	• •
Trois contreparties de l'agrégat M3	• • •

Annexe n° 4 :

Théorie explicative du sous-développement et son auteur	Illustration à partir du document (un seul élément)
•	
•	

Annexe n° 5 : Répondez par vrai ou faux

Propositions	Vrai	Faux
Capacité ou besoin de financement = ENB + transferts nets en capital – (FBCF + Variation de stocks)	<input type="checkbox"/>	<input type="checkbox"/>
La forte croissance démographique est une conséquence du chômage	<input type="checkbox"/>	<input type="checkbox"/>
Le « Swaps de change » est un contrat de vente des bons de trésor	<input type="checkbox"/>	<input type="checkbox"/>
On parle de la réévaluation en situation de change flottant	<input type="checkbox"/>	<input type="checkbox"/>
F. List préconise la protection des industries en déclin	<input type="checkbox"/>	<input type="checkbox"/>
La révolution verte est une stratégie d'industrialisation	<input type="checkbox"/>	<input type="checkbox"/>