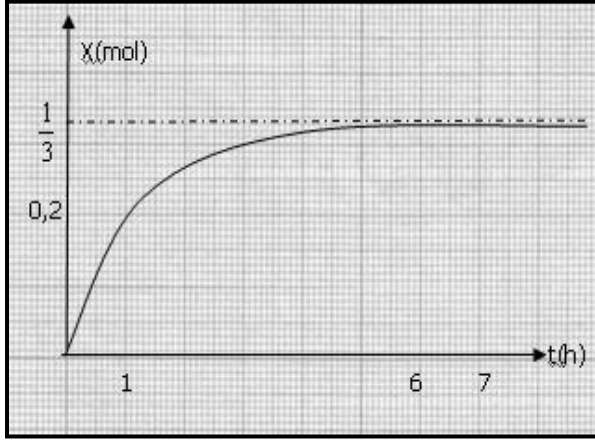


الأستاذ : رشيد جنكل	لبسم الله الرحمن الرحيم	الثانوية التأهيلية أيت باها
القسم : 2 علوم فيزيائية 2	فرض محروس رقم 3 الدورة الثانية	مديرية أشتوكة أيت باها
المادة : الفيزياء والكيمياء	السنة الدراسية : 2017 / 2018	المدة : ساعة ونصف 23/05/2018

تعطى الصيغ الحرفية (مع التاثير) قبل التطبيقات العددية
يسمح باستعمال الآلة الحاسبة العلمية غير القابلة للبرمجة

التنقيط	الكيمياء (7 نقط) (40 دقيقة)
	<p>التمرين الأول: دراسة تفاعل الأسترة ، (7,00 نقط) (40 دقيقة)</p> <p>لدراسة تفاعل الأسترة و ابراز كيفية تحسين مردوده طلب الاستاذ "رشيد جنكل" تلاميذ السنة الثانية بكالوريا علوم فيزيائية في إطار الاشغال التطبيقية للنادي العلمي بالثانوية التأهيلية ايت باها إنجاز التجربة التالية والاجابة عن الاسئلة الواردة اسفله :</p> <p>نريد تتبع تصنيع الإستر ذي رائحة التفاح المسمى بوتانوات المثيل ، لذلك ننجز خليطا يحتوي على $n_1 = 0,5 \text{ mol}$ من حمض كربوكسيلي و $n_2 = 0,5 \text{ mol}$ من كحول . نوزع الخليط على سبعة أنابيب اختبار ثم نضعها في حمام مريم درجة حرارته ثابتة عند اللحظة $t=0$. بعد ساعة من الزمن نخرج الأنبوب رقم 1 ، نبرده بالغطس ثم نقوم بمعايرة كمية الحمض المتبقى ، نقوم بنفس العملية بالنسبة للأنبوب الثاني بعد ساعتين من الزمن وهكذا حتى معايرة المحاليل الموجودة في الأنابيب السبعة مكنت من خط المنحنى التالي $x = f(t)$ نعرف تقدم التفاعل الأسترة بكمية مادة الإستر x الناتج عنه.</p>
1 ن	1. أكتب معادلة التفاعل الحاصل في كل أنبوب محدد اسمي كلا من الحمض الكربوكسيلي والكحول
0,75 ن	2. أحسب r مردود التفاعل
1 ن	3. أحسب ثابتة التوازن K لتفاعل الأسترة
1 ن	4. لإزاحة التفاعل ، نضيف مولا واحدا من الحمض الكربوكسيلي
1 ن	1.4 انشيء الجدول الوصفي
1,25 ن	2.4 حدد قيمة خارج التفاعل Q_r ثم عين منحنى تطور المجموعة
1,5 ن	3.4 حدد القيمتين الجديدتين لكل من التقدم النهائي و المردود
0,5 ن	4.4 كيف يمكن الرفع من قيمة مردود التفاعل؟

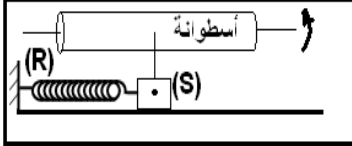


التنقيط	الفيزياء (14 نقطة) (40 دقيقة)
	<p>التمرين الثاني : دراسة حركة قمر اصطناعي محمد السادس أ : (5,75 نقط) (40 دقيقة)</p> <p>تمكن المغرب من اطلاق قمر اصطناعي يحمل اسم "محمد السادس - أ" Mohammed VI-A " ووضعه في مداره يوم 8 نونبر 2017 على ارتفاع $h = 695 \text{ km}$ من سطح الأرض وذلك من قاعدة كورو التابعة لمنطقة غوايانا الفرنسية</p> <p>يهدف القمر الاصطناعي إلى الرصد والإستطلاع بدقة عالية في شريط يمتد على طول 800 كيلومتر، فضلا عن التقاط 500 صورة يوميا وإرسالها إلى محطة التحكم الأرضية قرب مدينة الرباط على رأس كل 6 ساعات، وسيستخدم أساساً في إنجاز الخرائط الطبوغرافية وتتبع الأنشطة الزراعية والتنبؤ بالكوارث الطبيعية وإدارتها، ورصد التغيرات في البيئة والتصحر، فضلا عن مراقبة الحدود والسواحل. كما سيساعد على وضع خرائط عمرانية وضبط التطور العمراني ومنح نوع من الاستقلالية في المعلومات.</p>
	<p>المعطيات :</p> <ul style="list-style-type: none"> تبلغ كتلة القمر الاصطناعي A حوالي $m_A = 970 \text{ Kg}$، ويحلق على بعد 695 كيلومترا من سطح الأرض. ينجز هذا القمر الاصطناعي A دورة كاملة حول الأرض كل 97 دقيقة. نفترض ان الأرض ذات تماثل كروي لتوزيع الكتلة وأن مسار القمر (A) دائريا ، وندرس حركته في المرجع المركزي الأرضي . ثابتة التجاذب الكوني : $G = 6.67 \cdot 10^{-11} \text{ (S.I)}$ شعاع الأرض $R_T = 6380 \text{ km}$ ، دور الأرض حول المحور القطبي $T = 84194 \text{ s}$ ، كتلة الأرض هي $M_T = 6 \cdot 10^{24} \text{ kg}$

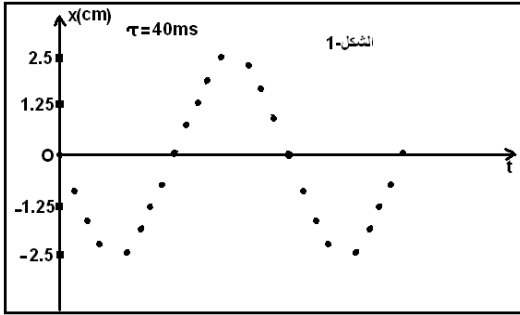
1. ارسم الشكل ثم مثل متجهة السرعة \vec{v}_A للقمر الاصطناعي A و قوة التجاذب الكوني التي تطبقها الأرض على القمر الاصطناعي A ن0,75
2. اعط التعبير المتجهي لقوة التجاذب الكوني التي تطبقها الأرض على القمر الاصطناعي A ن0,75
3. أكتب في اساس فريبي ، تعبير متجهة التسارع لحركة (S). ثم مثل على الشكل متجهة التسارع \vec{a}_A ن0,75
4. بتطبيق القانون الثاني لنيوتن على مركز قصور القمر الاصطناعي A ن0,75
- 1.4 بين ان حركة القمر A دائرية منتظمة ن0,75
- 2.4 أوجد تعبير V_A تعبير سرعة القمر الاصطناعي المدارية بدلالة M_T ، G ، h ، R_T . ثم احسب قيمتها ن1
- 3.4 اوجد تعبير الدور T بدلالة: M_T ، G ، h ، R_T . ن1
- 4.4 استنتج n عدد دورات القمر (A) حول الأرض في يوم واحد ن0,75

◀ التمرين الثالث : دراسة النواس المرن : (7,25 نقط) (40 دقيقة)

نعتبر التركيب التجريبي الممثل جانبه و المكون من نابض لفاته غير متصلة و كتلته مهملة و صلابته K. جسم صلب (S) كتلته m قابل لانزلاق بدون احتكاك على المستوى الافقي.



1. نزيح الجسم عن موضع توازنه ثم نحرره بدون سرعة بدئية. نسجل حركة نقطة منه على ورقة ملفوفة حول أسطوانة تدور بسرعة ثابتة. نحصل على التسجيل الشكل-1-نختار النقطة O أصلا لمعلم الفضاء و لحظة تسجيلها أصلا لمعلم الزمن.



- 1.1 بتطبيق القانون الثاني لنيوتن أوجد المعادلة التفاضلية للحركة. ن1
- 2.1 حدد طبيعة الحركة للجسم ن0,5
- 3.1 أوجد مبيانيا X_m و T_0 . ن0,75

- 4.1 أكتب المعادلة الزمنية للحركة و بين أن $\varphi = \frac{\pi}{2}$ مستعينا بالمعادلتين ن1,5

$$x(t) \text{ و } v(t)$$

- 5.1 أوجد سرعة المتحرك عند الافصول $x=2\text{cm}$. ن1

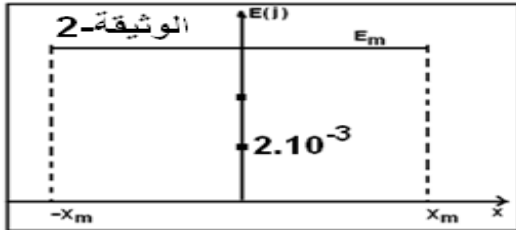
2. تمثل الوثيقة-2- المقابلة مخطط الطاقة الميكانيكية $E_m=f(x)$ ن2

نعتبر المستوى الافقي المار من مركز قصور الجسم حالة مرجعية لطاقة الوضع الثقالية E_{pp}

كما نعتبر الموضع $x=0$ حالة مرجعية لطاقة الوضع المرنة E_{pe}

- 1.2 اعط تعبير كل من E_c و E_{pe} ثم مثل على الوثيقة تغيراتهما ن1,5

- 2.2 باستعمال الوثيقة أوجد K صلابة النابض و m كتلة الجسم. ن1



رمضان كريم

” كل عام وانتمم بالتف خير ”

عطلة سعيدة للجميع

وفقكم الله في الامتحانات البكالوريا

امين يارب العالمين

