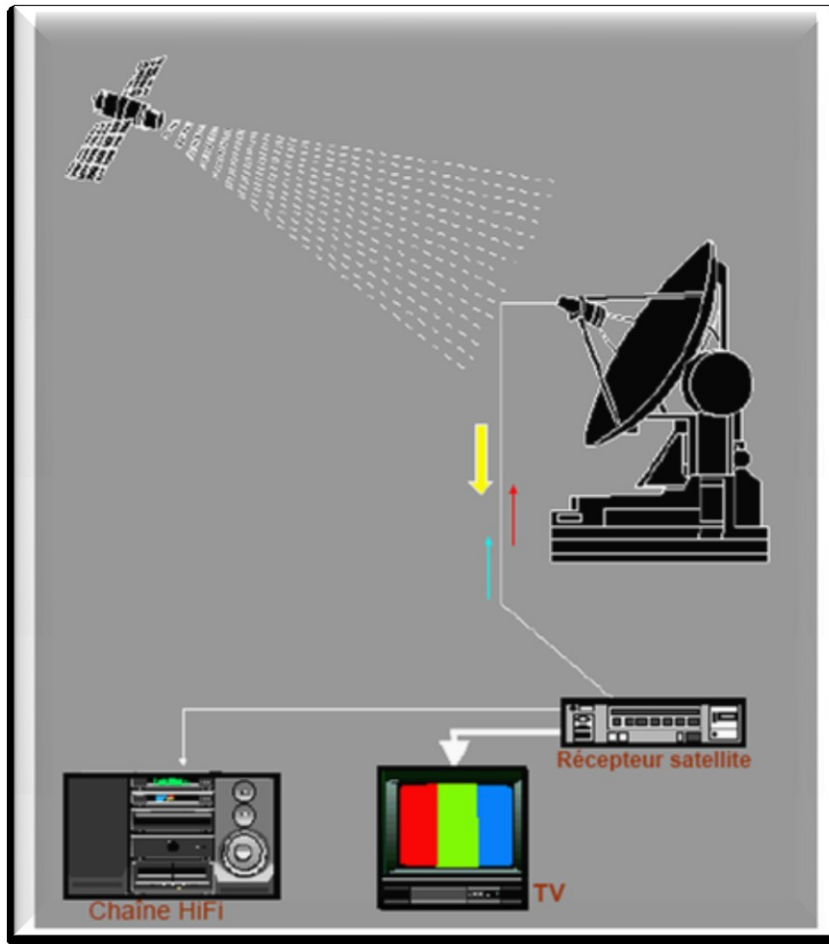


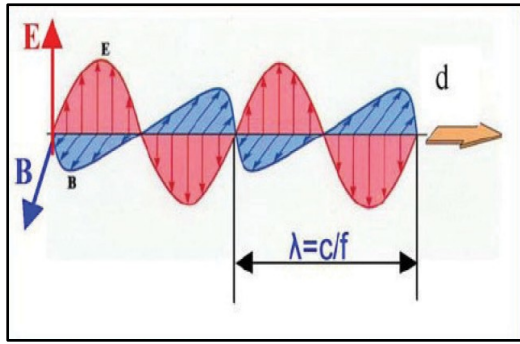


الموجات الكهرمغناطيسية نقل المعلومات - تضمين الوسع



تعد الموجات الكهرمغناطيسية أحد أهم الاكتشافات العلمية في العصر الحديث ، بواسطتها يتم انتقال المعلومات ، الأخبار ، الموسيقى و الحوارات من و إلى جميع مناطق العالم .
فهنالك عدة أجهزة تعتمد في اشتغالها على هذا النوع من الموجات : محطات إذاعية ، أجهزة التلفزيون ، الهواتف النقالة ، أجهزة الاتصالات الفضائية
فكيف تعمل هذه الملايين من الموجات غير المرئية و المنتشرة حول العالم ، بدون أن يحدث تداخل أو تشويش لبعضها البعض ؟



1 (الموجات الكهرمغناطيسية .

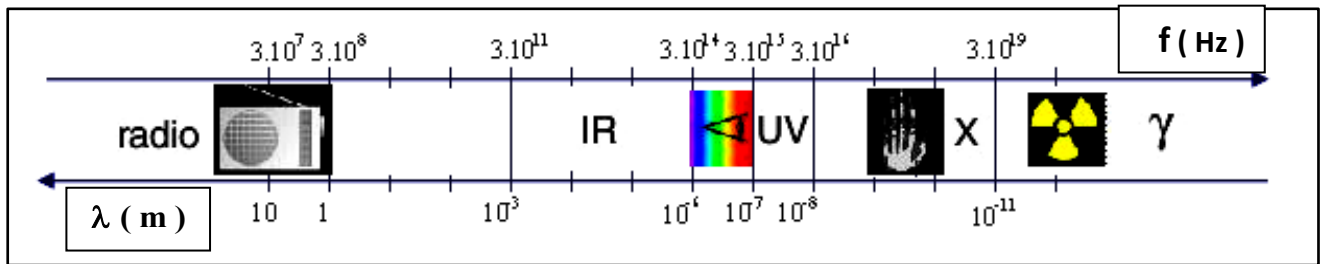
1-1 (تعريف و مميزات .

تتكون الموجة الكهرمغناطيسية من مجال كهربائي \vec{E} و مجال مغناطيسي \vec{B} متعامدين فيما بينهما و مع اتجاه انتشارهما .
- تنتشر في الفراغ بسرعة $c = 3.10^8 \text{ m.s}^{-1}$ ، و هي موجات دورية تتميز بدور T و بتردد f و بطول موجة λ :

$$\lambda = c.T$$

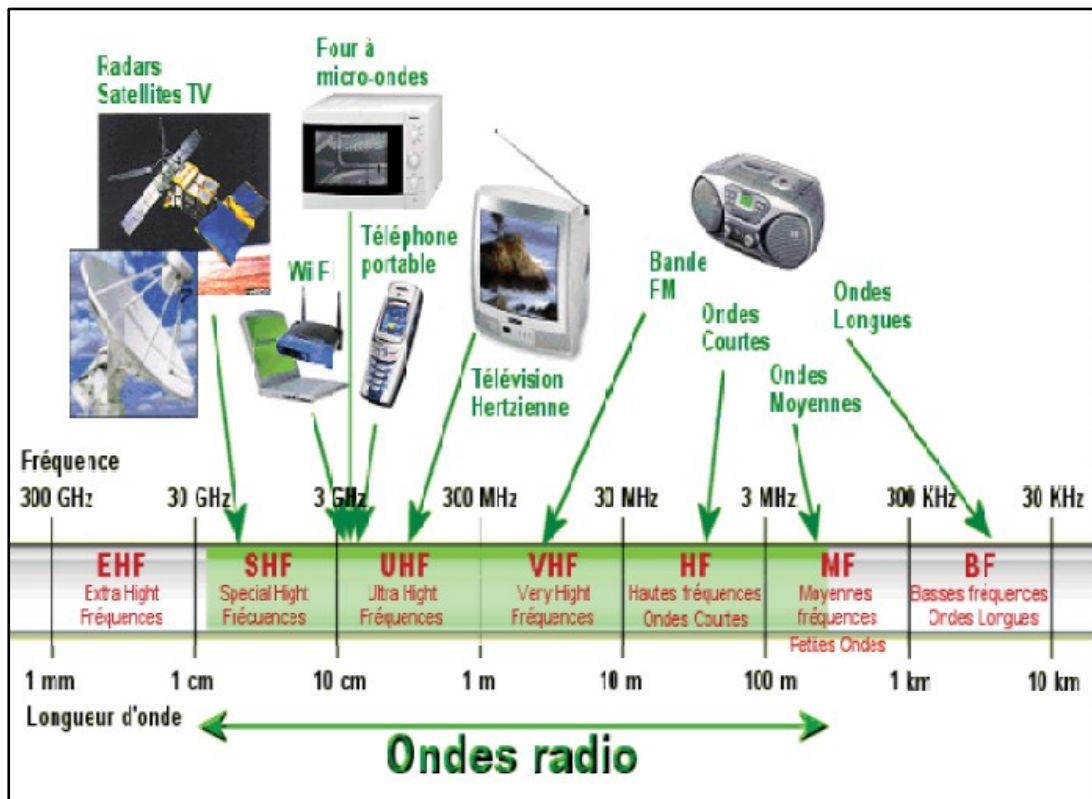
- موجات مستعرضة تخضع للخصائص الموجية كالحيود ، التداخل ، الانكسار و الانعكاس .
، قدرة الموجة الكهرمغناطيسية تتعلق بوسع الموجة ، ترددها و العوامل الجوية .

طيف الموجات الكهرمغناطيسية



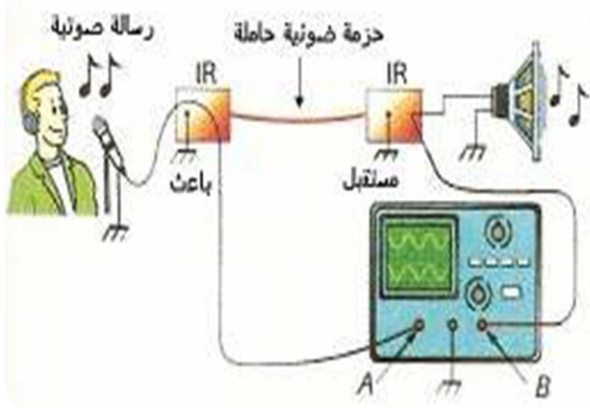
1-2 (الموجات الهرتزية .

موجات كهرمغناطيسية طول موجتها في الفراغ أكبر أو تساوي 1mm ، تستعمل في نقل المعلومات في مجال الاتصالات اللاسلكية و البث الإذاعي و التلفزيوني
و تستعمل الموجات الهرتزية ذات التردد المرتفع في حمل (نقل) الإشارات ذات ترددات منخفضة باعتماد عملية التضمين .



2 (إرسال و استقبال موجة كهرومغناطيسية .

2-1 (نقل إشارة صوتية



ننجز التركيب التجريبي جانبه ونصدر صوتا لآلة موسيقية أمام الميكروفون ونسمع الصوت من مكبر الصوت .
نعوض الميكروفون بمولد التردد المنخفض GBF ضبط على توتر متناوب جيبي تردده مسموع وقيمه 440Hz .
نعين على شاشة راسم التذبذب الإشارتين ؛ المنبعثة من جهاز GBF والمستقبلة من طرف مكبر الصوت .
الصوت المحدث أمام الميكروفون هو المعلومة المراد إرسالها .

الميكروفون يحول الرسالة الصوتية إلى إشارة كهربائية (توتر كهربائي) مكبر الصوت يستقبل الإشارة الكهربائية ويحولها إلى إشارة صوتية أي الرسالة الصوتية .
ما دور الليف البصري ؟

موجه الحزمة الضوئية (guide) أي أن الحزمة الضوئية الحاملة للإشارة الكهربائية تنتشر داخله

نسمى الحزمة الضوئية بالموجة الحاملة Onde porteuse فهي تتغير حسب الإشارة المراد نقلها ، نقول أن الحزمة الضوئية مضمّنة Modulé .

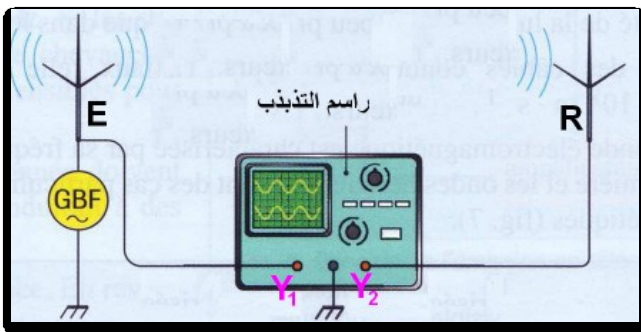
قارن بين شكلي ودوري ووسعي الإشارة المنبعثة من GBF والإشارة التي يستقبلها مكبر الصوت من خلال الشكل يلاحظ أن لهما نفس الدور ونفس الوسع
الموجة الحاملة موجة جيبية ترددها عالي محصور بين 100KHz و 10GHz رتبة قدر سرعة انتشارها هي $2 \cdot 10^8 \text{m/s}$ وهي تقارب سرعة الضوء في الفراغ .
ما الإشارة المضمّنة ؟ وما الإشارة المضمّنة ؟
الإشارة المضمّنة ، الإشارة الكهربائية المراد إرسالها : المعلومة ذات تردد منخفض من 20Hz إلى 20KHz .
الإشارة المضمّنة ، الحزمة الضوئية : الموجة الحاملة
أعط تعريفا لعملية التضمين .

عندما تغير الإشارة إحدى مميزات الموجة الحاملة (الوسع أو التردد) تسمى هذه العملية بالتضمين

ملحوظة : يمكن للموجة الحاملة أن تكون موجة صوتية أو موجة هيرتيزية (الراديو ، الهاتف المحمول إلخ) عند الاستقبال يجب فصل الإشارة (المعلومة) عن الموجة الحاملة تسمى هذه العملية بإزالة التضمين .

2-2 (إرسال واستقبال موجة كهرومغناطيسية

ننجز التركيب التجريبي الممثل جانبه .
نغذي السلك الكهربائي E بواسطة مولد التردد المنخفض GBF ضبط على توتر جيبي وسعه $U_m = 5V$ وتردده $f = 20\text{kHz}$.
نعين على شاشة راسم التذبذب التوتر بين مربطي GBF والتوتر الذي يستقبله السلك الكهربائي R .
ما دور كل من السلكين الكهربائيين E و R ؟
- السلك الكهربائي E : دور الهوائي الباعث
- السلك الكهربائي R : دور الهوائي المستقبل
قارن بين التوترين المشاهدين على شاشة راسم التذبذب .
ماذا تستنتج ؟



لهما نفس الوسع ونفس التردد نستنتج أنه تم الحفاظ على نفس المميزات التي تحملها الإشارة المراد إرسالها .

ما طبيعة الموجة المنتشرة بين السلكين E و R ؟ وما سرعة انتشارها ؟

طبيعة الموجة : موجة كهرومغناطيسية . سرعتها تساوي سرعة الضوء في الفراغ $C = 3.18^8 \text{m/s}$

هل هناك انتقال للمادة بين E و R ؟

ليس هناك انتقال المادة بين الهوائيين ، بل انتقال الطاقة بواسطة الموجة الكهرومغناطيسية .

خلاصة :

- تنقل المعلومة بواسطة موجة كهرمغناطيسية في الغلاف الجوي مادة أو الفراغ بدون انتقال للمادة وإنما بانتقال الطاقة .
- يستقبل الهوائي الباعث E إشارة كهربائية ، ويبعث موجة كهرمغناطيسية للموجة الكهرمغناطيسية المرسله من الهوائي الباعث نفس تردد الإشارة التي يستقبلها .
- للموجة الكهرمغناطيسية الواردة على الهوائي المستقبل و الإشارة الكهربائية الناتجة عنها نفس التردد .

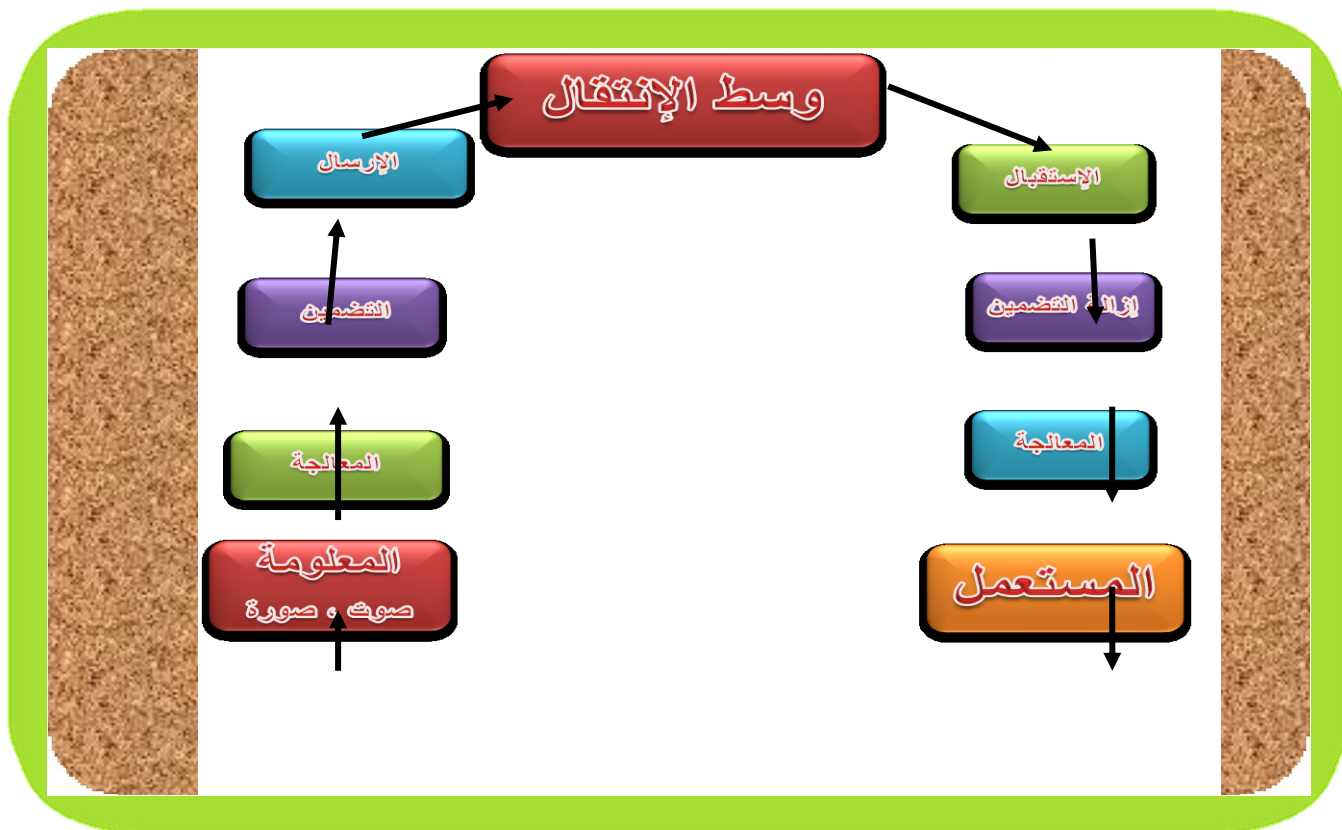
2- 3 (صعوبات تعترض نقل معلومة .

المعلومة المنقولة : صوت ، صورة ، بيانات كتابية تردداتها منخفضة تقريبا من 20Hz إلى 20kHz و بذلك فإنها تتأثر بالخواص الفيزيائية و الكهربائية لوسط الانتقال (امتصاص ، تبديد ، تداخل ، تشويش) فينتج عن هذا خمود الموجات .

من جهة أخرى يسهل اعتراضها و التصنت عليها ، كما أنها تتطلب هوائيات ذات أبعاد كبيرة $L = \frac{\lambda}{2}$.

لتجاوز هذه الصعوبات نلتجأ إلى عملية التضمين و ذلك باعتماد موجة حاملة ذات تردد عال

2- 4 (خطاطة لانتقال المعلومات .



3 (تضمين موجة جيبية.

3-1 (مبدأ التضمين .

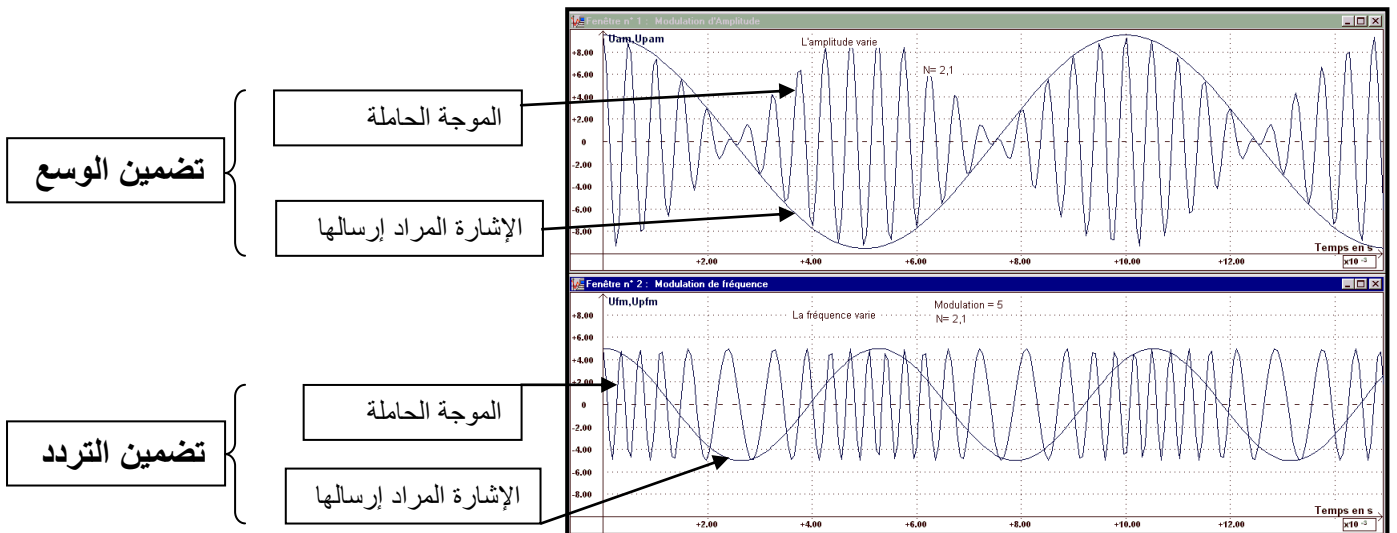
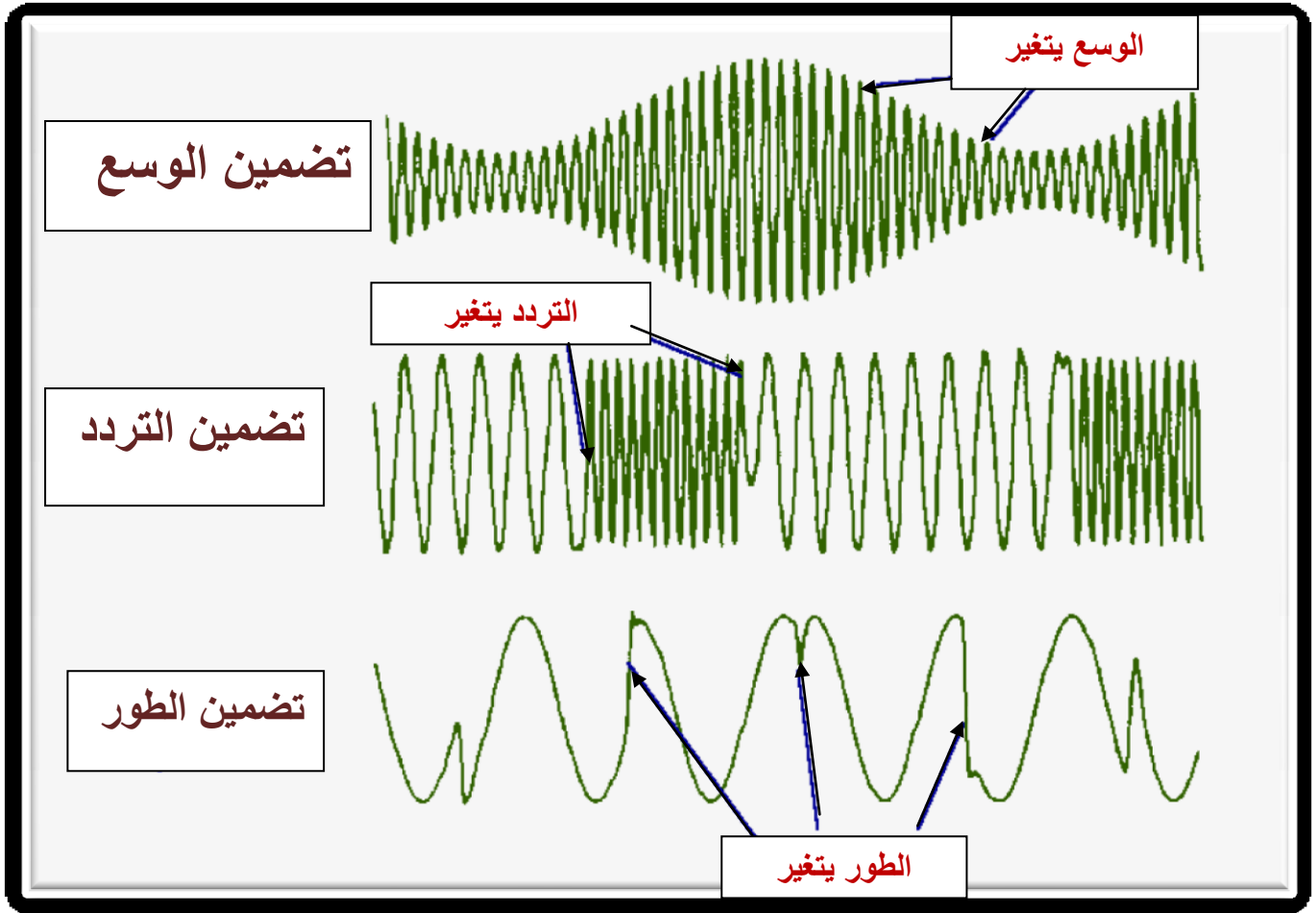
تسمى الموجة الكهرومغناطيسية التي تنقل معلومة بالموجة الحاملة . أما المعلومة فتسمى بالإشارة المضمّنة .
تتمثل تقنية التضمين في جعل الإشارة المضمّنة (المعلومة) تغير أحد المقادير المميز للموجة الحاملة أي
تغيير وسعها ، ترددها أو طورها بدلالة الزمن .

3-2 (تضمين توتر جيبى .

التعبير العام لموجة جيبية هو : $u(t) = U_m \cos(2\pi Ft + \varphi)$

لتسجيل معلومة على هذه الموجة الحاملة ، يمكن أن نغير :

- وسعها U_m بدلالة المعلومة المراد إرسالها (تضمين الوسع AM ، BLU أو SSB
- ترددها F بدلالة المعلومة المراد إرسالها (تضمين التردد FM ، FSK ، GMSK
- طورها φ بدلالة المعلومة المراد إرسالها (تضمين الطور PM ، PSK



4 (تضمين الوسع .

1-4 (مبدأ تضمين الوسع .

نحصل على تضمين الوسع بإنجاز جداء توترين :

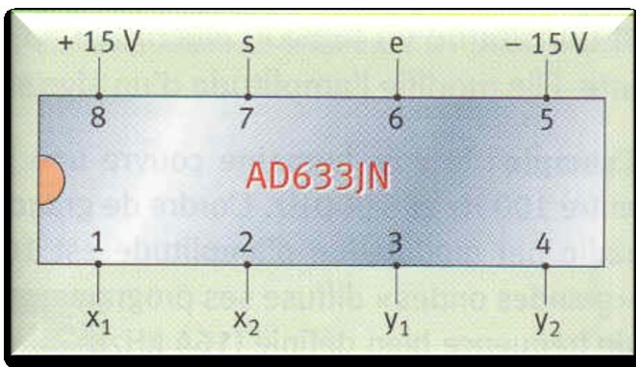

- توتر جيبى تردده عال (الموافق للموجة الحاملة) : $u_p(t) = P_m \cos(2\pi Ft)$
- توتر يساوي مجموع توتر جيبى منخفض التردد (الموافق للإشارة المضمّنة) و توتر مستمر U_0 يسمى توتر

$$u_s(t) + U_0 = S_m \cos(2\pi ft) + U_0$$

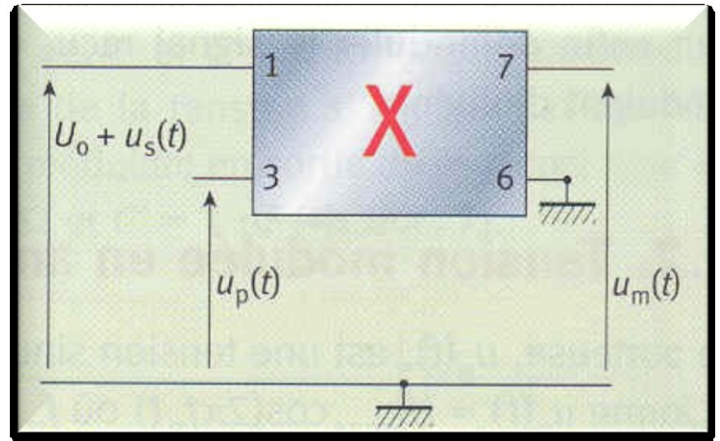
الإزاحة أو المركبة المستمرة : $u_s(t) + U_0 = S_m \cos(2\pi ft) + U_0$ حيث نستعمل تركيباً إلكترونياً منجزاً للجداء للحصول على توتر مضمّن يتناسب مع هذا الجداء :

$$u_m(t) = k \cdot u_p(t) \cdot (u_s(t) + U_0)$$

معامل التناسب k يميز الدارة المنجزة للجداء AD633 .

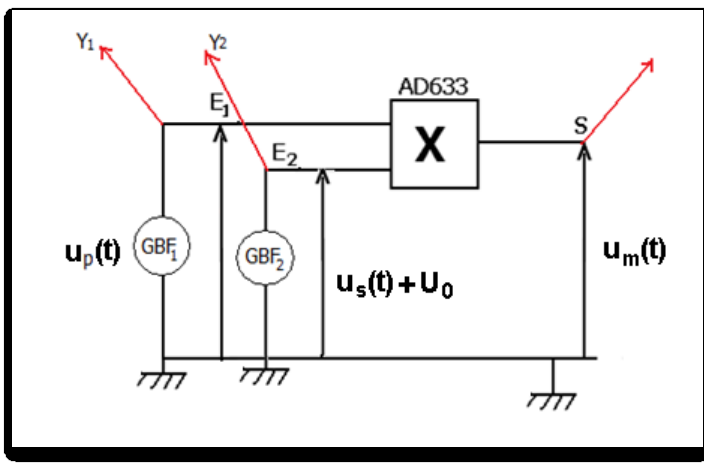


الدارة المتكاملة المنجزة للجداء



التركيب التجريبي





4-2 (الإبراز التجريبي).

ننجز التركيب التجريبي جانبه حيث :

الحساسية الرأسية في المدخل Y1 2V/div

الحساسية الرأسية في المدخل Y2 1V/div

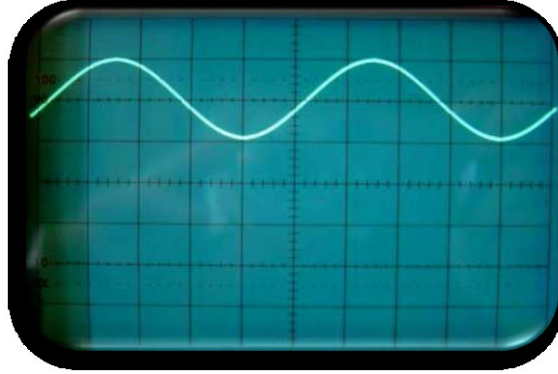
يطبق مولد GBF₂ في المدخل E التوتر $u_s(t) + U_0$:

$u_s(t)$ إشارة جيبية وسعها $S = 1V$ وترددها $f = 500Hz$


U_0 توتر مستمر ضبط بواسطة GBF₂ على القيمة

$$U_0 = 2V > S_m$$

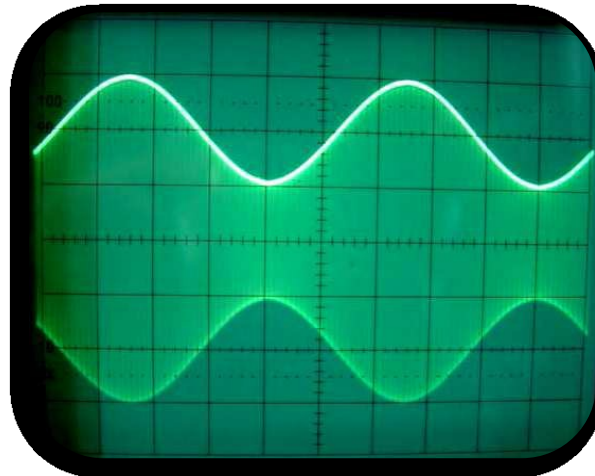
نعين على شاشة راسم التذبذب في المدخل Y₁ التوتر $u_s(t) + U_0$ فنحصل على الرسم التذبذبي التالي :

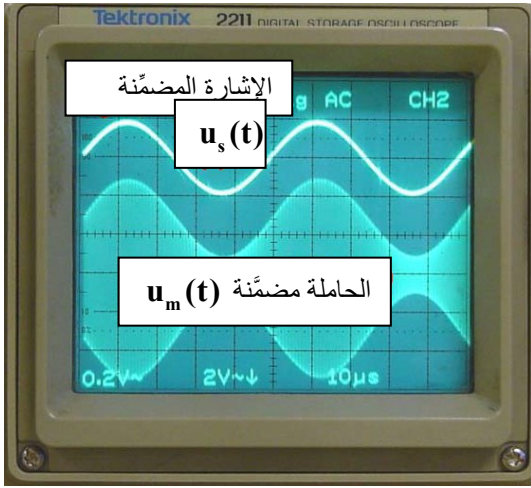


نطبق في المدخل E₁ ، بواسطة GBF₁ توتر جيبى $u_p(t)$ وسعه $P = 5V$ وتردده $F = 10kHz$ حيث $F > 10f$ نعين في المدخل Y₁ لرسم التذبذب فنحصل على الشكل التالي :



بعد ذلك نعين على شاشة راسم التذبذب توتر الخروج $u_m(t)$ فنحصل على الشكل :





خلاصة .

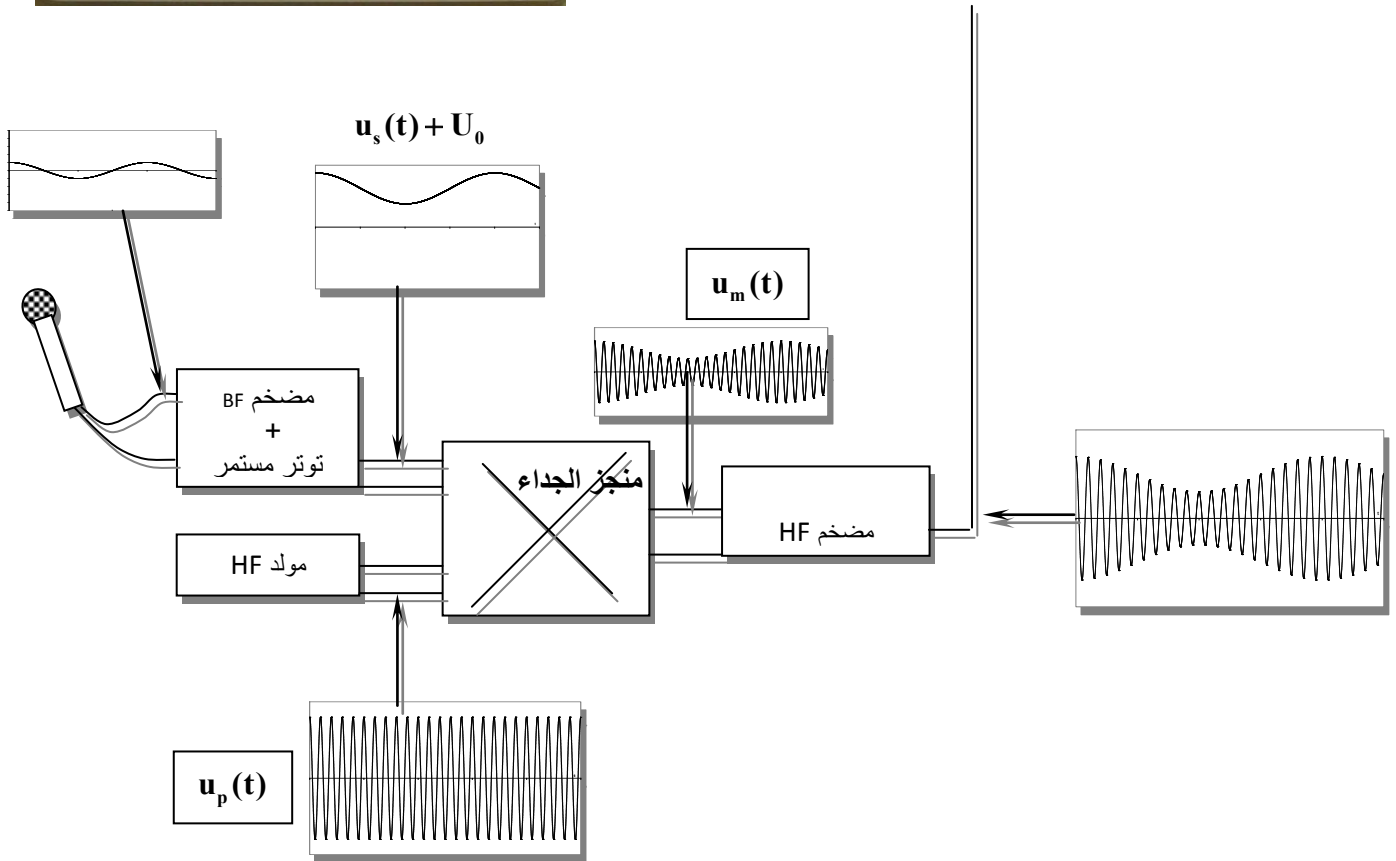
التوتر $u_m(t)$ المحصل عليه عند مخرج الدارة المتكاملة المنجزة للجداء توتر مضمّن الوسع .

غلاف التوتر $u_m(t)$ يتبع تغيرات الإشارة التي تضم المعلومة $u_s(t)$.

التوتر $u_m(t)$ توتر مضمّن والإشارة $u_s(t)$ توتر مضمّن .

التوتر المحصل عند مخرج الدارة المتكاملة المنجزة للجداء ، توتر مضمّن الوسع .

يضمّن التوتر ذو التردد المنخفض وسع التوتر ذا التردد العالي والذي يسمى التوتر الحامل .



3-4) تعبير توتر مضمّن الوسع

عند المدخل E_2 للدارة المنجزة للجداء، لدينا $u_s(t) + U_0$ مع المركبة المستمرة U_0 و $u_s(t) = S_m \cos(2\pi ft)$.

والتوتر المطبق عند المدخل E_1 هو : $u_p(t) = P_m \cos(2\pi Ft)$

عند المخرج S لدينا التوتر : $u_m(t) = k \cdot u_p(t) \cdot (u_s(t) + U_0)$

$$u_m(t) = k \times P_m \times (u_s(t) + U_0) \cdot \cos(2\pi Ft)$$

التعبير العام لتوتر مضمّن الوسع هو :

$$u_m(t) = U_m(t) \cdot \cos(2\pi F_p t)$$

$$U_m(t) = k \times P_m \times (u_s(t) + U_0)$$

نضع $a = k \cdot P_m$ و $b = k \cdot P_m \cdot U_0$ فيصبح تعبير الوسع هو $U_m(t) = a \cdot u_s(t) + b$ و هو عبارة عن دالة تألفية للتوتر

المضمّن $u_s(t)$. و $U_m(t)$ الوسع المضمّن أي أنه يعيد تغيرات $u_s(t)$.

4-4 حالة توتر مضمّن جيبي .

نعتبر أن التوتر المضمّن دالة جيبية على الشكل التالي : $u_s(t) = S_m \cos(2\pi ft)$

يصبح الوسع المضمّن هو :

$$U_m(t) = k.P_m \times (S_m \cos(2\pi ft) + U_0) \Rightarrow U_m(t) = k.P_m.U_0 \left(\left(\frac{S_m}{U_0} \right) \cos(2\pi ft) + 1 \right)$$

نضع $A = k.P_m.U_0$ و $m = S_m / U_0$ فتصبح العلاقة على الشكل التالي :

$$U_m(t) = A(m \cos(2\pi ft) + 1)$$

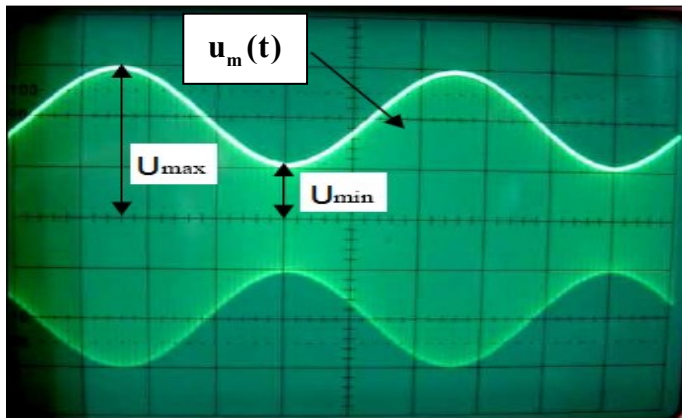
نسمي m نسبة التضمين (le taux de modulation)

من خلال العلاقة يتبين أن الوسع المضمّن يتغير بين قيمتين :

$$U_{m \max} = A(m+1) \quad \text{أي أن} \quad \cos(2\pi f.t) = +1$$

و بالتالي نعبر عن نسبة التضمين بدلالة $U_{m \max}$ و $U_{m \min}$ بالعلاقة التالية :

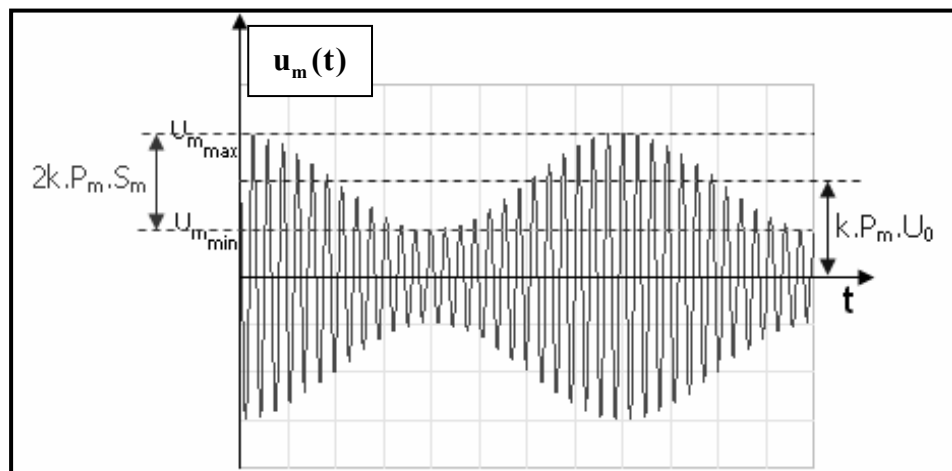
$$m = \frac{U_{m \max} - U_{m \min}}{U_{m \max} + U_{m \min}}$$



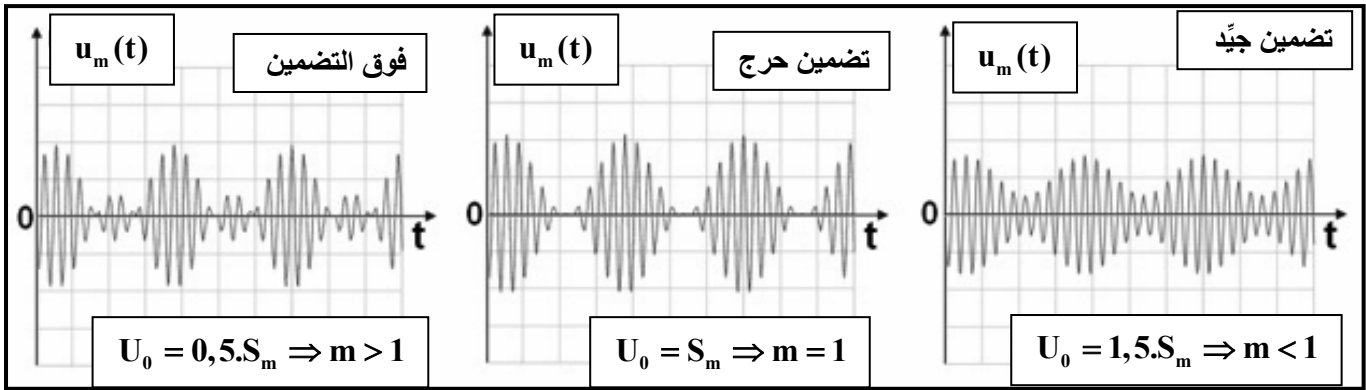
مثلا من خلال المنحنى التالي نحسب نسبة التضمين

نعطي : الحساسية الرأسية هي 2V/div

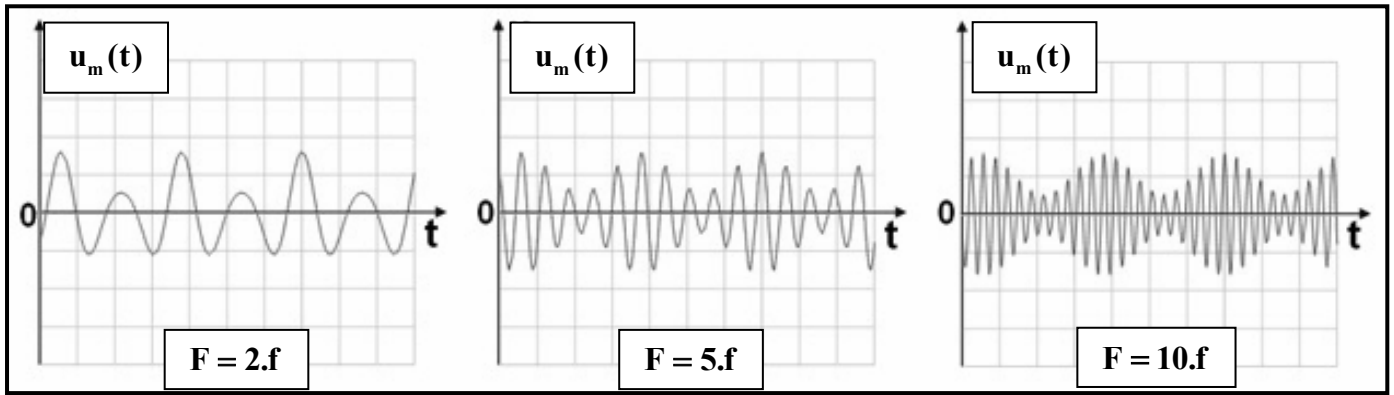
$$m = \frac{U_{m \max} - U_{m \min}}{U_{m \max} + U_{m \min}} = \frac{6 - 2}{6 + 2} = 0,5$$



4-5 (جودة التضمين .
 • تأثير المركبة المستمرة U_0 .



• تأثير تردد الموجة الحاملة F .



مع f تردد الإشارة المضمّنة .

نستنتج أن جودة التضمين تتحقق بتحقق الشرطين التاليين :

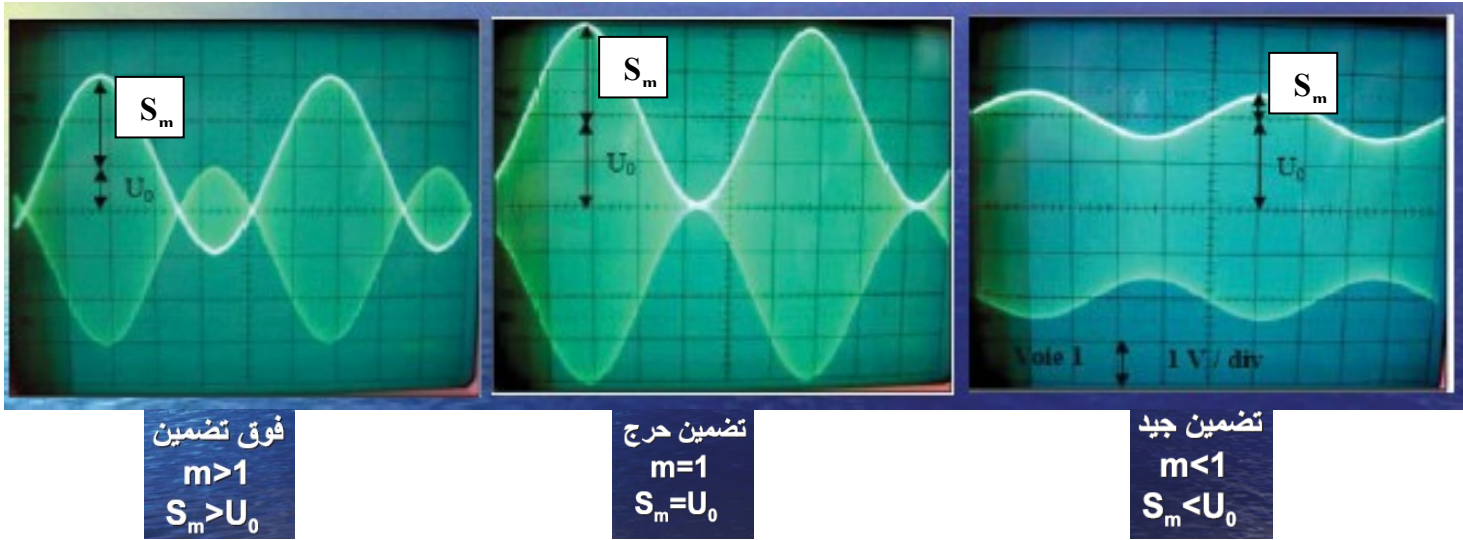
$S_m < U_0$ أي $m < 1$ ✓

$F \geq 10f$ أو $F \gg f$ ✓


في الحالات الأخرى التضمين يكون ردينا :

$S_m > U_0$ أي $m > 1$ ✓ نقول بأن هناك فوق التضمين


$S_m = U_0$ أي $m = 1$ ✓ نقول بأن لدينا تضمين حرج




للتحقق من جودة التضمين تجريبيا نستعمل طريقة شبه المنحرف :
 نستعمل راسم التذبذب في النظام XY أي في غياب الكسح
 $u_m = f(u_s + U_0)$ ثم نعاين تغيرات التوتر المضمّن بدلالة التوتر المضمّن
 نصل الإشارة المعلومة + المركبة المستمرة بالمدخل X
 ونصل توتر الخروج من الدارة المنجزة للجداء بالمدخل Y
 ثم باستعمال الزر XY نعاين $u_m = f(u_s + U_0)$



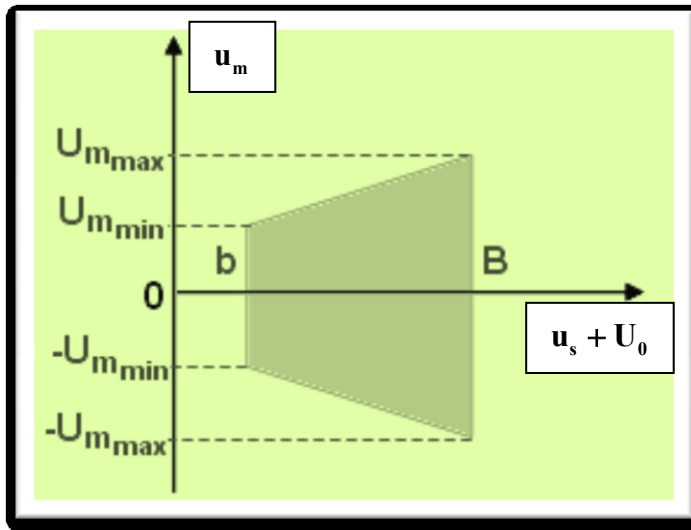
$m > 1$ فوق التضمين



$m = 1$ تضمين حرج



$m < 1$ تضمين جيّد



يمكن تحديد نسبة التضمين m انطلاقا من أبعاد شبه المنحرف :

$$m = \frac{B - b}{B + b}$$

4 - 6 طيف الترددات AM .

يكتب تعبير التوتر المضمّن على الشكل : $u_m(t) = k.P_m(u_s(t) + U_0) \cos(2\pi F.t)$ حيث $u_s(t)$ توتر الإشارة المراد نقلها

بتعويض $u_s(t) = S_m \cos(2\pi f.t)$ في المعادلة السابقة نحصل على : $u_m(t) = kP_m(S_m \cos(2\pi f.t) + U_0) \cos(2\pi F.t)$

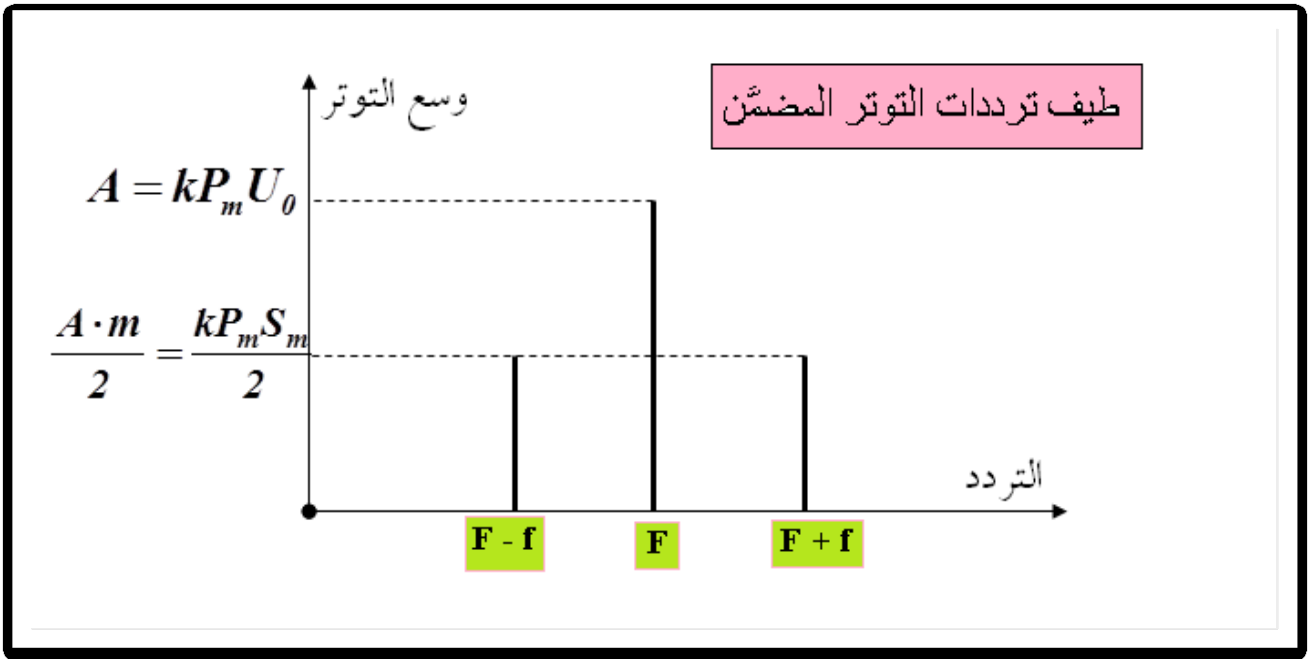
$$u_m(t) = kP_m S_m \cos(2\pi f.t) \cdot \cos(2\pi F.t) + kP_m U_0 \cos(2\pi F.t) \quad \text{أي أن :}$$

نعلم أن : $\cos a \cdot \cos b = \frac{1}{2} [\cos(a + b) + \cos(a - b)]$ و بالتالي تعبير التوتر المضمّن هو :

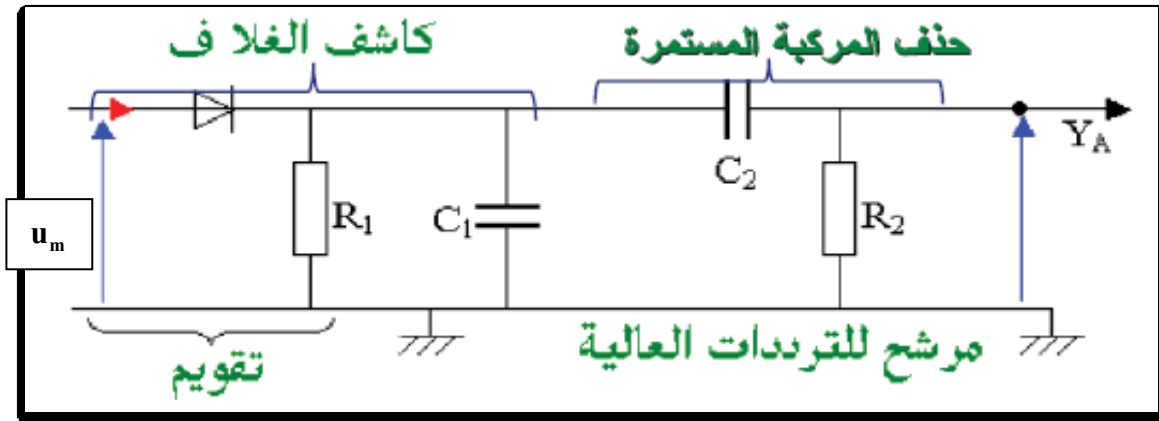
$$u_m(t) = \frac{kP_m S_m}{2} \cos[2\pi(F - f)t] + \frac{kP_m S_m}{2} \cos[2\pi(F + f)t] + kP_m U_0 \cos(2\pi F.t)$$

نلاحظ أن التوتر المضمّن هو مجموع ثلاثة توترات جيبيّة تردداتها هي :

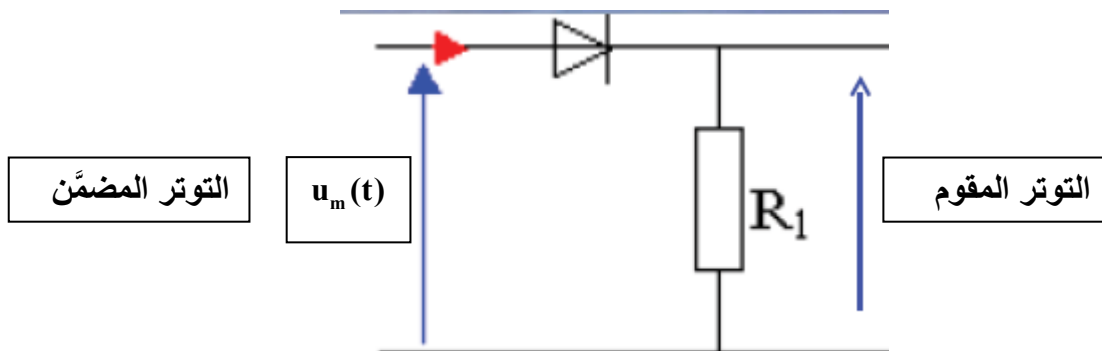
$$(F-f) \quad F \quad (F+f)$$



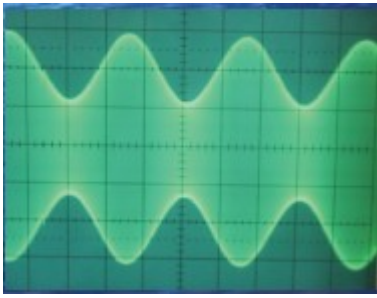
- 6 (إزالة التضمين . هو العملية العكسية للتضمين ، حيث يتم استرجاع المعلومة BF المبعوثة عبر الموجة المضمّنة HF . و تتم عبر مرحلتين :
- كشف الغلاف : إزالة الموجة الحاملة $u_p(t)$
 - حذف المركبة المستمرة للتوتر U_0



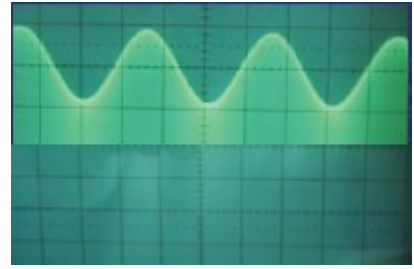
6 - 1 (التقويم .



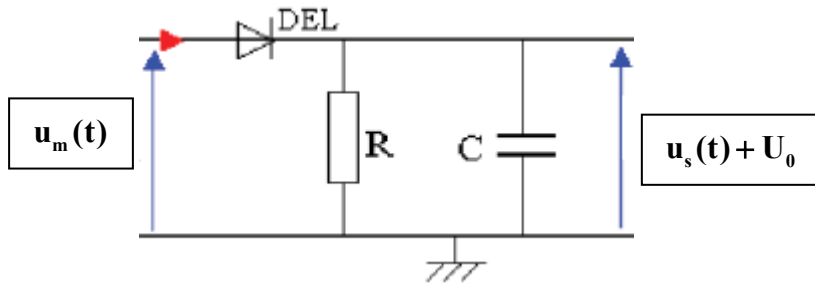
يعمل الصمام الثاني على حذف الجزء السالب من التوتر المضمّن



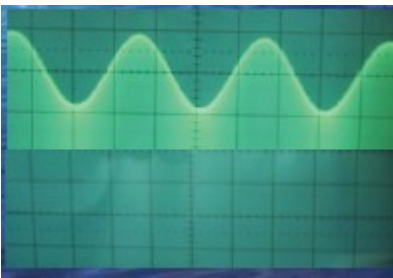
التقويم



2-6 (كاشف الغلاف .



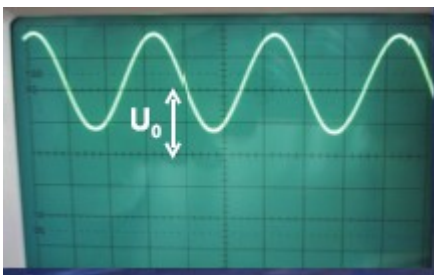
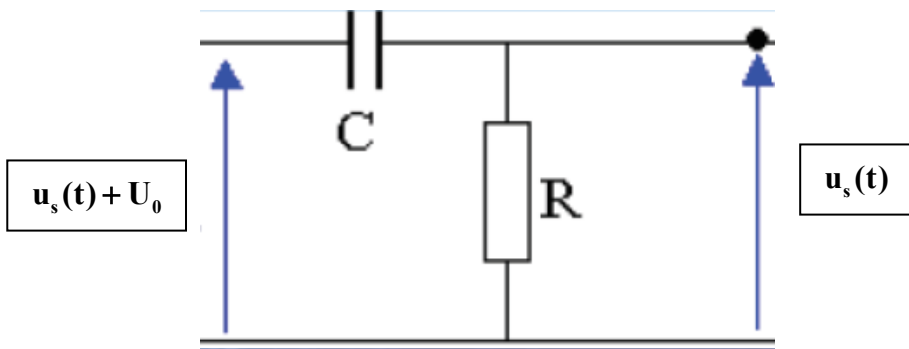
يحذف كاشف الغلاف التوتر الحامل ذو التردد العالي



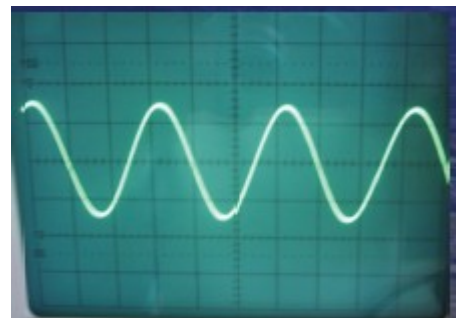
الكشف عن الغلاف



3-6 (حذف المركبة المستمرة : مرشح الترددات العالية .



مرشح ممر الترددات العالية

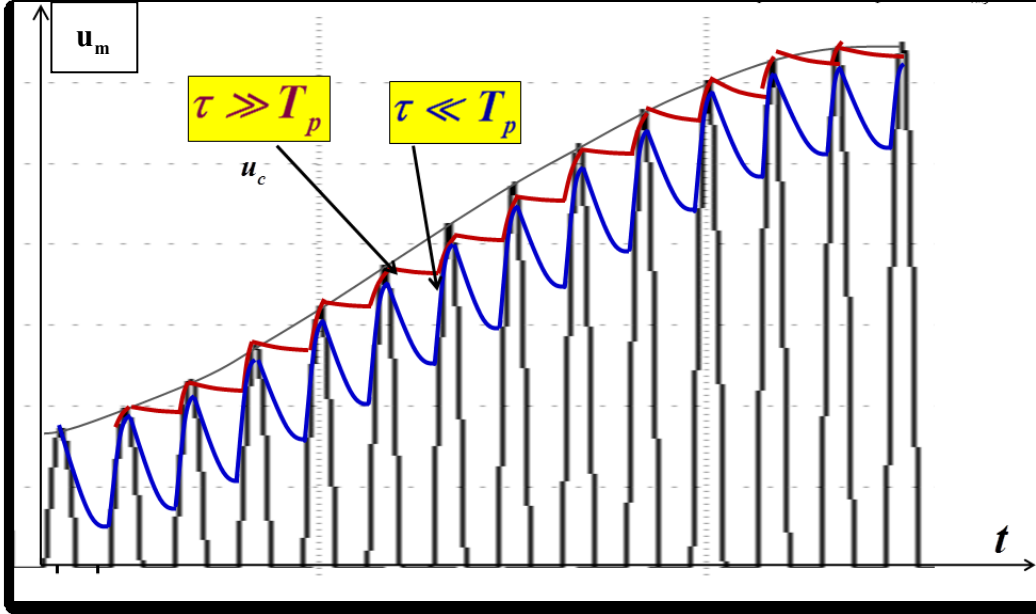


4-6) شروط إزالة تضمين جيد .

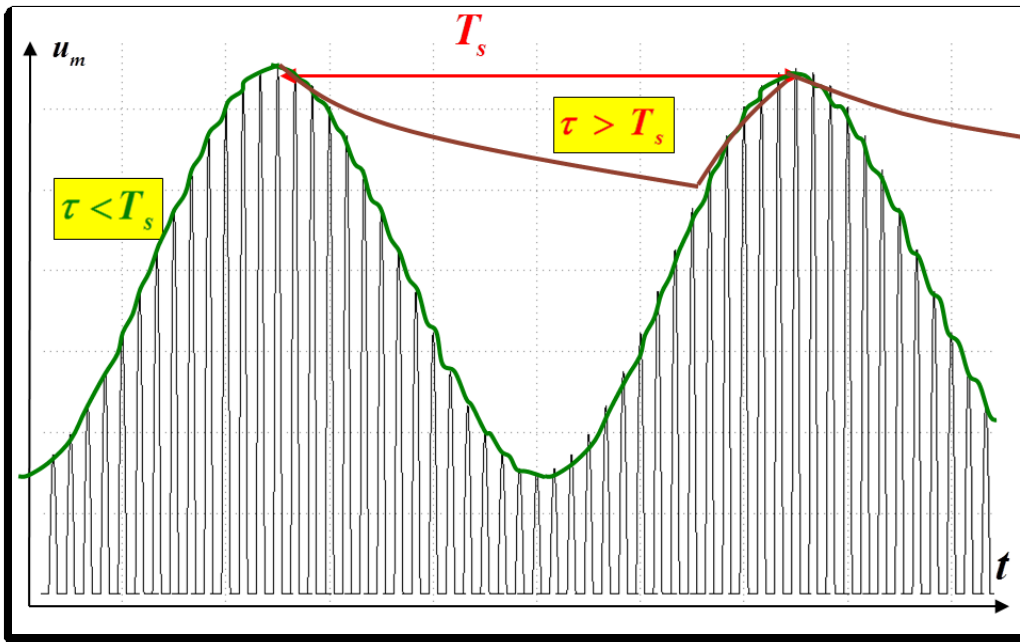
شروط الحصول على كشف غلاف جيد هي :
 أن يكون التوتر في مخرج دائرة كاشف الغلاف ذا تموجات صغيرة وتتبع بكيفية أحسن شكل الإشارة المضمّنة .
 ويتحقق هذا إذا كانت ثابتة الزمن $\tau = R.C$ تحقق المتراجحة التالية :

$$f_s \ll \frac{1}{\tau} < F_p \quad \text{أي أن} \quad T_s \ll \tau < T_p$$

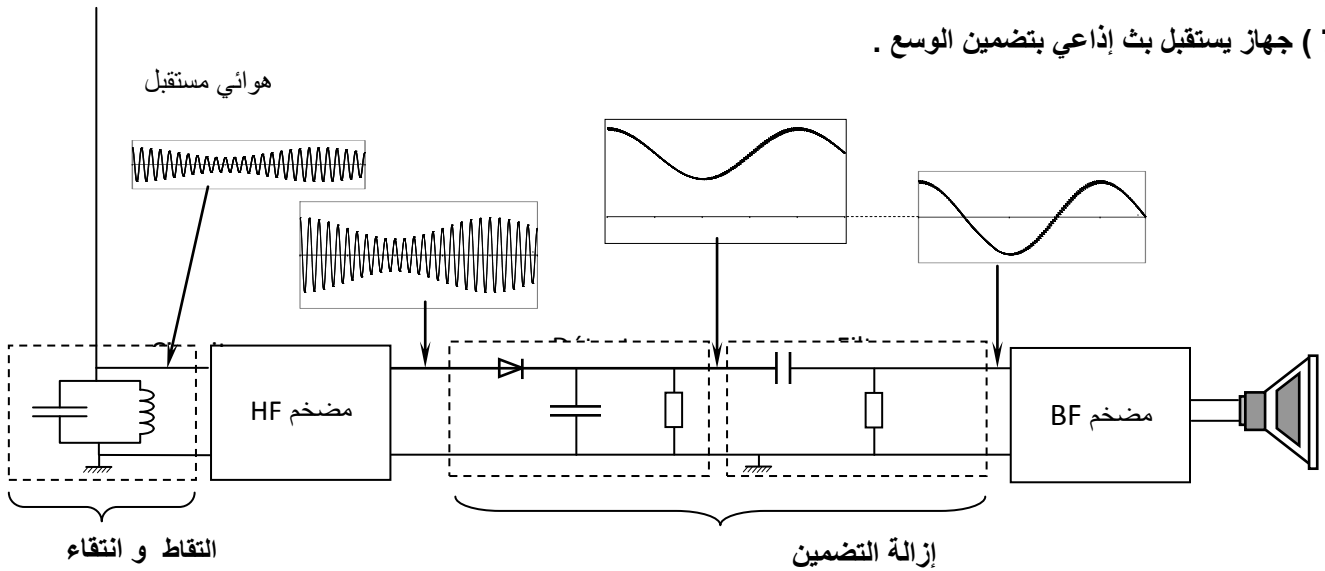
• دور التوتر الحامل و T_s دور الإشارة المضمّنة .



في حالة $\tau < T_s$ فإن التوتر في مخرج كاشف الغلاف يتبع غلاف الموجة المضمّنة .
 في حالة $\tau > T_s$ فإن التوتر عند مخرج كاشف الغلاف لا يتبع غلاف الموجة المضمّنة .



7 (جهاز يستقبل بث إذاعي بتضمين الوسع .



- يلتقط الهوائي الموجات الكهرومغناطيسية ، و يحدث تذبذبات كهربائية في الدارة LC . بهدف الاستماع لمحطة إذاعية معينة ، يلزم انتقاء هذه الموجات ، حيث نقوم بتغيير إما سعة المكثف أو قيمة معامل تحريض الوشيعية .
- تمرر الدارة LC الإشارات ذات الترددات التي تنتمي لمنطقة ممرزة حول التردد الخاص $f_0 = \frac{1}{2\pi\sqrt{LC}}$
- و بذلك فإن تردد الموجة الحاملة يجب أن يحقق العلاقة $F = f_0 = \frac{1}{2\pi\sqrt{LC}}$ لكي يمر .

يتكون مستقبل راديو من :

- هوائي يستقبل الموجات الكهرومغناطيسية مختلفة الترددات
- دارة LC للانتقاء يمكن توفيقها على التردد F للموجة الحاملة الواردة من المحطة الإذاعية و ذلك بضبط قيمة L أو C
- مضخم الإشارات HF
- كاشف غلاف
- مرشح ممرر للترددات العالية لحذف المركبة المستمرة .
- مضخم الإشارات BF
- مكبر الصوت

