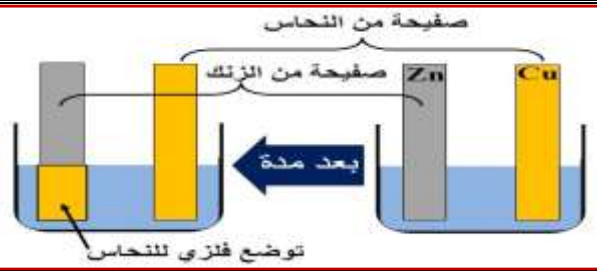


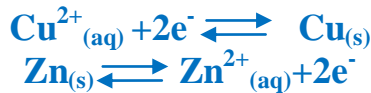
التحولات التلقائية في الأعمدة وتحصيل الطاقة**الدرس السابع**

transformations spontanées dans les piles et récupération de l'énergie

I. الانتقال التلقائي للإلكترونات.**1. الانتقال التلقائي المباشر للإلكترونات بين أنواع كيميائية مختلطة:****أ. نشاط تجريبي 1:**

في كأس يحتوي على خليط من محلول (S_1) حجمه V_1 لكبريتات النحاس الثاني ($Cu^{2+}_{aq} + SO_4^{2-}_{aq}$) ذي تركيز $C_1=1\text{mol/l}$ ومحلول (S_2) حجمه $V_1=V_2$ لكبريتات الزنك ($Zn^{2+}_{aq} + SO_4^{2-}_{aq}$) ذي تركيز $C_2=1\text{mol/l}$ ، نغمر صفيحتي الزنك والنحاس بعد صقلهما. و بعد مدة زمنية نلاحظ توضع فلزي للنحاس على صفيحة الزنك و تآكل هذا الأخير.

1 حدد المزدوجتين مختزل/مؤكسد المتفاعلين واكتب نصف معادلة كل منهما ثم استنتج معادلة التفاعل الحاصل. المزدوجتين Ox/Red المتدخلتين في هذا التفاعل هما: $Cu^{2+}_{(aq)}/Cu_{(s)}$ و $Zn^{2+}_{(aq)}/Zn_{(s)}$ المعادلة الحصيلة للتفاعل الحاصل هي:



2 حدد قيمة خارج التفاعل البدئي $Q_{r,i}$.

$$Q_{r,i} = \frac{[Zn^{2+}]_i}{[Cu^{2+}]_i} = \frac{\frac{C_2 \cdot V_2}{V_1 + V_2}}{\frac{C_1 \cdot V_1}{V_1 + V_2}} = \frac{C_2 \cdot V_2}{C_1 \cdot V_1} = 1 \text{ لدينا:}$$

3 حدد منحى تطور المجموعة باستعمال معيار التطور التلقائي علما أن ثابتة التوازن لهذا التفاعل هي $K=1,9 \cdot 10^{37}$ و هل توافق النتيجة الملاحظات التجريبية؟

بما أن $Q_{r,i} < K$ فحسب معيار التطور يجب أن تتطور المجموعة في المنحى المباشر أي في منحى توضع فلز النحاس على صفيحة الزنك وتكون أيونات $Zn^{2+}_{(aq)}$ وهو ما تؤكد التجربة.

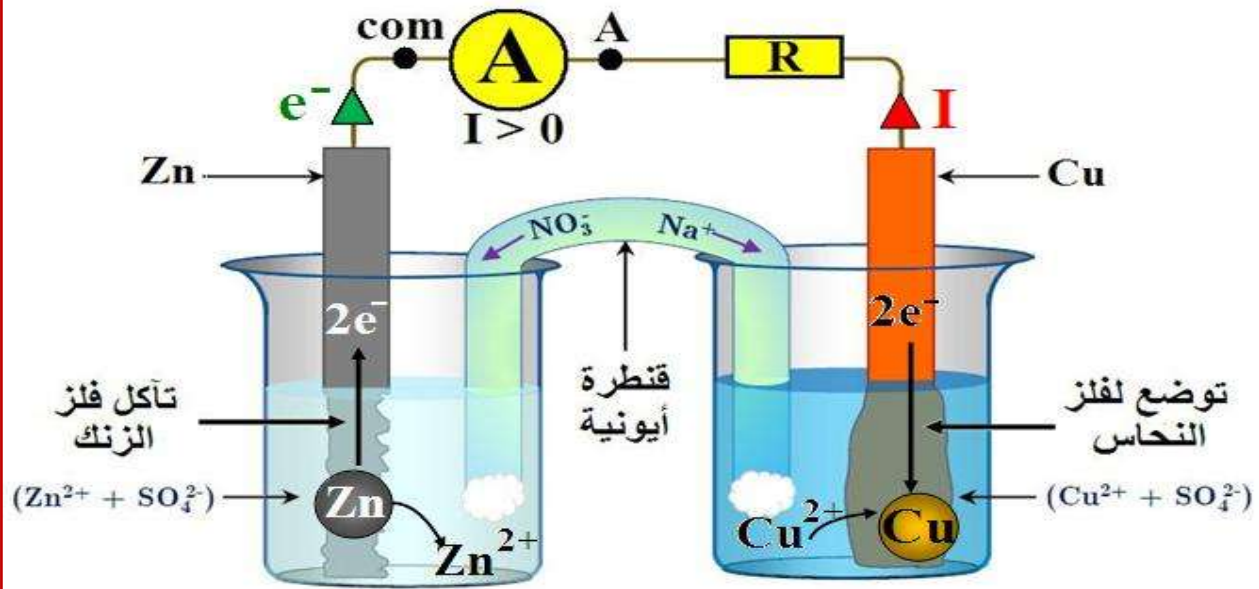
4 أين يحدث انتقال الإلكترونات خلال هذا التفاعل للأكسدة - اختزال؟ عند تماس الأيونات Zn و Cu^{2+} يحدث انتقال الإلكترونات من فلز الزنك إلى الأيونات Cu^{2+} .

ب. خلاصة:

عند مزج الأنواع الكيميائية لمزدوجتين مختزل/مؤكسد، يحدث انتقال تلقائي ومباشر للإلكترونات بين مؤكسد مزدوجة ومختزل الأخرى. وذلك بالتوافق مع منحى التطور التلقائي المتوقع بناء على معيار التطور التلقائي.

2. الانتقال التلقائي غير المباشر للإلكترونات بين أنواع كيميائية منفصلة:**أ. نشاط تجريبي 2:**

نصب في كأس (1) محلول (S_1) لكبريتات النحاس الثاني ($Cu^{2+}_{aq} + SO_4^{2-}_{aq}$) ذي التركيز $C_1=1\text{mol/L}$ ، ونغمر فيه صفيحة النحاس. ونصب في كأس (2) محلول (S_2) لكبريتات الزنك ($Zn^{2+}_{aq} + SO_4^{2-}_{aq}$) ذي التركيز $C_2=1\text{mol/L}$ ونغمر فيه صفيحة الزنك. نربط الكأسين بواسطة شريط من ورق الترشيح مبلل محلول مختزل لتترات الصوديوم يسمى هذا الشريط بالقطرة الأيونية. نربط الصفيحتين بواسطة جهاز أمبير متر وموصل الأومي. فنحصل على التركيب التجريبي أسفله.



- 1) اجرد حملات الشحنة الكهربائية المسؤولة عن مرور التيار الكهربائي في هذه الدارة. حملات الشحنة الكهربائية في أسلاك الربط و الصفيحتين الفلزيين هي الإلكترونات الحرة الموجودة فيها، أما بالنسبة للمحاليل و القنطرة الأيونية فحملة الشحنة الكهربائية هي الأيونات الموجبة و السالبة.
- 2) ما هو منحى التيار الكهربائي الذي يشير إليه الأمبيرمتر؟ بما أن الأمبيرمتر يشير إلى قيمة موجبة لشدة التيار الكهربائي فهذا معناه أن التيار يدخله من قطبه A نحو قطبه com، و منه فإن التيار في الدارة الخارجية منحاه من صفيحة النحاس نحو صفيحة الزنك.
- 3) استنتج منحى انتقال مختلف حملات الشحنة الكهربائية. تنتقل الإلكترونات في المنحى المعاكس لمنحى التيار أي من صفيحة الحديد إلى صفيحة النحاس. أما بالنسبة للمحاليل و القنطرة الملحية فتنتقل الكاتيونات في منحى التيار في حين أن الأنيونات فتنتقل عكس منحى التيار. ماذا يحدث على مستوى الصفيحتين داخل المحلولين؟
- 4) على مستوى صفيحة الزنك تتحرر الإلكترونات نتيجة تأكسد فلز الزنك بحيث: $Zn_{(s)} \rightleftharpoons Zn^{2+}_{(aq)} + 2e^{-}$ على مستوى صفيحة النحاس تستهلك الإلكترونات نتيجة اختزال Cu^{2+} بحيث: $Cu^{2+}_{(aq)} + 2e^{-} \rightleftharpoons Cu_{(s)}$ ما دور القنطرة الأيونية؟
- 5) القنطرة الأيونية تفصل المتفاعلين مع السماح بهجرة الأيونات لضمان الحياد الإلكتروني للمحلول و مرور التيار الكهربائي.
- 6) قارن التطور التلقائي لهذه المجموعة مع تطور المجموعة في النشاط التجريبي 1. نلاحظ نفس التطور معادلته: $Cu^{2+}_{(aq)} + Zn_{(s)} \rightleftharpoons Cu_{(s)} + Zn^{2+}_{(aq)}$ يحدث انتقال الإلكترونات من فلز الزنك إلى أيونات النحاس الثاني دون أي تماس بينهما. و لكن يتم هذا الانتقال عبر الدارة الخارجية المكونة أساساً من أسلاك الربط و الموصل الأومي التي تسمح بمرور التيار الكهربائي.

ب. خلاصة:

عندما تكون الأنواع الكيميائية منفصلة يتم الانتقال التلقائي للإلكترونات بين الأنواع الكيميائية لمزدوجتين مختزل/مؤكسد بطريقة غير مباشرة، وذلك عبر دارة كهربائية خارجية، كما أنه لا يحدث التحول الكيميائي بين المزدوجتين إلا بعد ربطهما بقنطرة ملحية (قنطرة أيونية)، حيث تحافظ على فصل المحلولين و مع السماح بهجرة الأيونات لضمان الحياد الكهربائي للمحلولين و مرور التيار الكهربائي.

II. العمود الكهركيميائي.

1. تعريف العمود و مكوناته و مبدأ اشتغاله:

أ. تعريف العمود الكهركيميائي:

العمود الكهركيميائي ثنائي قطب نشيط يحول الطاقة الكيميائية الناتجة عن تفاعل أكسدة - اختزال تلقائي، إلى طاقة كهربائية يمنحها للدارة الخارجية.

ب. مكونات العمود الكهركيميائي:

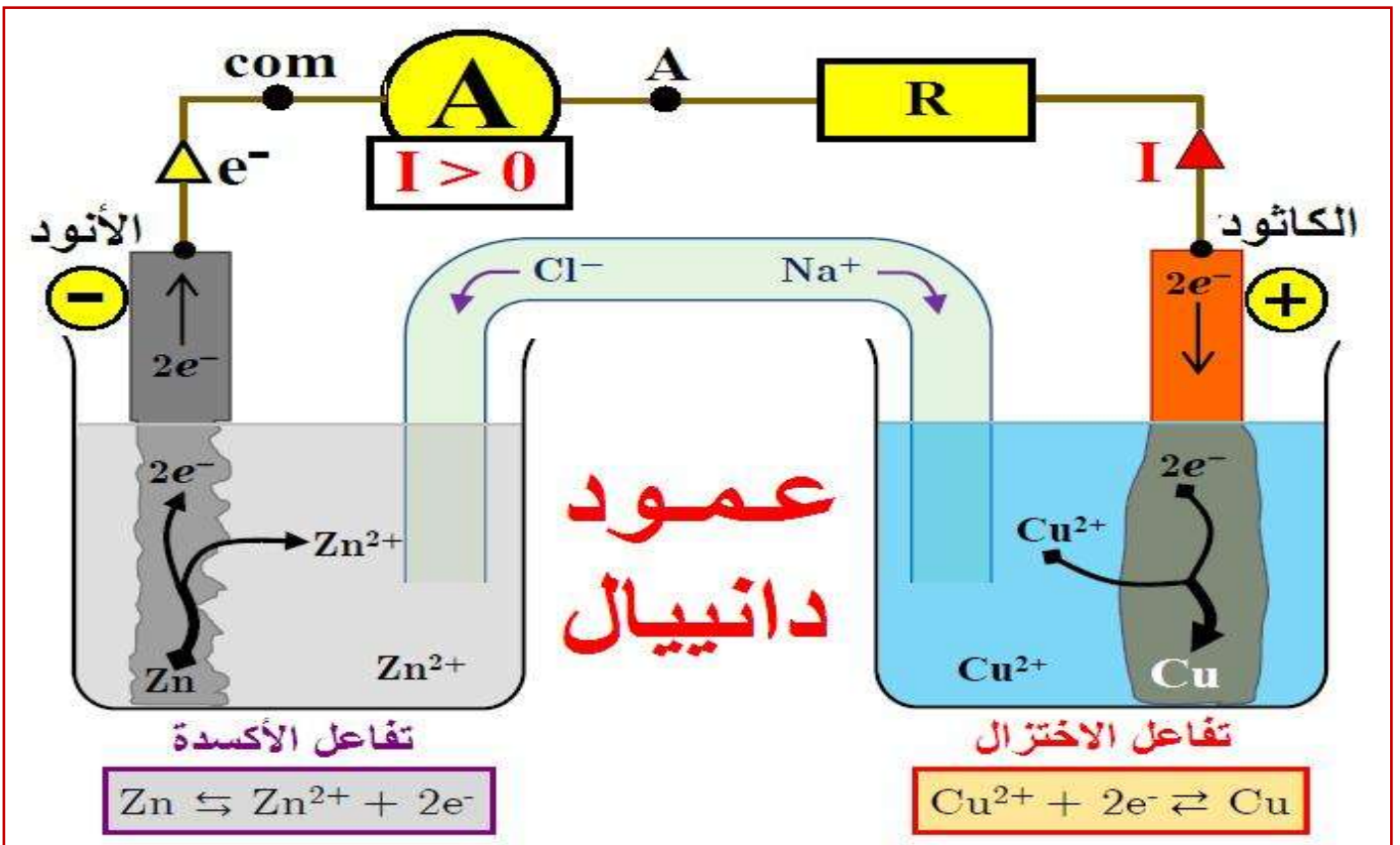
يتكون العمود الكهركيميائي من مقصورتين تسميان **نصفي العمود**، حيث يتكون هذا الأخير من المؤكسد و المختزل المرافق له. يرتبط نصفا العمود بقطرة أيونية (ملحية) دورها تحقيق الحياد الكهربائي للمحلولين الإلكتروليتيين في نصفي العمود، وكذلك توصيل التيار الكهربائي داخل العمود نتيجة انتقال الأيونات عبرها.

كل نصف عمود يحتوي على سلك أو صفيحة فلزية $M_{(s)}$ تدعى **إلكترودا**، حيث يمثل هذا الأخير أحد قطبي العمود، مغمورا في محلول إلكتروليتي يحتوي على الأيونات $M^{n+}_{(aq)}$.

ج. مبدأ اشتغال العمود الكهركيميائي:

نأخذ مثلا عن مبدأ اشتغال الأعمدة الكهركيميائية العمود نحاس - زنك المسمى بـ "**عمود دانييال**"، بحيث: (أنظر تبيانة العمود)

- عند ربط جهاز الأمبيرمتر نلاحظ أن هذا الأخير يشير إلى قيمة موجبة، أي أن التيار الكهربائي يمر في الدارة الخارجية من صفيحة النحاس نحو صفيحة الزنك، و بما أن الإلكترونات لها منحنى معاكس لمنحنى التيار فإنها تنتقل إذن من صفيحة الزنك نحو صفيحة النحاس.
 - تحرر الإلكترونات بسبب أكسدة فلز الزنك $Zn_{(s)}$ وتحوله إلى أيونات الزنك $Zn^{2+}_{(aq)}$ ، التي يزداد تركيزها في مقصورة الزنك، و ذلك حسب معادلة الأكسدة التالية: $Zn_{(s)} \rightleftharpoons Zn^{2+}_{(aq)} + 2e^{-}$.
 - تستهلك الإلكترونات التي تصل إلى صفيحة النحاس بسبب اختزال أيونات النحاس الثاني $Cu^{2+}_{(aq)}$ التي ينقص تركيزها في مقصورة النحاس، وتحولها إلى فلز النحاس $Cu_{(s)}$ ، و ذلك حسب معادلة الاختزال التالية:
- $$Cu^{2+}_{(aq)} + 2e^{-} \rightleftharpoons Cu_{(s)}$$
- المعادلة الحصيلة لاشتغال العمود هي: $Cu^{2+}_{(aq)} + Zn_{(s)} \rightleftharpoons Cu_{(s)} + Zn^{2+}_{(aq)}$



2. التفاعل عند كل إلكترود:

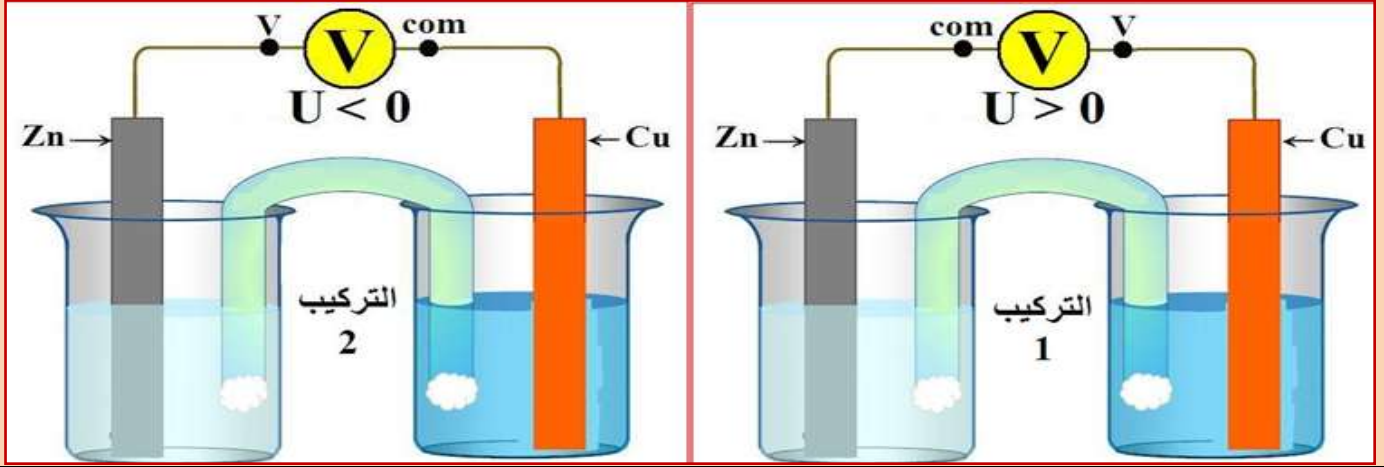
في كل نصف عمود يحدث تفاعل أكسدة أو اختزال بجوار الإلكترود الذي يحتويه، بحيث:

- ♦ الإلكترود (الصفحة) الذي يحدث بجواره الأكسدة، يمثل القطب السالب للعمود، و يسمى "الأنود"، مما نطلق على التفاعل الحاصل بـ "الأكسدة الأنودية".
- ♦ الإلكترود (الصفحة) الذي يحدث بجواره الاختزال، يمثل القطب الموجب للعمود، و يسمى "الكاثود"، مما نطلق على التفاعل الحاصل بـ "الاختزال الكاثودي".

3. القوة الكهرومحرركة لعمود:

أ. نشاط تجريبي 3:

نعوض في التركيب السابق (النشاط التجريبي 2) كل من الموصل الأومي و الأمبيرمتر بجهاز فولطمتر رقمي. عندما نربط المرابط "V" للفولطمتر بصفحة النحاس و نربط المرابط "com" بصفحة الزنك (التركيب 1) يشير الفولطمتر إلى قيمة موجبة $U > 0$ ، وعندما نقوم بالعكس (التركيب 2) يشير الفولطمتر إلى قيمة سالبة $U < 0$.



- 1 حدد القطب الموجب و القطب السالب للعمود، معللا جوابك.
بالنسبة للتركيب 1 يشير الفولطمتر إلى قيمة موجبة للتوتر أي أن مرابطه V مرتبط بالقطب الموجب (النحاس)، و بالنسبة للتركيب 2 نلاحظ أن الفولطمتر يشير إلى قيمة سالبة للتوتر أي أن مرابطه V مرتبط بالقطب السالب (الزنك) ومنه فإن القطب الموجب هو إلكترود النحاس. و هذا يتوافق مع النتائج المحصل عليها في النشاط 2.
- 2 ماذا يمثل التوتر الذي يشير إليه الفولطمتر؟
يمثل التوتر الذي يشير إليه الفولطمتر قيمة القوة الكهرومحرركة E للمولد التي هي فرق الجهد بين قطبيه الموجب و السالب عندما لا يشتغل أي أن $I=0$.

ب. خلاصة:

القوة الكهرومحرركة لعمود هي فرق الجهد بين قطبيه الموجب و السالب عندما لا يشتغل (لا يمر فيه تيار أي $I=0$)، و تقاس بواسطة الفولطمتر. كما أن استعمال الفولطمتر يمكننا من تحديد قطبية العمود.

4. الرمز الاصطلاحي لعمود:

نمثل العمود الكهروكيميائي المكون من المزدوجتين Ox_1/Red_1 و Ox_2/Red_2 بالتمثيل الاصطلاحي التالي:



مثال

التمثيل الاصطلاحي لعمود دانيال



III. التطور التلقائي لمجموعة مكونة لعمود.



- ♦ خلال اشتغال العمود فإنه يشكل مجموعة كيميائية في حالة غير حالة التوازن حيث تتطور المجموعة تلقائياً.
- ♦ إذا كان العمود قابل للاستعمال في دارة كهربائية فإن: $Q_{r,i} < K$.
- ♦ إذا استنفذ أي استهلك العمود كلياً فإن: $Q_{r,i} = K$ وهذا معناه أن $I=0$ و $E=0$.

IV. كمية الكهرباء و حصيلة المادة لعمود كهركيميائي.

1. كمية الكهرباء الممنوحة من طرف عمود:

$$Q = I \cdot \Delta t$$

كمية الكهرباء الممنوحة من طرف عمود يزود الدارة بتيار كهربي شدة I خلال مدة Δt هي:

تعرف كذلك كمية الكهرباء بالقيمة المطلقة لشحنة عدد من الإلكترونات N التي تمر في مقطع من سلك فلزي، بحيث:

بحيث:

- ♦ Q كمية الكهرباء بالكولوم (C).
- ♦ I شدة التيار الكهربي بالأمبير (A).
- ♦ Δt مدة الاشتغال بالثانية (s).
- ♦ e الشحنة الابتدائية $e = 1,6 \cdot 10^{-19} C$.
- ♦ N عدد الإلكترونات (بدون وحدة).
- ♦ N_A ثابتة أفوكادرو $N_A = 6,02 \cdot 10^{23} \text{ mol}^{-1}$.
- ♦ $n(e^-)$ كمية الإلكترونات المتبادلة بـ (mol).
- ♦ F ثابتة فاراداي $F = 96500 C \cdot \text{mol}^{-1}$.

$$Q = N \cdot e \text{ أو } Q = N \cdot | -e | \text{ لدينا (1)}$$

ونعلم أن: $n(e^-) = N/N_A$ أي $N = n(e^-) \cdot N_A$

نعوض في العلاقة (1) فنجد: $Q = n(e^-) \cdot N_A \cdot e$

نضع: $F = N_A \cdot e$ وتسمى ثابتة فاراداي و هي كمية الكهرباء التي ينقلها مول واحد من الإلكترونات بحيث:

$$F = 96500 C \cdot \text{mol}^{-1} \text{ أي } F = 6,02 \cdot 10^{23} \cdot 1,6 \cdot 10^{-19}$$

ومنه فإن:

$$Q = n(e^-) \cdot F$$

2. حصيلة المادة لعمود كهركيميائي: (تطبيق)

الأسئلة

ننجز العمود ألنيوم - زنك باستعمال مقصورتين، تتكون المقصورة الأولى من صفيحة الألنيوم مغمورة في كأس يحتوي على حجم $V=100\text{mL}$ من محلول مائي لكلورور الألنيوم $(Al^{3+}_{aq} + 3Cl^{-}_{aq})$ تركيزه $C_1=[Al^{3+}]_i=4,5 \cdot 10^{-2} \text{ mol/L}$ وتتكون المقصورة الثانية من صفيحة الزنك مغمورة في كأس يحتوي على حجم $V=100\text{mL}$ من محلول مائي لكبريتات الزنك $(Zn^{2+}_{aq} + SO_4^{2-}_{aq})$ تركيزه $C_2=[Zn^{2+}]_i=4,5 \cdot 10^{-2} \text{ mol/L}$ نوصل المحلولين بقطرة ملحية $(K^+_{aq} + NO_3^-_{aq})$ ثم نركب بين قطبي العمود موصلاً أومياً و أمبيرمترًا وقاطعا للتيار.

نغلق قاطع التيار فيمر في الدارة تياراً كهربياً شدة $I=10\text{mA}$ كما أننا نلاحظ توضعاً للزنك على صفيحة الزنك.

♦ الكتلة المولية للألنيوم: $M(Al) = 27 \text{ g/mol}$

♦ الكتلة المولية للزنك: $M(Zn) = 65,4 \text{ g/mol}$

♦ ثابتة فاراداي: $F = 96500 C \cdot \text{mol}^{-1}$

♦ ثابتة التوازن المقرونة بالتحويل الحاصل داخل العمود عند $25^\circ C$ هي: $K=10^{90}$

(1) اعط تبيانة التركيب التجريبي للعمود المدروس.

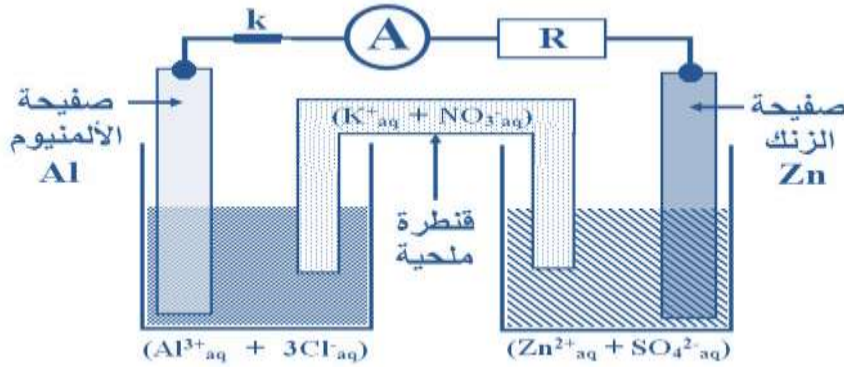
(2) أكتب معادلة التفاعل الحاصل داخل العمود.

(3) أحسب خارج التفاعل في الحالة البدئية $Q_{r,i}$ ثم استنتج منحى تطور المجموعة الكيميائية المكونة للعمود.

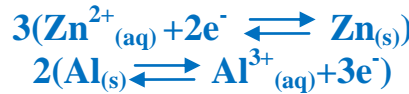
- (4) حدد مغللا جوايك قطبية العمود.
 (5) اعط التبيانة الاصطلاحية لهذا العمود.
 (6) بعد غلق قاطع التيار نترك العمود يشتغل حتى يستهلك كلياً:
 أ. أنشئ الجدول الوصفي للتحويل الحاصل.
 ب. أوجد تعبير عمر العمود Δt_{max} بدلالة C_2, V, F, I . أحسب Δt_{max} .
 ج. استنتج كمية الكهرباء القصوى Q_{max} .
 د. أحسب Δm_{Zn} تغير كتلة الزنك خلال المدة Δt_{max} . استنتج.
 هـ. أحسب Δm_{Al} تغير كتلة الألمنيوم خلال المدة Δt_{max} . استنتج.

الأجوبة

(1) تبيانة التركيب التجريبي:



(2) معادلة التفاعل الحاصل: المزدوجتين المتدخلتين في هذا التفاعل هما: $Zn^{2+}(aq)/Zn(s)$ و $Al^{3+}(aq)/Al(s)$ بما أن الزنك يتوضع فهذا دليل على اختزال أيونات الزنك أي أن الألمنيوم يتأكسد و ذلك حسب أنصاف المعادلات التالية:



(3) خارج التفاعل في الحالة البدنية للمجموعة الكيميائية لدينا:

$$Q_{r,i} = \frac{[Al^{3+}]_i^2}{[Zn^{2+}]_i^3} = \frac{C_1^2}{C_2^3} = \frac{(4,5 \cdot 10^{-2})^2}{(4,5 \cdot 10^{-2})^3} = 22,2$$

وحسب معيار التطور التلقائي لدينا $Q_{r,i} < K$ أي أن المجموعة الكيميائية ستتطور في المنحى المباشر أي منحى تكون الزنك و أيونات الألمنيوم.

(4) لدينا: $Zn^{2+}(aq) + 2e^- \rightleftharpoons Zn(s)$ وهو تفاعل اختزال أي أن صفيحة الزنك تمثل القطب الموجب للعمود (الكاثود).

ولدينا: $Al(s) \rightleftharpoons Al^{3+}(aq) + 3e^-$ وهو تفاعل أكسدة أي أن صفيحة الألمنيوم تمثل القطب السالب للعمود (الأنود).

(5) التبيانة الاصطلاحية لهذا العمود: $(-) Al(s)/Al^{3+}(aq) // Zn^{2+}(aq)/Zn(s) (+)$

(6) بعد غلق قاطع التيار نترك العمود يشتغل حتى يستهلك كلياً:

أ. الجدول الوصفي للتحويل الحاصل:

$3Zn^{2+}(aq) + 2Al(s) \rightleftharpoons 3Zn(s) + 2Al^{3+}(aq)$				نصف معادلة التفاعل	
كميات المادة بالمول (mol)				التقدم	الحالة
C_2V	$n_i(Al)$	$n_i(Zn)$	C_1V	0	البدنية
$C_2V - 3x$	$n_i(Al) - 2x$	$n_i(Zn) + 3x$	$C_1V + 2x$	x	الوسطية
$C_2V - 3x_{max}$	$n_i(Al) - 2x_{max}$	$n_i(Zn) + 3x_{max}$	$C_1V + 2x_{max}$	x_{max}	النهائية

ب. ننشئ الجدول الوصفي للتفاعل الحاصل بجوار إلكتروود الزنك نظرا لوجود التركيز C_2 :

$3Zn^{2+}_{(aq)} + 6e^- \rightleftharpoons 3Zn_{(s)}$			نصف معادلة التفاعل	
كميات المادة بالمول (mol)			التقدم	الحالة
C_2V	0	$n_i(Zn)$	0	البدئية
$C_2V - 3x$	$6x$	$n_i(Zn) + 3x$	x	الوسطية
$C_2V - 3x_{max}$	$6x_{eq}$	$n_i(Zn) + 3x_{max}$	x_{max}	النهائية

نعلم أن: $Q_{max} = n_{max}(e^-) \cdot F = I \cdot \Delta t_{max}$

وحسب الجدول الوصفي أعلاه فإن: $n_{max}(e^-) = 6 \cdot x_{max}$

وبما أن الألمنيوم موجود بوفرة فإن المتفاعل المحد عند استهلاك العمود هو أيونات الزنك أي أن:

$n_{max}(e^-) = 6 \cdot C_2V/3 = 2C_2V$ و $x_{max} = C_2V/3$ أي أن: $C_2V - 3x_{max} = 0$

و منه نجد: $\Delta t_{max} = \frac{2 \cdot C_2V \cdot F}{I} = \frac{2 \times 4,5 \cdot 10^{-2} \times 100 \cdot 10^{-3} \times 96500}{10 \cdot 10^{-3}} = 86850s = 24h6min$

ج. كمية الكهرباء القصوى: $Q_{max} = I \cdot \Delta t_{max} = 10 \cdot 10^{-3} \cdot 86850 = 868,5C$

د. حساب Δm_{Zn} تغير كتلة الزنك خلال المدة Δt_{max} .

حسب الجدول الوصفي للتفاعل الحاصل لدينا: $\Delta n_{Zn} = n_f(Zn) - n_i(Zn)$

أي: $\Delta n_{Zn} = n_i(Zn) + 3x_{max} - n_i(Zn) = 3x_{max}$ أي: $\frac{\Delta m_{Zn}}{M(Zn)} = 3 \cdot x_{max}$

أي: $\Delta m_{Zn} = 3x_{max} \cdot M(Zn)$

ومما سبق لدينا: $Q_{max} = n_{max}(e^-) \cdot F = 6 \cdot x_{max} \cdot F$ أي أن: $x_{max} = Q_{max}/6F$

ومنه نعوض فنجد: $\Delta m_{Zn} = \frac{Q_{max} \cdot M(Zn)}{2F} = \frac{868,5 \times 65,4}{2 \times 96500} = 0,3g$ أي: $\Delta m_{Zn} = 0,3g$

نلاحظ أن $\Delta m_{Zn} > 0$ إذن كتلة فلز الزنك تتزايد (توضع فلز الزنك) ومنه كتلة الزنك المتكون هي $0,3g$.

ه. حساب Δm_{Al} تغير كتلة الزنك خلال المدة Δt_{max} .

حسب الجدول الوصفي للتفاعل الحاصل لدينا: $\Delta n_{Al} = n_f(Al) - n_i(Al)$

أي: $\Delta n_{Al} = n_i(Al) - 2x_{max} - n_i(Al) = -2x_{max}$ أي: $\frac{\Delta m_{Al}}{M(Al)} = -2 \cdot x_{max}$

أي: $\Delta m_{Al} = -2x_{max} \cdot M(Al)$

ومما سبق لدينا: $Q_{max} = n_{max}(e^-) \cdot F = 6 \cdot x_{max} \cdot F$ أي أن: $x_{max} = Q_{max}/6F$

ومنه نعوض فنجد: $\Delta m_{Al} = \frac{-Q_{max} \cdot M(Al)}{3F} = \frac{-868,5 \times 27}{3 \times 96500} = -0,081g$ أي: $\Delta m_{Al} = -0,081g$

نلاحظ أن $\Delta m_{Al} < 0$ إذن كتلة فلز الألمنيوم تنقص (تأكل فلز Al) ومنه كتلة الـ Al المتفاعل هي $0,081g$.

V. بعض الأعمدة الاعتيادية.

تستعمل في الحياة اليومية أعمدة متنوعة منها ما هو ملحي و قلاني وأعمدة بالليثيوم ... لها أشكال وأحجام مختلفة.




يتعلق توتر كل عمود بنوع التفاعلين اللذين يحدثان على مستوى الإلكترودين، و تتعلق كمية الكهرباء التي يمكن أن يمررها كل عمود بالكميات البدئية للمتفاعلات، أما شدة التيار القصوى للاستعمال فتتعلق ، أساسا ، بمكونات القطرة الأيونية.

♦ الأعمدة الملحية من طراز لوكلانشي:

عمود لوكلانشي، الذي أطلق عليه هذا الاسم نسبة إلى مبتكره العلم لوكلانشي (1839 - 1882) LECLANCHE. هو العمود الملحي الأكثر انتشارا ويسمى ملحي لأن إلكتروديه مغموران في محلول مختر لكلورور الأمونيوم أو كلورور الزنك. يستعمل عمود لوكلانشي في الحالات التي لا تستلزم شدة قوية للتيار، مثل آلة التحكم عن بعد و ال م حسبة ومصباح الحبيب...

المعادلة المبسطة لتفاعل الأكسدة-اختزال الحاصل عند اشتغال العمود الملحي هي:



التيانية الاصطلاحية للعمود هي: (+) $\text{Zn}/\text{Zn}^{2+}/\text{MnO}_2/\text{C}$ (-)

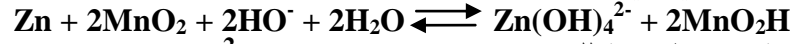
♦ الأعمدة القلانية من طراز مالوري:

في الأعمدة القلانية نجد المتفاعلات نفسها التي في عمود لوكلانشي، لكن الإكترودين مغموران في محلول قاعدي مختر لهيدروكسيد البوتاسيوم وترجع تسمية هذه الأعمدة إلى عنصر البوتاسيوم الذي ينتمي لمجموعة القلانيات.

تعتبر الأعمدة القلانية أكثر جودة من الأعمدة الملحية، لجودة التوصيل الكهربائي في محلولها الألكتروليتي.

المعادلة المبسطة لتفاعل الأكسدة-اختزال الحاصل عند اشتغال

العمود القلاني هي:



التيانية الاصطلاحية للعمود هي: (+) $\text{Zn}/\text{Zn}(\text{OH})_4^{2-}/\text{MnO}_2/\text{C}$ (-)

♦ أعمدة الليثيوم:

في أعمدة الليثيوم، يُعوض الزنك بالليثيوم، وهو مختزل قوي يتفاعل بشدة مع الماء، والمحلول الألكتروليتي المختر مكون من محاليل عضوية، مما يجعلها أكثر كلفة من الأعمدة الاعتيادية. وهي تستعمل على نطاق واسع وفي مجال درجة حرارة من -55°C إلى 85°C .

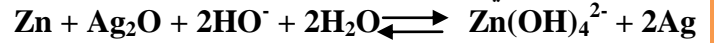
يمكن لأعمدة الليثيوم إعطاء كميات كبيرة من الطاقة الكهربائية، وتوجد في الأسواق على أشكال مختلفة.

♦ الأعمدة على شكل قرص:

توجد أعمدة قلانية على شكل أقراص، حيث عوض أكسيد المنغنيز MnO_2 بأوكسيد الفضة أو أوكسيد الزنق أو ثنائي الأوكسجين، وتتميز بصغر حجمها و طول مدة اشتغالها.

المعادلة المبسطة لتفاعل الأكسدة-اختزال الحاصل عند

اشتغال العمود هي:




♦ الأعمدة ذات محروق:

العمود ذو محروق مولد كهربائي يحول الطاقة الكيميائية للاحتراق إلى طاقة كهربائية حيث يصل ثنائي الهيدروجين إلى الأنود وثنائي أكسجين الهواء إلى الكاتود، أما الألكتروليت المستعمل فهو إما قلاني (هيدروكسيد البوتاسيوم) أو حمضي (حمض الفوسفوريك).

يمكن استعمال هذا العمود مستقبلا لتوليد الطاقة في السيارات، وهو يستعمل حاليا لتشغيل المركبات الفضائية. وتتميز هذه الأعمدة بكبر حجمها وتكلفتها العالية، لكن مردودها المرتفع وقلة تلويثها للبيئة يجعل استعمالها واعدا في المستقبل.

المعادلة المبسطة لتفاعل الأكسدة-اختزال الحاصل عند اشتغال



العمود هي:

