

التناقص الإشعاعي La décroissance nucléaire

نشاط وثائقي:

وثيقة 1 : كيف اكتشف بيكريل النشاط الإشعاعي؟

اهتم الفيزيائي الفرنسي (هنري بيكريل Henri Becquerel) بدراسة ظاهرة استنشاع أملاح الأورانيوم، وهي ظاهرة تبعث خلالها هذه الأملاح أشعة مرئية، بعد تعريضها لفترة من الزمن لأشعة الشمس.

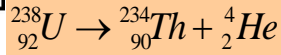
في 26 فبراير 1896 م، كانت سماء باريس غائمة. وتعذر على بيكريل تعريض أملاح الأورانيوم لأشعة الشمس، فوضعها في درج مكتبه مع صفائح فوتوغرافية مكسوة بغشاء من ورق سميك أسود معتم.

وفي أول مارس من نفس السنة قام بيكريل بتحريض الصفائح الفوتوغرافية فلاحظ بانبهار كبير أنها متأثرة، رغم عدم تعريضها لأشعة الشمس. وهكذا اكتشف بيكريل أن أملاح الأورانيوم تبعث تلقائياً أشعة غير مرئية تترك أثارا على صفائح فوتوغرافية. وقد أثبت بعد ذلك أن قابلية بعث الأشعة، هي خاصية لعنصر الأورانيوم، وسمى هذه الأشعة "الأشعة الأورانية".

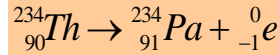
وثيقة 2 : اكتشافات أخرى

ابتداء من سنة 1898 م، لاحظ الفيزيائيان (بيير كوري Pierre Curie) وزوجته (ماري كوري Marie Curie) أن عنصر الطوريوم يبعث أيضا الأشعة الأورانية المكتشفة من طرف بيكريل.

تلت ذلك عدة أبحاث أدت إلى تعرف وتصنيف الأشعة المنبعثة من المواد المشعة، حيث تعرف الفيزيائيان الإنجليزيان (إرنست رذرفورد Rutherford) و (فريدريك سودي Soddy) على الأشعة المنبعثة من الأرانيوم 238، وبيننا أنها عبارة عن نوى الهيليوم المتأينة، وسميت أشعة ألفا α . ويعبر عن هذا الانبعاث بالمعادلة:



في سنة 1900 م تعرف بيكريل على نوع آخر من الإشعاعات النووية وهو الإشعاع β^- . وهو عبارة عن انبعاث إلكترونات ${}_{-1}^0e$ من نوى الطوريوم Th وفق المعادلة:



بعد ذلك أبرز الفرنسي (بول فيلار Paul Villard) وجود الأشعة γ وهي عبارة عن موجات كهرومغناطيسية غير مرئية. أدت كل هذه الاكتشافات وتطبيقاتها إلى تطور وإغناء المعارف حول طبيعة نواة الذرة.

I - استقرار وعدم استقرار النواة

I - 1 - تذكير لتركيب النواة

تتكون الذرات من نواة وإلكترونات تدور حول النواة.

وتتكون النواة من دقائق تسمى **نويات Nucléons** وهي **نوترونات** و**بروتونات**:

$$q_p = +e \quad m_p = 1,67265 \cdot 10^{-27} \text{ kg}$$

$$q_n = 0 \quad m_n = 1,67496 \cdot 10^{-27} \text{ kg}$$

يرمز إلى عدد النويات (أو عدد الكتلة) بالحرف **A**، وإلى عدد البروتونات (عدد الشحنة أو العدد الذري) بالحرف **Z**، أما عدد النوترونات فيرمز له بالحرف **N** حيث $A = Z + N$ وبالتالي: $N = A - Z$

نمثلة نواة لعنصر كيميائي **X** بالرمز:

$${}^A_Z X$$

*مثال:

رمز نواة الأورانيوم: ${}_{92}^{238}\text{U}$
أعط تركيب نواة الأورانيوم 238.

2 - النويدات: Les nucléides

في الفيزياء الذرية، يطلق اسم النوييدة على مجموعة من النوى تتميز بعدد معين من النوترونات ومن البروتونات .

نرمز لنوييدة كما يلي: ${}^A_Z X$

X : رمز العنصر الكيميائي.

Z : عدد الشحنة.

A : عدد الكتلة.

مثال نوييدتان لعنصر الأورانيوم: ${}^{235}_{92}U$ و ${}^{238}_{92}U$

3 - النظائر: Les isotopes

النظائر هي نوييدات لها نفس قيمة Z وقيم مختلفة ل A .

* مثال: 3_1H و 2_1H و 1_1H و ${}^{238}_{92}U$ و ${}^{235}_{92}U$ و ${}^{12}_6C$ و ${}^{14}_6C$

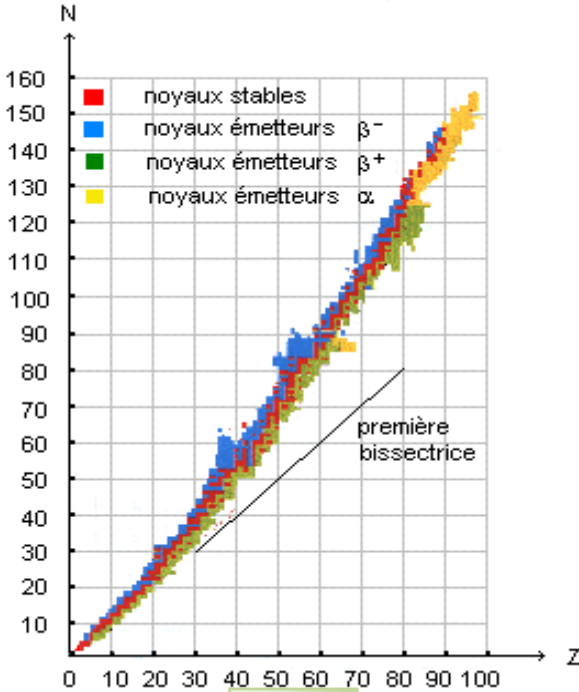
II - النشاط الإشعاعي: Radioactivité

النشاط الإشعاعي تحول طبيعي تلقائي وغير مرتقب في الزمن تتحول خلاله نواة غير مستقرة إلى نواة متولدة أكثر استقرارا مع انبعاث دقيقة أو عدة دقائق.

تسمى النواة غير المستقرة **نواة مشعة أو نواة إشعاعية** والدقائق المنبعثة **إشعاعات نشيطة**.

1 - المخطط (N, Z): مخطط سيغري (Segré)

يبين مخطط سيغري أو المخطط (N, Z) مواقع النوى المستقرة، والنوى المشعة (الشكل 1).



الشكل 1

* منطقة استقرار النوى.

- بالنسبة ل $Z < 20$ ، النوى المستقرة توجد بمحادات المستقيم $(Z = N)$ اي ان هذه النوى المستقرة تملك عدد بروتونات مساو لعدد النوترونات.

- بالنسبة ل $Z > 20$ ، النوى المستقرة توجد فوق المستقيم معادلته $Z = N$ تحتوي على عدد النوترونات N أكثر من البروتونات Z، ومن ثم فإن استقرار النواة لا يمكن أن يحصل إلا إذا كان عدد النوترونات أكبر من عدد البروتونات.

* النوى غير المستقرة (الإشعاعية).

تنقسم النوى غير المستقرة حسب موقعها بالنسبة لمنطقة الاستقرار إلى ثلاث أنواع:

- نوى ثقيلة وتحتوي على N و Z كبيران.

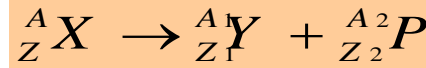
- نوى تقع فوق منطقة الاستقرار، وتحتوي على فائض عدد النوترونات.

- نوى تقع تحت منطقة الاستقرار، وتحتوي على فائض عدد البروتونات.

كل هذه النوى تقترب لتقترب من منطقة الاستقرار باعثة دقائق.

2 - قانون الانحفاظ:

قانون صودي (Soddy): خلال تحول نووي تحفظ الشحنة الكهربائية Z والعدد الإجمالي للنويات A.



مثال:

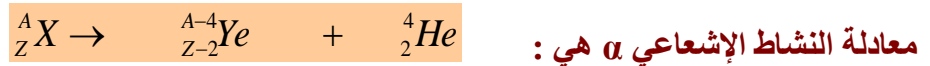
$$\text{انحفاظ } Z : Z = Z_1 + Z_2$$

$$\text{انحفاظ } A : A = A_1 + A_2$$

3 - الأنشطة الإشعاعية α ، β و γ .

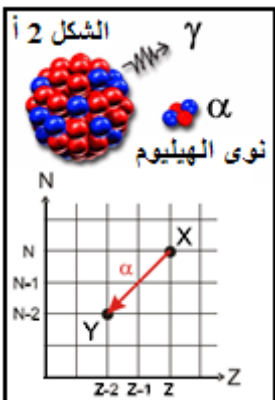
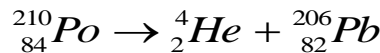
أ - النشاط الإشعاعي α .

هو تفتت نووي طبيعي وتلقائي تتحول خلاله نواة أصلية ${}^A_Z X$ إلى نواة متولدة ${}^{A-4}_{Z-2} Y$ ببعث **نواة الهيليوم** ${}^4_2 He$ تسمى الدقيقة α ، ويهم هذا النوع من النشاط نوى ثقيلة (ذات $A > 200$).



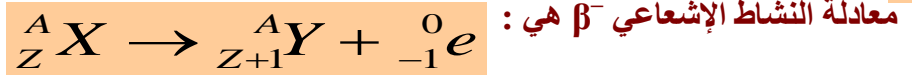
معادلة النشاط الإشعاعي α هي :

مثال: البولونيوم ${}^{210}_{84} Po$ إشعاعي النشاط α ، معادلة التفتت :



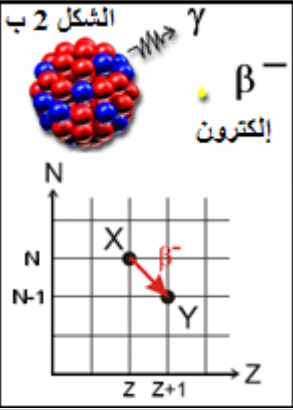
ب - النشاط الإشعاعي β^-

هو تفتت طبيعي وتلقائي تتحول خلاله نواة أصلية ${}^A_Z X$ إلى نواة متولدة ${}^A_{Z+1} Y$ ببعث إلكترون ${}^0_{-1} e$ نسميه دقيقة β^- . ويهم هذا النوع من النشاط نوى موجودة فوق منطقة الاستقرار.



يقابله كذلك تحول نوترون إلى بروتون : ${}_0^1 n \rightarrow {}_1^1 p + {}^0_{-1} e$

مثال: الكوبالت ${}^{60}_{27} Co$ إشعاعي النشاط β^- ، معادلة التفتت: ${}^{60}_{27} Co \rightarrow {}^{60}_{28} Ni + {}^0_{-1} e$



ج - النشاط الإشعاعي β^+

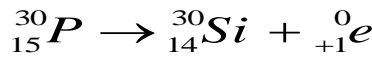
هو تفتت تتحول خلاله نواة أصلية ${}^A_Z X$ إلى نواة متولدة ${}^A_{Z-1} Y$ ببعث بوزيترون ${}^0_{+1} e$ يسمى دقيقة β^+ . يظهر هذا النشاط عموماً بالنسبة للعناصر الإشعاعية الإصطناعية.

البوزيترون دقيقة لا تختلف عن الإلكترون إلا في إشارتها الكهربائية والتي هي موجبة: $e = 1,6 \cdot 10^{-19} C$



يقابله كذلك تحول بروتون إلى نوترون: ${}_1^1 p \rightarrow {}_0^1 n + {}^0_{+1} e$

مثال: الفوسفور ${}^{30}_{15} P$ إشعاعي النشاط β^+ :



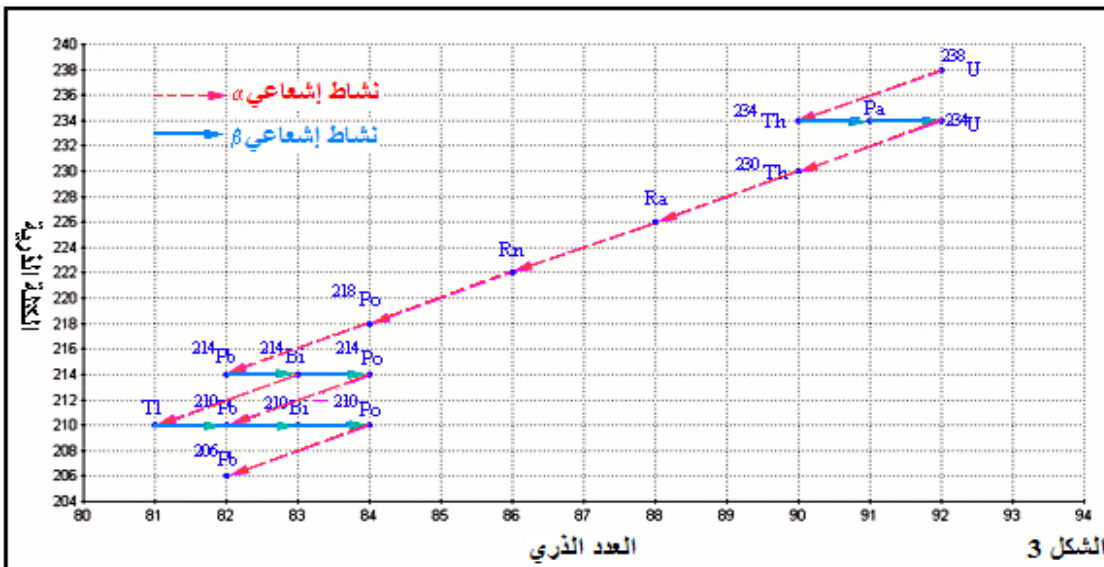
د - النشاط الإشعاعي γ

هو عبارة عن موجات كهرومغناطيسية ذات طاقة كبيرة جداً، وهو يواكب الأنشطة الإشعاعية α ، β^- و β^+ بحيث تكون النواة المتولدة في حالة إثارة ${}^A_Z Y^*$ ، ولفقدان طاقة إثارتها، فإنها تتخلص من فائض الطاقة هذا ببعث أشعة γ .



ملحوظة: الفصيلة المشعة Famille radioactive

تتحول نويدة غير مستقرة إلى نويدة أخرى وإذا كانت بدورها غير مستقرة فإنها تتحول إلى أن نحصل على نويدة مستقرة؛ نسمي مجموع النويدات الناتجة عن نفس النويدة الأصلية فصيلة مشعة.



الشكل 3

تطبيق:

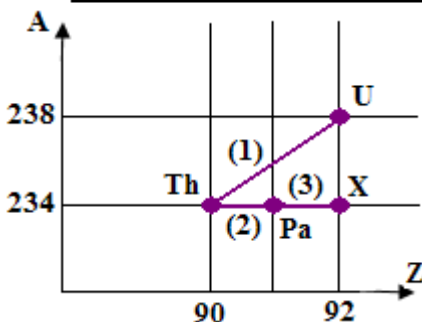
يعطي المخطط التالي النوى الأولى من فصيلة الأورانيوم 238.

1 - اكتب معادلات التفتتات (1) و (2) و (3) ما رمز النواة X ؟

2 - يصاحب التفتت (1) انبعاث أشعة γ .

أ - ما طبيعة الأشعة γ ؟

ب - اكتب معادلة هذا التفتت.



III - قانون التناقص الإشعاعي: Loi de décroissance radioactive

1 - الصيغة العشوائية للنشاط الإشعاعي.

النشاط الإشعاعي ظاهرة عشوائية تحدث تلقائيا، إذ لا يمكن التنبؤ مسبقا بلحظة تفتت نواة محددة.

2 - قانون التناقص الإشعاعي.

$$N(t) = N_0 \cdot e^{-\lambda t} \quad \leftarrow \text{التكامل} \quad \frac{dN}{N} = -\lambda dt$$

N_0 : عدد النوى (أو النويدات) المتفتتة أو المشعة عند اللحظة $t = 0$ ؛

$N(t)$: عدد النوى (أو النويدات) غير المشعة أي المتبقية من عينة مشعة عند اللحظة t ؛

λ : ثابتة إشعاعية وحدتها في النظام العالمي s^{-1} ، وهي تميز النويده المشعة.

3 - ثابتة الزمن لعينة مشعة.

أ - ثابتة الزمن τ :

ثابتة الزمن لعينة مشعة هي مقلوب الثابتة الإشعاعية.

$$\tau = \frac{1}{\lambda}$$

عند اللحظة $t = \tau$ من تعبير قانون التناقص الإشعاعي

$$N = N_0 \cdot e^{-\frac{1}{\tau} \tau} \text{ يصبح } N = N_0 \cdot e^{-1} \text{ أي } N = \frac{N_0}{e} \text{ وبالتالي: } N(t) = 0,37 N_0$$

τ : هي المدة الزمنية اللازمة لتفتت 63% من العدد البدئي N_0 للنوى.

تحديد مبيانيا ثابتة الزمن τ :

إن المماس للمنحنى $N(t) = f(t)$ عند اللحظة $t=0$ يقطع محور الأفاصل عند التاريخ $t = \tau$ (الشكل 5).

ب - عمر النصف $t_{1/2}$ لنويده مشعة:

عمر النصف المدة الزمنية اللازمة لتفتت نصف عدد نوى عينة.

حسب قانون التناقص الإشعاعي:

$$N = \frac{N_0}{2}$$

عند $t = t_{1/2}$ فإن

$$\frac{N_0}{2} = N_0 e^{-\lambda t_{1/2}}$$

أي: $-\lambda t_{1/2} = -\ln 2$

ومنه فإن:

$$t_{1/2} = \frac{\ln 2}{\lambda} = \tau \ln 2$$

أمثلة:

النويده	أورانيوم 238	كربون 14	يود 131	بولونيوم 212
عمر النصف $t_{1/2}$	4,5.10 ⁹ ans	5600 ans	8,1 jours	3.10 ⁻⁷ s

4 - نشاط عينة مشعة a:

تعريف:

النشاط a لعينة مشعة هو عدد التفتتات في وحدة الزمن وتعبيره هو:

$$a(t) = -\frac{dN(t)}{dt}$$

وحدة a(t) هي البيكريل (Bq) Bequerel

1Bq يمثل تفتتا واحدا في الثانية.

نعلم أن : $N = N_0 \cdot e^{-\lambda t}$ ومنه :

$$a(t) = -\frac{dN(t)}{dt}$$

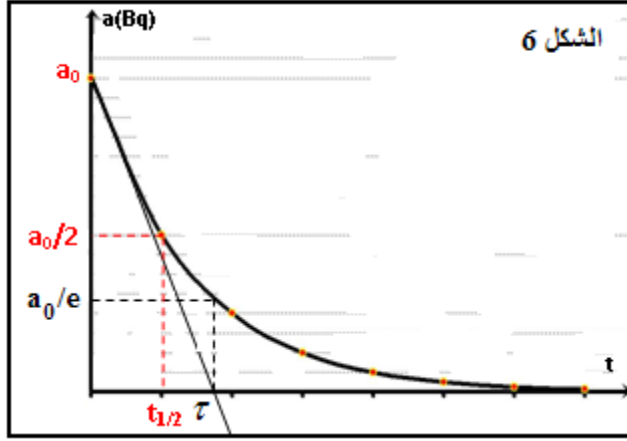
$$a(t) = -\frac{d}{dt}(N_0 e^{-\lambda t}) = \lambda N_0 e^{-\lambda t}$$

إذن : $a(t) = \lambda N(t)$

يكون نشاط عينة مشعة عند اللحظة ($t = 0$) هو : $a_0 = \lambda N_0$

وبالتالي : $a(t) = a_0 e^{-\lambda t}$

مبيانيا :



III - التأريخ بالنشاط الإشعاعي

من بين التقنيات التي يلجأ إليها الجيولوجيون وعلماء الآثار لتحديد أعمار الحفريات والصخور هناك تقنيات تعتمد على النشاط الإشعاعي. إذ أن النويدات الإشعاعية الموجودة في هذه الصخور والحفريات يتناقص عددها مع الزمن وبالتالي يتناقص نشاطها a ، بقياس النشاط الحالي للعينة القديمة ومقارنته مع نشاط عينة أخرى **شاهدة** لها نفس كتلة العينة القديمة يمكن تحديد عمر العينة القديمة. يتم اختيار العنصر المشع المناسب لتأريخ حدث معين حسب قدم ونوع العينة المراد تأريخها.

تمرين تطبيقي:

النويذة $^{14}_6C$ إشعاعية النشاط ونصف عمرها $t_{1/2} = 5580$ ans. تبقى نسبة النويذة $^{14}_6C$ ثابتة عند الكائنات الحية ولكن بعد وفاتها تتناقص هذه النسبة ويمكن بذلك تحديد تاريخ الوفاة.

اكتشف قبر الفرعون توت عنخ آمون سليما بوادي الملوك بالقرب من الأقصر بمصر، وكانت توجد قطعة جليدية بلحده. نريد تحديد الحقبة التي حكم فيها هذا الفرعون.

1 - اكتب معادلة تفتت نويذة الكربون $^{14}_6C$ الإشعاعي النشاط β^- ، ثم تعرف على النويذة المتولدة من بين النويدات التالية:



2 - اكتب تعبير قانون التناقص الإشعاعي.

3 - احسب الثابتة الإشعاعية λ .

4 - أوجد تعبير النشاط a بدلالة λ و t و a_0 النشاط الإشعاعي عند اللحظة $t = 0$.

5 - قياس قيمة النشاط الإشعاعي لنويذة الكربون $^{14}_6C$ لقطعة الجلد التي وُجدت في قبر توت عنخ آمون أعطى 0,138 تفتتا في الثانية لكل غرام واحد من الكربون، بينما تلك القيمة تساوي 0,209 بالنسبة لكائن حي.

1 - 5 - حدد بالسنوات عمر قطعة الجليد.

2 - 5 - علما أن القياسات تمت سنة 1995، في أية حقبة عاش الفرعون توت عنخ آمون؟