

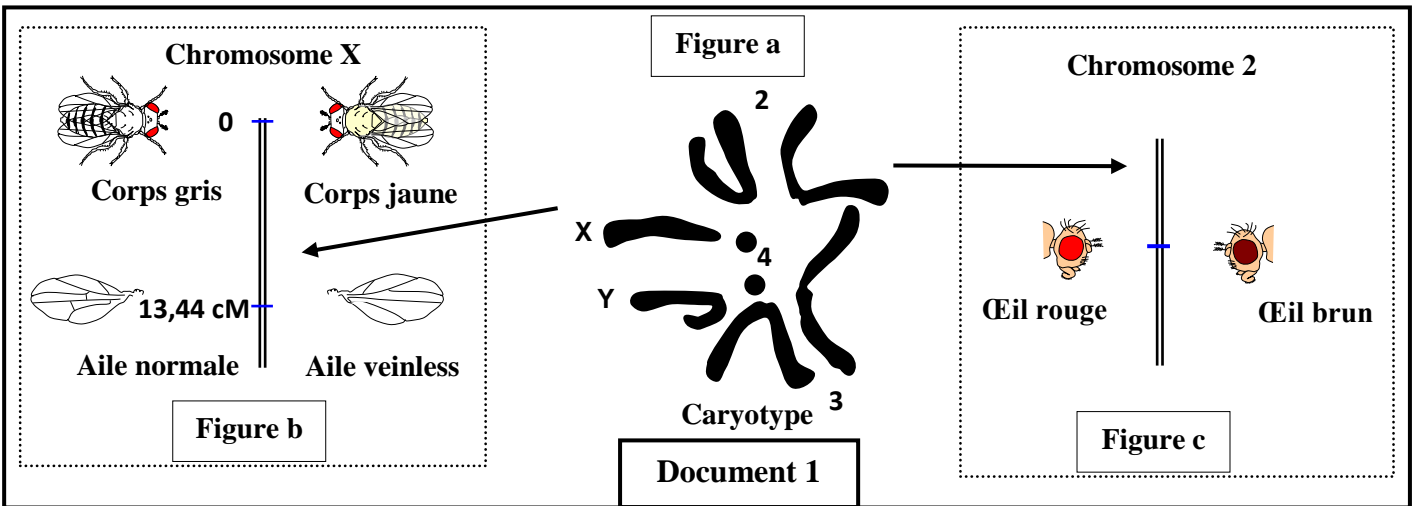
Partie II : Raisonnement scientifique et communication écrite et graphique (15 points)

Exercice 1 : (5 points)

Chez la drosophile on suit la transmission de trois gènes :

- Un gène responsable de la couleur des yeux a deux allèles : un allèle dominant " bw^+ " responsable de la couleur rouge et un allèle récessif " bw " responsable de la couleur brune.
- Un gène responsable de la couleur du corps a deux allèles : un allèle dominant " j^+ " responsable de la couleur grise et un allèle récessif " j " responsable de la couleur jaune.
- Un gène responsable de la forme des ailes a deux allèles : un allèle dominant " cv^+ " responsable des ailes normales et un allèle récessif " cv " responsable des ailes veinless.

• La figure a du document 1 présente le caryotype d'une drosophile mâle et les figures b et c du même document illustrent l'emplacement de ces trois gènes sur les chromosomes.



- 1- **Déterminez** la formule chromosomique du caryotype présenté dans le document 1 et la formule chromosomique des gamètes produits par cet individu. (0,75pt)
 - 2- A partir de la disposition de ces trois gènes sur les chromosomes, **donnez** en justifiant votre réponse, le type de brassage chromosomique possible, lors de la formation des gamètes chez une femelle hétérozygote entre les gènes responsables :
 - a- de la couleur du corps et de la couleur des yeux. (0,5pt)
 - b- de la couleur du corps et de la forme des ailes. (0,5pt)
 - 3- En se basant sur un échiquier de croisement, **déterminez** pour les caractères, couleur des yeux et couleur du corps, les pourcentages des phénotypes attendus lors d'un croisement test entre une femelle double hétérozygote et un mâle double récessif. (1,75pt)
- Pour vérifier le mode de transmission des deux caractères : la couleur du corps et la forme des ailes on a réalisé le croisement entre une femelle hétérozygote à corps gris et ailes normales et un mâle à corps gris et ailes normales. On a obtenu à la génération F_2 les résultats expérimentaux présentés dans le document 2 :

| Phénotypes | Corps gris et ailes normales [j^+, cv^+] | Corps gris et ailes veinless [j^+, cv] | Corps jaune et ailes veinless [j, cv] | Corps jaune et ailes normales [j, cv^+] |
|------------|--|--|---|---|
| Mâles | 1621 | 254 | 1625 | 250 |
| Femelles | 3747 | 0 | 0 | 0 |
| Document 2 | | | | |

4- A partir des résultats expérimentaux du document 2 :

a- **Montrez** que les deux gènes responsables de la couleur du corps et de la forme des ailes sont liés et portés par le chromosome sexuel X. (1pt)

b- **Vérifier** si la distance entre les deux gènes correspond aux données de la figure b du document 1. (0,5pt)

Exercice 2 : (4 points)

La drépanocytose est une maladie héréditaire qui touche l'Homme. Une des mutations au niveau du gène qui gouverne la synthèse de l'hémoglobine provoque la déformation des globules rouges du sang et par la suite un appauvrissement en dioxygène au niveau des cellules du corps d'où l'apparition de la maladie. Ce gène se trouve sous forme de deux allèles (H/h). L'un de ces allèles est responsable de la synthèse de l'hémoglobine normale et l'autre est responsable de la synthèse de l'hémoglobine anormale.

Afin d'étudier le mode de transmission de cette maladie chez une famille, on propose les données suivantes :

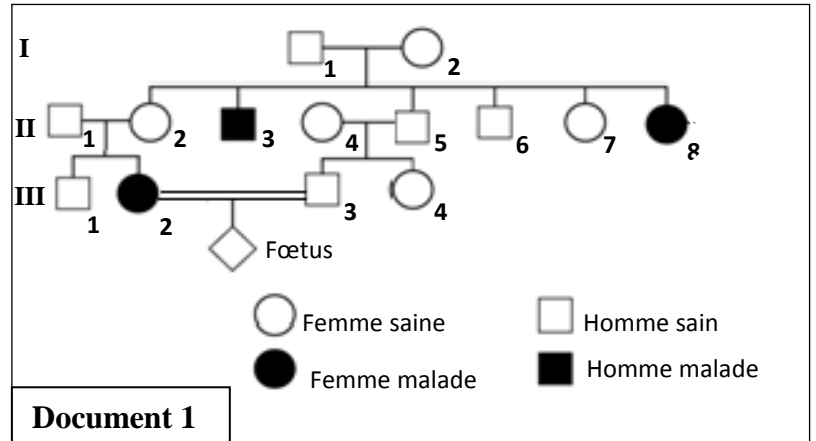
- Le document 1 présente l'arbre généalogique de la famille étudiée dont certains membres sont atteints par la drépanocytose.

1- En vous basant sur le document 1 :

a- **Déterminez** le mode de transmission de la maladie. **Justifiez** votre réponse. (1pt)

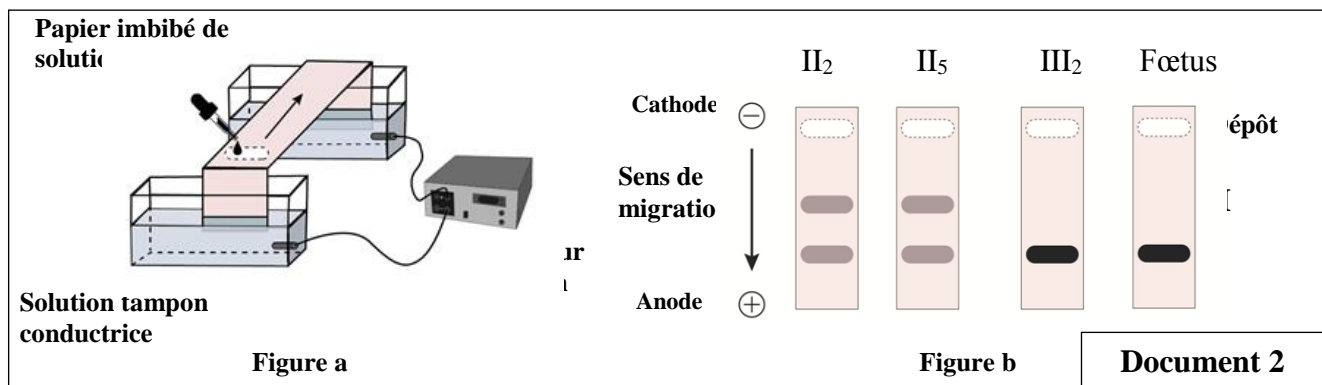
b- **Donnez** les génotypes des individus II₂, II₅, III₂ et III₃. (1pt)

Utilisez le symbole **H** pour l'allèle dominant, et le symbole **h** pour l'allèle récessif.



2- **Déterminez** la probabilité pour que le couple III₂ et III₃ donne naissance à un enfant malade. **Justifiez** votre réponse en utilisant l'échiquier de croisement. (1.25pt)

- Pour déterminer les génotypes de quelques individus de cette famille, on procède à la technique d'électrophorèse qui vise à séparer les deux types d'allèles H et h, dans un champ électrique, comme le montre la figure (a) du document 2. Les résultats de cette électrophorèse, réalisés chez les individus II₂, II₅, III₂ et le fœtus sont indiqués sur la figure (b) du même document.



3- En vous basant sur le document 2, **déterminez** le génotype et le phénotype du fœtus et **précisez** les conséquences sur la descendance de l'individu III₃. **Justifiez** votre réponse. (0.75pt)

Exercice3 : (6 points)

Afin d'étudier la variation du caractère diamètre de l'œil chez les poissons-chats (*Ameirus melas*), on propose les données suivantes :

Donnée 1 : Un éleveur de poissons a mesuré le diamètre de l'œil chez un échantillon de 20 poissons-chats de même âge (Population E1). Les résultats obtenus sont représentés par le document 1.

| | | | | | | | | | | |
|-------------------------|-----|-----|-----|-----|-----|-----|-----|-----|-----|-----|
| Diamètre de l'œil en mm | 1,6 | 7,6 | 4,2 | 3,4 | 5,4 | 2,4 | 5,8 | 4,4 | 3,6 | 4,5 |
| | 4 | 6,4 | 6,2 | 3 | 5,6 | 4,3 | 4,8 | 2 | 4,6 | 3,8 |
| Document 1 | | | | | | | | | | |

1- En se basant sur le document 1 et en utilisant des classes d'intervalle de 1mm (de [1-2[à [7-8[), **réalisez** sur votre feuille de rédaction l'histogramme de fréquence et le polygone de fréquence de la distribution du nombre des poissons en fonction du diamètre de l'œil en mm. (2pts)



Utilisez 1cm pour chaque classe et 1cm pour 1poisson.

2- **Calculez** la moyenne arithmétique, et l'écart type de cette distribution, en se basant sur un tableau d'application du calcul des paramètres statistiques. (2pts)

On donne :

$$\sigma = \sqrt{\frac{\sum_{i=1}^n f_i (x_i - \bar{x})^2}{n}} \quad \text{et} \quad \bar{x} = \frac{\sum_{i=1}^n (f_i x_i)}{n}$$

Donnée 2 : La comparaison du diamètre de l'œil de deux populations de poisson-chat de races pures, une population de poissons aveugles (P1) et une autre de poissons voyants (P2) ayant une vision normale, montre que le diamètre de l'œil des poissons voyants est six fois plus grand que celui des poissons aveugles. Le document 2 présente les paramètres statistiques calculés chez les deux populations.

| Document 2 | Poisson-chat | Moyenne arithmétique | Ecart-type |
|---------------|---|----------------------|------------|
| Population P1 |  | 1,22 mm | 0,2 mm |
| Population P2 |  | 7,48 mm | 0,22 mm |

Donnée 3 : Afin d'obtenir des poissons voyants l'éleveur a réalisé le croisement entre les individus de l'échantillon E1 ayant des yeux de diamètre supérieur à 6mm. La descendance obtenue (E2) est homogène avec une moyenne arithmétique de 7,46 mm et un écart-type de 0,21mm.

3-En se basant sur les données 2 et 3 et vos réponses précédentes :

a- **Montrez** que la sélection artificielle de cet éleveur est efficace. (1pt)

b- **Montrez** qu'une sélection artificielle au niveau de la descendance E2 serait inefficace. (1pt)

— Fin —