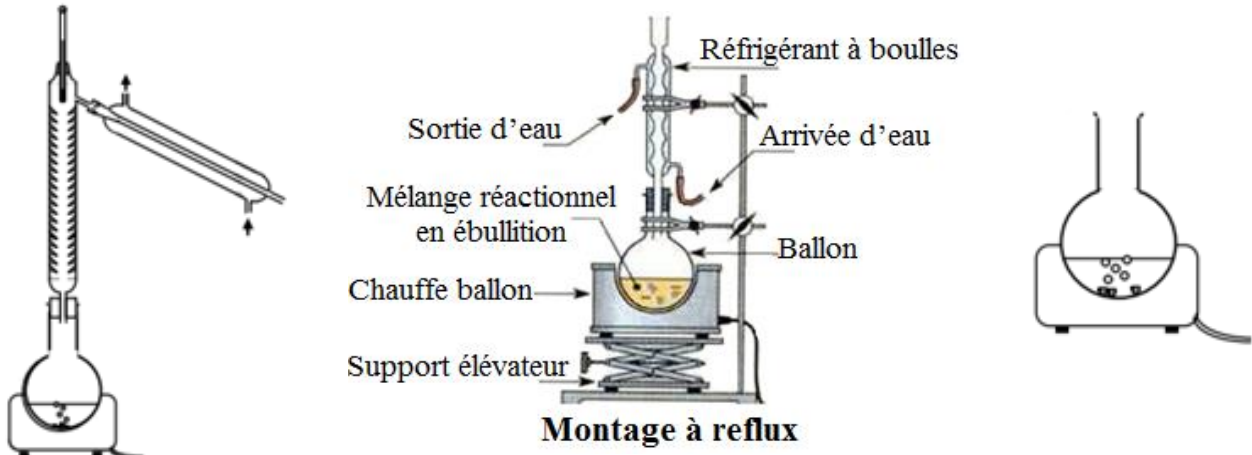


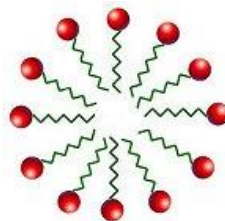
PHYSIQUE CHIMIE



Je veux mon
BAC

Tout court

KRM
P.C



1m^3	$= 10^3\ell$
1ℓ	$= 10^3\text{m}\ell = 10^3\text{cm}^3$
$1\text{m}\ell$	$= 1\text{cm}^3$

UNITES DU SYSTEME INTERNATONNAL (U.S.I)

Dans une relation entre grandeurs, on remplace chaque terme par la grandeur fondamentale correspondante : L pour une longueur, M pour une masse, T pour un temps, I pour une intensité de courant électrique... On obtient ainsi l'équation aux dimensions.

Cette équation permet :

- De déterminer l'unité composée d'une grandeur en fonction des grandeurs fondamentales.
- De tester si une formule est homogène.
- De faire des conversions d'unités

Les unités de base

Le système international (SI) est constitué de sept (7) grandeurs de base et de sept (7) unités de base (ou **unités fondamentales du SI**).

Grandeur	Nom	Symbole	Dimension
Longueur	Mètre	m	L
Masse	Kilogramme	Kg	M
Temps	Seconde	s	T
Intensité de courant électrique	Ampère	A	I
Température thermodynamique	Kelvin	k	θ
Quantité de matière	Mole	mol	N
Intensité lumineuse	Candela	cd	J

Les unités dérivées

- Toutes les autres grandeurs s'expriment en fonction des unités de base.
- **Les unités dérivées** : Sont formées en combinant les unités de base d'après les relations algébriques qui lient les grandeurs correspondantes. Les noms et les symboles de certaines de ces unités peuvent être remplacés par des noms et des symboles spéciaux qui peuvent être utilisés pour exprimer les noms et symboles d'autres unités dérivées.

Grandeur	Formule	Unité dans le (SI)	Unité en fonction des unités de bases
Vitesse	$\vec{V} = \frac{d\vec{OM}}{dt}$	m.s ⁻¹	m.s⁻¹
Accélération	$\vec{a} = \frac{d\vec{V}}{dt}$	m.s ⁻²	m.s⁻²
Force	$\vec{F} = m \cdot \vec{a}$	N (Newton)	N = Kg.m.s⁻²
Energie	$W(\vec{F})_{A \rightarrow B} = \vec{F} \cdot \vec{AB}$	J (Joule)	J = N.m = Kg.m².s⁻²
Puissance	$P = \frac{W_{A \rightarrow B}(\vec{F})}{\Delta t}$	W (watt)	W = J.s⁻¹ = N.m.s⁻¹ = Kg.m².s⁻³
Pression	$P = \frac{F}{S}$	Pa (Pascal)	Pa = N.m⁻² = Kg.m⁻¹.s⁻²
Fréquence	$N = \frac{1}{T}$	Hz (Hertz)	Hz = s⁻¹
Charge électrique	$Q = I \cdot \Delta t$	C (Coulomb)	C = A.s
Tension électrique	$U = \frac{P}{I}$	V (Volt)	V = W.A⁻¹ = Kg.m².s⁻³.A⁻¹
Resistance électrique	$R = \frac{U}{I}$	Ω (Ohm)	<math>\Omega = V.A⁻¹ = Kg.m².s⁻³.A⁻²</math>
Capacité d'un Condensateur	$C = \frac{q}{U}$	F (Farad)	F = C.V⁻¹ = Kg⁻¹.m².s⁴.A²
Coefficient d'induction	$U = L \cdot \frac{di}{dt}$	H (henry)	H = V.s.A⁻¹ = Kg.m².s⁻².A⁻²

Multiples et sous multiples :

Sous multiples					
10 ⁻¹²	10 ⁻⁹	10 ⁻⁶	10 ⁻³	10 ⁻²	10 ⁻¹
Pico	Nano	Micro	Milli	Centi	Deci
p	n	μ	m	c	d

Multiples					
10	10 ²	10 ³	10 ⁶	10 ⁹	10 ¹²
Deca	Hecto	Kilo	Mega	Giga	Tera
da	h	K	M	G	T

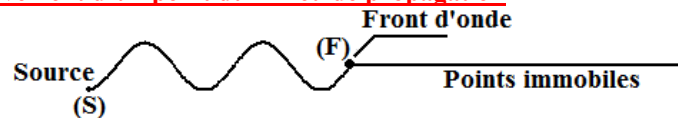
ONDES MECANIQUES PROGRESSIVES

- Le signal est une **perturbation** (modification locale et temporaire) qui se propage dans un milieu matériel élastique
- Une **onde progressive** correspond à la propagation dans l'espace et au cours du temps d'une perturbation.
- Une **onde mécanique** correspond à la propagation d'une perturbation dans un milieu matériel sans transport de matière. L'onde ne transporte que de l'énergie
- On appelle **onde mécanique progressive**, Onde résultant de la perturbation d'un milieu par une source.
- Un **milieu élastique** est un milieu qui reprend sa forme initiale après le passage de l'onde mécanique
- L'onde se propage **dans** toutes les directions qui lui sont offertes.

1. Mouvement d'un point M du milieu matériel.

- La perturbation créée au point S de la corde au temps t_0 (Souvent $t_0=0$) se propage de proche en proche à une vitesse précise.
- Toute onde est caractérisé par une source (S), une durée d'onde (durée nécessaire de passage de l'onde par un point) ,une amplitude et une longueur d'onde
- Chaque point du milieu matériel reproduit la perturbation de la source S.
- La perturbation au point M reproduit la perturbation de la source S avec un retard τ , car la perturbation met un certain temps pour progresser de S à M

2. Front d'onde et mouvement d'un point du milieu de propagation



- L'onde débute de la source (S)
- | | |
|-----------------|---|
| • La Source (S) | - Le premier point qui se met en mouvement
- Débute souvent son mouvement à l'instant $t_0=0s$ (les autres points sont immobiles à t_0) |
|-----------------|---|
-
- | | |
|-----------------------|--|
| • Le Front d'onde (F) | - Le point le plus lointain de la source (S) suivis , et dans le sens du mouvement , d'un trait horizontal (indiquant les points immobiles)
- Informe sur le premier mouvement : <ul style="list-style-type: none"> • De la source (S) à l'instant t_0 • Réaliser par un point lors de la réception de l'onde à un instant t • Que réaliseras un point une fois l'onde y parviens |
|-----------------------|--|

NB :

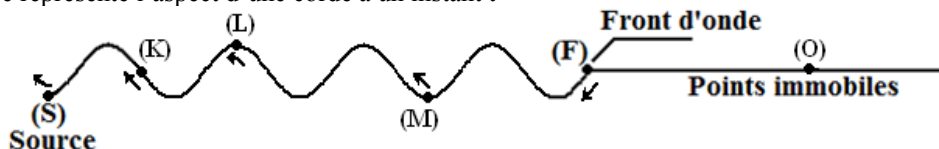
Tous les points (quand la perturbation y parviens à l'instant t) reproduisent la même perturbation que la source (S) (perturbation créée à l'instant t_0)

3. Sens de mouvement d'un point

Du point on suit légèrement l'allure de l'onde vers la source (S) on peut déterminer :

- Le sens du mouvement d'un point
- Le sens de mouvement du front (F) et en déduire le premier mouvement de chaque point et en particulier celui de la source (S)

Exemple : La figure représente l'aspect d'une corde à un instant t

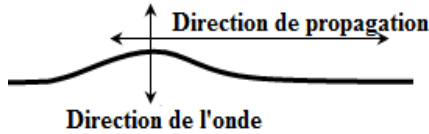


Le point	(S)	(K)	(L)	(M)	(N)	(O)
Mouvement à $t_0=0$	Vers le bas	----- immobile -----				
Mouvement à t	Vers le haut	Vers le haut	Vers le bas	Vers le haut	Vers le bas	Immuable
Le premier mouvement	----- C'est le mouvement du front et c'est vers le bas -----					

4. Les types d'ondes :

Ondes transversales :

Une onde est transversale lorsque la déformation du milieu de matériel a lieu perpendiculairement à la direction de propagation de la perturbation.

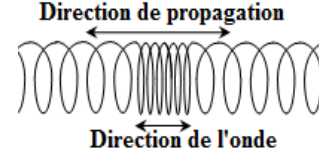


Exemples :

- Une onde se propageant :
 - À la surface de l'eau
 - Le long d'une corde.

Ondes longitudinales :

Une onde est longitudinale si la déformation du milieu matériel a lieu parallèlement à la direction de propagation de la perturbation.



Exemples :

- Une onde se propageant dans un ressort.
- L'onde sonore.

- La direction dans laquelle se propage la perturbation est la direction de propagation de l'onde.

5. Définition de la célérité (vitesse).

La célérité v d'une onde progressive est égale au quotient de la distance d séparant deux points M_1 et M_2 du milieu par la durée Δt qui sépare les dates t_1 et t_2 de passage de l'onde en ces deux points.

$$V = \frac{M_1 M_2}{t_2 - t_1} = \frac{d}{\Delta t}$$

6. Facteurs influençant la célérité.

- La vitesse de propagation de l'onde est une propriété du milieu. Elle dépend en effet des qualités d'élasticité du milieu et de son inertie (c'est-à-dire de la difficulté plus ou moins grande à le mettre en mouvement : plus l'inertie du milieu est grande, la vitesse est faible).
- Dans un milieu linéaire, la célérité est indépendante de la forme et de l'amplitude du signal.
- Pour un même milieu, la célérité dépend du type d'onde considéré ($V_{\text{transversale}} \neq V_{\text{longitudinale}}$)
- La célérité d'une onde progressive est plus grande dans un solide, que dans un liquide, que dans un gaz. Elle dépend de la compressibilité du fluide. ($V_{\text{cuivre}} = 3600 \text{ m.s}^{-1}$; $V_{\text{eau}} = 1500 \text{ m.s}^{-1}$; $V_{\text{air}} = 340 \text{ m.s}^{-1}$).

Remarques :

- t : temps ou instant ou date et caractérise un point qui est souvent le front de l'onde
- $\Delta t = \theta = \tau = t_2 - t_1$: durée (ou retard) entre deux points M_1 et M_2
- Aspect ou image ou forme de l'onde des mots souvent lié à la position du front de l'onde à un instant t

Exploiter la relation :

$$V = \frac{d}{\Delta t}$$

Une phrase

On précise la distance d et la durée de parcours Δt


Exemple :

L'onde parcourt 15cm pendant 10 seconde
 $d = 15 \text{ cm}$
 $\Delta t = 10 \text{ s}$

Graphiquement

et avec une indication sur la source (S)

L'onde est émise de la source à l'instant $t_0 = 0 \text{ s}$



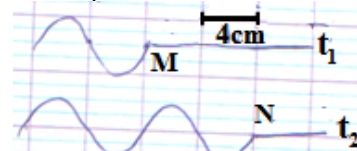
$$d = SM = 4 \times 4 = 16 \text{ cm}$$

$$\Delta t = t_1 - t_0 = t_1$$

Graphiquement

et sans aucune indication sur la source (S)

L'onde passe par le point M à l'instant t_1 et par le point N à l'instant t_2

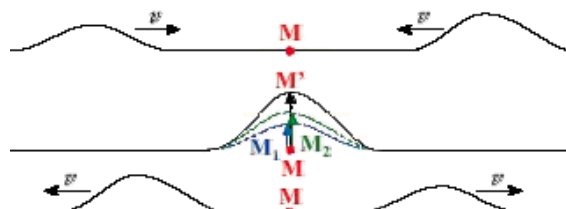


$$d = MN = 2 \times 4 = 8 \text{ cm}$$

$$\Delta t = t_2 - t_1$$

7. Superposition de deux ondes.

- Deux ondes mécaniques peuvent se superposer sans se perturber.
- Lorsque les deux perturbations se croisent, leurs amplitudes s'ajoutent algébriquement.
- Après le croisement, chaque perturbation reprend sa forme propre.



ONDES MECANIQUES PROGRESSIVES ET PERIODIQUES

1° Définition.

Une **onde progressive mécanique périodique** est le phénomène qui accompagne la propagation, dans un milieu matériel d'un signal (perturbation) se répétant identique à lui-même à intervalles de temps identiques appelés période T.

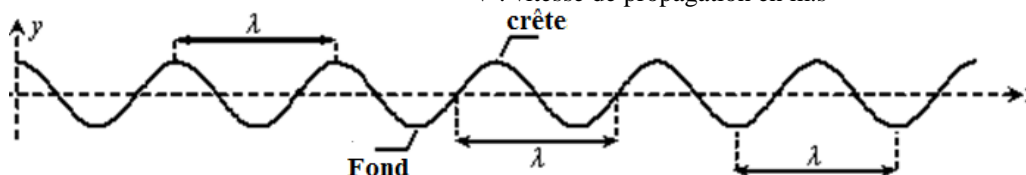
2° Double périodicité du phénomène.

λ : La longueur d'onde (**période spatiale**)
 : La distance parcourue pendant un intervalle de temps égal à la période T
 : La distance entre deux crêtes (sommets) consécutifs (ou entre deux fonds (creux) consécutifs)
 : La distance entre deux points qui vibrent de la même manière à un instant donné
 : La distance séparant deux perturbations consécutives

T : Période (**période temporelle**)
 : La durée nécessaire pour parcourir une distance égale à la longueur d'onde λ
 : La durée séparant l'arrivée de deux perturbations successives en un point

$$V = \frac{\lambda}{T} = \lambda \cdot N$$

avec λ : Longueur d'onde en mètre (m)
 T : Période en seconde (s)
 N : Fréquence en Hertz (Hz)
 V : vitesse de propagation en m.s⁻¹



**

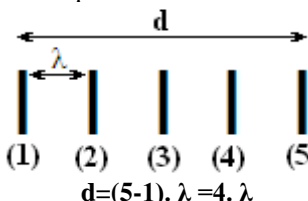
Comment déterminer la longueur d'onde λ ????

Une phrase

Déterminant le nombre de répétition de la période spatiale (λ) ou la période temporelle (T)

Exemple :

d est la distance entre la première et la cinquième crête

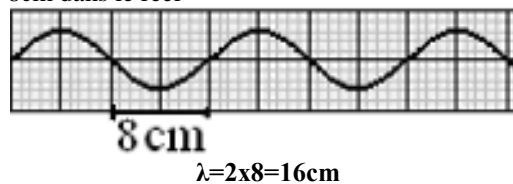


Avec une échelle

? cm/cm ou ?cm/div
 div est la division et représentée par un carré ou un rectangle

Exemple :

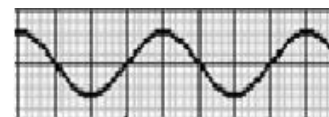
L'échelle $\frac{1}{8}$: chaque cm sur la figure représente 8cm dans le réel



Avec une règle

Echelle authentique (réelle)

Exemple :



**

Comment déterminer l'instant t_1 d'arrivée de l'onde à un point ????

L'onde débute son mouvement de la source (S) et souvent à l'instant $t_0=0$, la figure représente l'aspect de la corde à l'instant t_1

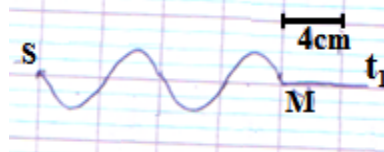
1^{ère} méthode

Par la vitesse $V = \frac{d}{\Delta t}$

$$d = SM = 4 \times 4 = 16 \text{ cm}$$

D'où

$$\Delta t = \frac{d}{V} = t_1 - t_0 = t_1$$



2^{ème} méthode

On détermine le nombre multiple de la longueur d'onde λ dans la distance d

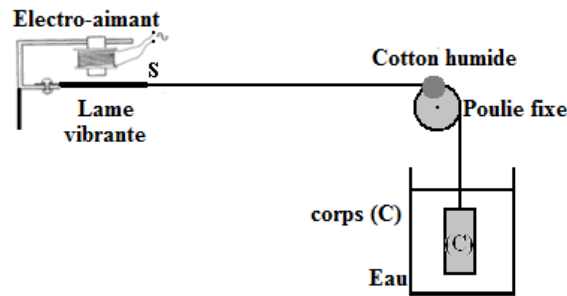
$$\frac{d}{\lambda} = 2 \quad \text{donc} \quad \frac{\Delta t}{T} = 2$$

$$\text{alors} \quad \Delta t = 2 \cdot T = t_1 - t_0 = t_1$$

NB :

$V = \frac{d}{\Delta t} = \frac{\lambda}{T} \cdot d$ où $\frac{d}{\lambda} = \frac{\Delta t}{T} = C^{te} = k$ avec k le nombre de répétition de λ dans la distance d (ou le nombre de répétition de T dans la durée Δt)

PROPAGATION D'UNE ONDE MECANIQUE LE LONG D'UNE CORDE



Rôle de :

- Electro-aimant : pour faire vibrer la lame vibrante
- La lame vibrante : liée à la corde au point (S) la source de l'onde et le point de départ du front de l'onde
- Corde : constitue un milieu matériel et l'onde qui se propage est une onde mécanique
- Coton humide ou l'eau : Pour absorber l'énergie et éviter la réflexion de l'onde

Expression de la vitesse le long d'une corde :

$C = \sqrt{\frac{T}{\mu}}$: vitesse de propagation	avec	T : La tension du fil (N) (souvent C'est le poids du corps (C) accroché au fil)
		$\mu = \frac{M}{L}$: La masse linéaire de la corde (Kg.m^{-1})
		M : La masse de la corde (Kg)
		L : La longueur de la corde (m)

*
**


Comment dessiner l'aspect d'une corde à l'instant t_1 ?????

1. Déterminer M la position de front de l'onde (de préférence calculer la distance SM de la source)
 $d = SM = v \cdot \Delta t = v \cdot (t_1 - t_0)$
2. A l'instant t_1 le front de l'onde arrive au point M (Au-delà du point M tous les points sont immobiles)
M Points immobiles
3. On calcul $\frac{d}{\lambda} = n$ le nombre multiple de λ dans la distance d ou $\frac{\Delta t}{T} = n$ le nombre multiple de T dans la durée Δt
4. Déterminer le mouvement du front de l'onde en se basant sur :

Une phrase

Exemple :
A l'instant $t_0=0$, la source (S) se déplace vers le haut

Une figure donnée




Le premier mouvement qu'effectuera le point M est vers le haut

5. Du point M et vers la source (S) on dessine l'onde (dessiner en Marche arrière)

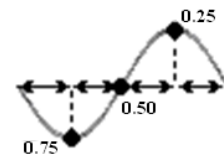
Exemple :

D'après la figure précédente et pour $\frac{d}{\lambda} = 1.75$ on obtient l'aspect suivant



NB :

On divise la période spatiale λ (ou la période temporelle T) en quatre (4) parties égales à $\frac{\lambda}{4} = 0.25 \cdot \lambda$ (Ou $\frac{T}{4} = 0.25 \cdot T$)

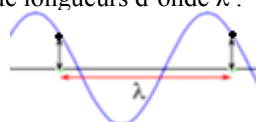


*
**

Comment comparer le mouvement de deux points M1 et M2 ?????

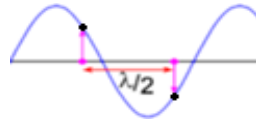
Deux points, M_1 et M_2 d'un milieu à une dimension (corde ressort, ...), vibrent en phase si

- Elles vibrent au même instant et de la même manière $Y(M_1) = Y(M_2)$
- Leur distance d est égale à un nombre entier de longueurs d'onde λ : $d = k \cdot \lambda$, ($k \in \mathbb{N}$)



Deux points, M_1 et M_2 d'un milieu à 1 dimension, vibrent en opposition de phase si

- Elles vibrent en opposition de phase $Y(M_1) = - Y(M_2)$
- Leur distance d est égale à un nombre entier impair de demi-longueurs d'onde λ : $d = (2.k + 1) \cdot \frac{\lambda}{2}$



**** Comment Vibrent deux points ?????**

$$\frac{M_1 M_2}{\lambda} = \frac{d}{\lambda} = \frac{SM_2 - SM_1}{\lambda} = k \text{ Ou bien } \frac{\Delta t}{T} = \Delta t \cdot N = k$$

Si k

$k = \dots, 00$
Un nombre entier naturel
alors les points vibrent en phase

$K = \dots, 50$
Un nombre décimal (... ,50 = ... virgule 50)
alors les points vibrent en opposition de phase

NB :

Pour comparer la source (S) avec un point M du milieu de propagation on calcul $\frac{SM}{\lambda}$

**** Comment calculer le nombre de points qui vibrent phase ?????**



La corde de longueur $L=SA$

1. Déterminer la condition

Dénombrer les points qui vibrent en phase (ou opposition de phase)
 $0 \leq SM \leq L$
La source (S) et le point A sont comprises dans le dénombrement

Dénombrer les points qui vibrent en phase (ou opposition de phase) **avec la source (S)**
 $0 < SM \leq L$
Le point A est compris dans le dénombrement

Dénombrer les points qui vibrent en phase (ou opposition de phase) **avec la source (S) et le point A**
 $0 < SM < L$
La source (S) et le point A ne sont pas dénombrés

2. Préciser l'expression de la distance SM

- En phase : $SM = k \cdot \lambda$
- En opposition de phase : $SM = (2.k + 1) \cdot \frac{\lambda}{2}$

3. Déterminer les valeurs possibles de k

- Le but est d'encadrer k
- Toute valeur possible de k est un point

Exemple : La corde de longueur $L=95\text{cm}$ et la longueur d'onde est $\lambda=10\text{cm}$

Dénombrer les points qui vibrent en phase **avec** la source (S)

- $0 < SM \leq L$
- $0 < k \cdot \lambda \leq L$
- $0 < k \leq \frac{L}{\lambda} = \frac{95}{10} = 9,5$

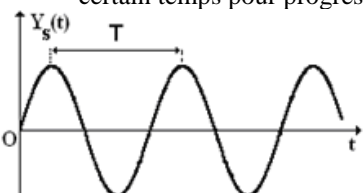
D'où

$k \in \{1,2,3,4,5,6,7,8,9\}$ et en conclusion on as 9 points qui vibrent en phase avec la source

**** Equation horaire d'un point du milieu de propagation ?????**

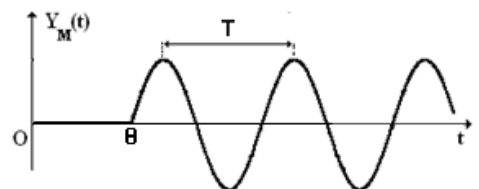
$$Y_M(t) = Y_S(t - \theta)$$

- On détermine la durée θ soit directement $\theta = \dots$ ou on calcule sa valeur $\theta = \frac{SM}{v}$
- La perturbation au point M reproduit la perturbation de la source (S) avec un retard θ , car la perturbation met un certain temps pour progresser de S à M



$Y_S(t)$: Elongation de la source (S)

Une translation de $Y_S(t)$ d'une durée θ et on obtient $Y_M(t)$



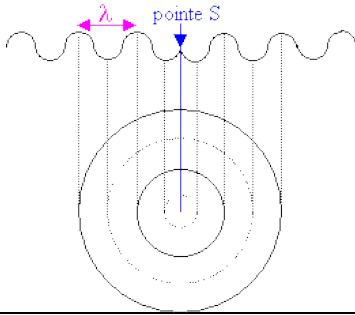
$Y_M(t)$: Elongation de la source (M)

PROPAGATION D'UNE ONDE MECANIQUE SUR LA SURFACE DE L'EAU

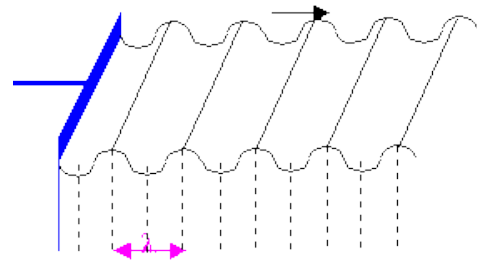
- Le dispositif est constitué d'une cuve horizontale contenant une faible épaisseur d'eau.
- Un générateur à fréquence variable met en mouvement un vibreur qui crée des ondes qui se propagent à la surface de l'eau.
- La forme des ondes obtenues dépend de la forme du vibreur.

On observe sur la surface d'eau

Si le vibreur est une pointe, on obtient des ondes (rides) circulaires.



Si le vibreur est une plaque ou une règle on observe des ondes (rides) rectilignes



**

Comment dessiner une coupe transversale de la surface d'eau

1. Déterminer M la position de front de l'onde (de préférence calculer la distance SM de la source)
 $d=SM=V.\Delta t=V.(t_M-t_0)$
2. A l'instant t_M le front de l'onde arrive au point M (Au-delà du point M tous les points sont immobiles)
3. On calcul $\frac{d}{\lambda} = n$ le nombre multiple de λ dans la distance d ou $\frac{\Delta t}{T} = n$ le nombre multiple de T dans la durée Δt
4. Déterminer le mouvement du front de l'onde en se basant sur :


M Points immobiles

Soit une phrase

Exemple :

A l'instant $t_0=0$, la source (S) se déplace vers le haut

Soit une figure donnée



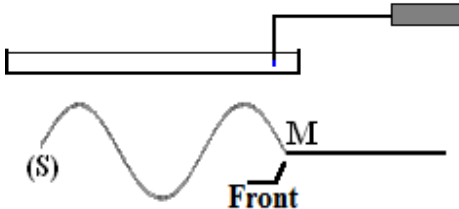
Le premier mouvement qu'effectuera le point M est vers le haut

5. Du point M et vers la source (S) on dessine l'onde (dessiner en Marche arrière)

**

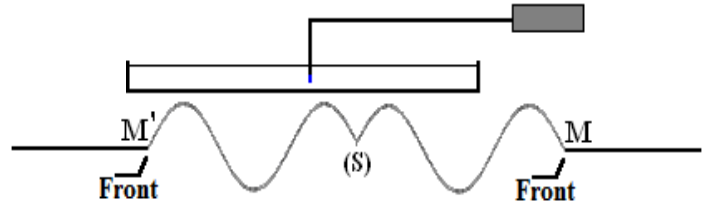
Où est la Source (S) ?????

Sur le côté de la cuve d'onde



L'onde se propage devant la source (S)

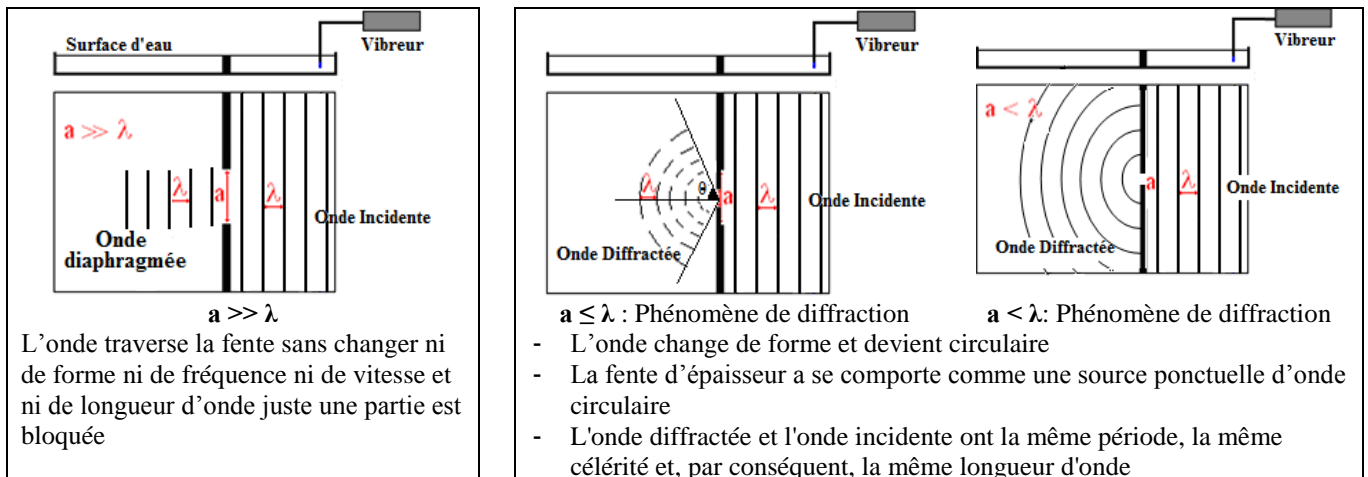
Au milieu de la cuve d'onde



L'onde se propage autour de la source et dans toutes les directions offertes et $SM=SM'$

PHENOMENE DE DIFFRACTION

Une onde plane périodique rencontre un obstacle ou une ouverture ou une fente d'épaisseur a :



Onde diaphragmée :

Onde mécanique progressive périodique se propageant sans modification à travers une ouverture.

Onde diffractée :

Onde mécanique progressive périodique se propageant avec étalement spatial à travers une ouverture

NB :

- $a \leq \lambda$: l'onde est limitée dans une portion angulaire circulaire d'angle θ (angle de diffraction) $\sin(\theta) \approx \theta = \frac{\lambda}{a}$
- Pour une longueur d'onde donnée, la diffraction est d'autant plus importante que la dimension l'ouverture a est faible

MILIEU DISPERSIF

Un milieu est **dispersif** si la vitesse (célérité) de l'onde dans le milieu dépend de la fréquence de la source



LES ONDES SONORES (Ondes acoustiques)

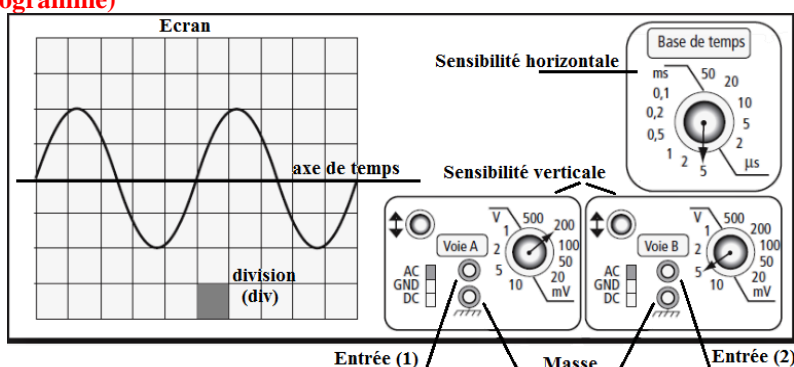
1. Les propriétés du son.

- La propagation d'une onde acoustique dans l'air se fait avec des « tranches d'air » qui subissent, les unes après les autres, des **compressions - dilatations**, autour d'une position moyenne dans la direction de propagation.
- Le son est une onde **progressive, périodique et longitudinale**.
- La propagation d'un son nécessite un milieu matériel.
- Le son ne se propage pas dans le vide.
- Le son transporte de l'énergie.

2. Célérité du son.

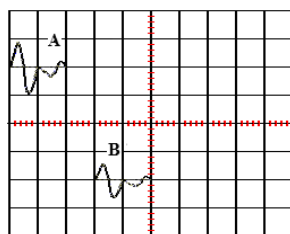
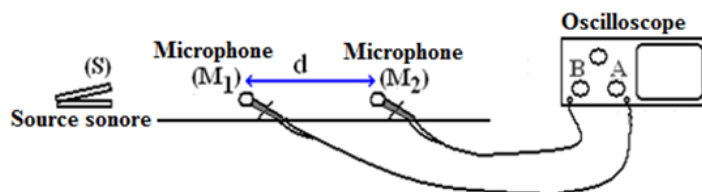
- La célérité du son dépend du milieu de propagation.
- La célérité du son est plus grande dans les solides que dans les liquides et les gaz.
- La vitesse du son dans l'air est 340m/s

3. Oscilloscope (Oscillogramme)



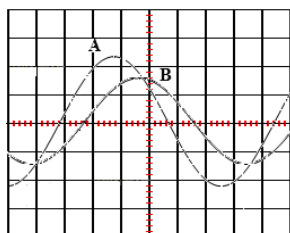
- Un oscilloscope a une masse et plusieurs entrées
- Une entrée est caractérisée par :
 - Une sensibilité verticale (? V/div) ou (? V/cm)
 - Une sensibilité horizontale (? ms/div) ou (? ms/cm)
- Au moyen d'un oscilloscope on peut déterminer :
 - Les tensions maximales
 - La période T
- La durée (ou le décalage horaire) $\tau = \Delta t$ entre deux tensions

Exemples :



Sensibilité verticale : 2ms/dv

$$\Delta t = 3 \times 2 = 6 \text{ ms}$$



Sensibilité verticale : 5ms/dv

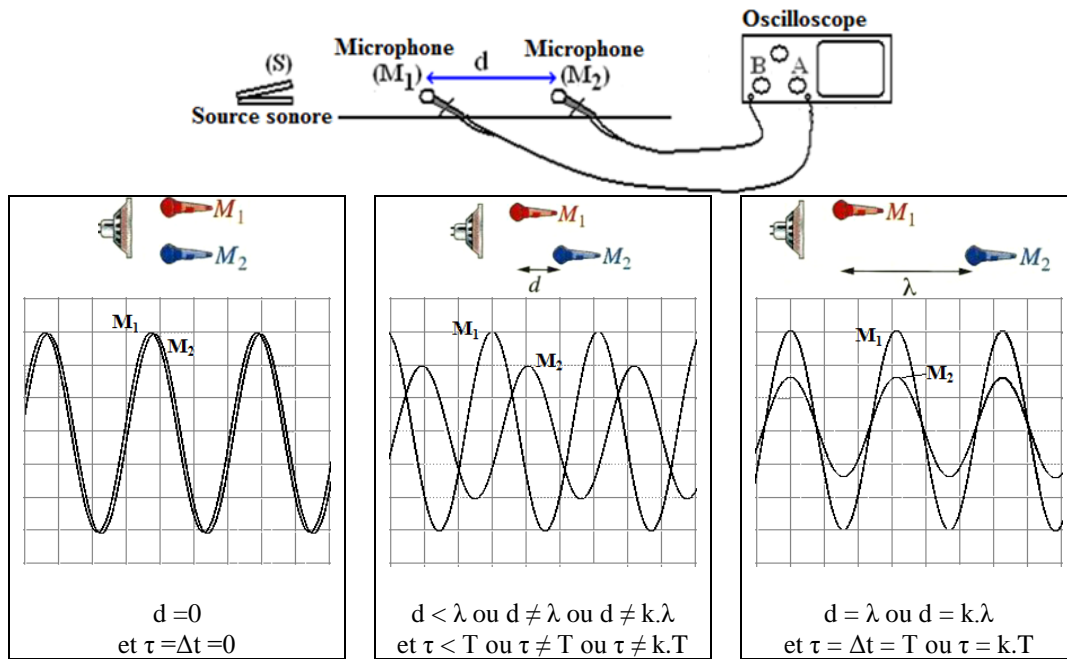
$$\Delta t = 1 \times 5 = 5 \text{ ms}$$

$$T = 8 \times 5 = 40 \text{ ms}$$

NB :

L'intensité acoustique diminue quand on s'éloigne de la source sonore.

Exemples :



En éloignant le microphone M_2 de la source on constate que :

- La courbe de M_2 s'est décalée de la courbe de M_1
- L'amplitude de la courbe de microphone M_2 a diminué
- La distance entre les deux microphones est $d = V \cdot \tau = V \cdot \Delta t = M_1 M_2 = SM_2 - SM_1$, avec $\tau = \Delta t$ le retard temporelle

Si le microphone M_2 s'est déplacé de λ ou $k \cdot \lambda$ alors les deux courbes seront en phases

λ : La distance minimale entre les deux microphones pour observer les deux tensions en phase .

NB :

- Des mots tel **lentement, de nouveau, pour la premier fois ...** laissent penser à λ la longueur d'onde ou à T la période autrement à deux tensions en phases
- L'air est un milieu non dispersif des ondes sonores vu que toutes les notes musicales sont entendues au même moment malgré qu'elles ont des fréquences différentes

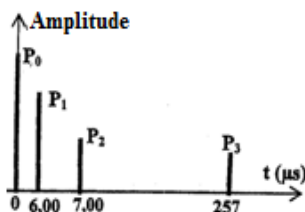
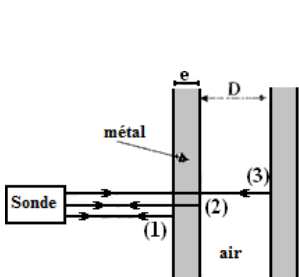
4. La sonde

La sonde émis un son à un instant t_0 et capte le son réfléchi par un obstacle, placé à une distance d de la source, à un instant t et la durée $\Delta t = t - t_0$ est la durée nécessaire pour parcourir la distance $2 \cdot d$ (aller-retour)

$$V = \frac{2 \cdot d}{\Delta t}$$

Exemples :

- Mesurer l'épaisseur e et le diamètre D d'un tube cylindrique



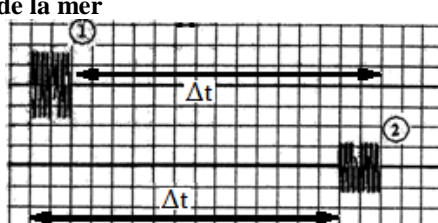
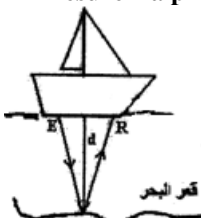
P_0 : correspond à l'instant $t_0=0$ d'émission de l'onde
 P_1 : correspond à l'instant de réception de l'onde réfléchi (1)
 P_2 : correspond à l'instant de réception de l'onde réfléchi (2)
 P_3 : correspond à l'instant de réception de l'onde réfléchi (3)

$$V_1 = \frac{2 \cdot e}{\Delta t_1} \text{ et } V_2 = \frac{2 \cdot D}{\Delta t_2}$$

$$\Delta t_1 = 7.00 - 6.00 = 1.00 \mu s$$

$$\Delta t_2 = 257.00 - 7.00 = 250.00 \mu s$$

- Mesurer la profondeur de la mer



La sensibilité horizontale est : $2 \mu s / \text{div}$

$$V = \frac{2 \cdot d}{\Delta t}$$

$$\Delta t_2 = 15 \times 2 \mu s = 30 \mu s$$

ONDES LUMINEUSES

- L'onde lumineuse résulte de la propagation d'une perturbation électromagnétique dans les milieux transparents.
- Les ondes lumineuses périodiques sont appelées des radiations.
- La lumière peut se propager dans le vide : La lumière est une onde électromagnétique (n'est pas une onde mécanique).
- **Lumière monochromatique** : lumière constituée d'une seule radiation lumineuse d'une longueur d'onde correspondant à une couleur (lumière émise par un laser).
- **Lumière polychromatique** : lumière constituée d'un ensemble de lumières monochromatiques de fréquences différentes.

❖ Longueur d'onde et fréquence d'une radiation lumineuse.

Une radiation lumineuse est caractérisée par :

- Sa fréquence ν (en Hz) ou sa période T (en s).
- Sa longueur d'onde dans le vide λ_0 .

NB :

- la fréquence ν d'une radiation lumineuse ne dépend pas du milieu de propagation
- alors que la longueur d'onde λ dépend du milieu de propagation.

❖ Relation fondamentale :

La longueur d'onde dans le vide λ_0 d'une radiation lumineuse est donnée par la relation :

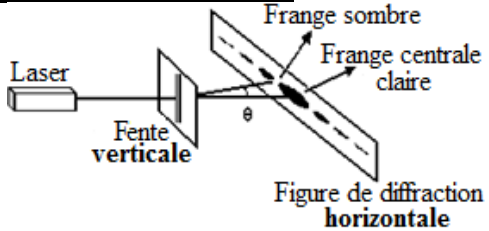

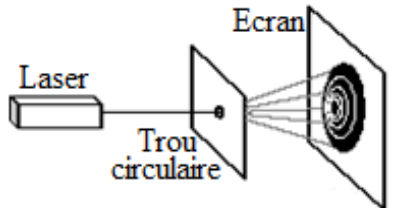

$$\lambda_0 = c \cdot T = \frac{c}{\nu} \quad \text{avec} \quad \begin{array}{l} \lambda_0 : \text{Longueur d'onde dans le vide (m)} \\ c : \text{Vitesse de la lumière dans le vide (m/s)} \\ \nu : \text{Fréquence de la radiation lumineuse (Hz)} \\ T : \text{Période de la radiation (s)} \end{array}$$

DIFFRACTION DE LA LUMIERE

Diffraction de la lumière : modification du trajet de la lumière et de l'intensité lumineuse lorsque la lumière passe par une ouverture ou autour d'un obstacle.

Un faisceau lumineux incident sur une fente ou un trou

On observe

<p>Sur une fente très fine ou un fil très fin</p>  <p style="text-align: center;">Figure de diffraction horizontale</p> <p>La fente est perpendiculaire à la direction de la figure de diffraction</p>  <p style="text-align: center;">Frange centrale est claire</p> <ul style="list-style-type: none"> - La figure de diffraction est constituée d'une tache centrale et de taches secondaires situées symétriquement par rapport à la tache centrale. - La tache centrale est très lumineuse - La luminosité et la largeur diminuent lorsqu'on s'éloigne de la tache centrale. 	<p>Sur un trou fin et circulaire</p>  <p style="text-align: center;">Ecran</p>  <ul style="list-style-type: none"> - La tâche de diffraction constituée d'anneaux ou de franges colorés. - La tache centrale est très lumineuse - La luminosité et la largeur diminuent lorsqu'on s'éloigne de la tache centrale.
--	---

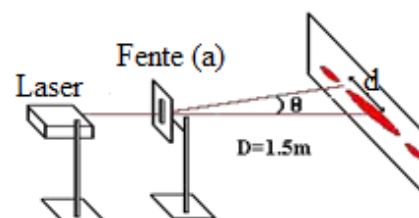
- La diffraction est d'autant plus marquée que la largeur de la fente est faible.

NB :

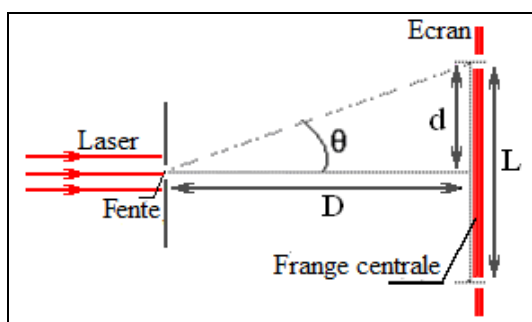
- La largeur L de la tache centrale est d'autant plus importante que :
 - La longueur d'onde λ de la radiation est importante
 - La largeur a de la fente est faible

Relation de diffraction :

$$\theta = \frac{\lambda}{a} \quad \text{avec} \quad \begin{array}{l} \lambda : \text{Longueur d'onde (m)} \\ a : \text{Largeur (diamètre) de la fente (m)} \\ \theta : \text{Ecart angulaire (rad)} \end{array}$$



L'écart angulaire θ , est l'angle entre le centre de la tache centrale et le centre de la première tache sombre (extinction) ou c'est le demi-diamètre angulaire de la tache centrale.



d : le rayon de la frange (tache) centrale
 $L=2.d$: la largeur (diamètre) de la tache centrale

$$\tan(\theta) \approx \frac{d}{D} = \frac{L}{2.D}$$

θ étant faible alors

$$\theta = \frac{d}{D} = \frac{L}{2.D}$$

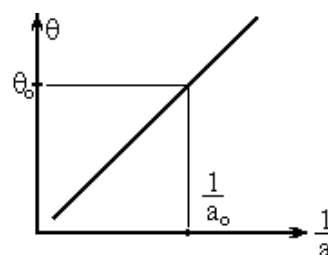
$$\text{Or } \theta = \frac{\lambda}{a}, \text{ on en conclut } \theta = \frac{d}{D} = \frac{L}{2.D} = \frac{\lambda}{a}$$

NB :

$$\theta = \frac{\lambda}{a} = \lambda \cdot \frac{1}{a}$$

La fonction $\theta = f\left(\frac{1}{a}\right)$ est une fonction linéaire dont le coefficient directeur est la longueur d'onde


$$\lambda = \frac{\theta_0}{\frac{1}{a_0}}$$

**NB :**

- Les conditions de la diffraction :
 - Le diamètre de la fente soit faible
 - La lumière soit monochromatique
- Le phénomène de la diffraction montre que la lumière est une onde

La lumière visible

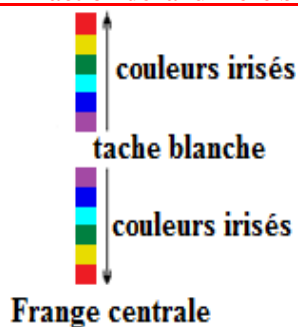
- On caractérise une radiation lumineuse par sa longueur d'onde dans le vide.
- Le domaine de radiations lumineuses visibles s'étend de 400 nm (violet) à 780 nm (rouge), ($400 \text{ nm} \leq \lambda \leq 780 \text{ nm}$)



La radiation rouge a :

- La plus grande longueur d'onde λ
- Le plus grand écart angulaire $\theta = \frac{\lambda}{a}$
- Le plus grand diamètre de la tache centrale $L = \frac{2.D.\lambda}{a}$
- Le plus faible coefficient de diffraction n

Diffraction de la lumière blanche



- La lumière blanche est une lumière polychromatique composée de toutes les lumières visibles.
- La figure de diffraction obtenue présente une tache centrale blanche (superposition de toutes les lumières colorées visibles) et des taches latérales irisées (multicolorées) bordées de rouge d'un côté et de violet de l'autre.
- Le diamètre de la tache blanche est le même que celui de la tache violette

RÉFRACTION : LE PRISME

Réfraction : changement de direction de la lumière lors de la traversée d'un milieu transparent vers un autre milieu transparent.

1. Lois de Descartes

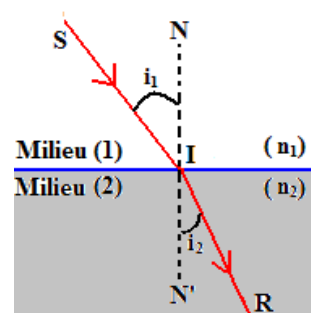
1^{ère} Loi :

Le rayon réfracté, le rayon incident et la normale (à la surface réfractante) sont dans un même plan, le plan d'incidence.

2^{ème} Loi :

La relation liant les indices de réfraction n_1 et n_2 de chacun des milieux et les angles incident i_1 et réfracté i_2 s'écrit :

$$n_1 \cdot \sin(i_1) = n_2 \cdot \sin(i_2) \quad \text{avec} \quad \begin{array}{l} n_1 : \text{indice de réfraction du milieu (1)} \\ n_2 : \text{indice de réfraction du milieu (2)} \\ i_1 : \text{angle d'incidence} \\ i_2 : \text{angle de réfraction} \end{array}$$



NB :

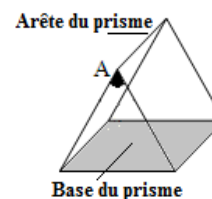
- Le rayon incident et le rayon réfracté sont situés de part et d'autre de la normale.
- Les angles sont définis entre les rayon lumineux et la normale
- Un milieu est d'autant plus réfractant que l'indice de réfraction est élevé et l'angle dans ce milieu est faible
- $n_2 > n_1$: le milieu (2) est plus réfractant que le milieu (1) et $i_1 > i_2$
- $n > 1$ et $n_{\text{air}} = 1$: indice de réfraction dans l'air et l'angle dans l'air est toujours la plus importante

Remarques :

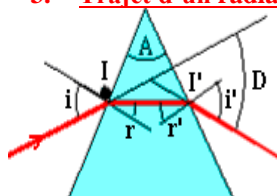
On sait que $n = \frac{c}{V}$ avec C : La vitesse de la lumière dans le vide (l'air) et V : la vitesse de la lumière dans un milieu donné et $\lambda = \frac{V}{N}$ avec N : la fréquence, on conclut alors que $n_{2/1} = \frac{n_2}{n_1} = \frac{\sin(i_1)}{\sin(i)} = \frac{\lambda_1}{\lambda_2} = \frac{V_1}{V_2}$

2. Prisme

Un prisme d'indice (n) est un milieu transparent et homogène limité par deux plans non parallèles faisant un angle A (Angle au sommet) et qui se coupent suivant une droite qui est l'arête du prisme.



3. Trajet d'un radiation Lumineuse :

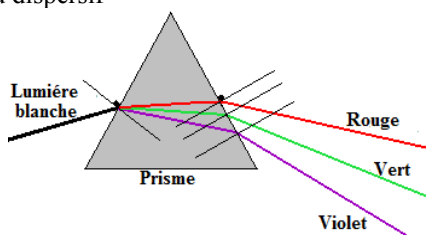


- avec
- A: Angle au sommet du prisme
 - i : Angle d'incidence sur la 1^{ère} face ou angle d'incidence sur le prisme
 - r : Angle de réfraction sur la 1^{ère} face
 - r' : Angle d'incidence sur la 2^{ème} face
 - i' : Angle de réfraction sur la 2^{ème} face ou angle d'émergence sur le prisme
 - D: Angle de déviation et c'est l'angle entre la direction de rayon lumineux incident et la direction du rayon lumineux émergeant du prisme

4. Formules (Relations) du prisme :

- 1) $\sin(i) = n \cdot \sin(r)$
- 2) $\sin(i') = n \cdot \sin(r')$
- 3) $A = r + r'$
- 4) $D = (i + i') - A$

- $n = \frac{c}{v} = \frac{c}{\lambda \cdot N}$: l'indice de réfraction du prisme dépend de la longueur d'onde λ de la radiation lumineuse incidente donc de sa vitesse d'où le prisme est un milieu dispersif



Comment exploiter les relations du prisme

1: Données le triplet (i, A, n), l'angle d'incidence i , l'angle au sommet A et n l'indice de réfraction du prisme
Souvent on suit l'enchaînement **1324**

- 1) $\sin i = n \sin r$ On calcul $\sin r = \frac{\sin i}{n}$ d'où $r = \dots$
- 3) $A = r + r'$ $r' = A - r = \dots$
- 2) $\sin i' = n \sin r'$ $\sin i' = \dots$
- 4) $D = (i + i') - A$ Donc $D = \dots$

2: Données le triplet (i', A, n), l'angle d'émergence i' , l'angle au sommet A et n l'indice de réfraction du prisme
Souvent on suit l'enchaînement **2314**

3 : Cas particuliers

Déterminer le cas particulier	Cas :1	Cas :2	Cas :3
	Si $i = i'$	Incidence normale $i = 0$ 	Emergence normale $i' = 0$
Conclusion	Alors $r = r'$	$r = 0$ Tout rayon lumineux incident normalement à la surface du prisme ne dévie pas	$r' = 0$ Tout rayon lumineux émergent normalement de la surface du prisme est le prolongement d'un incident normalement sur la même surface
Remplacer dans 3) $A = r + r'$ 4) $D = (i + i') - A$	3) $A = r + r'$ $= 2r = 2r'$ 4) $D = (i + i') - A$ $= 2i - A$ $= 2i' - A$	3) $A = r + r'$ $= r'$ 4) $D = (i + i') - A$ $= i' - A$	3) $A = r + r'$ $= r$ 4) $D = (i + i') - A$ $= i - A$
Conclure i et r Ou i' et r' en fonction de A et/ou D	$r = r' = \frac{A}{2}$ $i = i' = \frac{A + D}{2}$	$r' = A$ $i' = A + D$	$r = A$ $i = A + D$
Exploiter dans 1) $\sin i = n \sin r$ Ou 2) $\sin i' = n \sin r'$	$n = \frac{\sin i}{\sin r} = \frac{\sin\left(\frac{A + D}{2}\right)}{\sin\left(\frac{A}{2}\right)}$	(2) $n = \frac{\sin i'}{\sin r'} = \frac{\sin(A + D)}{\sin(A)}$	(1) $n = \frac{\sin i}{\sin r} = \frac{\sin(A + D)}{\sin(A)}$

4 : On peut se servir des fonctions trigonométriques suivantes :

$$\begin{aligned}\cos(a+b) &= \cos a \cdot \cos b - \sin a \cdot \sin b \\ \cos(a-b) &= \cos a \cdot \cos b + \sin a \cdot \sin b\end{aligned}$$

$$\begin{aligned}\sin(a+b) &= \sin a \cdot \cos b + \cos a \cdot \sin b \\ \sin(a-b) &= \sin a \cdot \cos b - \cos a \cdot \sin b\end{aligned}$$

Exemples :• **Cas d'incidence normale**

On a obtenu $n = \frac{\sin i'}{\sin r'} = \frac{\sin(A+D)}{\sin(A)}$ alors :

$$n = \frac{\sin i'}{\sin r'} = \frac{\sin(A+D)}{\sin(A)} = \frac{\sin(A) \cdot \cos(D) + \cos(A) \cdot \sin(D)}{\sin(A)} = \cos(D) + \frac{\sin(D)}{\tan(A)} = \sin(D) \left(\frac{1}{\tan(D)} + \frac{1}{\tan(A)} \right)$$

• **Montrer que :**

$$\tan(A) = \frac{\tan(r) + \tan(r')}{1 - \tan(r) \cdot \tan(r')}$$

On as

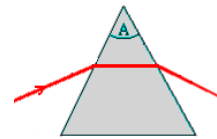
$$\tan(A) = \frac{\sin(A)}{\cos(A)} = \frac{\sin(r+r')}{\cos(r+r')} = \frac{\sin(r) \cdot \cos(r') + \cos(r) \cdot \sin(r')}{\cos(r) \cdot \cos(r') - \sin(r) \cdot \sin(r')}$$

On met en facteur $\cos(r) \cdot \cos(r')$

$$\tan(A) = \frac{\cos(r) \cdot \cos(r') \cdot \left(\frac{\sin(r) \cdot \cos(r') + \cos(r) \cdot \sin(r')}{\cos(r) \cdot \cos(r')} \right)}{\cos(r) \cdot \cos(r') \cdot \left(1 - \frac{\sin(r) \cdot \sin(r')}{\cos(r) \cdot \cos(r')} \right)} = \frac{\tan(r) + \tan(r')}{1 - \tan(r) \cdot \tan(r')}$$

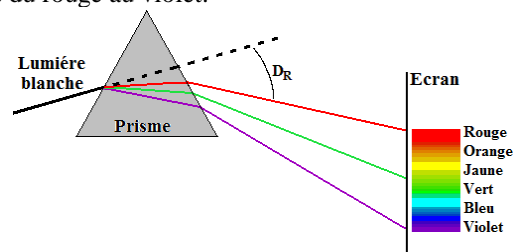
PHENOMENE DE DEFRACTION ET DE DISPERSION**Réfraction de la lumière**

- Le prisme dévie la radiation incidente
- Les deux radiations incidente et émergente ont la même longueur d'onde

**Dispersion de la lumière blanche**

Dispersion de la lumière : décomposition de la lumière polychromatique en ses différents composants monochromatiques

- Le prisme dévie et décompose la lumière blanche en lumières colorées du rouge au violet.
- L'ensemble des couleurs constitue le spectre de la lumière blanche.
- Le spectre est continu du rouge au violet

**NB :**

- La radiation rouge est caractérisée par
 - Une longueur d'onde la plus élevée dans le visible
 - Un indice de réfraction est le plus faible
- La radiation rouge est donc
 - La plus dévié par rapport à la normale
 - La moins dévié par rapport au rayon incident commun
- L'angle de déviation de la radiation rouge est le plus faible

La lumière :

- Se diffracte (Phénomène de diffraction) alors La lumière est une onde
- Se propage dans le vide alors La lumière est une onde électromagnétique (n'est pas mécanique)
- Se réfracte (Phénomène de réfraction) alors La lumière est mono ou polychromatique
- Se disperse (Phénomène de dispersion) alors La lumière est polychromatique

LA RADIOACTIVITÉ

1. Composition du noyau d'un atome.

- Le noyau de l'atome est 100 000 fois plus petit que l'atome.
- De plus, il rassemble pratiquement toute la masse de l'atome.
- Le noyau est constitué de particules appelées nucléons (les protons et les neutrons).
- Le noyau est représenté par A_ZX avec
 - A : Le nombre de nucléons aussi le nombre de masse
 - Z : Le nombre de protons aussi Le nombre de charges
 - N : Le nombre de neutrons, $N=A - Z$

2. Nucléides :

- **Nucléide** : ensemble d'atomes de noyaux identiques
- L'ensemble des noyaux ayant le même nombre Z de protons et le même nombre de neutrons N et de symbole A_ZX

3. Masse d'un noyau.

- On utilise une unité adaptée à la physique nucléaire : l'unité de masse atomique (u).
- L'unité de masse atomique u est le un (1) douzième ($\frac{1}{12}$) de la masse du carbone 12. $1.u=1,66 \times 10^{-27} \text{kg}$.
- La masse d'un noyau A_ZX est voisine de A en unité atomique.
- Un nucléon étant environ 1850 fois plus lourd qu'un électron, la masse d'un noyau est voisine de celle de l'atome correspondant.

4. Isotopie.

Isotopes : des noyaux possédant le même symbole chimique, le même nombre de protons, mais des nombres de neutrons différents (des nombres de nucléons A différents).

Exemple :

${}^{16}_8\text{O}$ (Abondance : 99,76%), ${}^{17}_8\text{O}$ (0,04%), ${}^{18}_8\text{O}$ (0,2%) des isotopes de l'élément oxygène mais sont 3 nucléides différents

5. Noyau radioactif (ou noyau instable)

Un noyau radioactif (appelé noyau-père) est un noyau instable qui se désintègre spontanément en donnant un noyau différent plus stable (appelé noyau-fils) avec émission d'une ou plusieurs particules

6. Stabilité et instabilité des noyaux : diagramme (N, Z) (Diagramme de Ségré)

Diagramme de Ségré, permet de distinguer deux familles de noyaux :

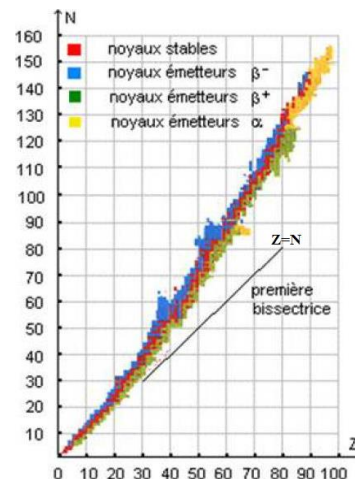
a - Noyaux stables :

- Certains noyaux gardent indéfiniment la même composition : ce sont des noyaux stables.
- Pour $Z < 20$, les noyaux stables se situent **au voisinage** de la droite d'équation $N = Z$. Ils comportent à peu près autant de protons que de neutrons.
 - Pour $Z > 20$, le nombre de neutrons augmente plus vite que le nombre de protons ; les points se répartissent **au-dessus** de la droite $N=Z$

b - Noyaux instables :

L'instabilité du noyau a lieu si :

- Le noyau-père possède trop de neutrons par rapport au nombre de protons.
- Le noyau-père possède trop de protons par rapport au nombre de neutrons.
- Le noyau-père possède un grand nombre de nucléons ($A > 208$).



7. LA RADIOACTIVITÉ

1° Définition.

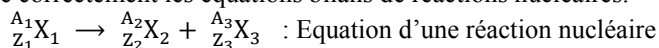
La radioactivité est une transformation naturelle, spontanée et imprévisible d'un noyau A_ZX instable en un noyau A_ZY plus stable avec l'émission d'une ou de plusieurs particules (α et β et souvent d'un rayonnement γ)

NB : Les désintégrations radioactives sont :

- **Aléatoires** (impossible d'en prévoir l'instant) ;
- **Spontanées** (sans intervention extérieure) ;
- **Inéluctables** (impossible d'empêcher le processus) ;
- Indépendantes des paramètres de pression et de température.

2° Lois de conservation (Lois de SODDY).

- Les réactions nucléaires obéissent à deux lois de conservation :
 - * conservation de la charge électrique (Conservation de Z nombre de proton) ;
 - * conservation du nombre de nucléons (Conservation de A nombre de nucleon).
- Elles permettent d'écrire correctement les équations bilans de réactions nucléaires.



a - Loi de conservation du nombre de charge .

La somme des nombres de charge du noyau-fils et de la particule qui sont formés est égale au nombre de charge du noyau désintégré (noyau-père).

$$Z_1 = Z_2 + Z_3$$

b - Loi de conservation du nombre de nucléons.

La somme des nombres de nucléons du noyau-fils et de la particule qui sont formés est égale au nombre de nucléons du noyau désintégré (noyau-père).

$$A_1 = A_2 + A_3$$

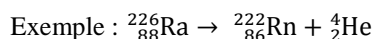
3° Les différentes désintégrations nucléaires :

3.1. Radioactivité α :

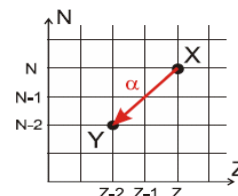
Définition :

La radioactivité α une transformation naturelle et spontanée d'un noyau ${}_{Z}^AX$ instable en un noyau ${}_{Z-2}^{A-4}Y$ plus stable avec émission d'un noyau d'Hélium ${}_{2}^4\text{He}$

Equation : ${}_{Z}^AX \rightarrow {}_{Z-2}^{A-4}Y + {}_{2}^4\text{He}$



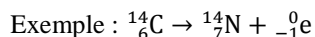
La radioactivité α concerne les noyaux lourds instables à cause d'un excès de nucléons. Elle se traduit par l'émission d'une particule α (noyau d'hélium ${}_{2}^4\text{He}$).



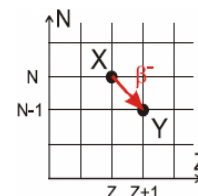
3.2. Radioactivité β^-

La radioactivité β^- une transformation naturelle et spontanée d'un noyau ${}_{Z}^AX$ instable en un noyau ${}_{Z+1}^AY$ plus stable avec émission d'un électron ${}_{-1}^0e$

Equation : ${}_{Z}^AX \rightarrow {}_{Z+1}^AY + {}_{-1}^0e$



La radioactivité β^- concerne les noyaux instables à cause d'un excès de neutrons. Elle se traduit par l'émission d'un électron.



Mécanisme (ou Explication) :

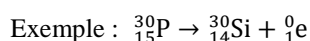
Au cours de la transformation β^- , et **dans le noyau** :

- Le nombre de nucléon A reste constante par contre le nombre de proton augmente d'une unité et le nombre de neutron diminue d'une unité
- **Un neutron s'est transformé en un proton avec émission d'un électron :** ${}_{0}^1n \rightarrow {}_{1}^1p + {}_{-1}^0e$ ou ${}_{0}^1n \rightarrow {}_{1}^1\text{H} + {}_{-1}^0e$

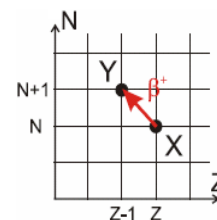
3.3. Radioactivité β^+

La radioactivité β^+ une transformation naturelle et spontanée d'un noyau ${}_{Z}^AX$ instable en un noyau ${}_{Z-1}^AY$ plus stable avec émission d'un positron ${}_{1}^0e$

Equation : ${}_{Z}^AX \rightarrow {}_{Z-1}^AY + {}_{1}^0e$



La radioactivité β^+ concerne les noyaux instables à cause d'un excès de protons. Elle se traduit par l'émission d'un positon



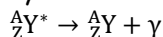
Mécanisme (ou Explication) :

Au cours de la transformation β^+ , et **dans le noyau** :

- Le nombre de nucléon A reste constante par contre le nombre de proton diminue d'une unité et le nombre de neutron augmente d'une unité
- **Un proton s'est transformé en un neutron avec émission d'un positron :** ${}_{1}^1p \rightarrow {}_{0}^1n + {}_{1}^0e$ ou ${}_{1}^1\text{H} \rightarrow {}_{0}^1n + {}_{1}^0e$

3.4. Emission γ

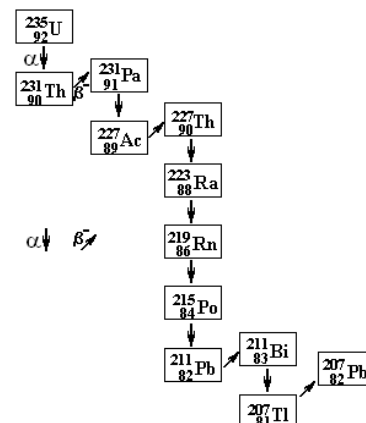
Le noyau issu d'une désintégration α ou β est souvent dans un état instable (état excité). Il devient stable en libérant l'excédent d'énergie sous la forme d'un rayonnement électromagnétique, le rayonnement γ .



4° Famille radioactive :

Une famille radioactive est une suite de nucléides descendant d'un même noyau, le noyau père, par une suite de désintégrations successives jusqu'à l'obtention d'un noyau stable.

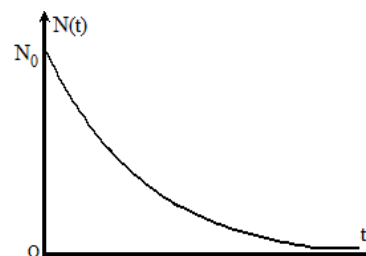
Exemple : La famille de l'Uranium ${}^{235}\text{U}$



8. LOI DE DECROISSANCE RADIOACTIVE

- La loi d'évolution du nombre N de noyaux radioactifs présents en fonction du temps
- La loi de décroissance radioactive est : $N(t) = N_0 \cdot e^{-\lambda t}$

$$N(t) = N_0 \cdot e^{-\lambda t} \quad \text{Avec} \quad \begin{array}{l} N_0 \text{ est le nombre de noyaux présents à la date } t=0 \\ N(t) \text{ le nombre de noyaux encore présents à l'instant } t. \\ \lambda \text{ (s}^{-1}\text{) une constante radioactive} \end{array}$$



❖ Autres expressions de la loi de décroissance radioactive

$$m = m_0 \cdot e^{-\lambda t} \quad \text{avec} \quad \begin{array}{l} m_0 : \text{masse de l'échantillon présents à la date } t=0 \\ m : \text{masse de l'échantillon présents à l'instant } t \end{array}$$

$$n = n_0 \cdot e^{-\lambda t} \quad \text{avec} \quad \begin{array}{l} n_0 : \text{Quantité de matière de l'échantillon présents à la date } t=0 \\ n : \text{Quantité de matière de l'échantillon présents à l'instant } t \end{array}$$

❖ La constante radioactive.

- Chaque nucléide radioactif est caractérisé par une constante radioactive λ , qui est la probabilité de désintégration d'un noyau par unité de temps.
- Elle s'exprime en s^{-1} .
- La constante λ ne dépend que du nucléide et est indépendante du temps, des conditions physiques et chimiques.
- $\tau = \frac{1}{\lambda}$: la constante de temps, s'exprime en (s)

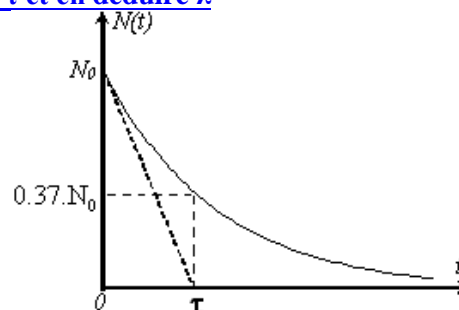
** Comment déterminer graphiquement τ et en déduire λ

$$N(t) = N_0 \cdot e^{-\lambda t} = N_0 \cdot e^{-\frac{t}{\tau}}$$

À instant $t = \tau$ on a $N(\tau) = N_0 \cdot e^{-1}$ donc $N(\tau) = 0.37 \cdot N_0$

$$\text{Ou } \frac{N(\tau)}{N_0} = 0.37 = 37\%$$

On repère sur l'axe $N(t)$ le point $N(\tau)$ et après projections sur l'axe des temps on détermine τ et on peut en déduire $\lambda = \frac{1}{\tau}$



❖ Demi-vie.

La demi-vie ($t_{1/2}$) ou période radioactive :

- Est une caractéristique d'un nucléide
- C'est la durée correspondant à la désintégration de la moitié des noyaux radioactifs présents dans l'échantillon.
- Elle s'exprime en seconde (s).

$$\text{A } t_{1/2}, \text{ on a : } N\left(\frac{t_1}{2}\right) = \frac{N_0}{2} \quad \text{d'où} \quad t_{1/2} = \frac{\ln(2)}{\lambda} = \frac{0.693}{\lambda}$$

** Comment déterminer la relation $\ln(2) = \lambda \cdot t_{1/2}$

- A partir de la définition : à $t = t_{1/2}$, on a : $N\left(\frac{t_1}{2}\right) = \frac{N_0}{2}$
- On remplace dans la loi de décroissance radioactive $N(t) = N\left(\frac{t_1}{2}\right) = \frac{N_0}{2} = N_0 \cdot e^{-\lambda t_{1/2}}$ et on obtient $\frac{N}{N_0} = \frac{1}{2} = e^{-\lambda t_{1/2}}$
- Avec le logarithme népérien on a $\ln\left(\frac{N}{N_0}\right) = \ln\left(\frac{1}{2}\right) = -\ln(2) = -\lambda \cdot t_{1/2}$ d'où $\ln(2) = \lambda \cdot t_{1/2}$

** Comment Exploiter la loi de décroissance radioactive

$$N = N_0 \cdot e^{-\lambda t}$$

N_0 : le nombre de noyaux présents à la date $t=0$ $N(t)$: le nombre de noyaux encore **présents** à l'instant t .
 $N'(t)$: le nombre de noyaux encore **desintégrés** à l'instant t .
 $N_0 = N(t) + N'(t)$

1)	$N = N_0 \cdot e^{-\lambda t}$
2)	$\frac{N}{N_0} = e^{-\lambda t}$
3)	$\ln\left(\frac{N}{N_0}\right) = -\lambda \cdot t$

Déterminer $t_{1/2}$ la demi vie
à $t = t_{1/2}$, on a : $N\left(\frac{t_1}{2}\right) = \frac{N_0}{2}$
et $\frac{N}{N_0} = \frac{1}{2} = e^{-\lambda t_{1/2}}$
 $\ln\left(\frac{1}{2}\right) = -\lambda \cdot t_{1/2}$ et $\ln(2) = \lambda \cdot t_{1/2}$

4) Exploiter la relation $\ln(2) = \lambda \cdot t_{1/2}$ pour définir t par exemple
 $\ln\left(\frac{N}{N_0}\right) = -\lambda \cdot t = \frac{\ln(2)}{t_{1/2}} \cdot t$
et par suite définir t
 $t = -\frac{\ln\left(\frac{N}{N_0}\right)}{\ln(2)} \cdot t_{1/2}$

$$N_0 = N(t) + N'(t)$$

En divisant par N_0 On obtient $\frac{N}{N_0} + \frac{N'}{N_0} = 1$

** Comment déterminer $\frac{N}{N_0}$ le quotient présent

1. Pourcentage : 25%, 65%

Exemple :

La désintégration de 30% alors reste 70% et le quotient présent $\frac{N}{N_0} = 70\% = \frac{70}{100} = 0.70$

2. Quotient : Le quart ($\frac{1}{4}$), le tiers ($\frac{1}{3}$),

Exemple :

La désintégration du tiers ($\frac{1}{3}$) de l'échantillon radioactif alors reste ($\frac{2}{3}$) et le quotient présent $\frac{N}{N_0} = \frac{2}{3}$

3. Une phrase déterminant N ou N' , en fonction de N0

soit

- N : le nombre de noyaux présents
- N' : le nombre de noyaux désintégrés

$$\underline{N=f(N_0) \text{ ou } N'=f(N_0)}$$

Exemple :

La désintégration de $\frac{N_0}{4}$ alors reste $N = \frac{3}{4}N_0$ et le quotient présent $\frac{N}{N_0} = \frac{3}{4}$

NB :

$m = N \cdot m_1$ avec
 m : masse d'un échantillon de particules (g)
 N : nombre de particules dans la masse m
 m_1 : masse d'une particule (u)

$M = N_A \cdot m_1$ avec
 M : masse molaire ($\text{g} \cdot \text{mol}^{-1}$)
 N_A : Nombre d'Avogadro (mol^{-1})
 m_1 : masse d'une particule (u)

$n = \frac{N}{N_A} = \frac{m}{M}$	avec	n : quantité de matière ou nombre de mol (mol) M : masse molaire (g.mol ⁻¹) N _A : Nombre d'Avogadro (mol ⁻¹) m : masse d'un échantillon de particules (g) N : nombre de particules dans la masse m
-----------------------------------	------	--

** Exploiter N' le nombre de noyaux désintégrés et N_Y le nombre de noyaux résultants

La Relation entre N₀ le nombre de particules initiales, N(t) le nombre de particules présents et N'(t) le nombre de particules désintégrés d'un noyau X, **N₀ = N(t) + N'(t)**

Le noyau X se désintègre en un noyau Y avec émission d'une ou de plusieurs particules
X → Y + une ou plusieurs particules

On admet que **un noyau Y** résulte juste **d'un noyau X** donc N'(t) le nombre de noyau désintégrés de X est équivalent à N_Y(t) le nombre de noyau formés de Y

$$N'(t) = N_Y(t) \quad \text{d'où} \quad N_0 = N(t) + N_Y(t) = N + N_Y$$

$$\frac{N_0}{N} = \frac{N + N_Y}{N} = 1 + \frac{N_Y}{N} = e^{\lambda t}$$

❖ Activité d'un échantillon.

$$a = a(t) = -\frac{dN}{dt}$$

a(t) = A(t) : L'activité d'un échantillon radioactif, **est le nombre de désintégration de noyau radioactifs présents dans l'échantillon en une seconde.**

L'unité de l'activité est le becquerel (Bq). Un becquerel correspond à une désintégration par seconde

$$1\text{Bq} = 1\text{désintégration/seconde}$$

$$a(t) = -\frac{dN}{dt} = -\frac{dN_0 \cdot e^{-\lambda t}}{dt} = \lambda \cdot N_0 \cdot e^{-\lambda t} = \lambda \cdot N(t)$$

avec a₀ = λ · N₀ : L'activité d'un échantillon radioactif à l'instant t=0

d'où a(t) = a₀ · e^{-λt}

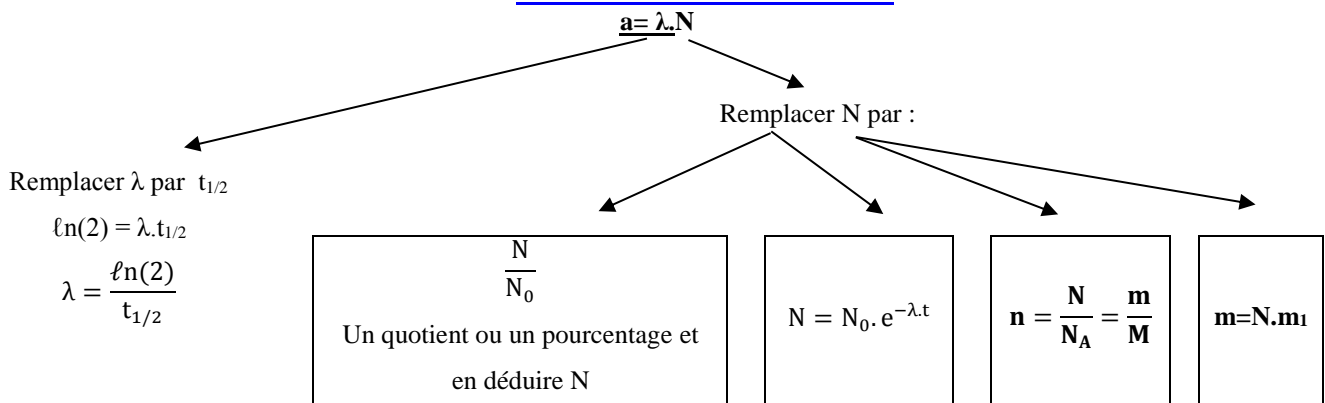
❖ Equation différentielle

$$\text{On a } a(t) = -\frac{dN}{dt} = \lambda \cdot N \text{ alors } \frac{dN}{dt} + \lambda \cdot N = 0 : \text{équation différentielle vérifiée par } N$$

❖ La datation au carbone 14.

- La datation de matériaux organiques (végétaux ou animaux) est possible en mesurant l'activité du carbone 14 dans l'échantillon (l'isotope naturel du carbone 14 est le carbone 12). Pour le carbone 14, t_{1/2} = 5568 ans.
- Dès qu'un être vivant meurt, le carbone 14 n'est plus renouvelé : sa proportion se met à décroître.
- Pour déterminer l'âge du matériau mort, on mesure l'activité a(t) du carbone 14 d'un échantillon de matériau mort et on applique la formule : a(t) = a₀ · e^{-λt}

** Comment Calculer l'activité a



**

Comment exploiter l'activité d'un échantillon entre deux instants t_1 et t_2 **Déterminer la demi vie $t_{1/2}$, a_0 : l'activité à $t=0$**

$$a(t) = -\frac{dN}{dt} = \lambda \cdot N \quad \text{et} \quad a(t) = a_0 \cdot e^{-\lambda t}$$

À l'instant t_1 , l'activité a_1 s'écrit : $a_1 = a_0 \cdot e^{-\lambda t_1}$

À l'instant t_2 , l'activité a_2 s'écrit : $a_2 = a_0 \cdot e^{-\lambda t_2}$

Déterminer $t_{1/2}$

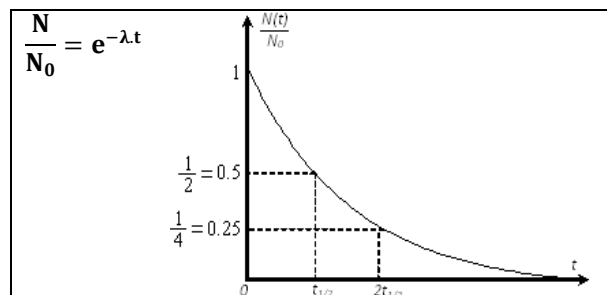
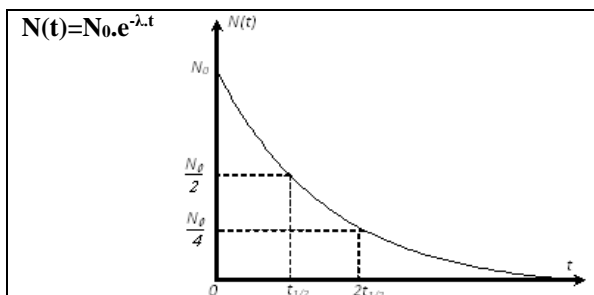
$$\frac{a_2}{a_1} = \frac{a_0 \cdot e^{-\lambda t_2}}{a_0 \cdot e^{-\lambda t_1}} = \frac{e^{-\lambda t_2}}{e^{-\lambda t_1}} = e^{\lambda t_1 - \lambda t_2} = e^{\lambda(t_1 - t_2)}$$

$$\ln\left(\frac{a_2}{a_1}\right) = \lambda \cdot (t_1 - t_2) \quad \text{et} \quad \lambda = \frac{\ln\left(\frac{a_2}{a_1}\right)}{(t_1 - t_2)}$$

$$\text{or } \lambda = \frac{\ln(2)}{t_{1/2}} \quad \text{donc} \quad t_{1/2} = \frac{\ln(2)}{\ln\left(\frac{a_2}{a_1}\right)} \cdot (t_1 - t_2)$$

Déterminer a_0

$$\text{Exploiter soit } a_1 \text{ soit } a_2, \quad a_0 = \frac{a_1}{e^{-\lambda t_1}} = a_1 \cdot e^{\lambda t_1}$$

Quelques Courbes

**

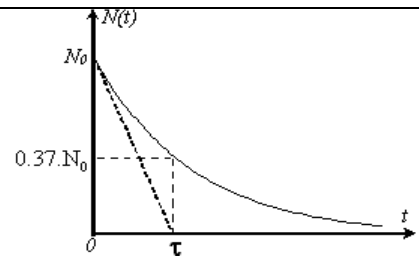
Déterminer graphiquement τ la constante de temps

$$N(t) = N_0 \cdot e^{-\lambda t} = N_0 \cdot e^{-\frac{t}{\tau}}$$

À l'instant $t = \tau$ on a $N(\tau) = N_0 \cdot e^{-1}$

$$\text{Donc } N(\tau) = 0.37 \cdot N_0 \quad \text{ou} \quad \frac{N(\tau)}{N_0} = 0.37 = 37\%$$

On repère sur l'axe $N(t)$ le point $N(\tau)$ et après projections sur l'axe des temps on détermine τ et on peut en déduire $\lambda = \frac{1}{\tau}$



**

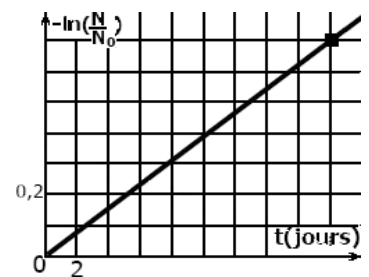
Déterminer graphiquement λ

$$\text{On a } N(t) = N_0 \cdot e^{-\lambda t} \quad \text{et} \quad \frac{N(t)}{N_0} = e^{-\lambda t}$$

$$\ln\left(\frac{N}{N_0}\right) = -\lambda \cdot t \quad \text{et} \quad -\ln\left(\frac{N}{N_0}\right) = \lambda \cdot t$$

La fonction $-\ln\left(\frac{N}{N_0}\right) = f(t)$ est une fonction linéaire dont le coefficient directeur est λ

$$\lambda = \frac{\Delta\left(-\ln\left(\frac{N}{N_0}\right)\right)}{\Delta t} = \frac{3.5 \times 0.2}{9 \times 2} = 0.0389 \text{ Jours}^{-1}$$



**

Déterminer graphiquement λ

On a $N(t) = N_0 \cdot e^{-\lambda t}$ et $\ln(N) = \ln(N_0) - \lambda \cdot t$

La fonction $\ln(N) = f(t)$ est une fonction affine dont le coefficient directeur est λ

$$\lambda = \frac{\Delta(\ln(N))}{\Delta t} = \frac{7 - 2}{5.5 - 0} = 0.91 \text{ h}^{-1}$$

**

Déterminer graphiquement $t_{1/2}$

Pour déterminer $t_{1/2}$ on détermine

$$\ln\left(\frac{N_0}{2}\right) = \ln(N_0) - \ln(2) = 7 - 0.69 = 6.31$$

Ou

$$\begin{aligned} &\text{On calcul } N_0 \\ &\ln(N_0) = 7 \text{ d'où } N_0 = e^7 = 1096.63 \\ &\text{On calcul } \ln\left(\frac{N_0}{2}\right) = 6.31 \end{aligned}$$

On repère sur l'axe $\ln(N)$ le point dont l'ordonnée est 6.31 et après projections sur l'axe des temps on détermine $t_{1/2}$



NOYAUX, MASSE, ENERGIE

1. EQUIVALENCE MASSE – ENERGIE.

- Toute particule de masse m , au repos, possède une énergie appelé énergie de masse, notée E .
- Energie de masse : énergie potentielle que tout système matériel, de masse m , possède

$$E = m \cdot C^2 \quad \text{avec} \quad \begin{array}{l} E : \text{énergie en joule (J)} \\ m : \text{la masse du corps au repos (Kg)} \\ C : \text{la célérité de la lumière dans le vide (m/s), } C = 299792458 \text{ m/s} \approx 3 \cdot 10^8 \text{ m/s} \end{array}$$

2. Une autre unité d'énergie.

- Le Joule est une unité d'énergie mal adaptée à l'échelle microscopique.
- A cette échelle, on préfère utiliser l'électron-volt (eV) ou le mégaelectronvolt (MeV)

$$1 \text{ eV} = 1,6 \times 10^{-19} \text{ J} \quad \text{ou} \quad 1 \text{ MeV} = 10^6 \text{ eV} = 1,6 \times 10^{-13} \text{ J}$$

3. La dissociation d'un noyau :

Le noyau A_ZX se dissocie en ses nucléons (protons et neutrons)

Défaut de masse :

Le défaut de masse d'un noyau Δm est la différence entre la somme des masses de ses nucléons pris séparément et la masse du noyau.

- La masse des nucléons pris séparément : $Z \cdot m_p + (A - Z) \cdot m_n$ avec
 m_p : masse d'un proton m_n : masse d'un neutron
- La masse du noyau X est m_{noyau} ,

alors $\Delta m = (Z \cdot m_p + (A - Z) \cdot m_n) - m({}^A_ZX)$: défaut de masse
 Δm le défaut de masse est une grandeur positive

Energie de liaison d'un noyau :

$$E_l = \Delta m \cdot C^2$$

L'énergie de liaison E_l d'un noyau atomique est l'énergie qu'il faut fournir au noyau au repos pour le dissocier en ses nucléons constitutifs pris au repos

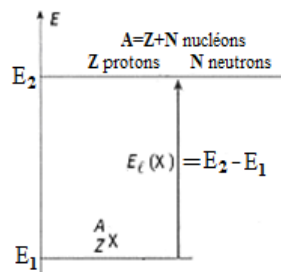
E_l est une grandeur positive.

$$E_l = \Delta m \cdot c^2 = [(Z \cdot m_p + (A - Z) \cdot m_n) - m({}^A_ZX)] \cdot C^2$$

L'énergie de liaison par nucléon ε :

$$\varepsilon = \frac{E_l}{A} \quad \text{avec} \quad \begin{array}{l} E_l : \text{Energie de liaison} \\ A : \text{Nombre de nucléons} \end{array}$$

Un noyau atomique est d'autant plus stable que son énergie de liaison par nucléon est grande



4. Réaction nucléaire :

Soit l'équation de la réaction nucléaire : ${}^{A_1}_{Z_1}X_1 + {}^{A_2}_{Z_2}X_2 \rightarrow {}^{A_3}_{Z_3}X_3 + {}^{A_4}_{Z_4}X_4$

Δm : la variation de masse entre les produits et les réactifs de la transformation nucléaire

$$\Delta m = \sum m_{\text{Produits}} - \sum m_{\text{Reactifs}}$$

$$\Delta m = m(X_3) + m(X_4) - (m(X_1) + m(X_2))$$

Expression de E_0 énergie de la transformation (désintégration ou de la réaction)

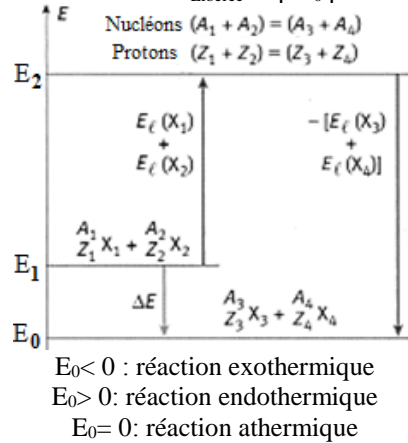
$$E_0 = \Delta m \cdot C^2$$

Autre expression de E_0 en fonction des énergies de liaisons

$$E_0 = \sum E_l (\text{Réactifs}) - \sum E_l (\text{Produits})$$

$$E_0 = E_l (X_1) + E_l (X_2) - (E_l (X_3) + E_l (X_4))$$

Et l'énergie libérée par un noyau au cours de la réaction est $E_{\text{Libérée}} = |E_0|$



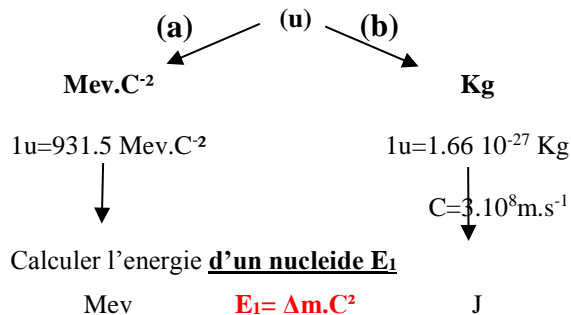
5. Autre unité de la masse.

- Les physiciens préfèrent utiliser le MeV/C² ou MeV.C⁻² comme unité de masse.
- Cette unité découle de la relation : $E = m \cdot C^2$ et $m = \frac{E}{C^2} = E \cdot C^{-2}$

**

Comment calculer $E_1 = m \cdot C^2$ l'énergie d'un noyau

- (1) Déterminer l'expression de Δm
- (2) Calculer Δm en unité de masse atomique (u)
 $\Delta m = \dots \dots \dots (u)$
- (3) Convertir (u) à l'unité adéquate



- (a) Inutile de remplacer C par sa valeur vu qu'elle se simplifie et numériquement $E_1 = \Delta m$ mais avec des unités différentes
 (b) Obligation de remplacer C par sa valeur $C = 3 \cdot 10^8 \text{ m}$

**

Comment calculer E_T l'énergie totale d'une masse m

Il faut déterminer N le nombre de noyau dans la masse m et $E_T = N \cdot E_1$

On détermine N par

$$\frac{N}{N_A} = \frac{m}{M} \text{ et } N = \frac{m}{M} \cdot N_A$$

M : masse molaire (g/mol)
 m : masse d'un échantillon (g)
 N_A : Nombre d'Avogadro (mol⁻¹)

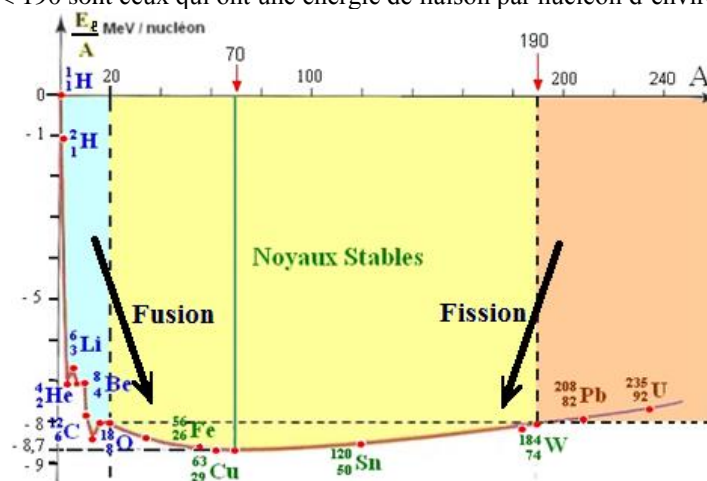
$$N = \frac{m}{m_1}$$

m : masse d'un échantillon (g)
 m_1 : masse d'un noyau (u)

NB :
 Les deux masses m et m_1 à convertir en Kg
 $1u = 1.666 \cdot 10^{-19} \text{ Kg}$

6. Stabilité des noyaux et Courbe d'Aston.

- Un noyau atomique est d'autant plus stable que son énergie de liaison par nucléon est grande.
- La courbe d'Aston est la représentation des variations de $-\frac{E_\ell}{A}$ en fonction de A.
- Les noyaux stables $20 < A < 190$ sont ceux qui ont une énergie de liaison par nucléon d'environ 8 MeV / nucléon.



- Les noyaux instables peuvent évoluer de deux manières :
 - Les noyaux lourds ($A > 195$) peuvent se briser en deux noyaux plus légers appartenant au domaine de stabilité.
 - Ils subissent une réaction nucléaire de fission.

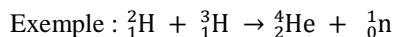
Certains noyaux légers $1 < A < 20$

(${}^1_1\text{H}$, ${}^2_1\text{H}$, ${}^3_1\text{H}$) peuvent fusionner pour donner un noyau placé plus bas dans le diagramme.

- Ce sont les réactions nucléaires de fusion


7. La fusion nucléaire.

- La fusion est une réaction nucléaire au cours de laquelle deux noyaux légers s'unissent pour former un noyau lourd.
- **La fusion est une réaction nucléaire provoquée** qui libère de l'énergie.



8. La fission nucléaire.

- La fission est une réaction nucléaire au cours de laquelle un neutron lent (neutron thermique) brise un noyau lourd pour former deux noyaux plus légers.
- **La fission est généralement une réaction nucléaire provoquée** qui libère de l'énergie.
- La réaction peut ainsi continuer et même s'accélérer, on est en présence d'une réaction en chaîne.



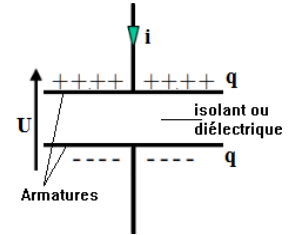
CONDENSATEUR - CIRCUIT (RC)

Dipôle RC : association série d'un conducteur ohmique de résistance R et d'un condensateur de capacité C

1. CONDENSATEUR :

Description.

Un condensateur est un dipôle constitué de deux armatures métalliques parallèles, placées à des potentiels différents et séparées par un isolant ou un diélectrique.



Relation charge-tension.

La charge d'un condensateur, notée q, est liée à la tension U par la relation :

$q = C \cdot U$	Avec : C : capacité du condensateur (F) q : charge du condensateur (C) U : tension (V)
-----------------	---

Capacité d'un condensateur :

- Le coefficient de proportionnalité C est appelé capacité du condensateur.
- Son unité est le Farad (F)
- Autres unités du Farad

Millifarad
$1\text{mF}=10^{-3}\text{F}$

Microfarad
$1\mu\text{F}=10^{-6}\text{F}$

Nanofarad
$1\text{nF}=10^{-9}\text{F}$

Picofarad
$1\text{pF}=10^{-12}\text{F}$

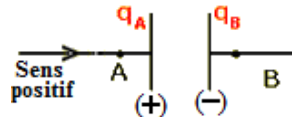
Expression de l'intensité.

Par définition, l'intensité du courant traversant un condensateur est la variation de la charge q au cours du temps.

En adoptant la convention réceptrice pour ce dipôle, on obtient :

Courant continu $I = \frac{Q}{\Delta t}$	Courant variable $i = \frac{dq}{dt}$ avec $q=C \cdot U_c$ d'où $i = C \cdot \frac{dU_c}{dt}$
---	--

2. Sens conventionnel du courant :

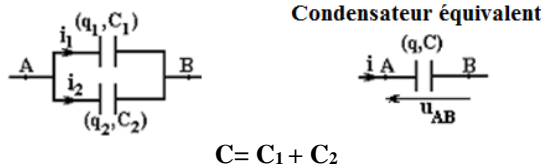


Le sens positif (Conventionnel) du courant est toujours vers l'armature positive.

- Si le passage courant est dans le sens positif alors $i > 0$ et le condensateur se charge, q_A augmente (fonction croissante du temps) et $\frac{dq_A}{dt} > 0$
- Si le passage courant est dans le sens négatif alors $i < 0$ et le condensateur se décharge, q_A diminue (fonction décroissante du temps) et $\frac{dq_A}{dt} < 0$

3. Association des condensateurs :

Association en parallèle



$$C = C_1 + C_2$$

La capacité équivalente C du condensateur équivalent de l'association en parallèle de deux condensateurs est égale à la somme de leurs capacités C_1 et C_2 .

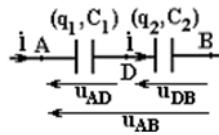
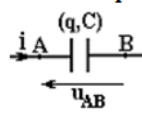
$$U_{AB} = C^{te} = \frac{q_1}{C_1} = \frac{q_2}{C_2} = \frac{q}{C}$$

NB :

La capacité équivalente C de plusieurs condensateurs de capacités $C_1, C_2, C_3 \dots C_n$ montés en parallèle, de capacité est la somme des capacités de chaque condensateur : $C = \Sigma C_i$

Interet de l'association :

$C = C_1 + C_2$: L'intérêt de l'association en parallèle des condensateurs est d'obtenir une capacité équivalente supérieure à la plus grande d'entre elles. $C > C_1$ et $C > C_2$

Association en série :**Condensateur équivalent**

La capacité équivalente C du condensateur équivalent de l'association en série de deux condensateurs de capacités C_1 et C_2 est telle que

$$\frac{1}{C} = \frac{1}{C_1} + \frac{1}{C_2} \quad \text{et} \quad C = \frac{C_1 \cdot C_2}{C_1 + C_2}$$

$$Q = C \cdot U_{AB} = C_1 \cdot U_{AD} = C_2 \cdot U_{DB} = C \cdot U_{AB}$$

NB :

La capacité équivalente C du condensateur équivalent de l'association en série des condensateurs de capacités $C_1, C_2, C_3 \dots C_n$, montés en série, vérifie la relation : $\frac{1}{C} = \sum \frac{1}{C_i} = \frac{1}{C_1} + \frac{1}{C_2} + \frac{1}{C_3} + \dots + \frac{1}{C_n}$

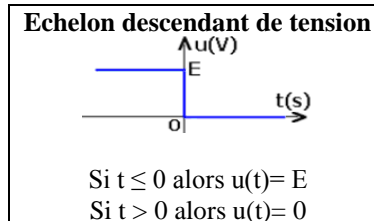
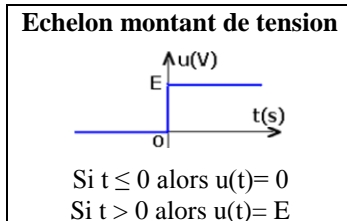
Interet de l'association :

$C = \frac{C_1 \cdot C_2}{C_1 + C_2}$: L'intérêt de l'association en parallèle des condensateurs est d'obtenir une capacité équivalente inférieure à la plus petite d'entre elles. $C < C_1$ et $C < C_2$

4. Echelon de tension :

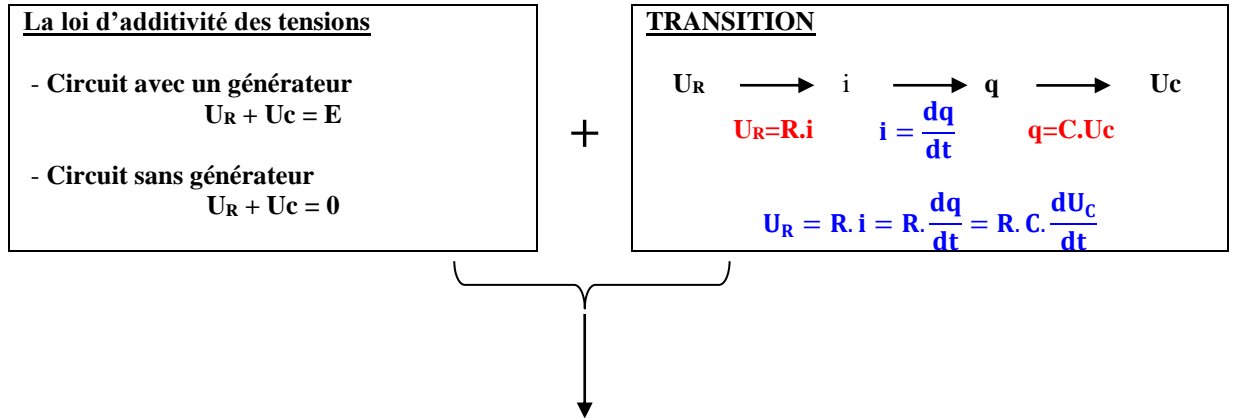
La variation brutale de la tension $u(t)$ appliquée à un dipôle dont la valeur passe brutalement de 0 à E à un instant donné et réciproquement.

On en distingue deux échelons de tension

**5. Energie électrique stockée dans un condensateur.**

L'énergie stockée dans un condensateur, notée E , est donnée par la relation :

$$E = \frac{1}{2} \cdot C \cdot U_c^2 = \frac{1}{2} \cdot \frac{Q^2}{C} \quad \text{Avec} \quad \begin{array}{l} C \text{ en Farad (F)} \\ U_c \text{ en volt (V)} \\ Q \text{ en Coulomb (C)} \\ E \text{ en Joule (J)} \end{array}$$

A COMPRENDRE**Equation différentielle vérifié par la charge q ou la tension Uc**

Equation différentielle est une relation entre une variable (si possible) et au moins une de ses dérivées et des constantes

1. Déterminer la dérivée première
 2. Remplacer l'équation différentielle
 3. Développer
 4. Mettre en facteur $A \cdot e^{f(t)} \cdot (\dots)$
But : $A \cdot e^{f(t)} \cdot (\dots) + B = C$
 5. Egalité de deux fonctions polynomiales
- Conclusion : $B = C$ et $(\dots) = 0$

Remplacer la solution dans l'équation différentielle

$$\frac{de^{f(t)}}{dt} = \frac{df(t)}{dt} \cdot e^{f(t)}$$

Fonction	Dérivée première
$f(t) = -\alpha \cdot t$	$\frac{df(t)}{dt} = -\alpha$
$f(t) = -\frac{t}{\tau}$	$\frac{df(t)}{dt} = -\frac{1}{\tau}$

Equation horaire ou la solution de l'équation différentielle

Remplacer les conditions initiales dans la solution

Les conditions initiales

À $t=0$, la variable prends une valeur bien précise à connaître

$$U_C(t) = A \cdot e^{-\frac{t}{\tau}} + B$$

$$U_C(0) = A \cdot e^0 + B = A + B$$

Charge d'un condensateur	$U_C(0) = 0$;	$q(0) = 0$;	$I(0) = I_0 = \frac{E}{R}$
--------------------------	--------------	---	------------	---	----------------------------

Décharge d'un condensateur	$U_C(0) = E$;	$q(0) = C \cdot E$;	$I(0) = -I_0 = -\frac{E}{R}$
----------------------------	--------------	---	--------------------	---	------------------------------

Energie électrique emmagasiné dans le condensateur

$$E = E_e = \frac{1}{2} \cdot C \cdot U_C^2 = \frac{1}{2} \cdot \frac{Q^2}{C}$$

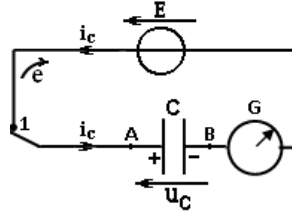
- C : Capacité d'un condensateur en Farad (F)
 Uc : Tension aux bornes du condensateur en volt (V)
 q : Quantité d'électricité emmagasiné dans le condensateur en Coulomb (C)
 E : Energie emmagasiné dans le condensateur en Joule (J)

Etude du circuit RC

1. Charge d'un condensateur :

1.1. Montage de la charge :

Interrupteur K sur la position (1)



1.2. Equation différentielle :

En appliquant la loi d'additivité des tensions $U_R + U_C = E$ et les transitions

$$U_R = R \cdot i = R \cdot \frac{dq}{dt} = R \cdot C \cdot \frac{dU_C}{dt}$$

On aboutit à l'équation différentielle vérifiée par une variable donnée

Variable la tension du condensateur U_c :

$$U_c + R \cdot C \cdot \frac{dU_c}{dt} = E$$

Variable la charge q :

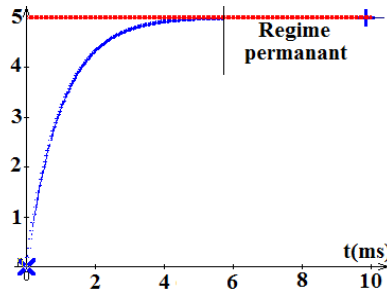
$$\frac{q}{C} + R \cdot \frac{dq}{dt} = E \quad \text{Ou} \quad q + R \cdot C \cdot \frac{dq}{dt} = E \cdot C$$

NB:

Dans le régime permanent la variable est constante $U_c = C^{te}$ (ou $q = C^{te}$) et sa dérivé première est nulle $\frac{dU_c}{dt} = 0$ (ou $\frac{dq}{dt} = 0$)

$U_c = C^{te}$ et $\frac{dU_c}{dt} = 0$, on remplace dans l'équation différentielle et on obtient $U_c = E$

$q = C^{te}$ et $\frac{dq}{dt} = 0$, on remplace dans l'équation différentielle et on obtient $q = C \cdot E$



1.3. Equation horaire :

On considère $U_c(t)$ comme variable et la solution de l'équation différentielle $U_c(t) = A \cdot e^{-\frac{t}{\tau}} + B$

- Pour déterminer les constantes **A, B et τ** , on remplace la solution et sa dérivée première dans l'équation différentielle

$$U_c(t) = A \cdot e^{-\frac{t}{\tau}} + B \quad \text{et} \quad \frac{dU_c(t)}{dt} = A \cdot \left(-\frac{1}{\tau}\right) \cdot e^{-\frac{t}{\tau}} = -\frac{A}{\tau} \cdot e^{-\frac{t}{\tau}}$$

$$U_c + R \cdot C \cdot \frac{dU_c}{dt} = E : \text{équation différentielle vérifiée par } U_c$$

$$A \cdot e^{-\frac{t}{\tau}} + B + R \cdot C \cdot \left(-\frac{A}{\tau}\right) \cdot e^{-\frac{t}{\tau}} = E \quad \text{et} \quad A \cdot e^{-\frac{t}{\tau}} + B - R \cdot C \cdot A \cdot \frac{1}{\tau} \cdot e^{-\frac{t}{\tau}} = E$$

$$\text{donc} \quad A \cdot e^{-\frac{t}{\tau}} \left(1 - R \cdot C \cdot \frac{1}{\tau}\right) + B = E$$

Par Egalité de deux fonctions polynomiales, l'équation est exacte si : **$B = E$** et **$(1 - R \cdot C \cdot \frac{1}{\tau}) = 0$** d'où **$\tau = R \cdot C$**

- Déterminer la constante **A** par les conditions initiales :

à $t=0$ la tension $U_c(0) = 0$, on remplace dans l'équation horaire et on obtient :

$$U_c(t) = A \cdot e^{-\frac{t}{\tau}} + B$$

$$0 = A \cdot e^0 + B = A + B, \quad A + B = 0 \quad \text{et} \quad A = -B = -E$$

Conclusion : $A = -E$, $B = E$ et $\tau = R \cdot C$ alors $U_c(t) = A \cdot e^{-\frac{t}{\tau}} + B = -E \cdot e^{-\frac{t}{\tau}} + E = E \cdot (1 - e^{-\frac{t}{\tau}})$

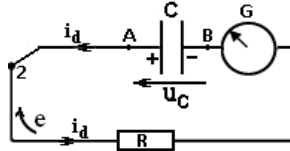
NB:

Souvent la solution est $U_c(t) = A \cdot (1 - e^{-\frac{t}{\tau}})$ dont la dérivée première est $\frac{dU_c(t)}{dt} = A \cdot \left(-\frac{1}{\tau}\right) \cdot e^{-\frac{t}{\tau}} = A \cdot \left(\frac{1}{\tau}\right) \cdot e^{-\frac{t}{\tau}} = \frac{A}{\tau} \cdot e^{-\frac{t}{\tau}}$

2. Décharge d'un condensateur :

2.1. Montage de la charge :

Interrupteur **K** sur la position (2)



2.2. Equation différentielle :

En appliquant la loi d'additivité des tensions $U_R + U_C = 0$ et les transitions

$$U_R = R \cdot i = R \cdot \frac{dq}{dt} = R \cdot C \cdot \frac{dU_C}{dt}$$

On aboutit à l'équation différentielle vérifiée par une variable donnée

Variable U_C :

$$U_C + R \cdot C \cdot \frac{dU_C}{dt} = 0$$

Variable q :

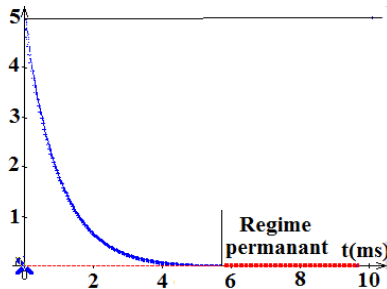
$$\frac{q}{C} + R \cdot \frac{dq}{dt} = 0 \quad \text{Ou} \quad q + R \cdot C \cdot \frac{dq}{dt} = 0$$

NB:

Dans le régime permanent la variable est constante $U_C = C^{te}$ ou $q = C^{te}$ et sa dérivée première est nulle $\frac{dU_C}{dt} = 0$ **ou** $\frac{dq}{dt} = 0$

$U_C = C^{te}$ et $\frac{dU_C}{dt} = 0$, on remplace dans l'équation différentielle et on obtient $U_C = 0$

$q = C^{te}$ et $\frac{dq}{dt} = 0$, on remplace dans l'équation différentielle et on obtient $q = 0$



2.3. Equation horaire :

On considère $U_C(t)$ comme variable et la solution de l'équation différentielle $U_C(t) = A \cdot e^{-\frac{t}{\tau}} + B$

- Pour déterminer les constantes **A, B et τ** , on remplace la solution et sa dérivée première dans l'équation différentielle

$$U_C(t) = A \cdot e^{-\frac{t}{\tau}} + B \quad \text{et} \quad \frac{dU_C(t)}{dt} = A \cdot \left(-\frac{1}{\tau}\right) \cdot e^{-\frac{t}{\tau}} = -\frac{A}{\tau} \cdot e^{-\frac{t}{\tau}}$$

$$U_C + R \cdot C \cdot \frac{dU_C}{dt} = 0 : \text{équation différentielle vérifiée par } U_C$$

$$A \cdot e^{-\frac{t}{\tau}} + B + R \cdot C \cdot \left(-\frac{A}{\tau}\right) \cdot e^{-\frac{t}{\tau}} = 0 \quad \text{et} \quad A \cdot e^{-\frac{t}{\tau}} + B - R \cdot C \cdot A \cdot \frac{1}{\tau} \cdot e^{-\frac{t}{\tau}} = 0$$

$$\text{donc} \quad A \cdot e^{-\frac{t}{\tau}} \left(1 - R \cdot C \cdot \frac{1}{\tau}\right) + B = 0$$

Par Egalité de deux fonctions polynomiales, l'équation est exacte si : **$B=0$** et **$(1 - R \cdot C \cdot \frac{1}{\tau}) = 0$** d'où **$\tau = R \cdot C$**

- Déterminer la constante **A** par les conditions initiales :
à $t=0$ la tension $U_C(0) = E$, on remplace dans l'équation horaire et on obtient :

$$U_C(t) = A \cdot e^{-\frac{t}{\tau}} + B$$

$$E = A \cdot e^0 + B = A + B, \quad E = A + B \quad \text{et} \quad A = E \quad \text{vu que} \quad B = 0$$

Conclusion : $A=E$, $B=0$ et $\tau = R \cdot C$ alors $U_C(t) = A \cdot e^{-\frac{t}{\tau}} + B = E \cdot e^{-\frac{t}{\tau}} + 0 = E \cdot e^{-\frac{t}{\tau}}$

NB :

- $\tau = R.C$: Constante de temps et est homogène à un temps
- Conditions initiales (à $t=0$) :

Charge d'un condensateur : $U_c(0) = 0$, $q(0) = 0$, $I(0) = I_0 = \frac{E}{R}$

Décharge d'un condensateur : $U_c(0) = E$, $q(0) = C.E$, $I(0) = -I_0 = -\frac{E}{R}$

- Il faut souvent penser à exploiter les conditions initiales dans :

- (1) La loi d'additivités de tension :

Charge $U_R + U_c = E$ devient $U_R = E$
--

Décharge $U_R + U_c = 0$ devient $U_R = -U_c = -E$
--

- (2) L'équation différentielle :

Charge $U_c + R.C \cdot \frac{dU_c}{dt} = E$ devient $R.C \cdot \frac{dU_c}{dt} = E$
--

Décharge $U_c + R.C \cdot \frac{dU_c}{dt} = 0$ devient $R.C \cdot \frac{dU_c}{dt} = -E$

- (3) L'équation horaire (ou La solution) $U_c(t) = A \cdot e^{-\frac{t}{\tau}} + B$
 $U_c(0) = A \cdot e^0 + B = A + B$

- Exploiter la solution

Exploiter la solution pour déterminer

- Le temps t à partir d'une tension et inversement
- Autres fonctions en fonction de temps

**** Montrer que l'équation horaire est solution de l'équation différentielle :**

Soit l'équation différentielle suivante à titre d'exemple le cas de charge d'un condensateur

$$U_c + R.C \cdot \frac{dU_c}{dt} = E$$

Admettons que la solution donnée est $U_c(t) = A \cdot e^{-\frac{t}{\tau}} + B$, on remplace la solution et sa dérivée première dans l'équation différentielle et :

$$U_c(t) = A \cdot e^{-\frac{t}{\tau}} + B \text{ et } \frac{dU_c(t)}{dt} = A \cdot \left(-\frac{1}{\tau}\right) \cdot e^{-\frac{t}{\tau}} = -\frac{A}{\tau} \cdot e^{-\frac{t}{\tau}}$$

$$A \cdot e^{-\frac{t}{\tau}} + B + R.C \cdot \left(-\frac{A}{\tau} \cdot e^{-\frac{t}{\tau}}\right) = E \text{ et } A \cdot e^{-\frac{t}{\tau}} + B - R.C \cdot A \cdot \frac{1}{\tau} \cdot e^{-\frac{t}{\tau}} = E$$

$$\text{donc } A \cdot e^{-\frac{t}{\tau}} \left(1 - R.C \cdot \frac{1}{\tau}\right) + B = E$$

Par Egalité de deux fonctions polynomiales, l'équation est exacte si : $B = E$ et $(1 - R.C \cdot \frac{1}{\tau}) = 0$, **Il suffit de montrer que $B = E$**

**** Déterminer l'expression d'une fonction à partir d'une autre fonction connue**

Exemple : Charge d'un condensateur

Soit la fonction connue $U_c(t) = E \cdot (1 - e^{-\frac{t}{\tau}})$

Déterminer à l'instant $t = 0$ et à l'instant $t = \tau$ l'expression de i et $\frac{di}{dt}$

- On détermine l'expression de $i(t)$ et de $\frac{di(t)}{dt}$ en fonction du temps

$$i(t) = \frac{dq}{dt} = C \cdot \frac{dU_c}{dt} = C \cdot E \cdot \frac{1}{\tau} \cdot e^{-\frac{t}{\tau}} = \frac{E}{R} \cdot e^{-\frac{t}{\tau}} = I_0 \cdot e^{-\frac{t}{\tau}} \text{ et } \frac{di}{dt} = I_0 \cdot \left(-\frac{1}{\tau}\right) \cdot e^{-\frac{t}{\tau}} = -\frac{E}{R^2.C} \cdot e^{-\frac{t}{\tau}}$$

- On remplace dans les expressions trouvées le temps t par son équivalent :

<p>Expression</p> $i(t) = \frac{E}{R} \cdot e^{-\frac{t}{\tau}}$ <p>et</p> $\frac{di}{dt} = -\frac{E}{R^2.C} \cdot e^{-\frac{t}{\tau}}$	<p>A $t = 0$</p> $i(t) = \frac{E}{R} \cdot e^0 = \frac{E}{R}$ <p>et</p> $\frac{di}{dt} = -\frac{E}{R^2.C} \cdot e^0 = -\frac{E}{R^2.C}$	<p>A $t = \tau$</p> $i(t) = \frac{E}{R} \cdot e^{-1} = 0.37 \cdot \frac{E}{R}$ <p>et</p> $\frac{di}{dt} = -\frac{E}{R^2.C} \cdot e^{-1} = -0.37 \cdot \frac{E}{R^2.C}$
--	---	--

** * Exploiter l'équation horaire $U_c(t)$

Pour déterminer l'expression d'autres fonctions horaires

$q(t)$: La charge du condensateur

$i(t)$: L'intensité du courant électrique

$U_R(t)$: La tension aux bornes du conducteur ohmique

❖ Expression de la charge $q(t)$ du condensateur :

Charge d'un condensateur

$$\text{On a } U_c(t) = E \cdot (1 - e^{-\frac{t}{\tau}})$$

et $q=C.U_c$ alors

$$q(t) = C \cdot U_c(t) = C \cdot E \cdot (1 - e^{-\frac{t}{\tau}})$$

à $t=0$ le condensateur est vide et sa charge est nulle
On remplace $t=0$ dans $q(t)$ et $q(0)=0$

Décharge d'un condensateur

$$\text{On a } U_c(t) = E \cdot e^{-\frac{t}{\tau}}$$

et $q=C.U_c$ alors

$$q(t) = C \cdot U_c(t) = C \cdot E \cdot e^{-\frac{t}{\tau}}$$

à $t=0$ le condensateur est chargé et sa charge est maximale
On remplace $t=0$ dans $q(t)$ et $q(0)=C.E$

❖ Expression de l'intensité de courant $i(t)$:

Charge d'un condensateur

(1) A partir de $U_c(t) = E \cdot (1 - e^{-\frac{t}{\tau}})$
et $i = \frac{dq}{dt} = C \cdot \frac{dU_c}{dt}$ et $\tau=R.C$ donc

$$i(t) = C \cdot \frac{dU_c(t)}{dt} = C \cdot E \cdot \left(\frac{1}{\tau}\right) \cdot e^{-\frac{t}{\tau}}$$

$$i(t) = \frac{E}{R} \cdot e^{-\frac{t}{\tau}}$$

Décharge d'un condensateur

A partir de $U_c(t) = E \cdot e^{-\frac{t}{\tau}}$
et $i = \frac{dq}{dt} = C \cdot \frac{dU_c}{dt}$ et $\tau=R.C$ donc

$$i(t) = C \cdot \frac{dU_c(t)}{dt} = C \cdot E \cdot \left(-\frac{1}{\tau}\right) \cdot e^{-\frac{t}{\tau}}$$

$$i(t) = -\frac{E}{R} \cdot e^{-\frac{t}{\tau}}$$

(2) A partir de $q(t) = C \cdot U_c(t) = C \cdot E \cdot (1 - e^{-\frac{t}{\tau}})$
et $i = \frac{dq}{dt}$ donc

$$i(t) = \frac{dq(t)}{dt} = C \cdot E \cdot \left(\frac{1}{\tau}\right) \cdot e^{-\frac{t}{\tau}}$$

$$i(t) = \frac{E}{R} \cdot e^{-\frac{t}{\tau}}$$

A partir de $q(t) = C \cdot U_c(t) = C \cdot E \cdot e^{-\frac{t}{\tau}}$
et $i = \frac{dq}{dt}$ donc

$$i(t) = \frac{dq(t)}{dt} = C \cdot E \cdot \left(-\frac{1}{\tau}\right) \cdot e^{-\frac{t}{\tau}}$$

$$i(t) = -\frac{E}{R} \cdot e^{-\frac{t}{\tau}}$$

(3) A partir de $U_R(t) = \frac{U_R}{R} \cdot e^{-\frac{t}{\tau}}$
et $i = \frac{U_R}{R}$ donc

$$i(t) = \frac{E}{R} \cdot e^{-\frac{t}{\tau}}$$

A $t=0$ l'intensité de courant est maximale
On remplace $t=0$ dans $i(t)$ et $i(0) = I_0 = \frac{E}{R}$

A partir de $U_R(t) = -\frac{U_R}{R} \cdot e^{-\frac{t}{\tau}}$
et $i = \frac{U_R}{R}$ donc

$$i(t) = -\frac{E}{R} \cdot e^{-\frac{t}{\tau}}$$

A $t=0$ l'intensité de courant est minimale
On remplace $t=0$ dans $i(t)$ et $i(0) = -I_0 = -\frac{E}{R}$

❖ Expression de la tension aux bornes du conducteur ohmique $U_R(t)$:

Charge d'un condensateur

A partir de $U_c(t) = E \cdot (1 - e^{-\frac{t}{\tau}})$

(1) La loi d'additivité des tensions

$$U_R + U_c = E$$

$$U_R = E - U_c$$

$$U_R = E - U_c = E - E \cdot (1 - e^{-\frac{t}{\tau}})$$

$$U_R(t) = E \cdot e^{-\frac{t}{\tau}}$$

(2) Les transitions $U_R = R \cdot i = R \cdot \frac{dq}{dt} = R \cdot C \cdot \frac{dU}{dt}$

$$\frac{dU_c(t)}{dt} = E \cdot \left(-\frac{1}{\tau}\right) \cdot e^{-\frac{t}{\tau}}$$

$$U_R(t) = R \cdot C \cdot \frac{dU_c(t)}{dt} = R \cdot C \cdot E \cdot \left(\frac{1}{\tau}\right) \cdot e^{-\frac{t}{\tau}}$$

$$U_R(t) = E \cdot e^{-\frac{t}{\tau}}$$

à $t=0$ la tension aux bornes du conducteur ohmique est maximale
On remplace $t=0$ dans $U_R(t)$ et $U_R(0) = E$

Décharge d'un condensateur

A partir de $U_c(t) = E \cdot e^{-\frac{t}{\tau}}$

La loi d'additivité des tensions

$$U_R + U_c = 0$$

$$U_R = -U_c$$

$$U_R(t) = -U_c(t) = E \cdot e^{-\frac{t}{\tau}}$$

Les transitions $U_R = R \cdot i = R \cdot \frac{dq}{dt} = R \cdot C \cdot \frac{dU}{dt}$

$$\frac{dU_c(t)}{dt} = E \cdot \left(-\frac{1}{\tau}\right) \cdot e^{-\frac{t}{\tau}}$$

$$U_R(t) = R \cdot C \cdot \frac{dU_c(t)}{dt} = R \cdot C \cdot E \cdot \left(-\frac{1}{\tau}\right) \cdot e^{-\frac{t}{\tau}}$$

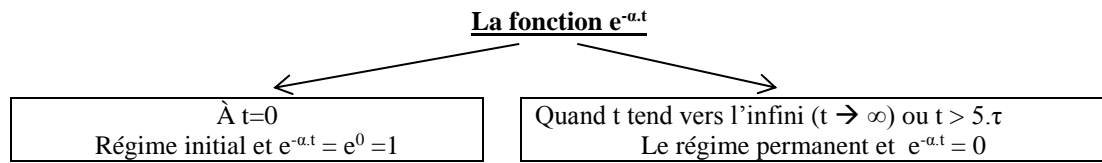
$$U_R(t) = -E \cdot e^{-\frac{t}{\tau}}$$

à $t=0$ la tension aux bornes du conducteur ohmique est minimale
On remplace $t=0$ dans $U_R(t)$ et $U_R(0) = -E$

Quelques courbes

*** Comment tracer l'allure des courbes en $e^{-\alpha.t}$

Pour tracer des courbes en $e^{-\alpha.t}$ il faut prendre en considération les limites des courbes



$e^{-\alpha.t}$ prend la valeur 1 pour déterminer le début de la courbe et la valeur 0 (zéro) pour déterminer sa limite (Le régime permanent)

Exemples :

La fonction $A.e^{-\lambda.t}$	<ul style="list-style-type: none"> À $t=0$ prend la valeur A Quand $t \rightarrow \infty$ prend la valeur 0 (Le régime permanent)
La fonction $A.(1 - e^{-\lambda.t})$	<ul style="list-style-type: none"> À $t=0$ prend la valeur 0 Quand $t \rightarrow \infty$ prend la valeur A (Le régime permanent)

$E=6V \quad R=100\Omega \quad C=20\mu F$

	Charge d'un condensateur	Décharge d'un condensateur
1. <u>Expression de $U_c(t)$</u>	<p style="text-align: center;">$U_c(t) = E.(1 - e^{-\frac{t}{\tau}})$</p>	<p style="text-align: center;">$U_c(t) = E.e^{-\frac{t}{\tau}}$</p>
2. <u>Expression de $q(t)$</u>	<p style="text-align: center;">$q(t) = C.E.(1 - e^{-\frac{t}{\tau}})$</p>	<p style="text-align: center;">$q(t) = C.E.e^{-\frac{t}{\tau}}$</p>
3. <u>Expression de $i(t)$</u>	<p style="text-align: center;">$i(t) = \frac{E}{R}.e^{-\frac{t}{\tau}}$</p>	<p style="text-align: center;">$i(t) = -\frac{E}{R}.e^{-\frac{t}{\tau}}$</p>
4. <u>Expression de $U_R(t)$</u>	<p style="text-align: center;">$U_R(t) = E.e^{-\frac{t}{\tau}}$</p>	<p style="text-align: center;">$U_R(t) = -E.e^{-\frac{t}{\tau}}$</p>

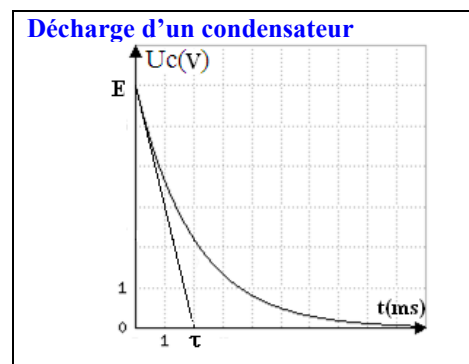
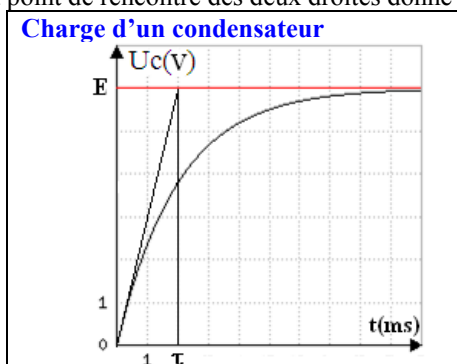
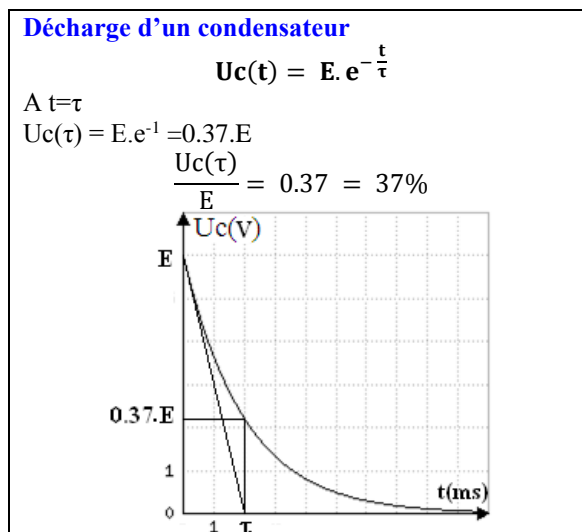
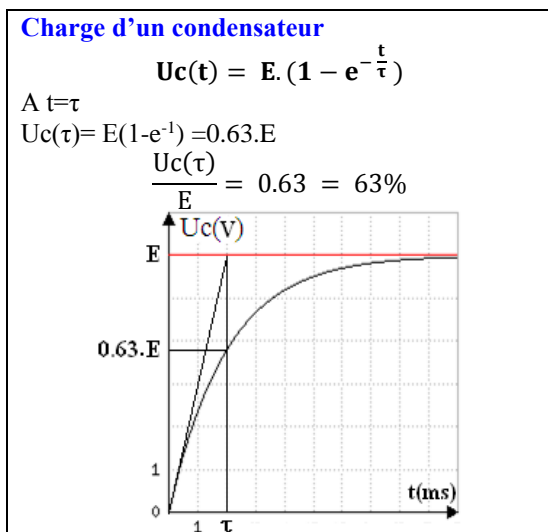
τ est la constante de temps

Expression de $U_c(t)$	Charge d'un condensateur	Décharge d'un condensateur
		$U_c(t) = E \cdot (1 - e^{-\frac{t}{\tau}})$ A $t = \tau$ $U_c(\tau) = E(1 - e^{-1}) = 0.63.E$ $\frac{U_c(\tau)}{E} = 0.63 = 63\%$

τ est la durée nécessaire pour qu'un condensateur se charge ou se décharge à 63% de sa capacité totale

Déterminer τ graphiquement**Méthode de la tangente :**

Tracer la tangente de la courbe $u_c(t)$ à l'instant $t=0$ et l'asymptote $u_c=E$ (cas de la charge) ou $u_c=0$ (cas de la décharge) et l'abscisse du point de rencontre des deux droites donne τ .

**Par le calcul :****Equations aux dimensions $\tau=RC$:**

On a $\tau=RC$ et $[\tau] = [RC] = [R] \cdot [C]$

$$R = \frac{U}{i} \Rightarrow [R] = \frac{[U]}{[i]}$$

$$C = \frac{q}{U} \Rightarrow [C] = \frac{[q]}{[U]} \text{ et } q = i \cdot t \text{ alors } [q] = [i] \cdot [t] \text{ donc } [C] = \frac{[i] \cdot [t]}{[U]}$$

$$\text{En final } [\tau] = [R] \cdot [C] = \frac{[U]}{[i]} \cdot \frac{[i] \cdot [t]}{[U]} = [t] = s$$

NB :

- τ est la constante de temps du circuit (R,C) et est homogène à un temps (s'exprime en seconde (s))
- Après une durée τ , le condensateur est chargé ou déchargé à 63% de sa capacité totale
- Après une durée $5 \cdot \tau$ (valeur théorique ou valeur moyenne) le condensateur est chargé ou déchargé totalement (à plus de 99%).

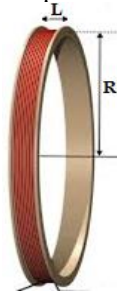
LE CIRCUIT RL

Dipôle RL : association série d'un conducteur ohmique de résistance R et d'une bobine d'inductance L et de résistance interne r .

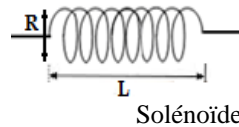
Une bobine est un dipôle passif, elle est formée d'un enroulement cylindrique, à spires jointives, d'un fil électrique recouvert par un isolant.

On en distingue deux :

- Bobine plate : son rayon R est supérieur à sa longueur L ($R > L$)
- Solénoïde : sa longueur L est supérieure à son rayon R ($L > R$)

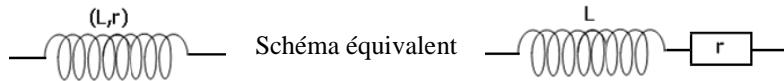


Bobine plate



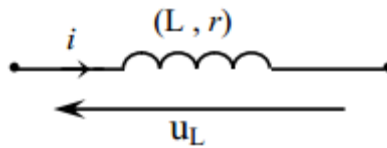
Solénoïde

❖ Symbole de la bobine :



Avec r = résistance interne (Ω)
 L = inductance de la bobine (H – Henry)

❖ Tension aux bornes de la bobine



$U_L = r \cdot i + L \cdot \frac{di}{dt}$	Avec	r = résistance interne (Ω) L = inductance de la bobine (H – Henry) i = intensité du courant (A) U_L = tension aux bornes de la bobine (V)
---	------	---

❖ Cas particuliers

Courant continu

$$I = C^{te} \text{ et } \frac{di}{dt} = 0 \text{ donc } U_L = r \cdot i$$

En courant continu la bobine se comporte comme un conducteur ohmique

Résistance interne négligeable $r = 0$

$$U_L = r \cdot i + L \cdot \frac{di}{dt} = L \cdot \frac{di}{dt}$$

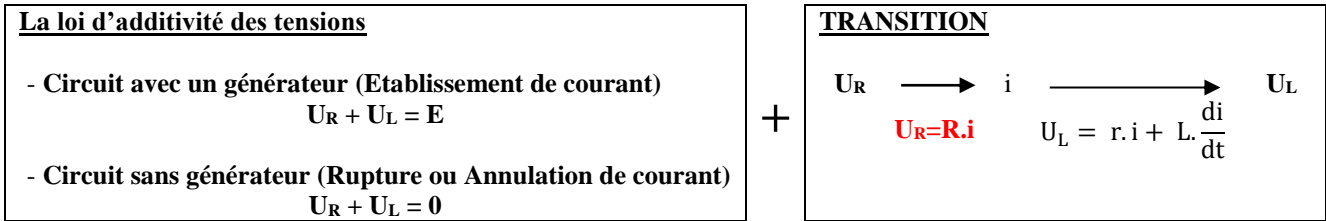
❖ Influence de la bobine dans un circuit est :

Une bobine permet de retarder l'établissement ou la rupture (annulation) du courant et ceci est dû au produit $L \cdot \frac{di}{dt}$

❖ Energie emmagasiné dans une bobine

L'énergie stockée dans une bobine, s'exprime à partir de la relation :

$$E_m = \frac{1}{2} L \cdot i^2 \quad \text{avec} \quad \begin{array}{l} E_m \text{ en Joule (J)} \\ L \text{ en Henry (H)} \\ I \text{ en Ampère (A)} \end{array}$$

A COMPRENDRE**Equation différentielle vérifié par la charge q ou la tension Uc**

Equation différentielle est une relation entre une variable (si possible) et au moins une de ses dérivées et des constantes

6. Déterminer la dérivée première
 7. Remplacer l'équation différentielle
 8. Développer
 9. Mettre en facteur $A \cdot e^{f(t)}$ (---)
But : $A \cdot e^{f(t)}$ (---) + B = C
 10. Egalité de deux fonctions polynomiales
- Conclusion : B = C et (---) = 0

Remplacer la solution dans l'équation différentielle

$$\frac{de^{f(t)}}{dt} = \frac{df(t)}{dt} \cdot e^{f(t)}$$

Fonction	Dérivée première
$f(t) = -\alpha \cdot t$	$\frac{df(t)}{dt} = -\alpha$
$f(t) = -\frac{t}{\tau}$	$\frac{df(t)}{dt} = -\frac{1}{\tau}$

Equation horaire ou la solution de l'équation différentielle

Remplacer les conditions initiales dans la solution

Les conditions initiales

À t=0, la variable prends une valeur bien précise à connaître

$$i(t) = A \cdot e^{-\frac{t}{\tau}} + B$$

$$i(0) = A \cdot e^0 + B = A + B$$

Etablissement de courant	$i = 0$	et	$U_R = 0$
---------------------------------	---------	----	-----------

Annulation de courant	$i = I_0 = \frac{E}{R + r} = \frac{E}{R_T}$	et	$U_R = R \cdot I_0$
------------------------------	---	----	---------------------

Energie électrique emmagasiné dans la bobine

$$E_m = \frac{1}{2} \cdot L \cdot i^2 = \frac{1}{2} \cdot L \cdot \left(\frac{U_R}{R}\right)^2 = \frac{1}{2} \cdot \frac{L}{R^2} \cdot U_R^2$$

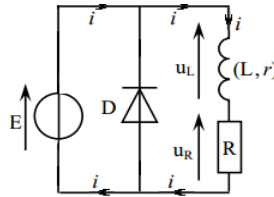
- L : Inductance de la bobine en Henry (H)
i : Intensité de courant électrique en ampère (A)
 U_R : tension aux bornes du conducteur ohmique en Volt (V)
R : Resistance du conducteur ohmique en ohm (Ω)
 E_m : Energie magnétique emmagasinée dans la bobine en Joule (J)

Etude Circuit RL

1. Etablissement de courant :

1.1. Montage :

Soit le montage électrique suivant :



1.2. Rôle de la diode en parallèle avec une bobine

- Ne laisse passer le courant que dans un seul sens
- Permet d'éviter l'apparition des étincelles dues aux surtensions aux bornes de la bobine
- Protège ainsi les composants du circuit qui sont autour de la bobine

1.3. Equation différentielle

En appliquant la loi d'additivité des tensions $U_R + U_L = E$ et les transitions

$$U_R = R \cdot i \quad \text{et} \quad i = \frac{U_R}{R} \quad \text{et} \quad U_L = r \cdot i + L \cdot \frac{di}{dt}$$

On aboutit à l'équation différentielle vérifiée par une variable donnée

Variable i :

$$R \cdot i + r \cdot i + L \cdot \frac{di}{dt} = E$$

$$(R + r) \cdot i + L \cdot \frac{di}{dt} = E \quad \text{ou} \quad i + \frac{L}{(R+r)} \cdot \frac{di}{dt} = \frac{E}{(R+r)}$$

Variable U_R :

$$U_R + r \cdot \frac{U_R}{R} + \frac{L}{R} \cdot \frac{dU_R}{dt} = E$$

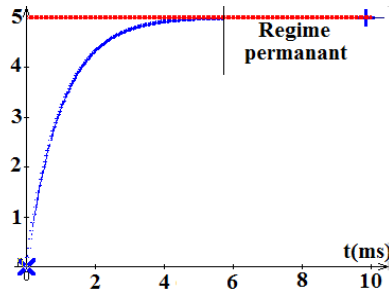
$$U_R \left(1 + \frac{r}{R}\right) + \frac{L}{R} \cdot \frac{dU_R}{dt} = E \quad \text{Ou} \quad U_R + \frac{L}{(R+r)} \cdot \frac{dU_R}{dt} = \frac{R \cdot E}{(R+r)}$$

NB :

Dans le régime permanent la variable est constante

$$i = C^{te} \quad \text{et} \quad \frac{di}{dt} = 0, \quad \text{on remplace dans l'équation différentielle et on obtient } (R+r) \cdot i = E \quad \text{d'où } i = I_0 = \frac{E}{R+r}$$

$$U_R = C^{te} \quad \text{et} \quad \frac{dU_R}{dt} = 0, \quad \text{on remplace dans l'équation différentielle et on obtient } U_R = \frac{R \cdot E}{(R+r)}$$



1.4. Equation horaire :

On considère $i(t)$ comme variable et la solution de l'équation différentielle $i(t) = A \cdot e^{-\frac{t}{\tau}} + B$

- Pour déterminer les constantes **A, B et τ** , on remplace la solution et sa dérivée première dans l'équation différentielle

$$i(t) = A \cdot e^{-\frac{t}{\tau}} + B \quad \text{et} \quad \frac{di(t)}{dt} = A \cdot \left(-\frac{1}{\tau}\right) \cdot e^{-\frac{t}{\tau}} = -\frac{A}{\tau} \cdot e^{-\frac{t}{\tau}}$$

$$i + \frac{L}{(R+r)} \cdot \frac{di}{dt} = \frac{E}{(R+r)} : \text{équation différentielle vérifiée par } i(t)$$

$$A \cdot e^{-\frac{t}{\tau}} + B + \frac{L}{(R+r)} \cdot \left(-\frac{A}{\tau}\right) \cdot e^{-\frac{t}{\tau}} = \frac{E}{(R+r)} \quad \text{et} \quad A \cdot e^{-\frac{t}{\tau}} + B - \frac{L}{(R+r)} \cdot \frac{A}{\tau} \cdot e^{-\frac{t}{\tau}} = \frac{E}{(R+r)}$$

$$\text{donc } A \cdot e^{-\frac{t}{\tau}} \left(1 - \frac{L}{(R+r)} \cdot \frac{1}{\tau}\right) + B = \frac{E}{(R+r)}$$

Par Egalité de deux fonctions polynomiales, l'équation est exacte si : $B = \frac{E}{(R+r)} = I_0$ et $1 - \frac{L}{(R+r)} \cdot \frac{1}{\tau} = 0$ d'où $\tau = \frac{L}{(R+r)}$

- Déterminer la constante **A** par les conditions initiales :

à $t=0$ la tension $i(0) = 0$, on remplace dans l'équation horaire et on obtient :

$$i(t) = A \cdot e^{-\frac{t}{\tau}} + B$$

$$0 = A.e^0 + B = A + B, \quad A = -B = -I_0 = -\frac{E}{(R+r)}$$

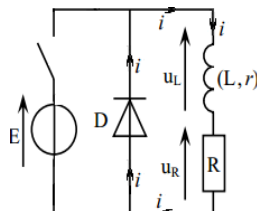
Conclusion : $A = -I_0, B = I_0$ et $\tau = \frac{L}{(R+r)}$ alors $i(t) = A.e^{-\frac{t}{\tau}} + B = -I_0.e^{-\frac{t}{\tau}} + I_0 = I_0.(1 - e^{-\frac{t}{\tau}})$

NB :

Souvent la solution est $i(t) = A.(1 - e^{-\frac{t}{\tau}})$ dont la dérivée première est $\frac{di(t)}{dt} = A.(-\frac{1}{\tau}).e^{-\frac{t}{\tau}} = A.(\frac{1}{\tau}).e^{-\frac{t}{\tau}} = \frac{A}{\tau}.e^{-\frac{t}{\tau}}$

2. Rupture (Annulation) de courant :**2.1. Montage :**

Soit le montage électrique suivant :

**2.2. Equation différentielle**

En appliquant la loi d'additivité des tensions $U_R + U_L = E$ et les transitions

$$U_R = R.i \quad \text{et} \quad i = \frac{U_R}{R} \quad \text{et} \quad U_L = r.i + L.\frac{di}{dt}$$

On aboutit à l'équation différentielle vérifiée par une variable donnée

Variable i :

$$R.i + r.i + L.\frac{di}{dt} = 0$$

$$(R + r).i + L.\frac{di}{dt} = 0 \quad \text{Ou} \quad i + \frac{L}{(R+r)}.\frac{di}{dt} = 0$$

Variable U_R :

$$U_R + r.\frac{U_R}{R} + \frac{L}{R}.\frac{dU_R}{dt} = 0$$

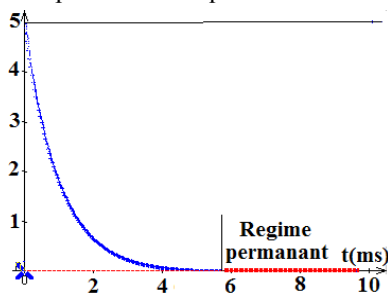
$$U_R(1 + \frac{r}{R}) + \frac{L}{R}.\frac{dU_R}{dt} = 0 \quad \text{Ou} \quad U_R + \frac{L}{(R+r)}.\frac{dU_R}{dt} = 0$$

NB :

Dans le régime permanent la variable est constante

$$i = C^{te} \quad \text{et} \quad \frac{di}{dt} = 0, \quad \text{on remplace dans l'équation différentielle et on obtient } i=0$$

$$U_R = C^{te} \quad \text{et} \quad \frac{dU_R}{dt} = 0, \quad \text{on remplace dans l'équation différentielle et on obtient } U_R=0$$

**2.3. Equation horaire :**

On considère $i(t)$ comme variable et la solution de l'équation différentielle $i(t) = A.e^{-\frac{t}{\tau}} + B$

- Pour déterminer les constantes **A, B et τ** , on remplace la solution et sa dérivée première dans l'équation différentielle

$$i(t) = A.e^{-\frac{t}{\tau}} + B \quad \text{et} \quad \frac{di(t)}{dt} = A.(-\frac{1}{\tau}).e^{-\frac{t}{\tau}} = -\frac{A}{\tau}.e^{-\frac{t}{\tau}}$$

$$i + \frac{L}{(R+r)}.\frac{di}{dt} = 0 : \text{équation différentielle vérifiée par } i(t)$$

$$A.e^{-\frac{t}{\tau}} + B + \frac{L}{(R+r)}.(-\frac{A}{\tau}.e^{-\frac{t}{\tau}}) = 0 \quad \text{et} \quad A.e^{-\frac{t}{\tau}} + B - \frac{L}{(R+r)}.A.\frac{1}{\tau}.e^{-\frac{t}{\tau}} = 0$$

$$\text{donc } A.e^{-\frac{t}{\tau}} \left(1 - \frac{L}{(R+r)}.\frac{1}{\tau}\right) + B = 0$$

Par Egalité de deux fonctions polynomiales, l'équation est exacte si : $B = 0$ et $1 - \frac{L}{(R+r)}.\frac{1}{\tau} = 0$ d'où $\tau = \frac{L}{(R+r)}$

- Déterminer la constante **A** par les conditions initiales :

à $t=0$ la tension $i(0)=I_0$, on remplace dans l'équation horaire et on obtient :

$$i(t) = A \cdot e^{-\frac{t}{\tau}} + B$$

$$I_0 = A \cdot e^0 + B = A + B, B=0 \text{ et } A = I_0 = -\frac{E}{(R+r)}$$

Conclusion : $A=I_0$, $B=0$ et $\tau = \frac{L}{(R+r)}$ alors $i(t) = A \cdot e^{-\frac{t}{\tau}} + B = I_0 \cdot e^{-\frac{t}{\tau}} = I_0 \cdot e^{-\frac{t}{\tau}}$

NB :

- $\tau = \frac{L}{R_T}$: Constante de temps et est homogène à un temps.
- $I_0 = \frac{E}{R+r} = \frac{E}{R_T}$: Intensité maximale du courant électrique dans le circuit avec $R_T=R+r$
- Conditions initiales (à $t=0$) :

Etablissement de courant : $i = 0$ et $U_R = 0$

Annulation de courant : $i = I_0 = \frac{E}{R+r} = \frac{E}{R_T}$ et $U_R = R \cdot I_0$

- Il faut souvent penser à exploiter les conditions initiales dans :

(1) La loi d'additivités de tension :

Etablissement $U_R + U_L = E$ et $U_L = E$

Annulation $U_R + U_L = 0$ et $U_L = -U_R = -E$

(2) L'équation différentielle

Etablissement $i + \frac{L}{R+r} \cdot \frac{di}{dt} = \frac{E}{R+r}$ et $\frac{L}{R+r} \cdot \frac{di}{dt} = \frac{E}{R+r}$

Annulation $i + \frac{L}{R+r} \cdot \frac{di}{dt} = 0$ et $\frac{L}{R+r} \cdot \frac{di}{dt} = -i = -I_0$

(3) L'équation horaire (ou La solution) $i(t) = A \cdot e^{-\frac{t}{\tau}} + B$

$$i(0) = A \cdot e^0 + B = A + B$$

- **Exploiter la solution**

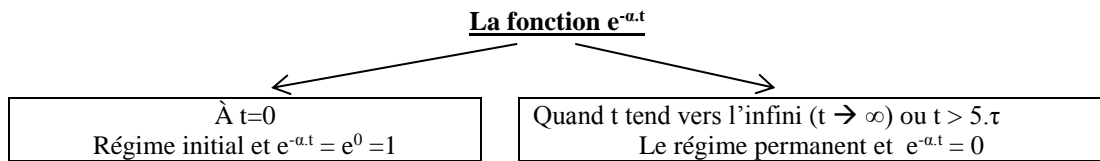
Exploiter la solution pour déterminer

- Le temps t à partir de l'intensité de courant et inversement
- Autres expressions (tensions ou autres) en fonction de temps

Quelques courbes

**
* Comment tracer l'allure des courbes en $e^{-\alpha.t}$

Pour tracer des courbes en $e^{-\alpha.t}$ il faut prendre en considération les limites des courbes

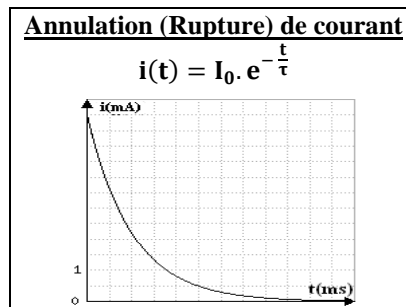
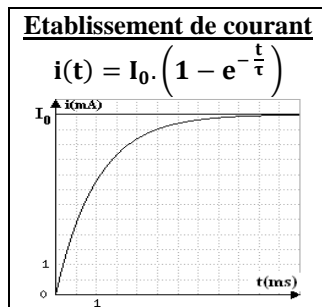


$e^{-\alpha.t}$ prend la valeur 1 pour déterminer le début de la courbe et la valeur 0 (zéro) pour déterminer sa limite (Le régime permanent)

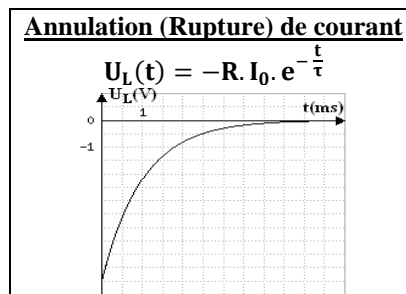
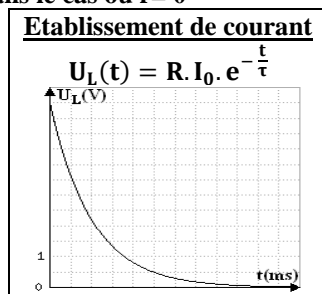
Exemples :

La fonction $A.e^{-\lambda.t}$	<ul style="list-style-type: none"> À $t=0$ prend la valeur A Quand $t \rightarrow \infty$ prend la valeur 0 (Le régime permanent)
La fonction $A.(1 - e^{-\lambda.t})$	<ul style="list-style-type: none"> À $t=0$ prend la valeur 0 Quand $t \rightarrow \infty$ prend la valeur A (Le régime permanent)

$i(t)$: Intensité de courant

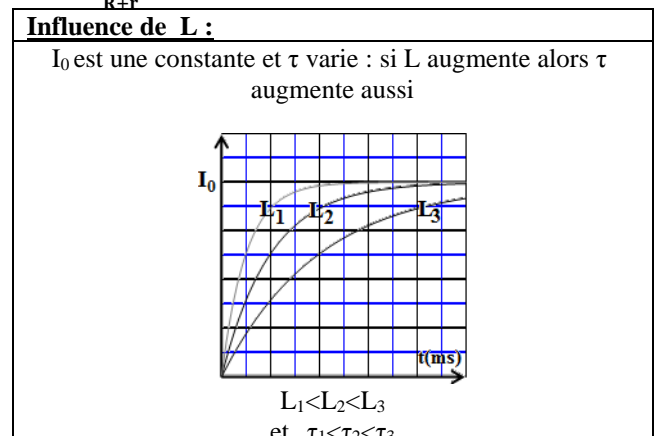
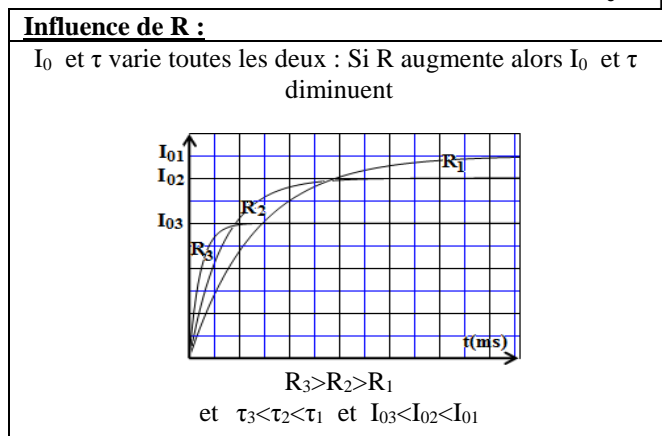


$U_L(t)$: la tensions $U_L(t)$ dans le cas ou $r=0$



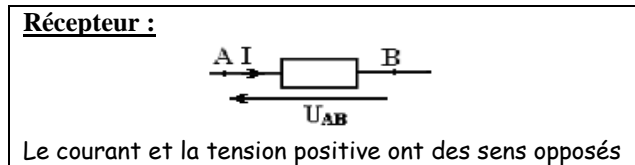
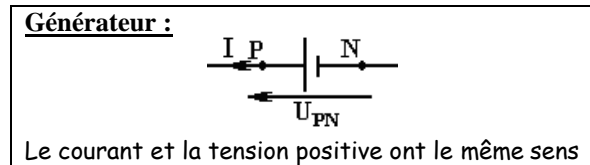
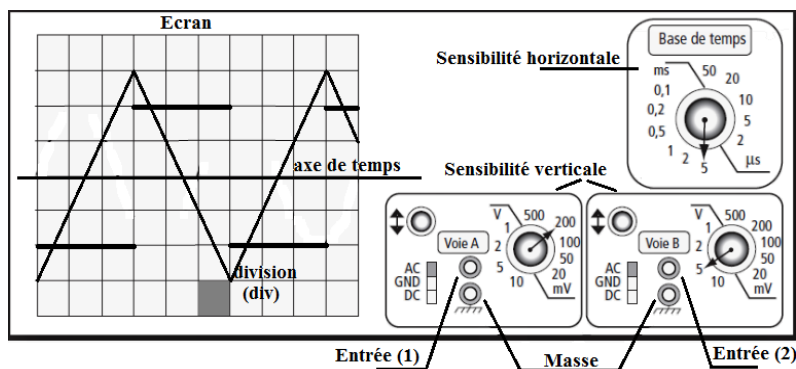
**
* Influence de la variation du coefficient d'induction L ou de la résistance R sur les courbes

On a : $I_0 = \frac{E}{R+r}$ et $\tau = \frac{L}{R+r}$



Rappel :**1. Sens du courant électrique**

Le courant électrique, opposé au sens de déplacement des électrons, parcourt un circuit du pôle positif vers le pôle négatif

2. Générateur et Récepteur**3. Oscilloscope (Oscillogramme)**

Un oscilloscope a une masse et plusieurs entrées

Une entrée est caractérisée par :

- Une sensibilité verticale (? V/div) ou (? V/cm)
- Une sensibilité horizontale (? ms/div) ou (? ms/cm)

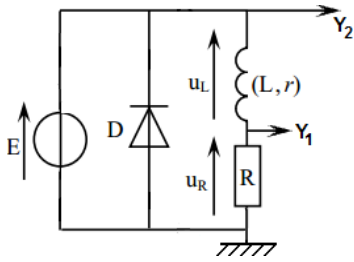
Au moyen d'un oscilloscope on peut déterminer :

- Les tensions maximales
- La période T
- La durée (ou le décalage horaire) $\tau = \Delta t$ entre deux tensions

NB :

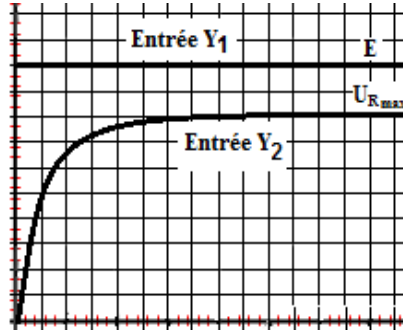
La masse est l'origine de toute tension électrique (d.d.p) visible sur l'écran

Etude du circuit RL (cas d'établissement de courant)



On observe sur l'écran de l'oscilloscope :

- **A l'entrée Y₁** : la tension U_R aux bornes du conducteur ohmique
- **A l'entrée Y₂** : la tension $E=U_R+U_L$ aux bornes du Générateur



- Sur l'entrée Y₂ on mesure E la tension du générateur.
- Sur l'entrée Y₁ on mesure U_{Rmax} la tension maximale de conducteur ohmique et en déduire I_0 l'intensité de courant maximale

$$I_0 = \frac{E}{R+r} \quad \text{et} \quad I_0 = \frac{U_{Rmax}}{R}$$

- Au régime permanent $U_R=U_{Rmax}$ et $i=I_0$ et $\frac{di}{dt} = 0$

$$U_L = E - U_R = E - U_{Rmax} \quad \text{et}$$

$$U_L = r \cdot i + L \cdot \frac{di}{dt} = r \cdot I_0 \quad \text{donc} \quad E - U_{Rmax} = r \cdot I_0$$

- Graphiquement on peut déduire τ la constante de temps $U_R(\tau) = 0.63 \cdot U_{Rmax}$ et par projection on peut déterminer τ

$$\tau = \frac{L}{R+r}$$

**

Expressions dans le régime permanent et le régime initiale :

$i(t)$: Intensité de courant

$U_R(t)$: Tension du conducteur ohmique

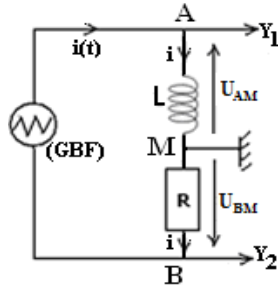
$U_L(t)$: Tension de la bobine

	$i(t)$	$U_R(t)$	$U_L(t)$	Loi d'additivité des tensions	Equation différentielle
Régime	$i(t) = I_0 (1 - e^{-\lambda \cdot t})$	$U_R(t) = R \cdot i(t)$	$U_L = r \cdot i + L \cdot \frac{di}{dt}$	$U_R + U_L = E$	$i \cdot (R + r) + L \cdot \frac{di}{dt} = E$
Initial ($t=0$)	$i=0$	$U_R=0$	$U_L = L \cdot \frac{di}{dt}$	$U_L = E$	$L \cdot \frac{di}{dt} = E$
Permanent ($t \rightarrow \infty$)	$I_0 = \frac{E}{R+r}$	$U_R(t) = R \cdot I_0$	$U_L = r \cdot I_0$	$R \cdot I_0 + r \cdot I_0 = E$	$I_0 \cdot (R + r) = E$
Permanent et $r=0$	$I_0 = \frac{E}{R}$	$U_R(t) = R \cdot I_0$	$U_L = 0$	$R \cdot I_0 = E$	$I_0 \cdot R = E$

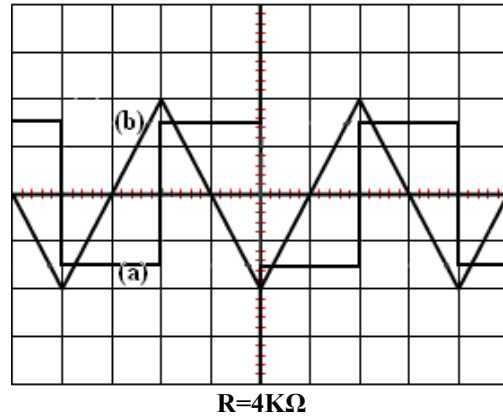


Déterminer graphiquement L le coefficient d'induction de la bobine

Soit le circuit suivant :



Sensibilité verticale de la voie Y ₁	500mV/div
Sensibilité verticale de la voie Y ₂	2V/div
Sensibilité horizontale	1ms/div



Expression des tensions (à comparer le sens positif (Souvent le sens du courant) du courant et le sens des tensions)

$$U_{BM} = -R \cdot i \quad \text{et} \quad U_{AM} = r \cdot i + L \cdot \frac{di}{dt} = L \cdot \frac{di}{dt}$$

Déduction la relation entre U_{AB} et U_{BM}

$$U_{BM} = -R \cdot i \quad \text{et} \quad i = -\frac{U_{BM}}{R} \quad \text{et} \quad \frac{di}{dt} = -\frac{1}{R} \cdot \frac{dU_{BM}}{dt}$$

$$\text{et} \quad U_{AM} = L \cdot \frac{di}{dt} = -\frac{L}{R} \cdot \frac{dU_{BM}}{dt}$$

$$\text{donc} \quad U_{AM} = -\frac{L}{R} \cdot \frac{dU_{BM}}{dt}$$

Déduire la courbe correspondante à chacune des deux tensions

$$U_{BM} = -\frac{L}{R} \cdot \frac{dU_{AM}}{dt}$$

La tension U_{BM}

- Non nulle $U_{BM} \neq 0$
- Dérivable $\frac{dU_{BM}}{dt}$
- Sa dérivée première est non nulle $\frac{dU_{BM}}{dt} \neq 0$

Conclusion

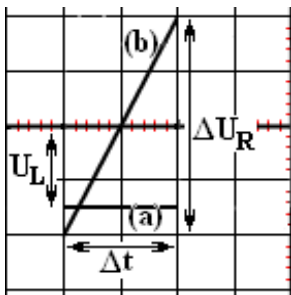
Sur Y₁ on observe la tension U_{AM} relative à la courbe (b)

La tension U_{AM}

- Non nulle $U_{AM} \neq 0$

Sur Y₂ on observe la tension U_{AM} relative à la courbe (a)

Exploiter les deux courbes et déterminer L :



• **La tension U_{BM}**

La fonction de la courbe (b) est une fonction affine et $\frac{dU_{BM}}{dt}$ sa dérivée première est son coefficient directeur

$$\text{donc} \quad \frac{dU_{BM}}{dt} = \frac{dU_{BM}}{dt} = \frac{4 \times 2}{2 \times 10^{-3}} = 4 \times 10^3 \text{ V} \cdot \text{s}^{-1}$$

• **La tension U_{AM}**

$$U_{AM} = -1.5 \times 0.5 = -0.75 \text{ V}$$

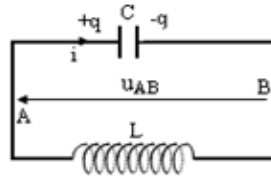
On a $U_{BM} = -\frac{L}{R} \cdot \frac{dU_{AM}}{dt}$ et $\frac{L}{R} = -\frac{U_{BM}}{\frac{dU_{AM}}{dt}}$ d'où $L = -R \cdot \frac{U_{BM}}{\frac{dU_{AM}}{dt}}$

$$L = -R \cdot \frac{U_{BM}}{\frac{dU_{AM}}{dt}} = -4 \times 10^3 \times \frac{-0.75}{4 \times 10^3} = 0.75 \text{ H}$$

LE CIRCUIT LC (Circuit oscillant)

Dipôle LC : association série d'un condensateur chargé de capacité C et de charge initiale q_0 et d'une bobine d'inductance L et de résistance interne r négligeable.

1. Montage : Décharge d'un condensateur dans une bobine



2. Equation différentielle :

En appliquant la loi d'additivité des tensions $U_C + U_L = 0$ et les transitions :

$$q = C \cdot U_C \quad \text{et} \quad i = \frac{dq}{dt} = C \cdot \frac{dU_C}{dt} \quad \text{et} \quad \frac{di}{dt} = \frac{d^2q}{dt^2} = C \cdot \frac{d^2U_C}{dt^2} \quad U_L = r \cdot i + L \cdot \frac{di}{dt} = L \cdot \frac{di}{dt} \quad ; \quad r=0$$

On aboutit à l'équation différentielle vérifiée par une variable donnée :

$$U_C + U_L = U_C + r \cdot i + L \cdot \frac{di}{dt} = U_C + L \cdot \frac{di}{dt} = 0$$

Variable U_C :

$$U_C + L \cdot \frac{di}{dt} = U_C + L \cdot C \cdot \frac{d^2U_C}{dt^2} = 0 \quad \text{ou} \quad \frac{d^2U_C}{dt^2} + \frac{1}{LC} \cdot U_C = 0$$

Variable q :

$$U_C + L \cdot \frac{di}{dt} = U_C + L \cdot \frac{d^2q}{dt^2} = 0$$

$$\frac{q}{C} + L \cdot \frac{d^2q}{dt^2} = 0 \quad \text{ou} \quad \frac{d^2q}{dt^2} + \frac{1}{LC} \cdot q = 0$$

$$\text{Avec } \omega_0^2 = \frac{1}{LC}$$

ω_0 : Pulsation propre (en rad/s)

3. Equation horaire ou la solution :

Soit $U_C(t)$ comme variable, la solution est :

$U_C(t) = U_m \cdot \cos\left(\frac{2\pi}{T_0} \cdot t + \varphi\right)$	<p>avec U_m : L'amplitude (la valeur maximale de la tension $U_C(t)$)</p> <p>$\frac{2\pi}{T_0} \cdot t + \varphi$: La phase à l'instant t</p> <p>φ : la phase à l'origine des temps $t=0$</p> <p>T_0 : la période propre (s)</p> <p>$\omega_0 = \frac{2\pi}{T_0}$: Pulsation propre (en rad/s)</p>
--	--

a. Déterminer T_0 la période propre :

Remplacer la solution et sa dérivée seconde dans l'équation différentielle :

$$U_C(t) = U_m \cdot \cos\left(\frac{2\pi}{T_0} \cdot t + \varphi\right)$$

$$\frac{dU_C(t)}{dt} = -U_m \cdot \frac{2\pi}{T_0} \cdot \sin\left(\frac{2\pi}{T_0} \cdot t + \varphi\right)$$

$$\frac{d^2U_C}{dt^2} = -U_m \cdot \left(\frac{2\pi}{T_0}\right)^2 \cdot \cos\left(\frac{2\pi}{T_0} \cdot t + \varphi\right)$$

$$\frac{d^2U_C}{dt^2} + \frac{1}{LC} \cdot U_C = 0$$

$$-U_m \cdot \left(\frac{2\pi}{T_0}\right)^2 \cdot \cos\left(\frac{2\pi}{T_0} \cdot t + \varphi\right) + \frac{1}{LC} \cdot U_m \cdot \cos\left(\frac{2\pi}{T_0} \cdot t + \varphi\right) = 0 \quad \text{donc} \quad U_m \cdot \cos\left(\frac{2\pi}{T_0} \cdot t + \varphi\right) \cdot \left(-\left(\frac{2\pi}{T_0}\right)^2 + \frac{1}{LC}\right) = 0$$

L'équation est juste si $-\left(\frac{2\pi}{T_0}\right)^2 + \frac{1}{LC} = 0$ et $\frac{1}{LC} = \left(\frac{2\pi}{T_0}\right)^2$, on en déduit alors $T_0 = 2 \cdot \pi \cdot \sqrt{L \cdot C}$

Remarque :

$$\omega_0 = \frac{2\pi}{T_0} = \frac{2\pi}{2 \cdot \pi \cdot \sqrt{L \cdot C}} = \frac{1}{\sqrt{L \cdot C}} \quad \text{d'où} \quad \omega_0^2 = \frac{1}{LC}$$

b. Déterminer U_m et φ par les conditions initiales :

- A $t=0$:
- Le condensateur est chargé et $U_C(0) = U_0 = E$
 - $i(0)=0$: le circuit est ouvert

On remplace les conditions initiales dans les expressions de $U_C(t)$ et $i(t)$ à l'instant $t=0$.

$$U_C(t) = U_m \cdot \cos\left(\frac{2\pi}{T_0} \cdot t + \varphi\right) \quad \text{et} \quad i(t) = C \cdot \frac{dU_C(t)}{dt} = -C \cdot U_m \cdot \frac{2\pi}{T_0} \cdot \sin\left(\frac{2\pi}{T_0} \cdot t + \varphi\right)$$

A l'instant $t=0$

$$U_c(0) = U_m \cos(\varphi) \quad \text{et} \quad i(0) = -C \cdot U_m \cdot \frac{2\pi}{T_0} \cdot \sin(\varphi)$$

(1) $U_c(0) = U_m \cos(\varphi) = E$ $\cos(\varphi) = \frac{E}{U_m}$

(2) et $i(0) = -C \cdot U_m \cdot \frac{2\pi}{T_0} \cdot \sin(\varphi) = 0$ alors $\sin(\varphi) = 0$ d'où $\varphi=0$ ou $\varphi=\pi$

(3) Or $E > 0$ et $U_m > 0$ alors $\cos(\varphi) = \frac{E}{U_m} > 0$ d'où $\varphi=0$

De la relation (1) on en déduit : $U_m = \frac{E}{\cos(\varphi)} = \frac{E}{\cos(0)} = E$

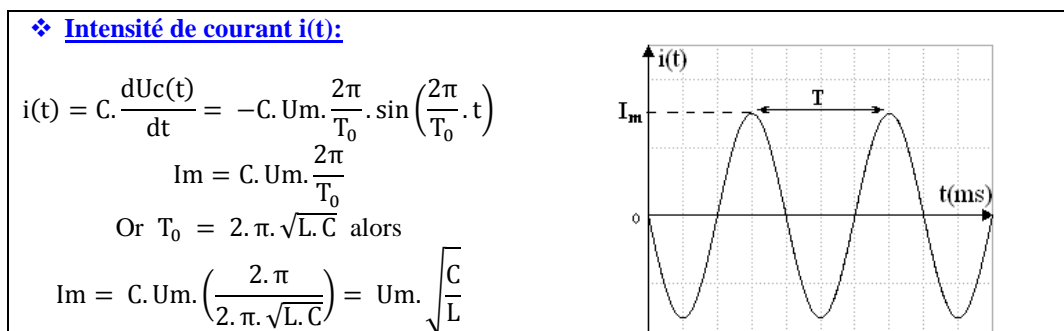
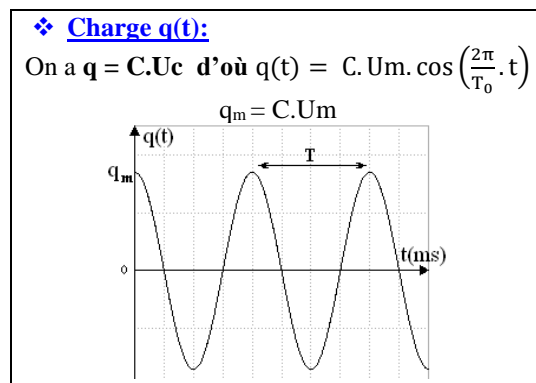
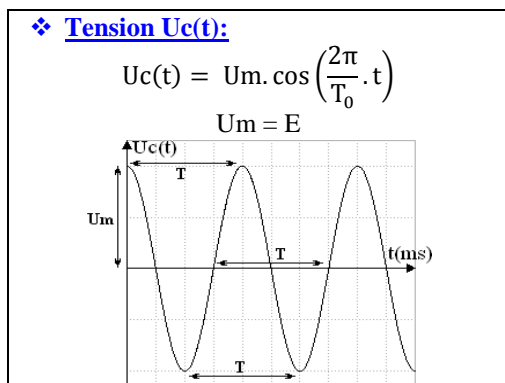
Conclusion : $U_m=E$, $\varphi=0$, et $T_0 = 2 \cdot \pi \cdot \sqrt{L \cdot C}$ alors : $U_c(t) = E \cdot \cos\left(\frac{2\pi}{T_0} \cdot t\right)$

****** Déterminer l'expression de l'intensité de courant et en déduire sa valeur maximale :

$$i = C \cdot \frac{dU_c}{dt} = -C \cdot U_m \cdot \left(\frac{2\pi}{T_0}\right) \cdot \sin\left(\frac{2\pi}{T_0} t + \varphi\right) = I_m \cdot \sin\left(\frac{2\pi}{T_0} t + \varphi\right) : \text{Expression de l'intensité de courant}$$

$$\text{Avec} \quad I_m = C \cdot U_m \cdot \left(\frac{2\pi}{T_0}\right) = C \cdot U_m \cdot \left(\frac{2\pi}{2\pi \cdot \sqrt{L \cdot C}}\right) = U_m \cdot \sqrt{\frac{C}{L}}$$

Quelques Courbes



Etude énergétique, Energie totale

1. Energie totale E_T :

L'énergie totale E_T emmagasinée dans un circuit LC est à tout instant la somme de l'énergie électrique E_e dans le condensateur et de E_m l'énergie magnétique dans la bobine

$$E_T = E_e + E_m \quad \text{avec} \quad E_e = \frac{1}{2} \frac{q^2}{C} = \frac{1}{2} C \cdot U_C^2$$

$$E_m = \frac{1}{2} L i^2 = \frac{1}{2} \cdot L \cdot \left(\frac{U_R}{R}\right)^2 = \frac{1}{2} \cdot \frac{L}{R^2} \cdot U_R^2$$

2. Conservation de l'énergie totale E_T :

$$E_T = E_e + E_m = \frac{1}{2} C \cdot U_C^2 + \frac{1}{2} L \cdot i^2$$

et on dérive ; $(f^n)' = n \cdot f^{n-1} \cdot f'$ et $f^2 = 2 \cdot f \cdot f'$

$$\frac{dE_T}{dt} = \frac{d}{dt} \left(\frac{1}{2} C \cdot U_C^2 + \frac{1}{2} L \cdot i^2 \right)$$

$$= \frac{1}{2} C \cdot \frac{d}{dt} U_C^2 + \frac{1}{2} L \cdot \frac{d}{dt} i^2 \quad ; \frac{dU_C^2}{dt} = 2 \cdot U_C \cdot \frac{dU_C}{dt} \quad \text{et} \quad \frac{di^2}{dt} = 2 \cdot i \cdot \frac{di}{dt}$$

$$= \frac{1}{2} C \cdot \left(2 \cdot U_C \cdot \frac{dU_C}{dt} \right) + \frac{1}{2} L \cdot \left(2 \cdot i \cdot \frac{di}{dt} \right) \quad ; i = C \cdot \frac{dU_C}{dt} \quad \text{et} \quad \frac{di}{dt} = C \cdot \frac{d^2 U_C}{dt^2}$$

$$= C \cdot U_C \cdot \frac{dU_C}{dt} + L \cdot i \cdot \frac{di}{dt}$$

$$= C \cdot U_C \cdot \frac{dU_C}{dt} + L \cdot i \cdot \frac{di}{dt}$$

$$= C \cdot U_C \cdot \frac{dU_C}{dt} + L \cdot \left(C \cdot \frac{dU_C}{dt} \right) \cdot \left(C \cdot \frac{d^2 U_C}{dt^2} \right)$$

$$= C \cdot \frac{dU_C}{dt} \left(U_C + L \cdot C \cdot \frac{d^2 U_C}{dt^2} \right) \quad ; U_C + L \cdot C \cdot \frac{d^2 U_C}{dt^2} = 0 : \text{Equation différentielle}$$

$$= 0$$

Conclusion :

$E_T = C^{te}$ est une constante au cours du temps donc l'énergie totale se conserve

❖ Conclusion: Transfert d'énergie entre le condensateur et la bobine:

Les oscillations correspondent à un échange énergétique entre le condensateur et la bobine : Il y a conversion d'énergie électrique en énergie magnétique et réciproquement.

$$E = E_e + E_m \quad \text{avec} \quad E_e = \frac{1}{2} \frac{q^2}{C} \quad \text{et} \quad E_m = \frac{1}{2} L \cdot i^2 = \frac{1}{2} L \left(\frac{dq}{dt} \right)^2$$

** Expression de l'énergie magnétique E_m :

$$E_m = \frac{1}{2} L \cdot i^2 = \frac{1}{2} L \cdot \left(\frac{dq}{dt} \right)^2 \quad ; i = \frac{dq}{dt} = C \cdot \frac{dU_C}{dt}$$

$$= \frac{1}{2} L \cdot q_m^2 \cdot \omega_0^2 \cdot \sin^2(\omega_0 \cdot t + \varphi) \quad ; q(t) = q_m \cdot \cos(\omega_0 \cdot t + \varphi) \quad \text{et} \quad \omega_0^2 = \frac{1}{LC}$$

$$= \frac{1}{2} \cdot \frac{q_m^2}{C} \cdot \sin^2(\omega_0 \cdot t + \varphi) \quad ; L \cdot \omega_0^2 = \frac{1}{C}$$

$$= \frac{1}{2} \cdot \frac{q_m^2}{C} \cdot (1 - \cos^2(\omega_0 \cdot t + \varphi))$$

$$= \frac{1}{2 \cdot C} (q_m^2 - q_m^2 \cdot \cos^2(\omega_0 \cdot t + \varphi))$$

$$= \frac{1}{2 \cdot C} (q_m^2 - q^2)$$

****** Exploiter les courbes :

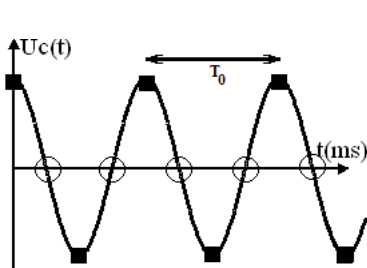
$$i = \frac{dq}{dt} = C \cdot \frac{dU_c}{dt}$$

$i(t)$ est la dérivée première de $U_c(t)$ représentant une fonction sinusoïdale ($U_c(t) = U_m \cdot \cos\left(\frac{2\pi}{T_0} \cdot t\right)$) donc $i(t)$ est nulle si $U_c(t)$ (ou bien $q(t)$) est extrémum (soit maximum ou minimum) et inversement.

Points spécifiques sur la figure	$U_c(t)$	$q(t)$	$i(t)$	E_e	E_m	$E_T = E_e + E_m$
○	0	0	I_m	0	$E_m = \frac{1}{2} L I_m^2$	$E_T = \frac{1}{2} L I_m^2 = \frac{1}{2} L \frac{U_{Rm}^2}{R^2} = \frac{1}{2} \cdot \frac{L}{R^2} \cdot U_{Rm}^2$
■	U_m	q_m	0	$E_e = \frac{1}{2} \frac{q_m^2}{C}$	0	$E_T = \frac{1}{2} \frac{q_m^2}{C} = \frac{1}{2} C \cdot U_{Cm}^2$

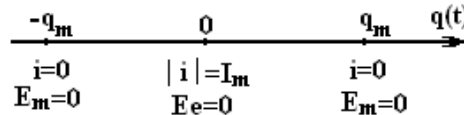
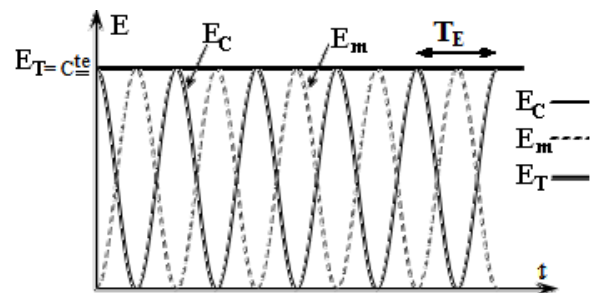
NB :

L'énergie totale dans un circuit LC est constante et est égale à l'énergie électrique initiale (maximale)



$$T_0 = 2 \cdot T_E$$

T_0 : période propre
 T_E : période des énergies



Quand le temps est en fonction de la période propre T_0

$$U_c(t) = U_m \cdot \cos(\omega_0 \cdot t + \varphi) = U_m \cdot \cos\left(\frac{2\pi}{T_0} \cdot t + \varphi\right)$$

A chaque fois qu'on a ω_0 vaut mieux la remplacer par son expression $\omega_0 = \frac{2\pi}{T_0}$ surtout si le temps est donnée en fonction de la période T_0 , $t=f(T_0)$ (à éviter surtout de faire des applications numériques)

Expression de t	$t = \frac{T_0}{4}$	$t = \frac{T_0}{2}$	$t = 3 \cdot \frac{T_0}{4}$
Expression de $\omega_0 \cdot t$	$\omega_0 \cdot t = \frac{2\pi}{T_0} \cdot t = \frac{2\pi}{T_0} \cdot \frac{T_0}{4} = \frac{\pi}{2}$	$\omega_0 \cdot t = \frac{2\pi}{T_0} \cdot t = \frac{2\pi}{T_0} \cdot \frac{T_0}{2} = \pi$	$\omega_0 \cdot t = \frac{2\pi}{T_0} \cdot t = \frac{2\pi}{T_0} \cdot 3 \cdot \frac{T_0}{4} = 3 \cdot \frac{\pi}{2}$

La période des énergies

Ee : Energie électrique

$$E_e = \frac{1}{2} C \cdot U_c^2 = \frac{1}{2} C \cdot E^2 \cdot \cos^2\left(\frac{2\pi}{T_0} \cdot t\right) \quad ; \quad 2 \cdot \cos^2 x = 1 + \cos(2 \cdot x)$$

$$E_e = \frac{1}{4} C \cdot E^2 \cdot \left(1 + \cos\left(\frac{4\pi}{T_0} \cdot t\right)\right)$$

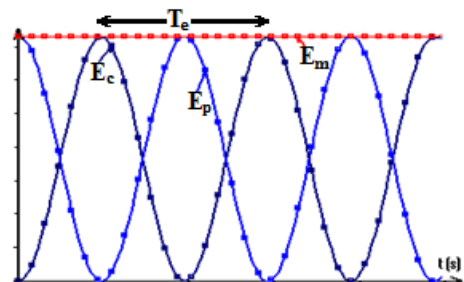
$$E_e = \frac{1}{4} C \cdot E^2 \cdot \left(1 + \cos\left(\frac{2\pi}{T_e} \cdot t\right)\right)$$

Em : Energie magnétique

$$E_m = \frac{1}{2} L \cdot i^2 = \frac{1}{2} L \cdot (C \cdot E)^2 \cdot \sin^2\left(\frac{2\pi}{T_0} \cdot t + \varphi\right) \quad ; \quad 2 \cdot \sin^2 x = 1 - \cos(2 \cdot x)$$

$$E_m = \frac{1}{4} C \cdot E^2 \cdot \left(1 - \cos\left(\frac{4\pi}{T_0} \cdot t\right)\right)$$

$$E_m = \frac{1}{4} C \cdot E^2 \cdot \left(1 - \cos\left(\frac{2\pi}{T_e} \cdot t\right)\right)$$



NB :

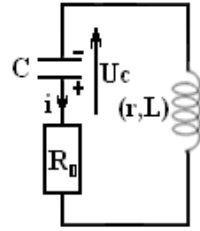
$T_0 = 2 \cdot T_e$: La période propre des oscillations électriques T_0 est le double de la période des énergies T_e

CIRCUIT RLC

1. Décharge d'un condensateur dans une bobine

Le montage est constitué de :

- Un condensateur de capacité C , initialement chargé et porteur de la charge q_0 et une tension $U_0=E$
- Une bobine de coefficient d'induction L et de résistance interne r
- Un conducteur ohmique de résistance R_0



La résistance totale du circuit est $R_T = R_0 + r$

2. Equation différentielle :

En appliquant la loi d'additivité des tensions $U_R + U_C + U_L = 0$ et les transitions :

$$U_R = R \cdot i = R \cdot \frac{dq}{dt} = R \cdot C \cdot \frac{dU_C}{dt} \quad \text{et} \quad U_L = r \cdot i + L \cdot \frac{di}{dt} = L \cdot \frac{d^2q}{dt^2}$$

On aboutit à l'équation différentielle vérifiée par une variable donnée :

$$q = C \cdot U_C \quad \text{et} \quad i = \frac{dq}{dt} = C \cdot \frac{dU_C}{dt}$$

Variable U_C :

$$R \cdot i + U_C + L \cdot \frac{di}{dt} = 0 \quad \text{donc} \quad R \cdot C \cdot \frac{dU_C}{dt} + U_C + L \cdot C \cdot \frac{d^2U_C}{dt^2} = 0$$

$$\text{d'où} \quad \frac{d^2U_C}{dt^2} + \frac{R}{L} \cdot \frac{dU_C}{dt} + \frac{1}{L \cdot C} U_C = 0$$

Variable q :

$$R \cdot i + U_C + L \cdot \frac{di}{dt} = 0 \quad \text{donc} \quad R \cdot \frac{dq}{dt} + \frac{q}{C} + L \cdot \frac{d^2q}{dt^2} = 0$$

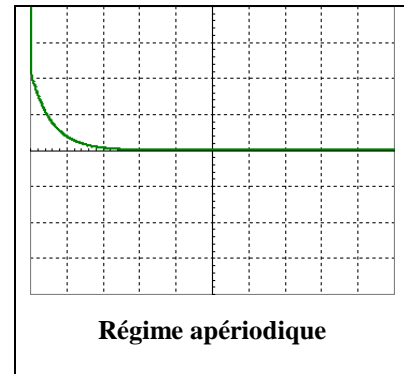
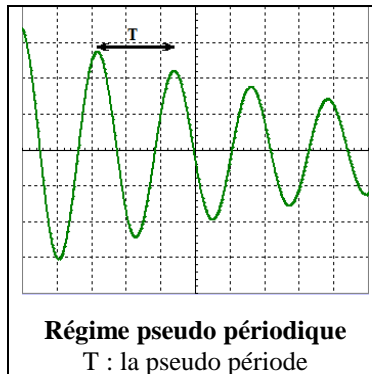
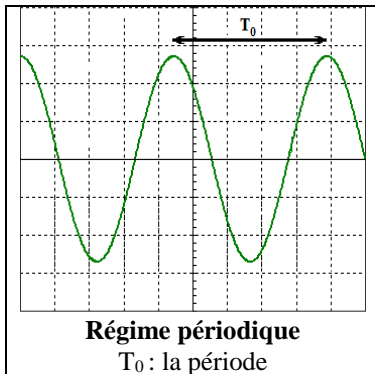
$$\text{d'où} \quad \frac{d^2q}{dt^2} + \frac{R}{L} \cdot \frac{dq}{dt} + \frac{1}{L \cdot C} q = 0$$

La grandeur $\frac{R}{L} \cdot \frac{dU_C}{dt}$ ou $\frac{R}{L} \cdot \frac{dq}{dt}$

- Concrétise le caractère non-oscillatoire du système (l'amortissement des oscillations électriques)
- Détermine le régime des oscillations (périodique, pseudo périodique ou apériodique)

La résistance est le dipôle qui influe sur l'amplitude des oscillations, quand la résistance R du circuit est :

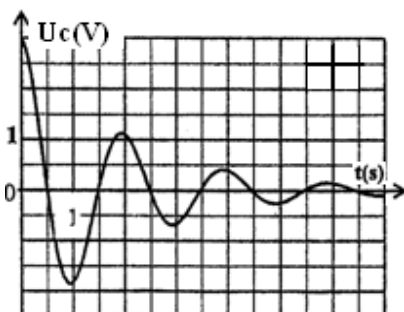
- **Faible** les oscillations du système sont amorties, le régime est **pseudopériodique**.
- **Élevée** le système n'oscille pas et donc le régime est apériodique



NB :

La période et la pseudo période sont considérés souvent égales $T \approx T_0 = 2 \cdot \pi \cdot \sqrt{L \cdot C}$

3. Courbe de la tension du condensateur (Régime pseudo périodique) :



L'amplitude des oscillations diminue au cours du temps

La cause : La résistance est le dipôle qui influe sur l'amplitude des oscillations

L'explication : Dissipation (perte) progressive de l'énergie (initialement emmagasinée dans le condensateur) en énergie thermique par effet joule dans les résistances.

NB :

L'amortissement est d'autant plus important que la résistance est élevée

Un circuit électrique RLC, réalisé avec un condensateur chargé, est le siège d'oscillations électriques libres amorties.

4. Transfert d'énergie entre le condensateur et la bobine :

$$E_T = E_e + E_m = \frac{1}{2} C \cdot U_C^2 + \frac{1}{2} L \cdot i^2$$

et on dérive ; $(f^n)' = n \cdot f^{n-1} \cdot f'$ et $f^2 = 2 \cdot f \cdot f'$

$$\frac{dE_T}{dt} = \frac{d}{dt} \left(\frac{1}{2} C \cdot U_C^2 + \frac{1}{2} L \cdot i^2 \right)$$

$$= \frac{1}{2} C \cdot \frac{d}{dt} U_C^2 + \frac{1}{2} L \cdot \frac{d}{dt} i^2$$

$$= \frac{1}{2} C \cdot (2 \cdot U_C \cdot \frac{dU_C}{dt}) + \frac{1}{2} L \cdot (2 \cdot i \cdot \frac{di}{dt})$$

$$= C \cdot U_C \cdot \frac{dU_C}{dt} + L \cdot i \cdot \frac{di}{dt}$$

$$= C \cdot U_C \cdot \frac{dU_C}{dt} + L \cdot i \cdot \frac{di}{dt}$$

$$= C \cdot U_C \cdot \frac{dU_C}{dt} + L \cdot (C \cdot \frac{d^2 U_C}{dt^2}) \cdot (C \cdot \frac{d^2 U_C}{dt^2})$$

$$= C \cdot \frac{dU_C}{dt} \left(U_C + L \cdot C \cdot \frac{d^2 U_C}{dt^2} \right)$$

$$= C \cdot \frac{dU_C}{dt} \left(-R \cdot C \cdot \frac{dU_C}{dt} \right)$$

$$= R \cdot (C \cdot \frac{dU_C}{dt})^2$$

$$= -R \cdot i^2 < 0$$

; $R \cdot C \cdot \frac{dU_C}{dt} + U_C + L \cdot C \cdot \frac{d^2 U_C}{dt^2} = 0$: Equation différentielle d'où

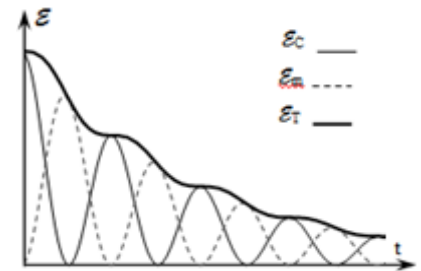
$$U_C + L \cdot C \cdot \frac{d^2 U_C}{dt^2} = -R \cdot C \cdot \frac{dU_C}{dt}$$

; $i = C \cdot \frac{dU_C}{dt}$

NB :

$$\frac{dE_T}{dt} = -R \cdot i^2 < 0$$

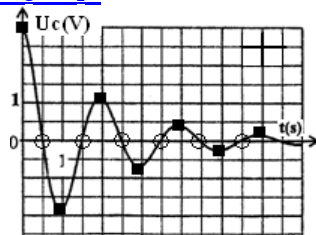
- Les oscillations correspondent à un échange énergétique entre le condensateur et la bobine : Il y a conversion d'énergie électrique en énergie magnétique et réciproquement.
- **Le circuit (RLC) est dissipatif d'énergie** : son énergie totale E_T diminue au cours du temps.



- Le phénomène d'amortissement résulte de la dissipation (perte) de l'énergie totale dans le circuit sous forme d'énergie thermique par effet joule

**** Comment calculer l'énergie dissipée entre deux instant t_1 et t_2 :**

Points spécifiques sur la figure	U_C	i	E_e	E_m	E_T
■	U_{Cmax}	0	$E_e = \frac{1}{2} C \cdot U_{Cmax}^2$	0	$E_T = \frac{1}{2} C \cdot U_{Cmax}^2$
○	0	I_m	0	$E_m = \frac{1}{2} L \cdot I_m^2$	$E_T = \frac{1}{2} L \cdot I_m^2$



$\Delta E_T = E_T(t_2) - E_T(t_1)$: L'énergie dissipée par effet joule entre les instants t_1 et t_2

5. Entretien des oscillations

Entretenir des oscillations dans un circuit c'est lui fournir de l'énergie pour compenser les pertes par effet Joule dans les résistances, alors on ajoute au circuit un générateur de tensions

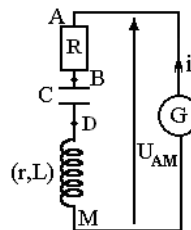
$$U_{AM} = U_{AB} + U_{BD} + U_{DM}$$

$$U_{AM} = R \cdot i + \frac{q}{C} + r \cdot i + L \cdot \frac{di}{dt}$$

$$U_{AM} = (R+r) \cdot \frac{dq}{dt} + \frac{q}{C} + L \cdot \frac{d^2 q}{dt^2}$$

On en déduit l'équations différentielle :

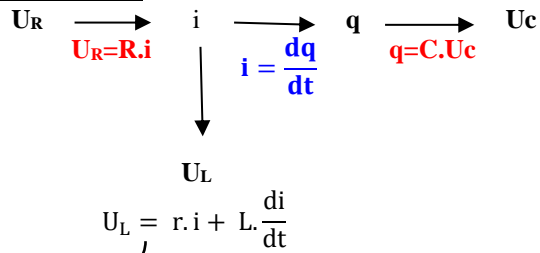
$$\ddot{q} + \left(\frac{R+r}{L} \dot{q} - \frac{U_{AM}}{L} \right) + \frac{1}{LC} \cdot q = 0$$



Si $U_{AM} = (R+r) \cdot i$ La tension au borne du générateur est proportionnelle à l'intensité de courant et que le coefficient de proportionnalité est $(R+r)$ alors $\ddot{q} + \frac{1}{LC} \cdot q = 0$

Conclusion :

Le générateur fournit au circuit l'énergie nécessaire pour compenser l'énergie dissipée (perdue) par effet Joule à condition que $U_{AM} = (R+r) \cdot i$

A COMPRENDRE**La loi d'additivité des tensions****Transitions :****Equation différentielle vérifiée par la charge q ou la tension Uc**

Equation différentielle est une relation entre une variable (si possible) et au moins une de ses dérivées et des constantes

1. Déterminer la dérivée première
2. Remplacer l'équation différentielle
3. Développer
4. Mettre en facteur $A.e^{f(t)}.(---)$
But : $A.e^{f(t)}.(---) + B = C$
5. Egalité de deux fonctions polynomiales

Conclusion : $B = C$ et $(---) = 0$

Remplacer la solution dans l'équation différentielle

$$\frac{de^{f(x)}}{dt} = \frac{df(t)}{dt} \cdot e^{f(x)}$$

$$\frac{d\cos f(t)}{dt} = -\frac{df(t)}{dt} \cdot \sin f(t)$$

$$\frac{d\sin f(t)}{dt} = \frac{df(t)}{dt} \cdot \cos f(t)$$

$$f(t) = \alpha.t + \beta \quad \frac{df(t)}{dt} = \alpha$$

Equation horaire ou la solution de l'équation différentielle

Remplacer les conditions initiales dans la solution

Les conditions initiales

À $t=0$, la variable prend une valeur bien précise à connaître

Circuit RC			Circuit RL			Circuit LC et RLC		
Charge	$\tau = R.C$	Décharge	Etablissement du courant	$\tau = \frac{L}{R_T}$	Rupture du courant	Décharge d'un condensateur dans une bobine		
$U_c = 0$		$U_c = E$	$i = I_0 = \frac{E}{R_T}$		$i = 0$	$U_c = E$	$T = T_0 = 2.\pi.\sqrt{L.C}$	
0		$c.E$	$U_R = R.T.I_0$		$U_R = 0$	$i = 0$		
$i = I_0 = \frac{E}{R}$	$i = -I_0 = -\frac{E}{R}$			$U_R = 0$				

NB : Penser bien remplacer les conditions initiales dans l'équations différentielles et la loi d'additivité des tensions

Energies

Energie électrique :

$$E_e = \frac{1}{2} \cdot C \cdot U_c^2 = \frac{1}{2} \cdot \frac{q^2}{C}$$

Energie magnétique :

$$E_m = \frac{1}{2} \cdot L \cdot i^2 = \frac{1}{2} \cdot L \cdot \left(\frac{U_R}{R}\right)^2 = \frac{1}{2} \cdot \frac{L}{R^2} \cdot U_R^2$$

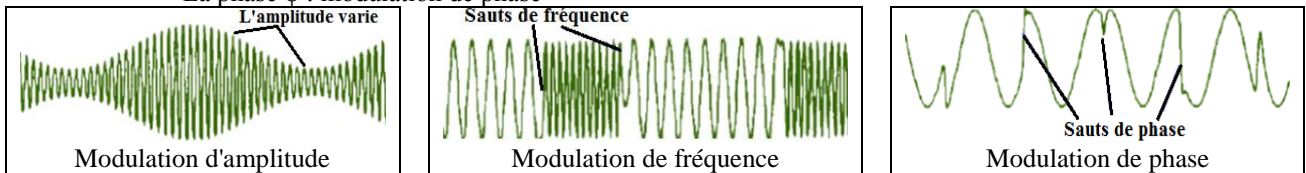
Energie totale :

$$E_T = E_e + E_m$$

MODULATION ET DEMODULATION

1. MODULATION :

- Le signal à transmettre (musique, voix ...) (appelé **signal modulant ou modulateur**), signal de basse fréquence, est transformé en tension électrique par un microphone ; la tension ainsi formée est utilisée pour faire varier (on dit **moduler**) l'amplitude d'un signal de Haute Fréquence (H.F.) appelée **porteuse**.
- Dans la porteuse $p(t) = P_m \cdot \cos(2\pi \cdot N \cdot t + \varphi)$, trois paramètres peuvent être modifiés :
 - L'amplitude U_m : modulation d'amplitude
 - La fréquence N : modulation de fréquence
 - La phase φ : modulation de phase

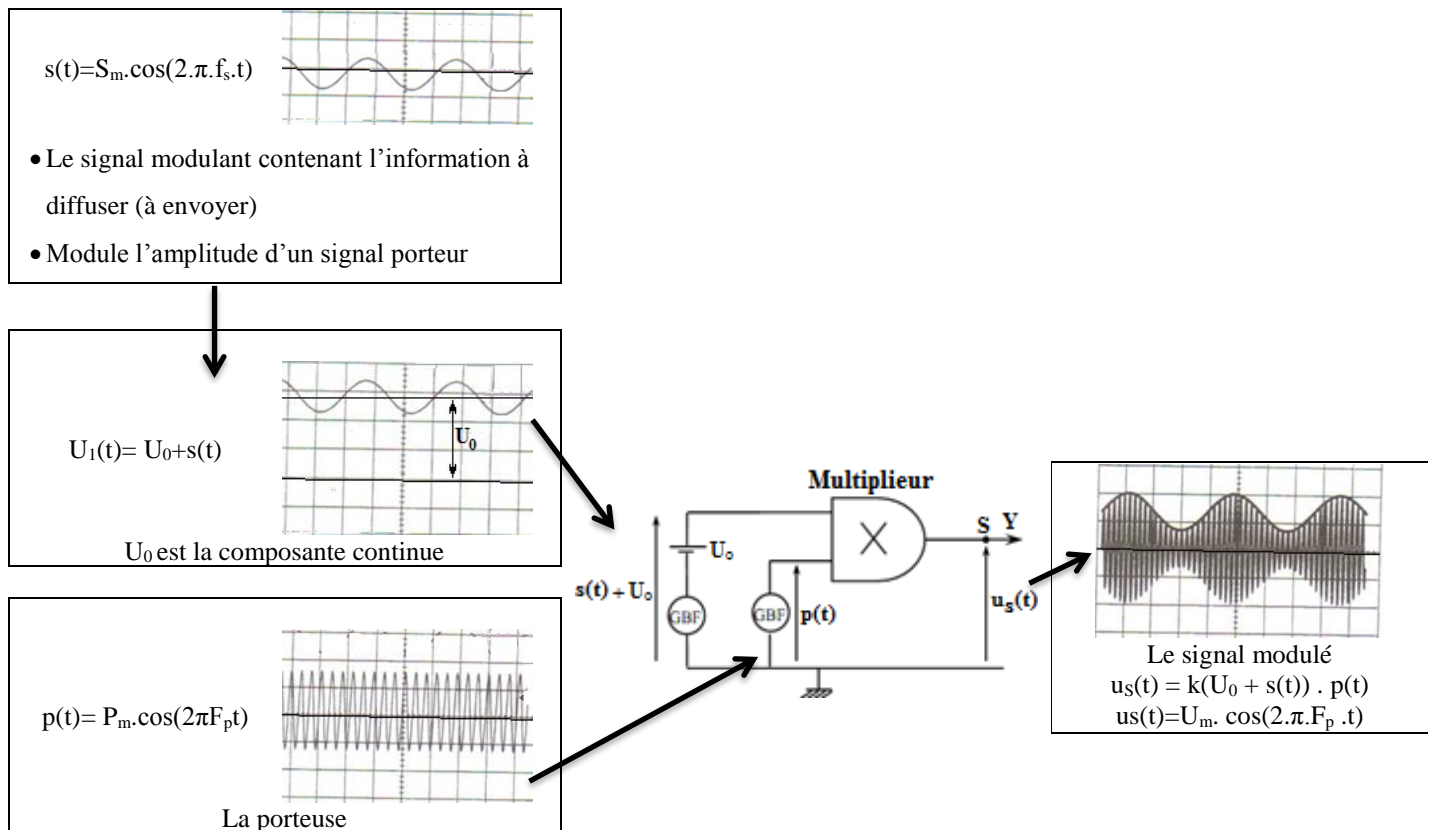


- Le signal modulé est transformé en onde électromagnétique contenant les mêmes fréquences est émis par une antenne émettrice.

La modulation d'amplitude d'une tension porteuse $p(t)$ de haute fréquence F_p permet la transmission de signaux de faibles fréquences (une tension $s(t)$ de basse fréquence f_s) avec :

$s(t) = S_m \cos(2\pi \cdot f_s \cdot t)$: signal de faible fréquence

$p(t) = P_m \cos(2\pi F_p t)$: porteuse



$$u_s(t) = k(U_0 + s(t)) \cdot p(t) \Leftrightarrow u_s(t) = k \cdot P_m (U_0 + s(t)) \cos(2\pi F_p t)$$

k : constante qui caractérise le multiplieur et dont l'unité est (V^{-1})

si la tension modulante $s(t)$ est une tension sinusoïdale alors $s(t) = S_m \cos(2\pi \cdot f_s \cdot t)$ alors $u_s(t)$ devient

$$u_s(t) = k \cdot P_m (U_0 + S_m \cdot \cos(2\pi \cdot f_s \cdot t)) \cdot \cos(2\pi \cdot F_p \cdot t) = k \cdot P_m \cdot U_0 \left(1 + \frac{S_m}{U_0} \cos(2\pi \cdot f_s \cdot t) \right) \cdot \cos(2\pi \cdot F_p \cdot t)$$

On pose $A = k \cdot P_m \cdot U_0$ et $m = \frac{S_m}{U_0}$: le taux de modulation et

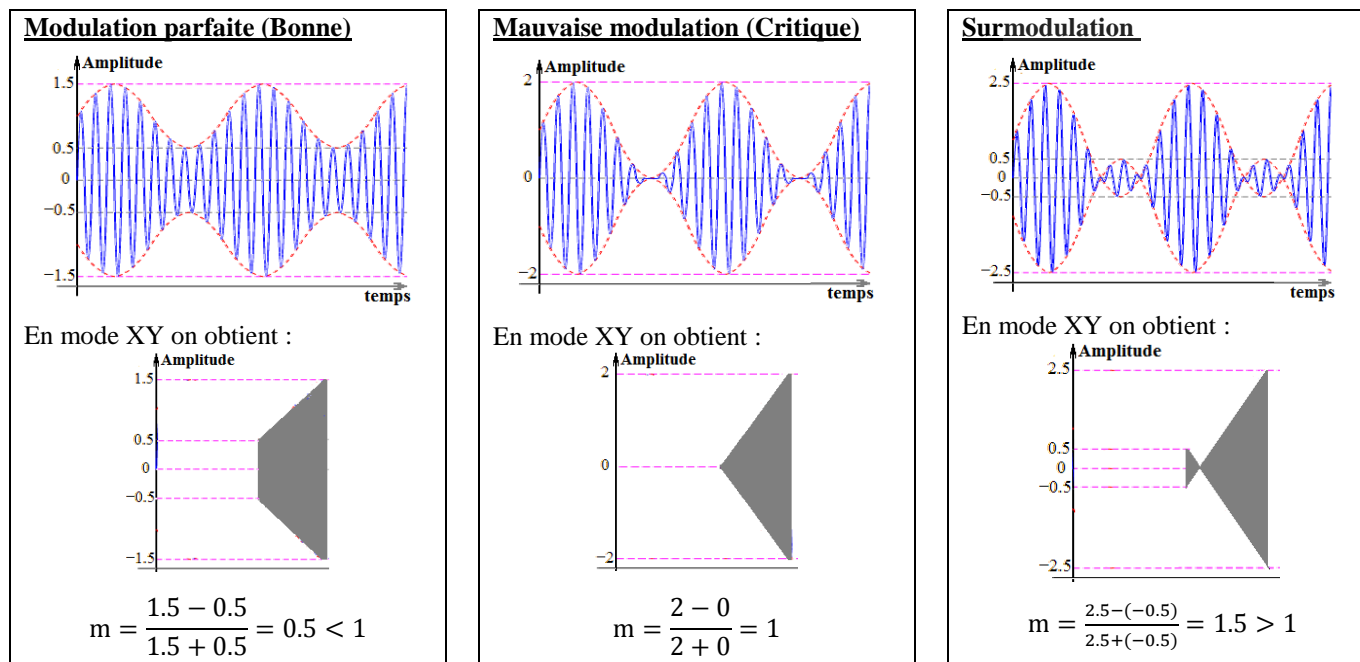
$$u_s(t) = A (1 + m \cdot \cos(2\pi \cdot f_s \cdot t)) \cdot \cos(2\pi \cdot F_p \cdot t) = U_m \cdot \cos(2\pi \cdot F_p \cdot t) \text{ donc } U_m = A (1 + m \cdot \cos(2\pi \cdot f_s \cdot t))$$

On en déduit que l'amplitude U_m de la tension modulé est une fonction sinusoïdale de fréquence f_s et est limité par deux valeurs $U_{m \max}$ et $U_{m \min}$ tel que : $U_{m \max} = A \cdot (1 + m)$ et $U_{m \min} = A \cdot (1 - m)$

$$\text{On aura alors : } U_{m \max} + U_{m \min} = 2 \cdot A \quad \text{et} \quad U_{m \max} - U_{m \min} = 2 \cdot A \cdot m \quad \text{d'où} \quad m = \frac{U_{m \max} - U_{m \min}}{U_{m \max} + U_{m \min}}$$

Pour une modulation parfaite il faut que :

- La fréquence F_p de la porteuse soit nettement supérieure à la fréquence de la modulante f_s : $F_p \gg f_s$
(Généralement $F_p \gg 10.f_s$)
- Le taux de modulation m soit inférieur à 1 : $m < 1$



2. Spectre des fréquences :

Le spectre de fréquences du signal modulé est un graphe présentant l'amplitude de chaque composante sinusoïdale du signal.

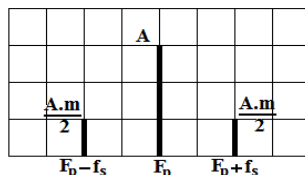
$$\text{On a } u_s(t) = A \cdot (1 + A \cdot m \cdot \cos(2 \cdot \pi \cdot f_s \cdot t)) \cdot \cos(2 \cdot \pi \cdot F_p \cdot t) = A \cdot \cos(2 \cdot \pi \cdot F_p \cdot t) + A \cdot m \cdot \cos(2 \cdot \pi \cdot f_s \cdot t) \cdot \cos(2 \cdot \pi \cdot F_p \cdot t)$$

$$\text{On sait que } 2 \cdot \cos(a) \cdot \cos(b) = \cos(a+b) + \cos(a-b)$$

$$u_s(t) = A \cdot \cos(2 \cdot \pi \cdot F_p \cdot t) + \frac{A \cdot m}{2} \cdot \cos(2 \cdot \pi \cdot (F_p - f_s) \cdot t) + \frac{A \cdot m}{2} \cdot \cos(2 \cdot \pi \cdot (F_p + f_s) \cdot t)$$

Conclusion : la tension modulée est la somme de trois tensions sinusoïdales avec des fréquences différentes

La fonction	$A \cdot \cos(2 \cdot \pi \cdot F_p \cdot t)$	$\frac{A \cdot m}{2} \cdot \cos(2 \cdot \pi \cdot (F_p - f_s) \cdot t)$	$\frac{A \cdot m}{2} \cdot \cos(2 \cdot \pi \cdot (F_p + f_s) \cdot t)$
Amplitude	A	$\frac{A \cdot m}{2}$	$\frac{A \cdot m}{2}$
Fréquence	F_p	$F_p - f_s$	$F_p + f_s$



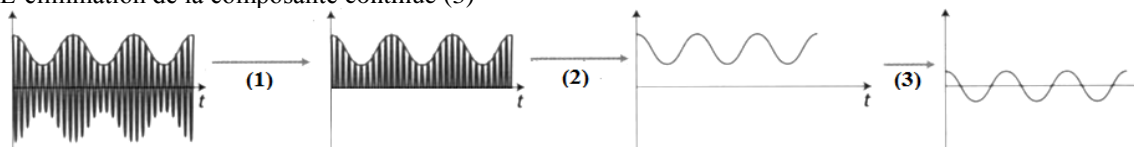
3. LA DEMODULATION :

Une antenne réceptrice capte l'onde électromagnétique et restitue le signal électrique modulé. La **démodulation** permet alors d'**extraire le signal modulant s(t)** d'origine du signal modulé.

Pour restituer l'information de la tension modulante, il suffit ensuite de **démoduler** le signal reçu

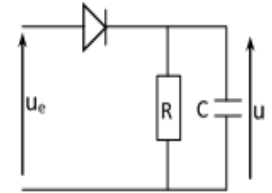
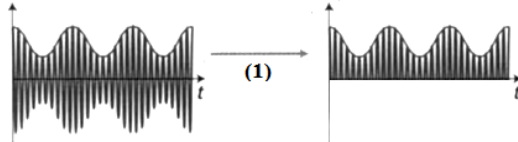
Elle s'opère comme suit :

- La réception par une antenne réceptrice
- La suppression des alternances négatives (1)
- La détection d'enveloppe (2)
- L'élimination de la composante continue (3)

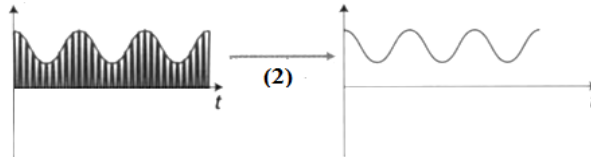


a) Première opération : la suppression des alternances négatives (1)

La diode bloque les alternances négatives. La tension recueillie aux bornes du conducteur ohmique est une **tension modulée redressée**.

**b) Deuxième opération :** La détection de l'enveloppe et la suppression de la porteuse

Le montage à utiliser comporte un **filtre passe – bas** (Un condensateur en parallèle avec un conducteur ohmique), c'est-à-dire ne laissant passer que les composantes aux fréquences basses et arrêtant celles aux fréquences élevées.

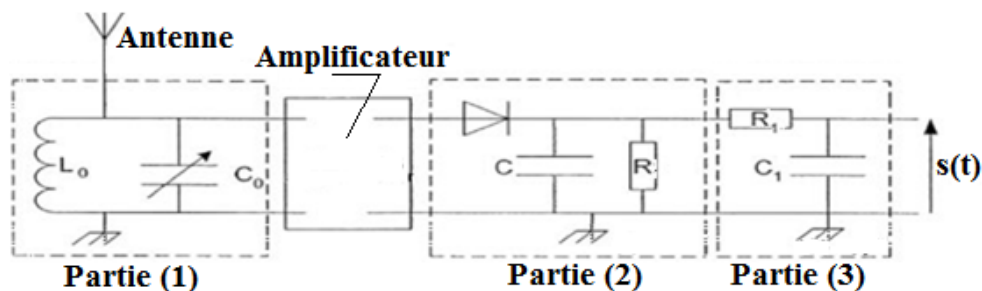
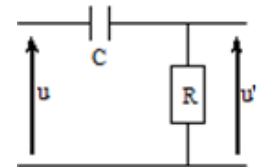
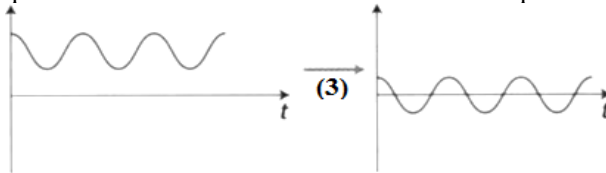
**NB :**

Pour retrouver une enveloppe de porteuse fidèle au signal modulant originel, il faut donc que :

$$T_p \ll RC < T_s \quad \text{avec} \quad \begin{array}{l} T_s : \text{La période du signal modulant} \\ T_p : \text{La période du signal modulant} \end{array}$$

c) Troisième opération : la suppression de la composante continue

Le montage à utiliser comporte un **filtre passe – haut**, c'est-à-dire ne laissant passer que les composantes aux fréquences élevées et arrêtant celles aux basses fréquences et continues.



Le rôle de chaque partie dans la démodulation :

Antenne	Réception des ondes électromagnétique
Partie (1) : Circuit LC	Sélectionner la fréquence F_p ; $F_p = \frac{1}{T_p} = \frac{1}{2\pi\sqrt{L.C}}$ $T_p = 2.\pi.\sqrt{L.C}$: période de la porteuse
Amplificateur	Amplifier le signal modulé sélectionné
Partie (2) : Circuit RC ou filtre passe – bas	Elimine les alternances négatives et détecte l'enveloppe $T_p \ll RC < T_s$ T_p : période de la porteuse T_s : période de la modulante
Partie (3) : Circuit RC ou filtre passe – haut	Suppression de la composante continue U_0
s(t)	La tension modulante

Circuit RLC forcé

1. Valeurs maximales et valeurs efficaces :

$$U_{\text{eff}} = \frac{U_{\text{max}}}{\sqrt{2}} \quad I_{\text{eff}} = \frac{I_{\text{max}}}{\sqrt{2}}$$

Les valeurs maximales I_m et U_m se déduisent des courbes (...A/div ou ...V/div)

Les valeurs efficaces I_{eff} et U_{eff} se déduisent des appareils de mesures (Ampère mètre et Voltmètre)

2. Impédance Z $U=Z.I$

La résistance électrique d'un **CONDUCTEUR** ohmique est la propriété de ce conducteur à s'opposer à la circulation du courant électrique.

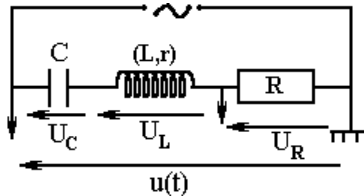
L'impédance électrique d'un **CIRCUIT** est la propriété de ce circuit à s'opposer à la circulation du courant électrique **ALTERNATIF**.

3. Loi d'OHM :

La tension aux bornes d'une composante électronique et l'intensité de courant qui la traverse sont proportionnelle

$$Z = \frac{U}{I} = \frac{U_{\text{eff}}}{I_{\text{eff}}} = \frac{U_{\text{max}}}{I_{\text{max}}}$$

4. Oscillations électriques forcées d'un circuit RLC :



- Au moyen d'un oscilloscope on peut visualiser $U_R(t)$ et $u(t)$
- La tension $U_R(t)$ et l'intensité $i(t)$ sont proportionnelle $U_R(t)=R.i(t)$

$$i(t) = I_m \cdot \cos(\omega \cdot t)$$

$$u(t) = U_m \cdot \cos(\omega \cdot t + \varphi)$$

NB :

- En changeant l'emplacement de la terre on change ainsi la tension observée sur l'oscilloscope
- Toutes les tensions observées sont représentées par des flèches dont l'origine coïncide avec la masse

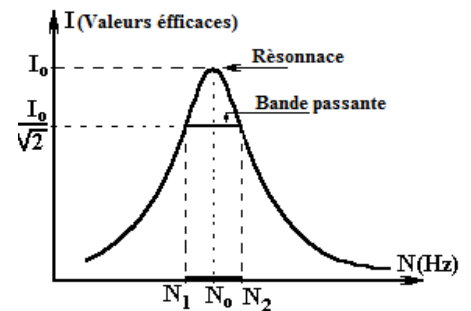
5. La bande passante :

La bande passante $[N_1, N_2]$ est le domaine (ou l'intervalle) des fréquences où la réponse du circuit est satisfaisante et $I \geq \frac{I_0}{2}$

$$\Delta N = \frac{\Delta \omega}{2\pi} = \frac{1}{2\pi} \frac{R}{L}$$

R est la résistance équivalente

Aux bornes de la bande passante $I = \frac{I_0}{\sqrt{2}}$, $N = N_1$ et $N = N_2$
 N_1 et N_2 les fréquences aux bornes de la bande passante



Conclusion :

On a $U = Z.I$, $U = R.I_0$ et aux extrémités de la bande passante on a : $I = \frac{I_0}{\sqrt{2}}$ et $\frac{U}{Z} = \frac{U}{R \cdot \sqrt{2}}$ donc $Z = R \cdot \sqrt{2}$

6. Facteur de qualité Q (coefficient de surtension) :

$$Q = \frac{N_0}{\Delta N} = \frac{\omega_0}{\Delta \omega} = \frac{L \cdot \omega_0}{R} = \frac{1}{R \cdot C \cdot \omega_0} = \frac{1}{R} \cdot \sqrt{\frac{L}{C}}$$

7. Puissance instantanée :

$$P_i = u(t) \cdot i(t) = U \cdot I \cdot [\cos(\varphi) + \cos(2 \cdot \omega \cdot t + \varphi)]$$

U et I respectivement la tension et l'intensité efficace

Puissance moyenne reçue pendant une période T $P = U \cdot I \cdot \cos(\varphi)$
--

Puissance apparente $S = U \cdot I$
--

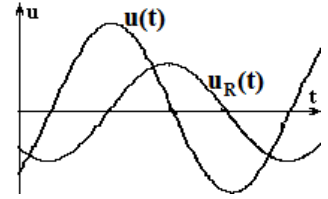
Coefficient de frottement $\tan(\varphi)$
--

NB :

- La tension maximale U_m aux bornes du circuit RLC est toujours supérieure à la tension maximale aux bornes du conducteur ohmique U_{Rm}

$$Z \geq R + r \text{ et } Z.I \geq (R+r).I \text{ donc } U_m \geq U_{Rm}$$

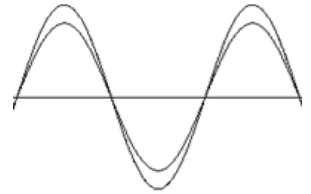
- Quand on compare la tension $u(t)$ d'un circuit et l'intensité de courant $i(t)$ qui le traverse et avec un oscilloscope réglé sur la **même sensibilité verticale** alors la courbe dont l'amplitude maximale (la plus ample) correspond à la tension $u(t)$

**8. Cas de la résonance :**

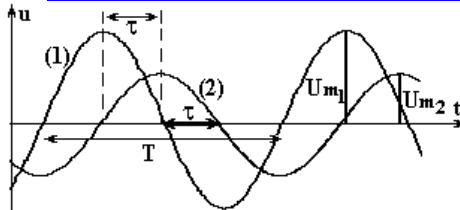
$$L \cdot \omega = \frac{1}{C \cdot \omega}$$

- Le circuit en résonance et la pulsation du circuit est égale à la pulsation propre $\omega = \omega_0 = \sqrt{\frac{1}{LC}}$

- $\varphi = 0$: L'intensité du courant $i(t)$ et la tension $u(t)$ sont en phase
- $L \cdot C \cdot \omega^2 = 1$
- L'intensité efficace I_0 est maximale
- L'impédance Z est minimale $Z = Z_0 = R + r$



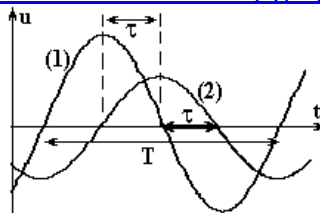
**

Comment exploiter un oscillogramme

Graphiquement on peut déterminer :

- La période T et en déduire la fréquence N et la pulsation ω
- Le déphasage horaire τ et en déduire la phase $|\varphi|$ en valeur absolue
- Les tensions maximales U_m et U_{m2} et déduire :
 - Les tensions efficaces correspondantes
 - L'intensité de courant maximale I_m
 - L'impédance Z du circuit
- Laquelle des tensions est en avance de phase (La tension (1) est en avance de phase par rapport à la tension (2))
- A partir des expressions des tensions on peut en déduire le signe de la phase φ

**

Comment déterminer φ graphiquement

Graphiquement on détermine :

- Les valeurs de T la période et le déphasage horaire τ et en déduire le déphasage φ en valeur absolue :

$$|\varphi| = \omega \cdot \tau = \frac{2\pi}{T} \cdot \tau$$

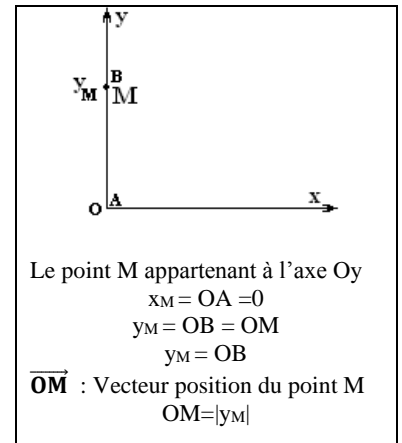
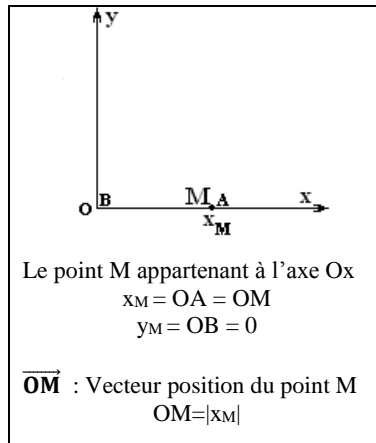
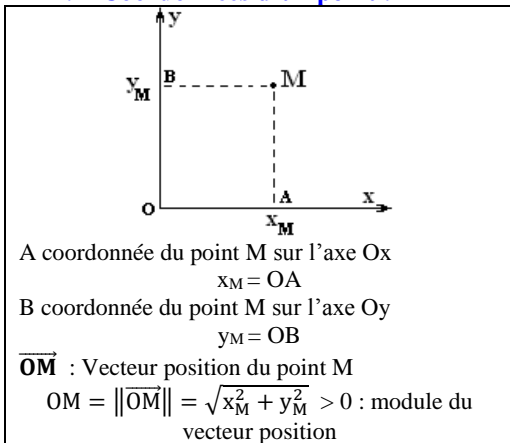
- Laquelle des tensions est en avance de phase (La tension (1) est en avance de phase par rapport à la tension (2))
- A partir des expressions des tensions on peut en déduire le signe de la phase φ

Exemples :

Les fonctions sinusoïdales	U et i sont en phase	u(t) en avance par rapport à i(t)	i(t) en avance par rapport à u(t)
$u = U_m \cdot \cos(\omega \cdot t + \varphi)$ $i = I_m \cdot \cos(\omega \cdot t)$	$\varphi = 0$	$\varphi > 0$	$\varphi < 0$
$u = U_m \cdot \cos(\omega \cdot t)$ $i = I_m \cdot \cos(\omega \cdot t + \varphi)$		$\varphi < 0$	$\varphi > 0$

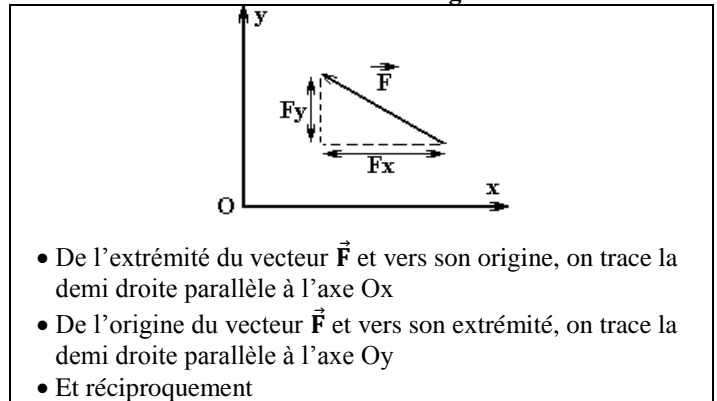

Coordonnées d'un point et d'un vecteur

1. Coordonnées d'un point :



2. Coordonnées d'un vecteur :

Coordonnée d'un vecteur = Coordonnée de l'extrémité – Coordonnée de l'origine



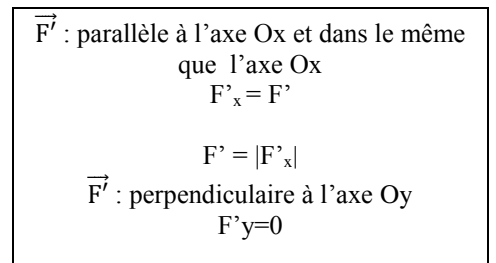
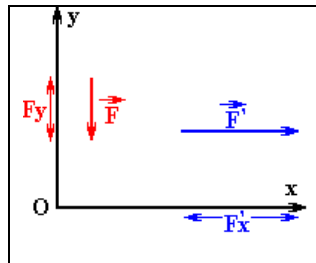
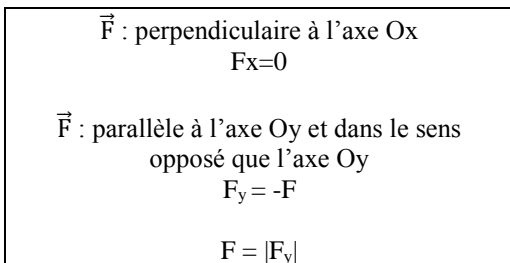
$$F = \|\vec{F}\| = \sqrt{F_x^2 + F_y^2} : \text{Intensité (module) de la force } \vec{F}$$

NB :

- En comparant le sens du vecteur et le sens d'orientation de l'axe on peut déterminer le **signe** de la coordonnée sur cet axe
 - S'ils ont le même sens alors la coordonnée est positive
 - S'ils ont des sens opposés alors la coordonnée est négative
- Tout changement d'orientation de l'axe affecte le signe de la coordonnée

❖ Cas particulier :

- Si le vecteur force \vec{F} est parallèle à l'axe Ox alors $F_y = 0$ et $F = |F_x|$
- Si le vecteur force \vec{F} est parallèle à l'axe Oy alors $F_x = 0$ et $F = |F_y|$

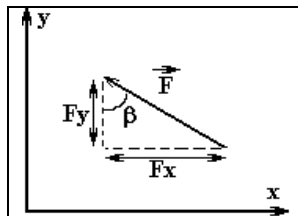


❖ Rappel :

$$\sin(\text{angle}) = \frac{\text{Opposé}}{\text{Hypoténuse}}$$

$$\text{Opposé} = \text{Hypoténuse} * \sin(\text{angle})$$

$$F_x = -F \cdot \sin(\beta)$$



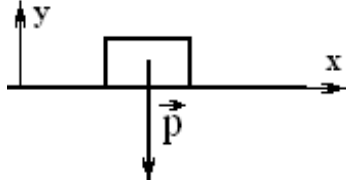
$$\cos(\text{angle}) = \frac{\text{Adjacent}}{\text{Hypoténuse}}$$

$$\text{Adjacent} = \text{Hypoténuse} * \cos(\text{angle})$$

$$F_y = F \cdot \cos(\beta)$$

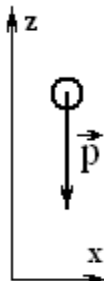
3. Coordonnées du poids \vec{P} d'un corps :

Mouvement sur un plan horizontal



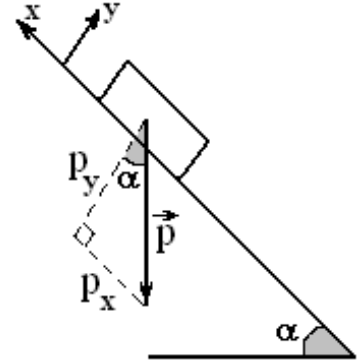
\vec{P} est perpendiculaire à l'axe Ox
 $P_x = 0$
 \vec{P} est parallèle à l'axe Oy
 $P_y = -P = -m.g$

Mouvement verticale



\vec{P} est perpendiculaire à l'axe Ox
 $P_x = 0$
 \vec{P} est parallèle à l'axe Oz
 $P_z = -P = -m.g$

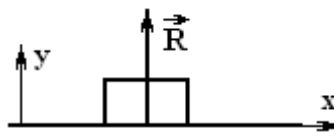
Mouvement sur un plan incliné



$P_x = -P \cdot \sin(\alpha) = -m.g \cdot \sin(\alpha)$
 $P_y = -P \cdot \cos(\alpha) = -m.g \cdot \cos(\alpha)$

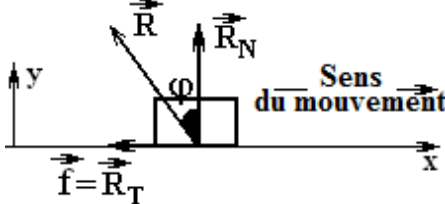
4. Coordonnées de la réaction \vec{R} d'un plan :

Contact sans frottement (Frottement négligeable)



La force \vec{R} est perpendiculaire à la surface de contact
 \vec{R} est perpendiculaire à l'axe Ox
 $R_x = 0$
 \vec{R} est parallèle à l'axe Oy et orienté dans le même sens
 $R_y = R$

Contact avec frottement



La force \vec{R} n'est pas perpendiculaire à la surface de contact et s'oppose toujours au mouvement
 $R_x = -R_T = -f = -R \cdot \sin(\varphi)$
 $R_y = R_N = R \cdot \cos(\varphi)$

Vecteur position, Vecteur vitesse et Vecteur accélération

1. Repérer un point M d'un mobile dans un repère d'espace

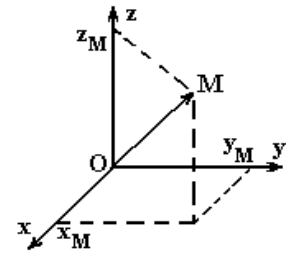
Le vecteur position \vec{OM} permet de repérer le point M dans l'espace par rapport à un référentiel choisi pour l'étude.

$$\vec{OM} = x \cdot \vec{i} + y \cdot \vec{j} + z \cdot \vec{k}$$

$$\vec{OM} = x \cdot \vec{i} + y \cdot \vec{j} + z \cdot \vec{k} \text{ ou } \vec{OM} \begin{pmatrix} x \\ y \\ z \end{pmatrix}$$

$$OM = \|\vec{OM}\| = \sqrt{x^2 + y^2 + z^2} : \text{module du vecteur position}$$

Les fonctions $x(t)$, $y(t)$ et $z(t)$ sont les équations horaires du mouvement

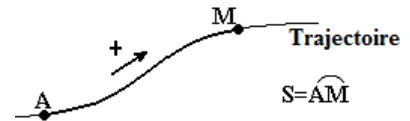


2. L'abscisse curviligne

Mesurable sur la trajectoire après avoir définis :

- Un sens positif le long du trajet
- Un point A origine des abscisses curvilignes $S(A)=0$

$$S = \widehat{AM} = f(t) : \text{Equation horaire}$$



3. Vecteur vitesse

Le vecteur vitesse \vec{V} est défini comme la dérivée première du vecteur position par rapport au temps.

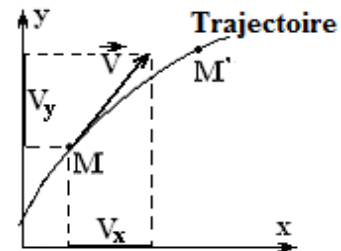
$$\vec{V} = \frac{d\vec{OM}}{dt}$$

Caractéristiques du vecteur vitesse en un point M :

- Direction : toujours tangente à la trajectoire au point M
- Sens : toujours dans le sens du mouvement
- Intensité (module ou valeur) : V et dont l'unité est m/s ou $m \cdot s^{-1}$

$$\vec{V} = V_x \cdot \vec{i} + V_y \cdot \vec{j} + V_z \cdot \vec{k} \text{ ou } \vec{V} \begin{pmatrix} V_x \\ V_y \\ V_z \end{pmatrix}$$

$$V = \|\vec{V}\| = \sqrt{V_x^2 + V_y^2 + V_z^2} : \text{module du vecteur vitesse}$$



NB:

La relation entre vecteur est bien identique à la relation entre composantes sur les axes.

$$\vec{V} = \frac{d\vec{OM}}{dt} \quad \text{alors} \quad V_x = \frac{dx}{dt} = \dot{x}$$

$$\text{et} \quad V_y = \frac{dy}{dt} = \dot{y}$$

$$\text{et} \quad V_z = \frac{dz}{dt} = \dot{z}$$

**

Calculer la vitesse par la méthode d'encadrement :

$$V_{M_i} = \frac{M_{i-1}M_{i+1}}{2 \cdot \tau}$$

M ₀	M ₁	M ₂	M ₃	M ₄	M ₅
•	•	•	•	•	•
τ = 50 ms			← Sens du mouvement →		

• La vitesse au point M₁:
 $V_{M_1} = \frac{M_0 M_2}{2 \cdot \tau} = \frac{2.5 \times 10^{-2}}{2 \times 50 \times 10^{-3}} = 0.25 m/s$

• La vitesse au point M₃:
 $V_{M_3} = \frac{M_2 M_4}{2 \cdot \tau} = \frac{4.5 \times 10^{-2}}{2 \times 50 \times 10^{-3}} = 0.45 m/s$

4. Vecteur accélération :

Le vecteur accélération \vec{a} est défini comme la dérivée première de la vitesse \vec{V} soit la dérivée seconde du vecteur position.

$$\vec{a} = \frac{d\vec{V}}{dt} = \frac{d^2\vec{OM}}{dt^2} : \text{Vecteur accélération et a s'exprime en } m \cdot s^{-2}$$

4.1. Expression de l'accélération dans un repère cartésien (de Descartes) :

$$\vec{a} = a_x \cdot \vec{i} + a_y \cdot \vec{j} + a_z \cdot \vec{k} \text{ ou } \vec{a} \begin{pmatrix} a_x \\ a_y \\ a_z \end{pmatrix}$$

$$a = \|\vec{a}\| = \sqrt{a_x^2 + a_y^2 + a_z^2} : \text{ module du vecteur accélération}$$

NB :

La relation entre vecteur est bien identique à la relation entre composantes sur les axes.

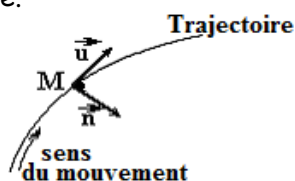
$$\vec{a} = \frac{d\vec{V}}{dt} = \frac{d^2\vec{OM}}{dt^2} \quad \text{alors} \quad a_x = \frac{dV_x}{dt} = \dot{V}_x = \frac{d^2x}{dt^2} = \ddot{x}$$

$$\text{et} \quad a_y = \frac{dV_y}{dt} = \dot{V}_y = \frac{d^2y}{dt^2} = \ddot{y}$$

$$\text{et} \quad a_z = \frac{dV_z}{dt} = \dot{V}_z = \frac{d^2z}{dt^2} = \ddot{z}$$

4.2. Expression de l'accélération dans le repère (base) de Frénet (Repère du point) :

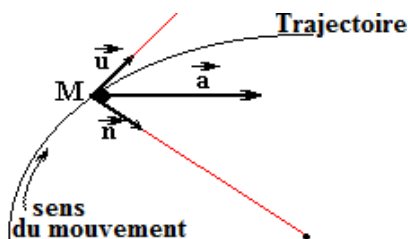
La base de Frénet (M, \vec{u}, \vec{n}) n'a pas des vecteurs fixes contrairement à la base du repère cartésien $(O, \vec{i}, \vec{j}, \vec{k})$, elle suit le mouvement donné par le système.



(M, \vec{u}, \vec{n}) : repère de Frénet tel que :

- La position du mobile en M est l'origine du repère.
- \vec{u} : Vecteur unitaire tangent à la trajectoire au point M et dirigée toujours dans le sens du mouvement (de même sens que la vitesse \vec{V}).
- \vec{n} : Vecteur unitaire normal à la trajectoire au point M et dirigé vers le centre de courbure de la trajectoire.

4.3. Expression de l'accélération \vec{a} dans le repère de Frénet (Repère du point) :



$$\vec{a} = a_T \cdot \vec{u} + a_n \cdot \vec{n} \quad \text{et} \quad a = \|\vec{a}\| = \sqrt{a_u^2 + a_n^2}$$

$$a_T = \frac{dV}{dt} : \text{accélération tangentielle}$$

$$a_n = \frac{V^2}{\varphi} : \text{accélération normale}$$

$$\varphi : \text{rayon de courbure}$$

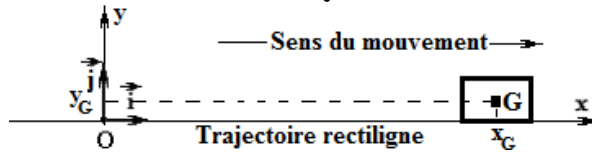
NB :

Dans le cas d'un mouvement circulaire le rayon de courbure φ est identique au Rayon R de la trajectoire circulaire

Mouvement Rectiligne (MR)

1. Définition :

Le mouvement rectiligne est tout mouvement dont la trajectoire est une droite ou une portion de droite



Vecteur position \vec{OG} :

$$\vec{OG} = x_G \cdot \vec{i} + y_G \cdot \vec{j} \text{ ou } \vec{OM} \begin{pmatrix} x_G \\ y_G = C^{te} \end{pmatrix}$$

Au cours de son mouvement rectiligne l'abscisse x_G du point G varie mais son ordonnée y_G est invariant (reste constante $y_G = C^{te}$)

Vecteur vitesse \vec{V}_G :

$$\vec{V}_G = V_x \cdot \vec{i} + V_y \cdot \vec{j} \text{ ou } \vec{V}_G \begin{pmatrix} V_x = \frac{dx_G}{dt} \\ V_y = \frac{dy_G}{dt} = 0 \end{pmatrix}$$

Le vecteur vitesse est toujours parallèle à l'axe Ox donc parallèle à la trajectoire

$$v = \|\vec{V}\| = \sqrt{V_x^2} = |V_x| : \text{module du vecteur vitesse}$$

Caractéristique du vecteur vitesse :

- Origine : le point G
- Direction : parallèle à la trajectoire rectiligne
- Sens :
 - Si $V_x > 0$ alors le vecteur vitesse est orienté dans le sens positif
 - Si $V_x < 0$ alors le vecteur vitesse est orienté dans le sens négatif
- Intensité (module ou valeur) : V_G

Vecteur accélération \vec{a}_G :

$$\vec{a}_G = a_x \cdot \vec{i} + a_y \cdot \vec{j} \text{ ou } \vec{a}_G \begin{pmatrix} a_x = \frac{dv_x}{dt} \\ a_y = \frac{dv_y}{dt} = 0 \end{pmatrix}$$

Le vecteur accélération est toujours parallèle à l'axe Ox donc parallèle à la trajectoire

$$a_G = \|\vec{a}_G\| = \sqrt{a_x^2} = |a_x| : \text{module du vecteur vitesse}$$

Caractéristique du vecteur accélération :

- Origine : le point G
- Direction : parallèle à la trajectoire rectiligne
- Sens :
 - Si $a_x > 0$ alors le vecteur accélération est orienté dans le sens positif
 - Si $a_x < 0$ alors le vecteur accélération est orienté dans le sens négatif
- Intensité (module ou valeur) : a_G

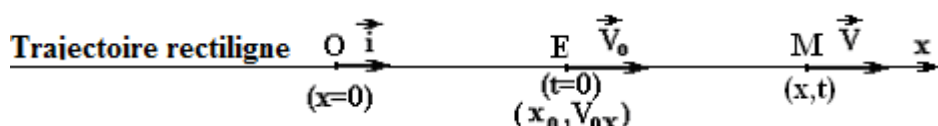
NB :

Dans un mouvement rectiligne, vau mieux choisir l'axe (Ox par exemple) parallèle (ou bien confondu) à la trajectoire

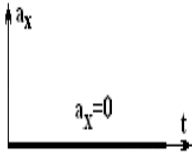
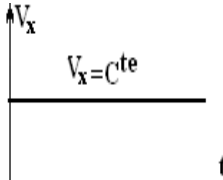
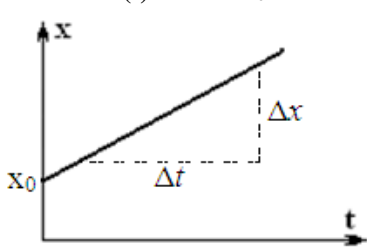
Le vecteur vitesse est parallèle à l'axe Ox et $V_y = 0$
Le vecteur accélération est parallèle à l'axe Ox et $a_y = 0$

2. Mouvement rectiligne uniforme (MRU) :

Le mouvement du centre d'inerte est rectiligne uniforme si la trajectoire est rectiligne et si le vecteur vitesse est constant $\vec{V}_G = C^{te}$

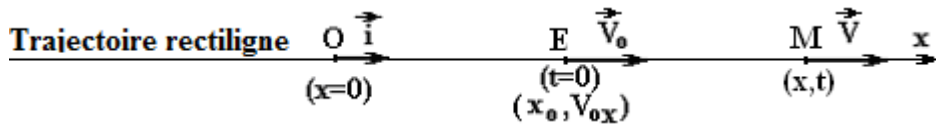


Mouvement rectiligne uniforme (MRU)

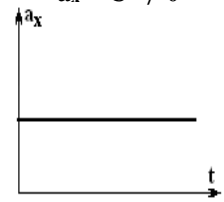
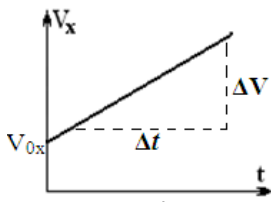

<p>L'accélération est nulle $a_x = 0$</p> 	<p>La vitesse est constante $V = C^{te}$</p> 	<p>Equation horaire du mouvement $x(t) = V_x \cdot t + x_0$</p>  <p>$V_x = \frac{\Delta x}{\Delta t}$: la vitesse du mobile x_0 : L'abscisse à l'origine des temps (t=0)</p>	<p>Enregistrement</p> <p>La distance parcourus pendant le même intervalle de temps τ est une constante $M_i M_{i+1} = C^{te}$</p> <p>La vitesse est une constante et se calcule juste une fois $V_{M_i} = \frac{M_{i-1} M_{i+1}}{2 \cdot \tau}$</p>
--	---	--	---

3. Mouvement rectiligne uniformément varié (MRUV)

Le mouvement du centre d'inertie est rectiligne uniforme si la trajectoire est rectiligne et si le vecteur accélération est constant $\vec{a}_G = \vec{C}^{te}$



Mouvement rectiligne uniformément varié (MRUV)

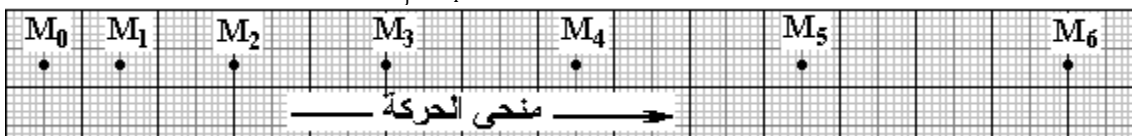
<p>L'accélération est Constante non nulle $a_x = C^{te} \neq 0$</p> 	<p>La vitesse est constante $V_x(t) = a_x \cdot t + V_{0x}$</p>  <p>$a_x = \frac{\Delta V}{\Delta t}$ V_{0x} : la coordonnée du vecteur vitesse sur l'axe Ox à l'instant t=0</p>	<p>Equation horaire du mouvement $x(t) = \frac{1}{2} \cdot a_x \cdot t^2 + V_{0x} \cdot t + x_0$</p>  <p>V_{0x} : la coordonnée du vecteur vitesse sur l'axe Ox à l'instant t=0 x_0 : l'abscisse à l'instant t=0</p>	<p>Enregistrement</p> <p>La distance entre deux points successifs varie $M_i M_{i+1} \neq C^{te}$</p> <p>La vitesse varie $V_{M_i} = \frac{M_{i-1} M_{i+1}}{2 \cdot \tau}$</p>
---	--	---	--

**

Comment calculer l'accélération à partir d'un enregistrement

L'accélération se calcul entre deux points M_i et M_j et $\Delta t = t_j - t_i = n \cdot \tau$ avec n : un nombre multiple de τ entre les points M_i et M_j

$$a_x = \frac{\Delta V}{\Delta t} = \frac{V_j - V_i}{t_j - t_i} = \frac{V_j - V_i}{n \cdot \tau}$$



La vitesse au point M_1 :

$$V_1 = \frac{M_0 M_1}{2 \cdot \tau} = \frac{2.5 \cdot 10^{-2}}{2 \cdot 2.50 \cdot 10^{-3}} = 0.25 \text{ m/s}$$

La vitesse au point M_2 :

$$V_2 = \frac{M_1 M_2}{2 \cdot \tau} = \frac{3.5 \cdot 10^{-2}}{2 \cdot 2.50 \cdot 10^{-3}} = 0.35 \text{ m/s}$$

La vitesse au point M_3 :

$$V_3 = \frac{M_2 M_4}{2 \cdot \tau} = \frac{4.5 \cdot 10^{-2}}{2 \cdot 2.50 \cdot 10^{-3}} = 0.45 \text{ m/s}$$

Calcul de l'accélération :

$$a_x = \frac{\Delta V}{\Delta t} = \frac{V_3 - V_1}{t_3 - t_1} = \frac{V_3 - V_1}{\tau} = \frac{0.45 - 0.25}{2.50 \cdot 10^{-3}} = 2 \text{ m/s}^2$$

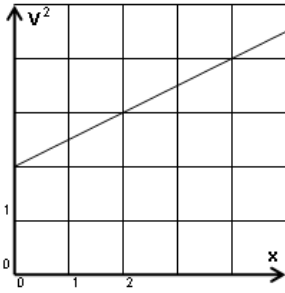
$$a_x = \frac{\Delta V}{\Delta t} = \frac{V_3 - V_2}{t_3 - t_2} = \frac{V_3 - V_2}{\tau} = \frac{0.45 - 0.35}{50 \cdot 10^{-3}} = 2 \text{ m/s}^2$$



Comment exploiter la courbe $V^2=f(x)$ et déterminer l'accélération

La fonction $V^2=f(x)$ est une fonction affine et $V^2 = A \cdot x + B$

Rappel : $V = \frac{dx}{dt}$ et $a_G = \frac{dV}{dt}$ et $(f^n)' = n \cdot f^{n-1} \cdot f'$



Pour déterminer l'accélération a_G

Derivée la fonction $V^2 = A \cdot x + B$

$$\begin{aligned} 2 \cdot V \cdot \frac{dV}{dt} &= A \cdot \frac{dx}{dt} \\ 2 \cdot V \cdot a_G &= A \cdot V \\ 2 \cdot a_G &= A \\ a_G &= \frac{1}{2} \cdot A \end{aligned}$$

Expression de la vitesse $V = \sqrt{A \cdot x + B}$

$$\begin{aligned} a_G = \frac{dV}{dt} &= \frac{1}{2} \cdot \frac{A \cdot \frac{dx}{dt}}{\sqrt{A \cdot x + B}} = \frac{1}{2} \cdot A \\ a_G &= \frac{1}{2} \cdot A \end{aligned}$$



Déterminer la distance entre deux points A et B de l'axe Ox

$$\begin{aligned} x_A &= \frac{1}{2} \cdot a_x \cdot t_A^2 + V_{0x} \cdot t_A + x_0 \quad \text{et} \quad x_B = \frac{1}{2} \cdot a_x \cdot t_B^2 + V_{0x} \cdot t_B + x_0 \\ AB = x_B - x_A &= \left(\frac{1}{2} \cdot a_x \cdot t_B^2 + V_{0x} \cdot t_B + x_0 \right) - \left(\frac{1}{2} \cdot a_x \cdot t_A^2 + V_{0x} \cdot t_A + x_0 \right) \\ &= \frac{1}{2} \cdot a_x \cdot (t_B^2 - t_A^2) + V_{0x} \cdot (t_B - t_A) \end{aligned}$$

On remarque que x_0 se simplifie



Montrer que $V_B^2 - V_A^2 = 2 \cdot a_x \cdot (x_B - x_A)$:

On a : $x(t) = \frac{1}{2} \cdot a_x \cdot t^2 + V_{0x} \cdot t + x_0$ et $V_x(t) = a_x \cdot t + V_{0x}$

On détermine l'expression du temps t dans l'expression de la vitesse $V_x(t)$ et on la remplace dans $x(t)$

$$V_x(t) = a_x \cdot t + V_{0x} \quad \text{alors} \quad t = \frac{V_x(t) - V_{0x}}{a_x}$$

On remplace t dans $x(t)$ et $x(t) = \frac{1}{2} \cdot a_x \cdot \left(\frac{V_x(t) - V_{0x}}{a_x} \right)^2 + V_{0x} \cdot \frac{V_x(t) - V_{0x}}{a_x} + x_0$ et :

$$\begin{aligned} x(t) - x_0 &= \frac{1}{2} \cdot \frac{(V_x(t) - V_{0x})^2}{a_x} + V_{0x} \cdot \frac{V_x(t) - V_{0x}}{a_x} \\ &= \frac{1}{2} \cdot \frac{1}{a_x} \cdot [(V_x(t) - V_{0x})^2 + 2 \cdot V_{0x} \cdot (V_x(t) - V_{0x})] \\ &= \frac{1}{2} \cdot \frac{1}{a_x} \cdot [V_x(t)^2 - 2 \cdot V_x(t) \cdot V_{0x} + V_{0x}^2 + 2 \cdot V_{0x} \cdot V_x(t) - 2 \cdot V_{0x}^2] \\ &= \frac{1}{2} \cdot \frac{1}{a_x} \cdot [V_x(t)^2 - V_{0x}^2] \end{aligned}$$

d'où $V_x(t)^2 - V_{0x}^2 = 2 \cdot a_x \cdot (x(t) - x_0)$ ou $V_x^2 - V_{0x}^2 = 2 \cdot a_x \cdot (x - x_0)$

Pour le point A :

$$V_A^2 - V_{0x}^2 = 2 \cdot a_x \cdot (x_A - x_0)$$

Pour le point B :

$$V_B^2 - V_{0x}^2 = 2 \cdot a_x \cdot (x_B - x_0)$$

Et si on fait la différence entre expression on aboutit à :

$$[V_B^2 - V_{0x}^2] - [V_A^2 - V_{0x}^2] = [2 \cdot a_x \cdot (x_B - x_0)] - [2 \cdot a_x \cdot (x_A - x_0)]$$

$$\text{Alors} \quad V_B^2 - V_A^2 = 2 \cdot a_x \cdot (x_B - x_A)$$

Les lois de Newton

1. Forces intérieures et Forces extérieures

- Préciser le système a étudié
- Les **forces extérieures** dues à des interactions avec des objets qui n'appartiennent pas au système.
- Les **forces intérieures** dues à des interactions entre les constituants du système.

2. Référentiels galiléens

- Un référentiel galiléen est un référentiel dans lequel la première loi de Newton (Principe d'inertie) est vérifiée
- Soit R, un référentiel galiléen. Tout référentiel R' en translation rectiligne uniforme par rapport à R est considéré comme un référentiel galiléen
- **Référentiel de Copernic** : L'origine du référentiel de Copernic est au centre de masse du système solaire (composé du Soleil, et des objets célestes gravitant autour de lui). Ses axes pointent vers des étoiles lointaines fixes.
- **Référentiel héliocentrique** : L'origine du référentiel est au centre du soleil. Ses axes pointent vers des étoiles lointaines fixes.
- **Référentiel géocentrique** : Il est centré sur le centre de la terre. Ses trois axes pointant sur les mêmes étoiles fixes que le repère de Copernic.
- **Référentiel terrestre** : Il est en mouvement de rotation uniforme par rapport au référentiel géocentrique

3. La 1^{ère} loi de Newton (Principe d'inertie)

$$\sum \vec{F} = \vec{0} : \text{le système est isolé ou pseudo isolé}$$

On peut en déduire que $\vec{a}_G = \vec{0}$ et $\vec{v}_G = \vec{c}^{te}$ par conséquent :

- Le mobile est au repos (immobile) $V_G = 0$
- Le centre de gravité du mobile est en mouvement rectiligne uniforme $V_G = Cte \neq 0$

Énonce : Dans un référentiel galiléen un système ponctuel isolé ou pseudo-isolé est soit immobile ou animé d'un mouvement rectiligne uniforme

NB :

Un **solide isolé** mécaniquement n'est soumis à aucune force. Un **solide pseudo-isolé** mécaniquement est soumis à des forces qui se compensent à chaque instant.

4. La 2^{ème} loi de Newton (Théorème de centre d'inertie TCI)

$$\sum \vec{F} = m \cdot \vec{a}_G$$

Enoncé : dans un référentiel galiléen, la somme vectorielle des force extérieures exercées sur un système ponctuel est égale au produit de la masse du système par le vecteur accélération \vec{a}_G de son centre de gravité

Lorsque $\sum \vec{F}_{ext} = m \cdot \vec{a}_G = \vec{0}$ alors $\vec{a}_G = \frac{d\vec{v}_G}{dt} = 0$: le vecteur \vec{v}_G est constant. On retrouve le principe d'inertie.

Remarque :

L'accélération du centre d'inertie G d'un solide est toujours colinéaire à la somme des forces appliquées

5. La 3^{ème} loi de Newton (Principe d'action et de réaction ou principe des actions réciproques)

Enoncé : si un système A exerce une force $\vec{F}_{A/B}$ sur un système B alors le système B exerce aussi sur le système A une force $\vec{F}_{B/A}$ ayant même droite d'action, même valeur, même direction mais un sens opposé et donc : $\vec{F}_{A/B} = -\vec{F}_{B/A}$

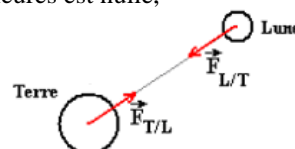
La 3^{ème} loi de Newton

- Est valable pour tous les états de mouvement ou de repos d'un mobile
- Est valable pour toutes les forces, qu'elles s'exercent à distance où par contact.
- Permet d'écrire que, dans un système matériel, la somme des forces intérieures est nulle,

Exemple :

L'action mutuelle entre la lune et la terre

$$\vec{F}_{L/T} = -\vec{F}_{T/L}$$





Comment exploiter la 2eme loi de Newton

En règle générale, la 2^{ème} loi de Newton sert à déterminer le mouvement d'un point matériel ou d'un système de points, connaissant les forces qui s'appliquent à ce point.

Pour résoudre un problème de dynamique en utilisant la 2^{ème} loi de Newton, la méthode est toujours la même :

1. Préciser le système à étudier
2. Faire le bilan de toutes les forces qui agissent sur le point matériel étudié (ou le centre d'inertie de l'objet étudié).
 - 2.1. Forces de contact
 - 2.2. Forces à distance
3. Faire un schéma précis et suffisamment grand pour pouvoir y représenter (tant que c'est possible) toutes les forces dont les caractéristiques bien connues.
Exemples : le poids \vec{P} et \vec{R} la réaction d'un plan quand les frottements sont négligeables
4. Choisir un référentiel galiléen. Il faut toujours préciser le référentiel d'étude, c'est fondamental

NB :

Attention pour les mouvements rectilignes et le repère de Frenet pour les mouvements curvilignes

5. Ecrire la relation vectorielle de la 2^{ème} loi de Newton $\sum \vec{F} = m \cdot \vec{a}_G$
6. Projeter chacune de ces forces sur les axes du référentiel (Se rappeler de la définition de la projection d'un vecteur sur un axe d'un référentiel)

NB : La relation entre vecteur est bien identique à la relation entre composantes sur les axes

- 6.1. Sur l'axe Ox : $\sum F_x = m \cdot a_x$
- 6.2. Sur l'axe Oy : $\sum F_y = m \cdot a_y$
7. Répondre !!!

Remarque :

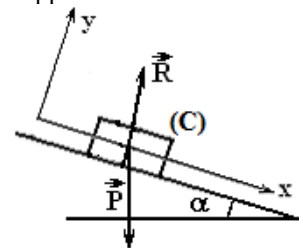
La projection peut se faire sur un axe ou l'autre ou les deux à la fois, ça dépend de la nature de la question (pas de priorité pour le choix de l'axe Ox)

Applications :

❖ Exemple 1 :

Le mouvement d'un mobile de masse m, et **sans frottement**, sur un plan incliné d'un angle α par rapport à l'horizontal

- Système :** Le corps (C)
Bilan des forces :
- \vec{R} : La réaction du plan incliné
 - \vec{P} : Le poids du corps (C)



En appliquant la 2^{ème} loi de Newton $\sum \vec{F} = m \cdot \vec{a}_G$

$$\text{D'où : } \vec{R} + \vec{P} = m \cdot \vec{a}_G$$

Projetons sur les axes

Sur Ox :

$$(1) \quad R_x + P_x = m \cdot a_x$$

$R_x = 0$: \vec{R} est perpendiculaire à l'axe Ox
 $P_x = P \cdot \sin(\alpha) = m \cdot g \cdot \sin(\alpha)$

On remplace dans l'équation (1)

$$m \cdot g \cdot \sin(\alpha) = m \cdot a_x$$

$$\mathbf{a_x = g \cdot \sin(\alpha)}$$

Sur Oy :

$$(2) \quad R_y + P_y = m \cdot a_y$$

$R_y = R$: est \vec{R} est parallèle à l'axe Oy
 $P_y = - P \cdot \cos(\alpha) = - m \cdot g \cdot \cos(\alpha)$
 $\mathbf{a_y = 0}$: Le mouvement est rectiligne sur Ox

On remplace dans l'équation (2)

$$R - m \cdot g \cdot \cos(\alpha) = 0$$

$$\mathbf{R = m \cdot g \cdot \cos(\alpha)}$$

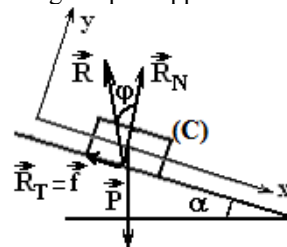
❖ **Exemple 2 :**

Le mouvement d'un mobile de masse m , et **avec frottement**, sur un plan incliné d'un angle α par rapport à l'horizontal

Système : Le corps (C)

Bilan des forces :

- \vec{R} : La réaction du plan incliné
- \vec{P} : Le poids du corps (C)



En appliquant la 2^{ème} loi de Newton $\sum \vec{F} = m \cdot \vec{a}_G$

$$\text{d'où : } \vec{R} + \vec{P} = m \cdot \vec{a}_G$$

Projetons sur les axes :

Sur Ox :

$$(1) \quad R_x + P_x = m \cdot a_x$$

$R_x = -f = -R_T = -R \cdot \sin(\varphi)$: \vec{R} est incliné sur l'axe Ox
 $P_x = P \cdot \sin(\alpha) = m \cdot g \cdot \sin(\alpha)$

On remplace dans l'équation (1)

$$m \cdot g \cdot \sin(\alpha) - f = m \cdot a_x$$

$$m \cdot g \cdot \sin(\alpha) - R \cdot \sin(\varphi) = m \cdot a_x$$

$$a_x = g \cdot \sin(\alpha) - \frac{f}{m}$$

$$a_x = g \cdot \sin(\alpha) - \frac{R}{m} \cdot \sin(\varphi)$$

Sur Oy :

$$(2) \quad R_y + P_y = m \cdot a_y$$

$R_y = R_N = R \cdot \cos(\varphi)$: \vec{R} est incliné sur l'axe Oy
 $P_y = -P \cdot \cos(\alpha) = -m \cdot g \cdot \cos(\alpha)$

$a_y = 0$: Le mouvement est rectiligne sur Ox

On remplace dans l'équation (2)

$$R_y - m \cdot g \cdot \cos(\alpha) = 0$$

$$R_y = m \cdot g \cdot \cos(\alpha)$$

$$R \cdot \cos(\varphi) = m \cdot g \cdot \cos(\alpha)$$

$$R = m \cdot g \cdot \frac{\cos(\alpha)}{\cos(\varphi)}$$

Conclusion :

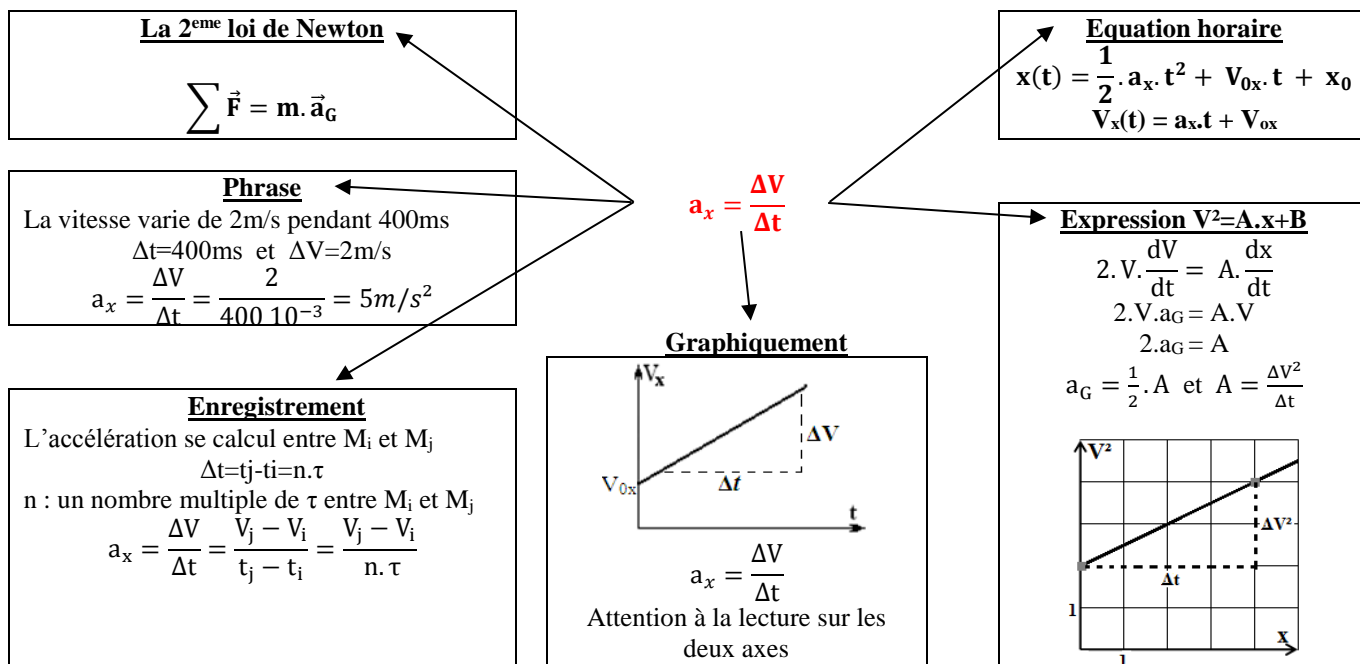
Sur ox on a : $a_x = g \cdot \sin(\alpha) - \frac{R}{m} \cdot \sin(\varphi)$ et sur l'axe Oy : $R = m \cdot g \cdot \frac{\cos(\alpha)}{\cos(\varphi)}$ et $\frac{R}{m} = g \cdot \frac{\cos(\alpha)}{\cos(\varphi)}$

$$a_x = g \cdot \sin(\alpha) - \frac{R}{m} \cdot \sin(\varphi) = g \cdot \sin(\alpha) - g \cdot \frac{\cos(\alpha)}{\cos(\varphi)} \cdot \sin(\varphi)$$

$$a_x = g \cdot \cos(\alpha) \left(\frac{\sin(\alpha)}{\cos(\alpha)} - \frac{\sin(\varphi)}{\cos(\varphi)} \right) = g \cdot \cos(\alpha) (\tan(\alpha) - \tan(\varphi))$$

**

Comment déterminer l'accélération \vec{a}_G



Mouvement de projectile dans un champ de pesanteur

- Le projectile est soumis à l'unique action de son poids $\vec{P} = m \cdot \vec{g}$
- Les deux vecteurs \vec{P} et \vec{g} ont le même sens et la même direction (les deux vecteurs sont colinéaires)
- La 2^{ème} loi de Newton $\sum \vec{F} = m \cdot \vec{a}_G$ d'où $\vec{P} = m \cdot \vec{g} = m \cdot \vec{a}_G$ donc $\vec{a}_G = \vec{g}$
- Les deux vecteurs \vec{a}_G et \vec{g} ont les mêmes caractéristiques

1. Caractéristique du vecteur accélération \vec{a}_G

- Origine :** Le point G
- Direction :**
- La droite verticale
 - La même direction que \vec{g} (même direction que le poids \vec{P})
- Sens :**
- Vers le bas
 - Le même sens que \vec{g} (même sens que le poids \vec{P})
- Intensité :** $a_G = g$

2. Chute libre verticale :

Le vecteur vitesse \vec{V}_G et le vecteur accélération \vec{a}_G sont parallèles

2.1. Coordonnées de \vec{a}_G vecteur accélération :

$$a_y = -g = C^{te}$$

A l'instant $t=0$

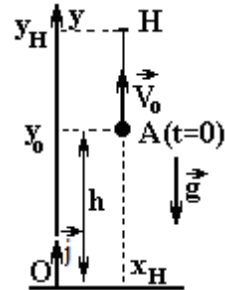
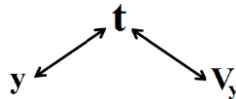
$$y_0 = h \quad \text{et} \quad V_{0y} = V_0$$

2.2. Nature du mouvement sur l'axe Oy

$a_y = -g = C^{te}$: Le mouvement est rectiligne uniformément varié sur l'axe Oy

$$y = -\frac{1}{2} \cdot g \cdot t^2 + V_0 \cdot t + y_0$$

$$V_y = -g \cdot t + V_0$$



2.3. Nature du mouvement

Le mouvement du mobile est rectiligne uniformément varié

2.4. La flèche :

La flèche est l'altitude H la plus élevée atteinte par le projectile

- Au point H la composante de la vitesse est nulle $V_{Hy} = 0$

$V_y = -g \cdot t_H + V_0 = 0$ d'où $t_H = \frac{V_0}{g}$: l'instant d'arrivée au point H et on remplace dans $y(t)$

$$y_H = -\frac{1}{2} \cdot g \cdot \left(\frac{V_0}{g}\right)^2 + V_0 \cdot \frac{V_0}{g} + y_0 = \frac{1}{2} \cdot \frac{V_0^2}{g} + y_0$$

y_H : Ordonnée du point H

$$\text{d'où } AH = y_H - y_0 = \frac{1}{2} \cdot \frac{V_0^2}{g}$$

** Exploiter les équations horaires avec une ou plusieurs informations

Au point A <ul style="list-style-type: none"> • $y(A) = h$ • L'instant de passage par le point A est $t_A = 2 \cdot t_H = \frac{2 \cdot V_0}{g}$ • La vitesse de passage par le point A est V_0
--

Au point O <ul style="list-style-type: none"> • $y(O) = 0$

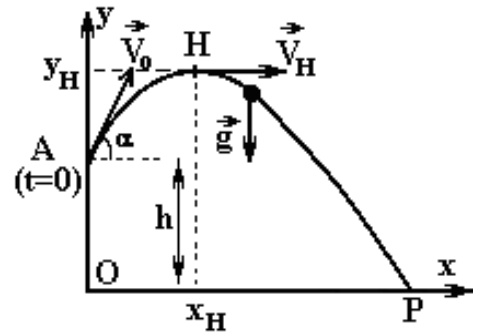
3. Chute libre parabolique :

Le vecteur vitesse \vec{V}_G et le vecteur accélération \vec{a}_G ne sont pas parallèles

3.1. Coordonnées de \vec{a}_G vecteur accélération :

$$\vec{a}_G = \vec{g} \text{ et } \vec{a}_G \begin{pmatrix} a_x = 0 \\ a_y = -g \end{pmatrix}$$

A l'instant $t=0$ on a $\vec{V}_H \begin{pmatrix} V_{0x} = V_0 \cdot \cos\alpha \\ V_{0y} = V_0 \cdot \sin\alpha \end{pmatrix}$ et $\begin{pmatrix} x_A = 0 \\ y_A = y_0 = h \end{pmatrix}$



3.2. Nature du mouvement sur les deux axes

$a_x=0$: Le mouvement est rectiligne uniforme sur l'axe Ox

$$x = V_0 \cdot \cos\alpha \cdot t + x_0$$

$a_y = -g = C^{te}$: Le mouvement est rectiligne uniformément varié sur l'axe Oy

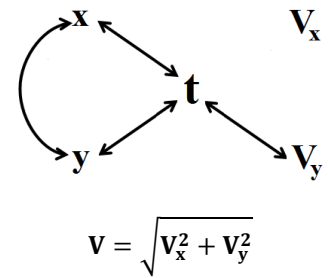
$$y = -\frac{1}{2} \cdot g \cdot t^2 + V_0 \cdot \sin\alpha \cdot t + y_0$$

$$V_y = -g \cdot t + V_0 \cdot \sin\alpha$$

3.3. Equation de la trajectoire

$$y = -\frac{1}{2} \cdot \frac{g}{V_0^2 \cdot \cos^2\alpha} \cdot x^2 + x \cdot \tan\alpha + y_0$$

Conclusion : Le mouvement est plan et la trajectoire est parabolique



3.4. La flèche :

La flèche est l'altitude de la plus élevée atteinte par le projectile

$$\vec{V}_H \begin{pmatrix} V_{Hx} = V_{0x} \\ V_{Hy} = 0 \end{pmatrix} \text{ Ou } \left(\frac{dy}{dx}\right)_H = 0$$

- Au point H la composante de la vitesse est nulle $V_{Hy}=0$

- On exploite aussi les vitesses au point A et H (par le T.E.C)

$$V_A = V_0 \text{ et } V_H = V_0 \cdot \cos\alpha$$

- Au point H

$$V_y = -g \cdot t + V_0 \cdot \sin\alpha = 0 \text{ d'où } t_H = \frac{V_0 \cdot \sin\alpha}{g}$$

- Les coordonnées de la flèche (H)

$$x_H = \frac{1}{2} \cdot \frac{V_0^2 \cdot \sin(\alpha) \cdot \cos(\alpha)}{g} = \frac{V_0^2 \cdot \sin(2\alpha)}{2g} \text{ et } y_H = \frac{1}{2} \cdot \frac{V_0^2 \cdot \sin^2(\alpha)}{g} + y_0$$

3.5. La portée :

La portée est la distance maximale parcourue par le projectile et est caractérisée par le point d'impact P où $y_P=0$

Les coordonnées du point P : $P \begin{pmatrix} x_P = OP \\ y_P = 0 \end{pmatrix}$

- Les coordonnées de \vec{V}_P vecteur vitesse au point P

$$\vec{V}_P \begin{pmatrix} V_{Px} = V_{0x} = V_0 \cdot \cos\alpha \\ V_{Py} = -g \cdot t_P + V_0 \cdot \sin\alpha \end{pmatrix} \text{ et } V_P = \sqrt{(V_0 \cdot \cos\alpha)^2 + (-g \cdot t_P + V_0 \cdot \sin\alpha)^2}$$

- L'angle θ que fait la vitesse \vec{V}_P avec la verticale

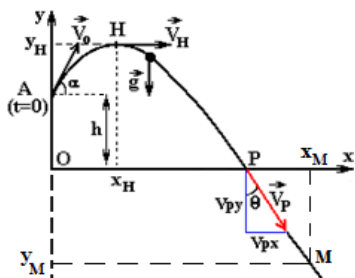
$$\tan\theta = \frac{V_{Px}}{V_{Py}} \text{ ou } V_{0x} = V_{Px} \text{ alors } V_P \cdot \sin\theta = V_0 \cdot \cos\alpha$$

Les coordonnées du point P

$$y_P=0 \text{ et } x_P = \frac{V_0^2 \sin(2\alpha)}{g} = 2 \cdot x_H$$

La portée est maximale si $\alpha = \frac{\pi}{4}$

**** Exploiter les équations horaires et l'équation de la trajectoire avec une ou plusieurs informations**



H : Flèche

La flèche est l'altitude de H la plus élevée atteinte par le projectile

$$\vec{V}_H \left(\begin{matrix} V_{Hx} = V_{0x} \\ V_{Hy} = 0 \end{matrix} \right) \text{ Ou } \left(\frac{dy}{dx} \right)_H = 0$$

- Au point H la composante de la vitesse est nulle $V_{Hy}=0$
- On exploite aussi les vitesses au point A et H (par le T.E.C)

$$V_A = V_0 \text{ et } V_H = V_0 \cdot \cos \alpha$$

Exploiter les coordonnées d'un point spécifique

Le point M est caractérisé par ses coordonnées

$$M \left(\begin{matrix} x_M = \dots \\ y_M = \dots \end{matrix} \right)$$

Du texte ou d'un graphe on peut exploiter soit

- L'abscisse x_M
- L'ordonnée y_M
- Ou bien les deux à la fois
- L'instant t_M d'arrivée au point M

P : portée

- La portée est la distance maximale parcourue par le projectile et est caractérisée par le point d'impact P où $y_B = 0$

$$P \left(\begin{matrix} x_p = OP \\ y_p = 0 \end{matrix} \right)$$

- Les coordonnées du vecteur vitesse au point P

$$\vec{V}_P \left(\begin{matrix} V_{px} = V_{0x} = V_0 \cdot \cos \alpha \\ V_{py} = a_y \cdot t + V_0 \cdot \sin \alpha \end{matrix} \right)$$

$$V_p = \sqrt{V_{px}^2 + V_{py}^2} = \sqrt{(V_0 \cdot \cos \alpha)^2 + (a_y \cdot t + V_0 \cdot \sin \alpha)^2}$$

- L'angle θ que fait la vitesse \vec{V}_P avec la verticale

$$\tan \theta = \frac{V_{px}}{V_{py}}$$

$$\text{ou } V_{0x} = V_{px} \text{ alors } V_p \cdot \sin \theta = V_0 \cdot \cos \alpha$$

La 2^{ème} loi de Newton

$$\sum \vec{F} = m \cdot \vec{a}_G$$

Les coordonnées du vecteur accélération \vec{a}_G

$$\vec{a}_G \left(\begin{matrix} a_x = \dots \\ a_y = \dots \end{matrix} \right)$$

La nature du mouvement sur les axes

$a_y = C^{te} \neq 0$
Le Mouvement est rectiligne uniformément varié sur l'axe Oy

$a_x = 0$
Le Mouvement est rectiligne uniforme sur l'axe Ox

Les équations horaires sur les axes

$$V_y = a_y \cdot t + V_{0y}$$

$$y(t) = \frac{1}{2} \cdot a_y \cdot t^2 + V_{0y} \cdot t + y_0$$

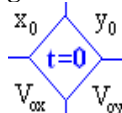
$$V_x = C^{te} = V_{0x}$$

$$x(t) = V_x \cdot t + x_0$$

Préciser le point origine des dates et déterminer

$$V_{0y} = \dots$$

$$y_0 = \dots$$



$$V_x = V_{0x} = \dots$$

$$x_0 = \dots$$

En déduire l'expression littérale des équations horaires

Equation de la trajectoire

De l'équation $x = V_x \cdot t + x_0$, On trouve t et $\frac{x-x_0}{V_x}$ à remplacer dans y(t)

$$y = -\frac{1}{2} \cdot a_y \cdot \left(\frac{x-x_0}{V_x} \right)^2 + V_0 \cdot \left(\frac{x-x_0}{V_x} \right) + y_0$$

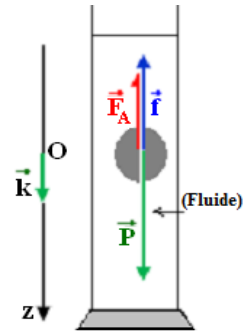
La nature du mouvement

Le mouvement est plan et la trajectoire est parabolique

CHUTE VERTICALE AVEC FROTTEMENT

Le mobile est soumis à trois forces

- Poids : $\vec{P} = m \cdot \vec{g} = m \cdot g \cdot \vec{k}$
- Poussée d'Archimède : $\vec{F}_A = -m_f \cdot g \cdot \vec{k}$ avec m_f : masse du fluide déplacé
- Forces de frottements fluide : $\vec{f} = -k \cdot v_G^n \cdot \vec{k}$ avec k est une constante



Caractéristiques des forces :

	Direction :	Sens :	Intensité :	Composante sur Oz
\vec{P}	La verticale (parallèle à l'axe Oz)	Vers le bas	$P = m \cdot g$	$P_z = m \cdot g$
\vec{F}_A		Vers le haut	$F_A = m_f \cdot g$	$F_{Az} = -m_f \cdot g$
\vec{f}		Vers le haut	$f = k \cdot V^n$	$f_z = -k \cdot V^n$

Equation différentielle vérifiée par la vitesse :

On applique alors la deuxième loi de Newton : $\sum \vec{F} = m \cdot \vec{a}_G$

$$\vec{P} + \vec{F}_A + \vec{f} = m \cdot \vec{a}_G$$

En projetant la relation vectorielle sur l'axe vertical Oz dirigé vers le bas :

$$P_z + F_{Az} + f_z = m \cdot a_z \quad \text{et} \quad P - F_A - f = m \cdot a_z \quad \text{d'où} \quad m \cdot g - m_f \cdot g - k \cdot v^n = m \cdot a_z$$

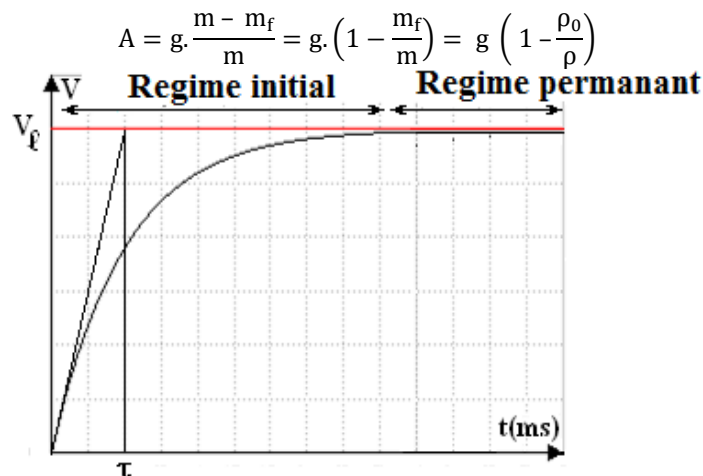
$$\text{On obtient alors l'expression : } m \cdot g - m_f \cdot g - k \cdot v^n = m \frac{dv}{dt}$$

$$g \cdot (m - m_f) - k \cdot v^n = m \frac{dv}{dt} \quad \text{et par suite} \quad \frac{dv}{dt} = g \cdot \frac{m - m_f}{m} - \frac{k}{m} \cdot v^n : \text{Equation différentielle}$$

L'équation différentielle s'écrit sous la forme $\frac{dv}{dt} = B - A \cdot v^n$ avec $A = g \cdot \frac{m - m_f}{m} = g \cdot \left(1 - \frac{m_f}{m}\right)$ et $B = \frac{k}{m}$

Remarque :

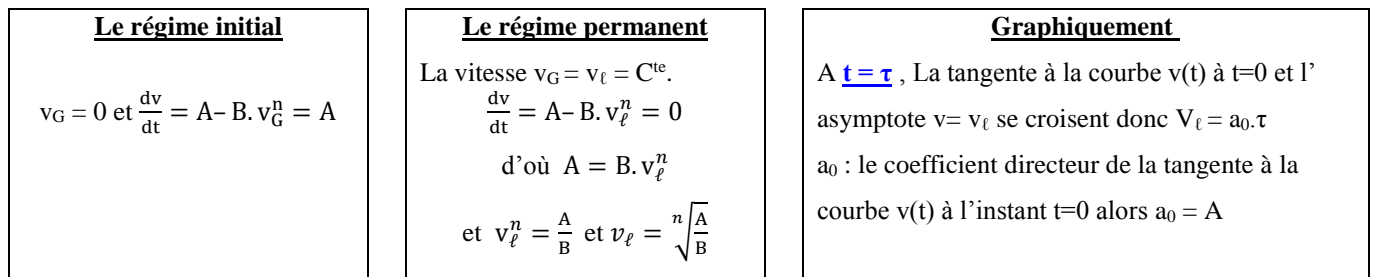
On considère une sphère de masse volumique ρ , de volume V ($m = \rho \cdot V$) en mouvement dans un fluide de masse volumique ρ_0 ($m_f = \rho_0 \cdot V$)



Au cours d'une chute verticale avec frottement, le mouvement du centre d'inertie G du solide peut se décomposer en deux phases :

- Le régime initial ou transitoire, pendant lequel :
 - La vitesse v_G augmente.
 - La valeur f de la force de frottement fluide augmente
 - L'accélération a_G diminue.
- Le régime asymptotique ou permanent, pendant lequel
 - La vitesse v_G est égale à une vitesse constante v_l .
 - La valeur f de la force de frottement fluide est constante
 - L'accélération a_G est nulle.

$$\frac{dv}{dt} = A - B \cdot v_G^n$$



RESOLUTION NUMERIQUE PAR LA METHODE D'EULER.

La méthode d'Euler est une méthode numérique **itérative** qui permet d'évaluer, à intervalles de temps réguliers, différentes valeurs approchées à partir des conditions initiales.

Il faut pour cela connaître :

- L'équation différentielle du mouvement $\frac{dv}{dt} = A - B \cdot v_G^n$.
- Les conditions initiales v_0 .
- Le pas de résolution Δt ; $\Delta t = t_{i+1} - t_i$.

On peut déterminer les grandeurs cinétiques (vitesses et accélérations) par :

- ✓ L'équation différentielle à l'instant t_i : $a_i = \frac{dv}{dt} = A - B \cdot v_i^n$ (pour le même point : connaître la vitesse d'un point c'est déterminer son accélération et réciproquement).
- ✓ L'expression de la vitesse : $V_{i+1} = V_i + a_i \Delta t$ (d'un point M_i vers un autre M_{i+1} : Connaître la vitesse et l'accélération d'un point M_i on peut déterminer la vitesse du point suivant M_{i+1}).

$t_0 = 0$	$V_0 = 0$	→	$a_0 = A - B \cdot (V_0)^n = A$
$t_1 = t_0 + \Delta t$	$V_1 = V_0 + a_0 \Delta t$	↙	$a_1 = A - B \cdot (V_1)^n$
$t_2 = t_1 + \Delta t$	$V_2 = V_1 + a_1 \Delta t$	↘	$a_2 = A - B \cdot (V_2)^n$

THEOREME DE L'ENERGIE CINETIQUE

1. Energie cinétique :

Tout corps de masse m en mouvement avec une vitesse V possède de l'énergie cinétique du fait de son mouvement

$$E_c = \frac{1}{2} m \cdot V^2 : \text{Energie cinétique (J)}$$

2. Théorème de l'Energie cinétique (T.E.C) :

$$\Delta E_{c \text{ A} \rightarrow \text{B}} = \sum W_{\text{A} \rightarrow \text{B}}(\vec{F})$$

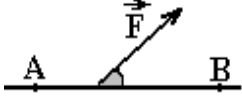
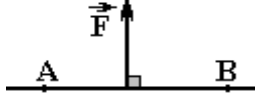

La variation de l'énergie cinétique d'un solide de masse m dans un référentiel galiléen entre deux points A et B est égale à la somme des travaux des forces extérieures qui s'appliquent sur le système lors de son déplacement de A à B.

3. Travail d'une force constante :

$$W_{\text{A} \rightarrow \text{B}}(\vec{F}) = \vec{F} \cdot \vec{AB} = F \cdot AB \cdot \cos(\widehat{(\vec{F}, \vec{AB})})$$

$(\widehat{(\vec{F}, \vec{AB})})$: L'angle entre la direction de la force \vec{F} et la direction du vecteur déplacement \vec{AB}

Le travail de la force \vec{F} est une grandeur algébrique, dépend de l'angle $(\widehat{(\vec{F}, \vec{AB})})$

 <p>$0 \leq (\widehat{(\vec{F}, \vec{AB})}) < \frac{\pi}{2}$ $\cos(\widehat{(\vec{F}, \vec{AB})}) > 0$ $W_{\text{A} \rightarrow \text{B}}(\vec{F}) = F \cdot AB \cdot \cos(\widehat{(\vec{F}, \vec{AB})}) > 0$ Le travail est moteur</p>	 <p>$(\widehat{(\vec{F}, \vec{AB})}) = \frac{\pi}{2}$ $\cos(\widehat{(\vec{F}, \vec{AB})}) = 0$ $W_{\text{A} \rightarrow \text{B}}(\vec{F}) = F \cdot AB \cdot \cos(\widehat{(\vec{F}, \vec{AB})}) = 0$ Le travail ni moteur, ni résistant</p>	 <p>$\frac{\pi}{2} < (\widehat{(\vec{F}, \vec{AB})}) < \pi$ $\cos(\widehat{(\vec{F}, \vec{AB})}) < 0$ $W_{\text{A} \rightarrow \text{B}}(\vec{F}) = F \cdot AB \cdot \cos(\widehat{(\vec{F}, \vec{AB})}) < 0$ Le travail est résistant</p>
--	---	---

4. Travail du poids \vec{P} :

\vec{P} est une force constante

$$W_{\text{A} \rightarrow \text{B}}(\vec{P}) = \vec{P} \cdot \vec{AB} = P \cdot AB \cdot \cos(\widehat{(\vec{P}, \vec{AB})})$$

$$W_{\text{A} \rightarrow \text{B}}(\vec{P}) = m \cdot g \cdot (z_A - z_B) = m \cdot g \cdot h$$

Remarque :

Le travail du poids ne dépend pas du trajet parcouru entre A et B : on dit que le poids est une **force conservative**.

**

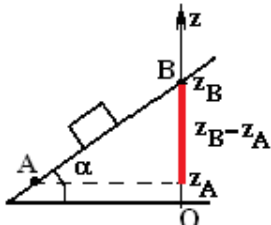
Etapas à suivre pour déterminer l'expression du travail du poids d'un corps

$$W_{G_1 \rightarrow G_2}(\vec{P}) = m \cdot g \cdot (z_1 - z_2)$$

1. Choisir ou déterminer l'axe Oz (Verticale et dirigé vers le haut)
2. Projections sur l'axe Oz : $G_1 \rightarrow Z_1$ et $G_2 \rightarrow Z_2$
3. Déterminer la distance positive $|Z_1 - Z_2|$ entre Z_1 et Z_2 sur l'axe Oz
4. Déterminer l'expression $(Z_1 - Z_2)$ en fonction des données de l'exercice
5. Ecrire l'expression littérale de travail du poids en fonction des données de l'exercice

Exemples :

❖ Un mobile sur un plan incliné d'un angle α par rapport à l'horizontal

	$W_{\text{A} \rightarrow \text{B}}(\vec{P}) = m \cdot g \cdot (z_A - z_B)$
<ul style="list-style-type: none"> • L'axe Oz est choisi en face de l'angle α et passant par le point le plus éloigné (dans ce cas de figure c'est B) • $Z_B - Z_A = AB \cdot \sin(\alpha)$ d'où $Z_A - Z_B = -AB \cdot \sin(\alpha)$ • $W_{\text{A} \rightarrow \text{B}}(\vec{P}) = -m \cdot g \cdot AB \cdot \sin(\alpha)$ 	

❖ **Un mobile en mouvement sur un trajet circulaire**

- L'axe Oz est choisi confondu avec la droite verticale passant par le centre O du trajet circulaire

$W_{D \rightarrow B}(\vec{P}) = m \cdot g \cdot (z_D - z_B)$

- $z_B - z_D = r$
- $W_{A \rightarrow B}(\vec{P}) = -m \cdot g \cdot r$

$W_{A \rightarrow B}(\vec{P}) = m \cdot g \cdot (z_A - z_B)$

- $z_B - z_A = r \cdot \cos(\alpha)$
- $W_{A \rightarrow B}(\vec{P}) = -m \cdot g \cdot r \cdot \cos(\alpha)$

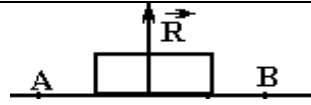
$W_{A \rightarrow D}(\vec{P}) = m \cdot g \cdot (z_A - z_D)$

- $z_A - z_D = r \cdot (1 - \cos(\theta))$
- $W_{A \rightarrow B}(\vec{P}) = m \cdot g \cdot r \cdot (1 - \cos(\theta))$

5. Forces de Frottements

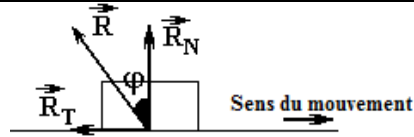
$\vec{R} \neq 0$: Force de frottement

Contact sans Frottement (négligeable) :



\vec{R} est en perpendiculaire au déplacement \vec{AB} . et $W_{A \rightarrow B}(\vec{R}) = \vec{R} \cdot \vec{AB} = 0$

Contact avec Frottement :



\vec{R} incliné sur le plan de contact ($\varphi \neq 0$)
et de sens opposé au sens du mouvement

$$\vec{R} = \vec{R}_T + \vec{R}_N$$

\vec{R}_N : La composante normale (perpendiculaire) au trajet

$\vec{R}_T = \vec{f}$: La composante tangentielle, s'oppose toujours au mouvement

$$W_{A \rightarrow B}(\vec{R}) = \vec{R} \cdot \vec{AB} = R \cdot AB \cdot \cos\left(\varphi + \frac{\pi}{2}\right) = -R \cdot AB \cdot \sin(\varphi) = -R \cdot AB < 0$$

$$k = \tan(\varphi) = \frac{\sin(\varphi)}{\cos(\varphi)} = \left| \frac{R_T}{R_N} \right| : \text{Coefficient de frottement}$$

$$W_{A \rightarrow B}(\vec{R}) = \vec{R} \cdot \vec{AB} = R \cdot AB \cdot \cos(\vec{R}, \vec{AB}) : \text{Travail des forces de frottements}$$

Comment exploiter le théorème de l'énergie cinétique T.E.C :

- Faire le bilan des forces agissantes sur le mobile
- Représenter les forces, dont les caractéristiques connues, sur un schéma (tant que c'est possible)
- Ecrire l'expression du travail de chacune des forces en fonction des données de l'exercice
- Ecrire l'expression de ΔE_c la variation d'Energie cinétique en fonction des données de l'exercice (souvent soit en fonction de la vitesse ou de l'Energie cinétique)
- Appliquer le T.E.C entre deux instants $\Delta E_c_{A \rightarrow B} = \sum W_{A \rightarrow B}(\vec{F})$

MOUVEMENT D'UNE PARTICULE CHARGÉE DANS UN CHAMP MAGNÉTIQUE UNIFORME

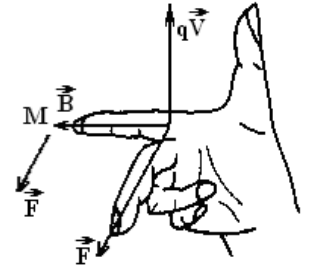
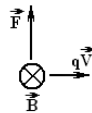
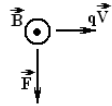
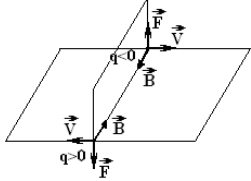
Force de LORENTZ :

La **force de Lorentz**, ou **force magnétique**, \vec{F} est la force subie par une particule chargée (q) se déplaçant avec une vitesse \vec{V} dans un champ magnétique uniforme \vec{B}

$$\vec{F} = q \cdot \vec{V} \wedge \vec{B}$$

Caractéristiques de \vec{F} :

- Direction : normale (perpendiculaire) au plan des deux vecteurs \vec{B} et \vec{V}
- Sens : déterminer par la règle de la main droite ou la règle des trois doigts de la main droite
- Intensité : $F = |q \cdot V \cdot B \cdot \sin \alpha|$ avec $\alpha = (\vec{V}, \vec{B})$



NB :

La force magnétique \vec{F} est normale (perpendiculaire) au plan des deux vecteurs \vec{B} et \vec{V} donc :

1. \vec{F} est normale au champ magnétique \vec{B}
2. \vec{F} est normale au vecteur vitesse \vec{V} donc :

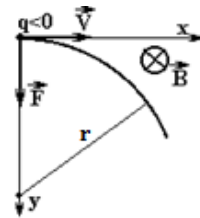
- \vec{F} est normale à tout instant :
 - À la tangente à la trajectoire
 - À tout déplacement élémentaire $\delta \vec{l}$
 - $W_{1 \rightarrow 2}(\vec{F}) = \sum \delta w(\vec{F}) = 0$: le travail est nul
 - $P = \vec{F} \cdot \vec{V} = 0$: La puissance est nulle

- En appliquant le T.E.C :
 - $\Delta E_c = \sum W_{1 \rightarrow 2}(\vec{F}) = W_{1 \rightarrow 2}(\vec{F}) = 0$
 - La variation de l'Énergie cinétique est nulle
 - L'énergie cinétique se conserve
 - $E_c = C^{te}$ avec $E_c = \frac{1}{2} m \cdot V^2$

Caractéristiques du vecteur accélération \vec{a}_G :

$$\vec{F} = q \cdot \vec{V} \wedge \vec{B} = m \cdot \vec{a}_G \text{ et } \vec{a}_G = \frac{q}{m} \cdot \vec{V} \wedge \vec{B}$$

- Direction : normale (perpendiculaire) au plan des deux vecteurs \vec{B} et \vec{V}
- Sens : vers le centre de la trajectoire circulaire
- Intensité : $a_G = \frac{|q|}{m} \cdot V \cdot B$



Mouvement circulaire uniforme :

On applique la 2^{ème} loi de Newton sur le repère de Frénet

$$\sum \vec{F} = m \cdot \vec{a}_G = \vec{F} \text{ et } \vec{F} \begin{pmatrix} F_u = 0 \\ F_n = F \end{pmatrix}$$

On projette sur les axes

Sur l'axe \vec{u} :

$F_u = m \cdot a_u = 0$ et $a_u = 0$ d'où $a_u = \frac{dv}{dt} = 0$ on en déduit que $V = C^{te}$ et le mouvement est donc uniforme

Sur l'axe \vec{n}

$$F_n = m \cdot a_n = m \cdot |q| \cdot V \cdot B \text{ donc } a_n = a_G = \frac{|q|}{m} \cdot V \cdot B$$

Conclusion : L'accélération de la particule dépend de :

- Sa masse et de sa charge
- Module du champ magnétique
- La vitesse

$$a_n = \frac{|q|}{m} \cdot V \cdot B = \frac{V^2}{r}$$

$$r = \frac{m \cdot V}{|q| \cdot B} = \frac{2 \cdot E_c}{|q| \cdot V \cdot B} = C^{te}$$

Le mouvement est donc circulaire

$$V = \frac{|q|}{m} \cdot B \cdot r$$

Conclusion :

La vitesse de la particule dépend de sa masse, de sa charge, de sa position dans le champ magnétique et de module du champ magnétique

Le mouvement est donc circulaire uniforme

Toute particule chargée dans un champ magnétique uniforme est animée d'un mouvement circulaire uniforme de rayon r

La vitesse angulaire ω : $V = r \cdot \omega = \frac{2 \cdot \pi \cdot r}{T}$

La période : durée nécessaire pour faire un tours complet $T = \frac{2 \cdot \pi}{\omega} = \frac{2 \cdot \pi \cdot r}{V} = \frac{2 \cdot \pi \cdot m \cdot V}{V \cdot |q| \cdot B} = \frac{2 \cdot \pi \cdot m}{|q| \cdot B}$

NB :

$$E_c = \frac{1}{2} m \cdot V^2 = C^{te} \text{ et } r = \frac{m \cdot V}{|q| \cdot B} = \frac{2 \cdot E_c}{|q| \cdot V \cdot B} = C^{te}$$

Les isotopes : des atomes du même élément chimique qui ont la même charge q (même Z) mais des masses différentes (diffèrent par A):

- Ont la même énergie cinétique mais des vitesses différentes
- Plus que la masse est élevée plus que la vitesse est réduite (diminue) plus que le rayon est important

MOUVEMENT DES SATELLITES ET PLANETES.

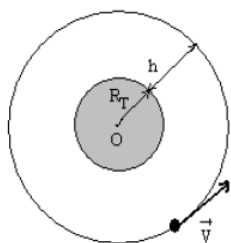
1. Etude du mouvement d'un satellite terrestre.

a - Type de mouvement :

Système : un satellite de masse m , assimilé à un point matériel, situé à une distance du centre de la Terre $R = R_T + h$ et la masse de la terre est M_T

Référentiel : géocentrique supposé galiléen

Bilan des forces : la seule force extérieure qui s'exerce sur le satellite est l'attraction terrestre \vec{F}



- La 2^{ème} loi de Newton appliquée au système étudié s'écrit : $\vec{F} = m \cdot \vec{a}$
- L'accélération \vec{a} est **colinéaire** à \vec{F} donc dirigée vers O en tout point de la trajectoire.
- Le mouvement étant circulaire, on peut utiliser un **repère de Frénet**. \vec{a} étant centripète : $\vec{a}_n = \vec{a}$ et $\vec{a}_u = \vec{0}$

On a : $a_u = \frac{dv}{dt} = 0$, on en déduit que la vitesse v est constante. Le mouvement est donc **circulaire et uniforme**.

b - Vitesse du satellite

On a : $\vec{a}_n = \frac{1}{m} \cdot \vec{F}$ et par propriété d'un mouvement circulaire uniforme : $a_n = \frac{v^2}{R}$

De plus : $F = G \cdot \frac{m \cdot M_T}{R^2}$ avec $R = R_T + h$. Finalement, il vient que : $v = \sqrt{\frac{G \cdot M_T}{R}} = \sqrt{\frac{G \cdot M_T}{R_T + h}}$

c - Période de révolution

Par définition $T = \frac{2\pi}{\omega}$ Le mouvement est circulaire uniforme : $v = R \cdot \omega$. Ainsi, $T = \frac{2\pi}{v} \cdot R$

En reprenant l'expression de v , on a : $T = 2\pi \cdot \sqrt{\frac{(R+h)^3}{G \cdot M_T}}$

La période de révolution du satellite est **indépendante de sa masse**. Seule la valeur de l'altitude h détermine T .

Au final : $\frac{T^2}{R^3} = \frac{4\pi^2}{G \cdot M_T}$ La 3^{ème} loi de Képler est vérifiée : le rapport $\frac{T^2}{R^3}$ ne dépend pas du satellite.

2. Lois de Kepler :

❖ 1^{er} loi de Kepler (1906) : Loi des orbites

Chaque planète décrit une ellipse dont le centre du Soleil occupe un des foyers.

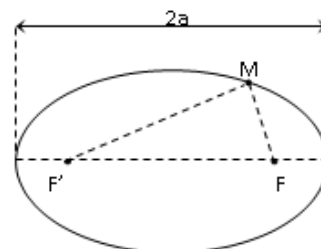
Ellipse dans un plan est un ensemble de points M qui satisfont à la relation :

$$FM + F'M = 2a$$

F et F' deux points constants nommés foyers de l'ellipse

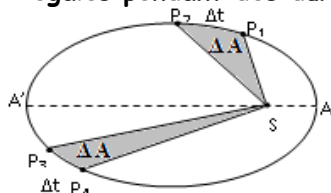
$2a$: Longueur du grand axe de la trajectoire elliptique

a : est le demi grand axe de la trajectoire elliptique



❖ 2^{ème} loi de Kepler (1906) : Loi des aires

Le segment de droite (rayon) reliant le centre du Soleil S au centre de la planète P balaie des aires égales pendant des durées égales.



Le segment de droite SP balaie des **aires proportionnelles aux durées** mise pour les balayer

La surface balayée ΔA par le segment SP au cours de son mouvement est proportionnel à la durée du balayage Δt $C = \frac{\Delta A}{\Delta t}$

C : Constante dépendante des planètes

❖ 3^{ème} loi de Kepler (1618) : Loi des périodes

Le rapport $\frac{T^2}{a^3}$ entre le carré de la période de révolution et le cube du demi grand axe est constant.

$$\frac{T^2}{a^3} = \frac{4 \cdot \pi^2}{G \cdot M} = K_S = C^{te}$$

Avec K_S : une constante pour toutes les planètes gravitantes autour du soleil, $K_S = 2,97 \cdot 10^{-19} \text{ s}^2 \cdot \text{m}^{-3}$

3. Mouvement circulaire uniforme :

❖ Conditions d'un mouvement circulaire uniforme

Soit un mobile de masse m et que son centre d'inertie G est animé d'un mouvement circulaire uniforme de rayon r .

- Soit $\sum \vec{F} = \vec{F}$ la somme des forces agissant sur le mobile
- La 2^{ème} loi de Newton $\vec{F} = m \cdot \vec{a}_G$
- On a $\vec{a}_G = \frac{v^2}{r} \cdot \vec{n}$ vu que le mouvement est uniforme et $a_u = \frac{dv}{dt} = 0$ donc $\vec{F} = m \cdot \frac{v^2}{r} \cdot \vec{n}$

Conclusion :

Pour que le mouvement du centre d'inertie d'un mobile circulaire uniforme il faut que :

- La somme vectorielle des forces soit centrifuge (dirigée vers le centre)
- Le module de la somme vectorielle des forces est constant et vérifie la relation $F = m \cdot \frac{v^2}{r}$

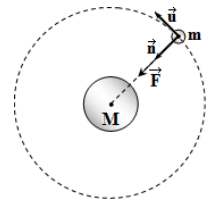
4. Mouvement planétaire des planètes et satellites :

Soit une planète de masse m décrivant un mouvement circulaire uniforme autour d'une autre planète référentielle de masse M (Le soleil par exemple ou autres planètes)

m en mouvement autour de M : m est le mobile et M est le référentielle

Dans un repère galiléen la planète (m) est soumise à la force gravitationnelle $\vec{F} = G \cdot \frac{m \cdot M}{d^2} \cdot \vec{n} = G \cdot \frac{m \cdot M}{r^2} \cdot \vec{n}$

avec $d=r$: le rayon de la trajectoire



On applique la 2^{ème} loi de Newton sur le repère de Frénet

$$\sum \vec{F} = m \cdot \vec{a}_G = \vec{F} \text{ et } \vec{F} \begin{pmatrix} F_u = 0 \\ F_n = F \end{pmatrix}$$

On projette sur les axes

<p>Sur l'axe \vec{u} $F_u = m \cdot a_u = 0$ et $a_u = 0$ D'où $a_u = \frac{dv}{dt} = 0$ $v = C^{te}$ Le mouvement est donc uniforme</p>	<p>Sur l'axe \vec{n} $F_n = m \cdot a_n = G \cdot \frac{m \cdot M}{r^2}$ donc $a_n = G \cdot \frac{M}{r^2}$</p> <p>Conclusion : L'accélération de mouvement de la planète mobile (m) :</p> <ul style="list-style-type: none"> • Indépendante de sa masse (m) • Dépend de M la masse de la planète référentielle • Dépend de la position de (m) par rapport à (M)
	$a_n = G \cdot \frac{M}{r^2} = \frac{v^2}{r}$
<p>$r = G \cdot \frac{M}{v^2} = C^{te}$ et le mouvement est circulaire</p>	<p>$v^2 = G \cdot \frac{M}{r}$ et $v = \sqrt{G \cdot \frac{M}{r}}$</p> <p>Conclusion : La vitesse de mouvement de la planète mobile (m) :</p> <ul style="list-style-type: none"> • Indépendante de sa masse (m) • Dépend de M la masse de la planète référentielle • Dépend de la position de (m) par rapport à (M)

Le mouvement est donc circulaire uniforme

** Expression de l'accélération en deux points

<p>Au niveau du sol (position (1)) :</p> $a_0 = G \cdot \frac{M}{R^2}$		$a_h = a_0 \cdot \frac{R^2}{(R+h)^2}$
<p>A une altitude h du sol (position (2)) :</p> $a_h = G \cdot \frac{M}{(R+h)^2}$		

5. Période de révolution

La période de révolution, aussi appelée période orbitale, est la durée mise par un astre pour accomplir une révolution complète autour d'un autre astre (par exemple une planète autour du Soleil ou un satellite autour d'une planète).

$$V = \frac{L}{T} = \frac{2 \cdot \pi \cdot r}{T} = \sqrt{G \cdot \frac{M}{r}}$$

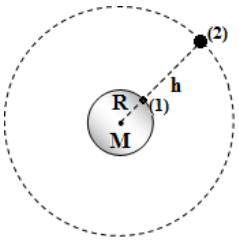
$L = 2 \cdot \pi \cdot r$: le périmètre du cercle de rayon r

$$\text{Et on a } \frac{4 \cdot \pi^2 \cdot r^2}{T^2} = G \cdot \frac{M}{r} \quad \text{d'où } \frac{T^2}{r^3} = \frac{4 \cdot \pi^2}{G \cdot M}$$

On en déduit que $\frac{T^2}{r^3} = K = C^{te}$ est une constante qui ne dépend que de la masse la planète référentielle et concorde bien avec la 3eme lo de Kepler

$$\text{Et la période de révolution } T \text{ est } T = \sqrt{\frac{4 \cdot \pi^2}{G \cdot M} \cdot r^3} = 2 \cdot \pi \sqrt{\frac{r^3}{G \cdot M}}$$

Expression de la periode en deux points

<p>Au niveau du sol (position (1)) :</p> $T_1 = \sqrt{\frac{4 \cdot \pi^2}{G \cdot M} \cdot R^3}$ <p>A une altitude h du sol (position (2)) :</p> $T_2 = \sqrt{\frac{4 \cdot \pi^2}{G \cdot M} \cdot (R + h)^3}$		$\frac{T_2}{T_1} = \sqrt{\frac{(R + h)^3}{R^3}} = \sqrt{\left(\frac{R + h}{R}\right)^3}$
---	---	--

Cas particuliers

Cas	Rayon	Accélération	Vitesse	Période
Terre autour du soleil	$r = r_s + h$ h : altitude de la terre par rapport au soleil	$a_n = G \cdot \frac{M_S}{r^2}$	$V = \sqrt{\frac{G \cdot M_S}{r}}$	$T = 2 \cdot \pi \sqrt{\frac{r^3}{G \cdot M_S}}$
Lune autour de la terre	$r = r_T + h$ h : altitude de la lune par rapport à la terre	$a_n = G \cdot \frac{M_T}{r^2}$	$V = \sqrt{\frac{G \cdot M_T}{r}}$	$T = 2 \cdot \pi \sqrt{\frac{r^3}{G \cdot M_T}}$

6. La satellisation

Lancer un corps dans l'espace avec une vitesse lui permettant de décrire, autour de la terre un mouvement circulaire uniforme et sous le seul effet de la force d'attraction qu'exerce la terre sur lui et se fait en deux étapes :

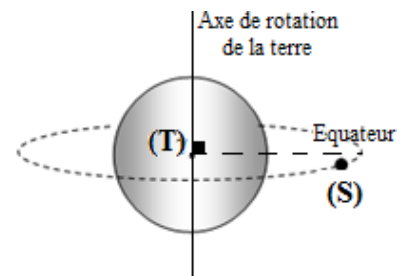
- Porter le satellite loin de la terre (à une hauteur $h > 200$ km) où la pesanteur est presque nulle (Eviter le frottement fluide)
- Libérer le satellite avec une vitesse \vec{V}_0 normale au rayon R_s de sa trajectoire et de module $v_0 = \sqrt{\frac{G \cdot m_T}{r_T + h}}$

7. Les satellites géostationnaires

Les satellites géostationnaires : **des satellites fixes (stationnaire) par rapport à la terre (géo).**

Pour que ce soit le cas, il faut que

- Ils décrivent un **mouvement circulaire uniforme** dans un plan perpendiculaire à l'axe des pôles terrestres. Ils évoluent donc dans un **plan contenant l'équateur**.
- Qu'ils **tournent dans le même sens que la terre** autour de l'axe de ses pôles.
- Leur **période de révolution soit exactement égale à la période de rotation de la terre** autour de l'axe de ces pôles (24h).



On peut calculer l'altitude à laquelle le satellite doit se situer pour satisfaire cette dernière condition :

_ Utilisons l'expression de la période à ce satellite :

$$T = 2 \cdot \pi \sqrt{\frac{r^3}{G \cdot M_T}} \text{ avec } r = r_T + h \text{ donc } T = 2 \cdot \pi \sqrt{\frac{(r_T + h)^3}{G \cdot M_T}} \text{ d'où } r = \sqrt[3]{\frac{G \cdot M_T \cdot T^2}{4 \cdot \pi^2}} = r_T + h \text{ et } h = \sqrt[3]{\frac{G \cdot M_T \cdot T^2}{4 \cdot \pi^2}} - r_T = 36000 \text{ km}$$

NB :

On peut considérer que $P = F$, $a_G = g$

MOUVEMENT DE ROTATION

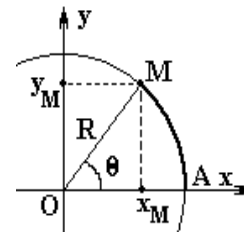
1. Définition :

Un mouvement de rotation est tout mouvement qu'effectue un corps autour d'un axe fixe (Δ) selon une trajectoire circulaire de rayon R autour de cet axe.

2. Repérage d'un point du mobile :

On peut déterminer la position d'un point M en mouvement le long d'un trajet circulaire de rayon R soit par :

- Les coordonnées cartésiennes (x, y) dans un référentiel (Oxy)
 $x=R.\cos(\theta)$ et $y=R.\sin(\theta)$ avec $R=OM$
- L'abscisse angulaire θ tel que $\theta = (\mathbf{Ox}, \mathbf{OM})$
- L'abscisse curvilignes $S(t)$ et c'est l'arc AM avec
 $S = \widehat{AM} = R \cdot \theta$ avec A : l'origine des abscisses curvilignes $S(A)=0$



NB :

- $(x-a)^2+(y-b)^2=R^2$: L'équation d'un cercle de rayon R et les coordonnées de son centre (a,b)
- L'angle balayé entre deux instants est $\theta=2\pi.n$ ou $\Delta\theta=2\pi.n$ avec n le nombre de tours effectués entre les deux instants

3. Les équations mouvements circulaires

	<u>Mouvement circulaire uniforme</u>	<u>Mouvement circulaire uniformément varié</u>
Accélération angulaire (rad.s ⁻²)	Nulle $\ddot{\theta} = 0$	Constante $\ddot{\theta} = C^{te} \neq 0$
Vitesse angulaire (rad.s ⁻¹)	Constante $\dot{\theta} = C^{te} \neq 0$	Varie en fonction du temps $\dot{\theta} = \ddot{\theta} \cdot t + \dot{\theta}_0$ Une fonction affine de temps d'où $\ddot{\theta} = \frac{\Delta\dot{\theta}}{\Delta t}$
Abcisse angulaire (rad)	$\theta = \dot{\theta} \cdot t + \theta_0$ Une fonction affine de temps d'où $\dot{\theta} = \frac{\Delta\theta}{\Delta t}$	$\theta = \frac{1}{2} \ddot{\theta} \cdot t^2 + \dot{\theta}_0 \cdot t + \theta_0$

4. Relation entre grandeur linéaire (Translation) et angulaires (Rotation)

NB : Tous les points d'un solide en rotation autour d'un axe fixe et à tout moment tourne avec :

- Le même abscisse angulaire θ ou la même variation angulaire $\Delta\theta$
- La même vitesse angulaire $\dot{\theta} = C^{te}$
- La même accélération angulaire $\ddot{\theta} = C^{te}$

- La relation entre l'abscisse curviligne et l'abscisse angulaire $S=R.\theta$
- La relation entre la vitesse linéaire et la vitesse angulaire $V = R.\dot{\theta}$
- La relation entre l'accélération tangentielle (linéaire) et l'accélération angulaire $a_u = a_t = \frac{dv}{dt} = R.\ddot{\theta}$
- La relation entre l'accélération normale et la vitesse angulaire $a_n = \frac{v^2}{R} = R.\dot{\theta}^2$

$$a_G = \sqrt{a_t^2 + a_n^2} : \text{accélération du mobile en rotation autour d'un axe fixe } (\Delta)$$

Les points A et B :

- Parcourent les mêmes distances S ,
 $S_1=S_2$
- Avec la même vitesse,
 $V_1=V_2$
- Et la même accélération,
 $a_1=a_2$

Les points A et B :

- Parcourent des distances différentes
 $S_1=r_1.\theta$ et $S_2=r_2.\theta$ d'où $\frac{S_2}{S_1} = \frac{r_2}{r_1}$
- avec des vitesses différentes
 $V_1 = r_1.\dot{\theta}$ et $V_2 = r_2.\dot{\theta}$ d'où $\frac{V_2}{V_1} = \frac{r_2}{r_1}$
- Et des accélérations différentes
 $a_1 = r_1.\ddot{\theta}$ et $a_2 = r_2.\ddot{\theta}$ d'où $\frac{a_2}{a_1} = \frac{r_2}{r_1}$

5. Centre de masse G d'un système

$$\overrightarrow{OG} = \frac{\sum m_i \cdot \overrightarrow{OG}_i}{\sum m_i}$$

Le point matériel G_i de masse m_i et distante du point O de OG_i
 Le point O est origine d'un système d'axe $Oxyz$

6. La relation fondamentale de la dynamique (RFD)

$$\sum M_{\Delta}(\vec{F}) = J_{\Delta} \cdot \ddot{\theta}$$

Dans un référentiel galiléen, la somme des moments des forces, appliquées à un corps en rotation autour d'un axe fixe (Δ), est proportionnelle à l'accélération angulaire $\ddot{\theta}$ subie par ce corps

J_{Δ} : moment d'inertie du mobile par rapport à l'axe de rotation (Δ)



Comment exploiter la relation fondamentale de la dynamique (RFD)

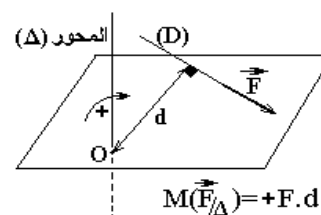
Pour résoudre un problème de dynamique en utilisant la **RFD**, la méthode est toujours la même :

1. Préciser le système à étudier
2. Faire le bilan de toutes les forces qui agissent sur le point matériel étudié (ou le centre d'inertie de l'objet étudié).
 - 2.1. Forces de contact
 - 2.2. Forces à distance
3. Faire un schéma précis et suffisamment grand pour pouvoir y représenter (tant que c'est possible) toutes les forces dont les caractéristiques bien connues.
Exemples : le poids \vec{P} et \vec{R} la réaction de l'axe (Δ)
4. Choisir un sens positif de rotation (Souvent identique au sens de mouvement)
5. Déterminer l'expression du travail de chacune des forces du bilan
6. Appliquer la **RFD**
7. Répondre !!!

7. Moment d'une force par rapport à un axe fixe (Δ)

$$M(\vec{F}/\Delta) = \pm F \cdot d$$

- Préciser l'axe (Δ)
- Choisir un sens positif (Souvent dans le sens de mouvement)
- Prolonger (D) la direction (Droite d'action) de la force \vec{F}
- Tracer la perpendiculaire à (D) la direction de la force \vec{F} et passant par l'axe (Δ)
- Déterminer la distance d entre l'axe (Δ) et (D) la direction de la force \vec{F}



NB:

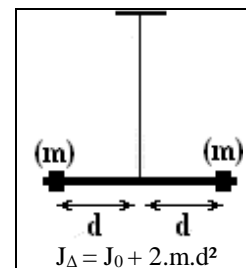
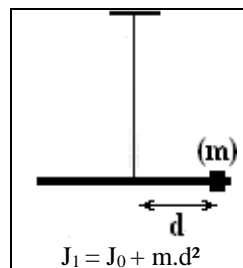
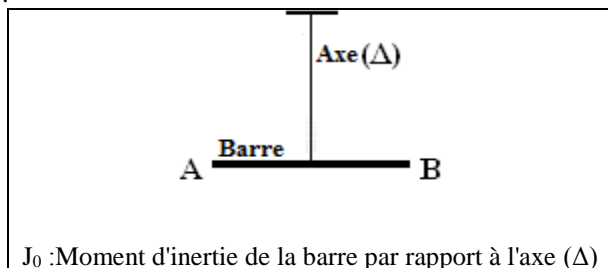
$M(\vec{F}/\Delta) = 0$: le moment d'une force est nul pour toute force dont la direction est parallèle ou sécante l'axe (Δ)

8. J_{Δ} : moment d'inertie du mobile par rapport à l'axe de rotation (Δ)

$$J_{\Delta} = \sum m_i \cdot r_i^2 :$$

- Moment d'inertie du mobile par rapport à l'axe de rotation (Δ)
- S'exprime en Kg.m²
- Exprime la répartition de la matière autour de l'axe (Δ)
- Varie si :
 - On ajoute des masses au système
 - On modifie la position d'un corps du système (modifier la distance r_i)
 - La position de l'axe (Δ) change

Exemple :



1^{ere} loi de Newton

$$\sum \vec{F} = \vec{0}$$

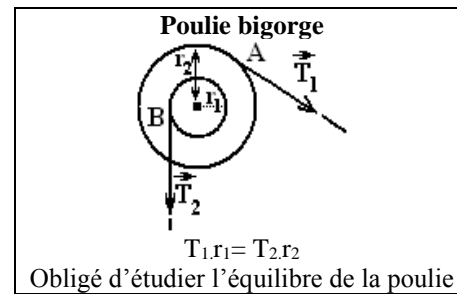
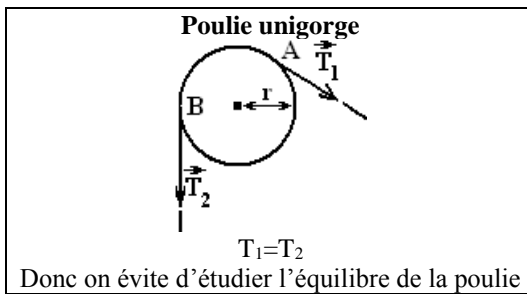
Le centre d'inertie du mobile est au repos (mobile au repos) ou en mouvement rectiligne uniforme

$$\sum M_{\Delta}(\vec{F}) = 0$$

Le mobile est au repos ou en mouvement de rotation uniforme

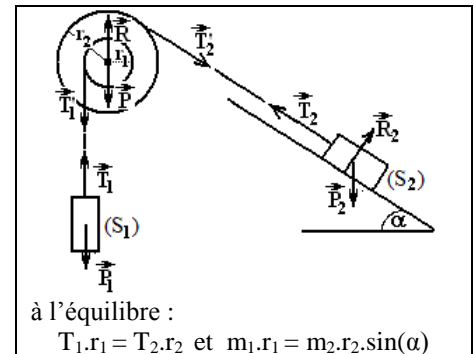
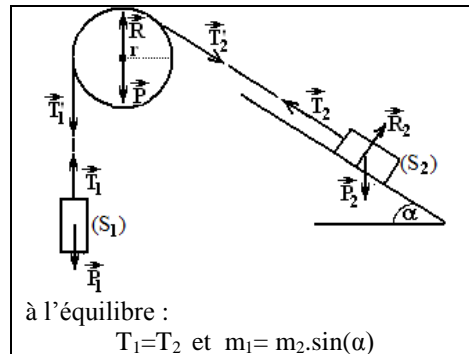
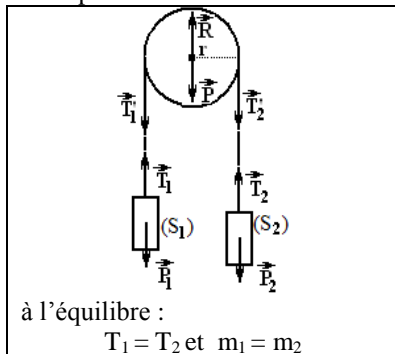
Cas d'équilibre :**Conditions de l'équilibre**

$$\sum \vec{F} = \vec{0} \quad \text{et} \quad \sum M_{\Delta}(\vec{F}) = 0$$

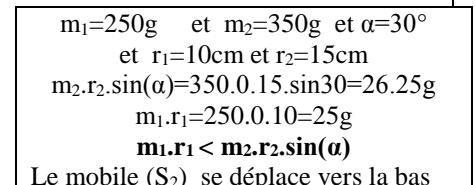
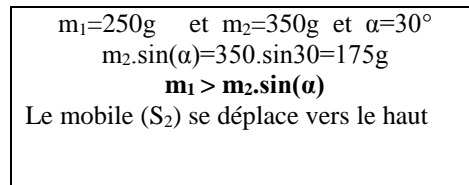
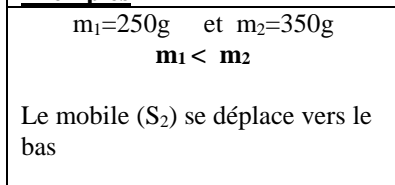
**NB :**

Ce n'est pas toujours le corps le plus lourds qu'impose le sens de mouvement donc

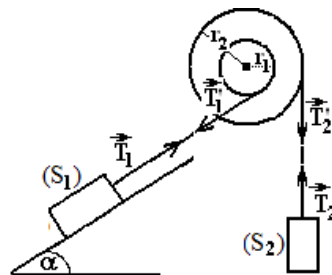
- Après l'étude de l'équilibre du système on obtient la relation d'équilibre
- On calcul séparément les deux bouts de la relation et le plus grand impose le sens de mouvement

Exemples :

On calcul séparément les deux bouts de l'équation et le plus grand impose le sens de mouvement

Exemples**NB :**

Parfois, il faut juste bien voir la figure

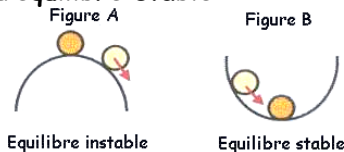


- Déterminer le moment de chacune des deux tensions \vec{T}_1 et \vec{T}_2 ,
- Si elles ont le même signe c'est que le corps ne peut être en équilibre et le système est en mouvement dans le même sens que les tensions \vec{T}_1 et \vec{T}_2

OSCILLATEURS MECANIQUES

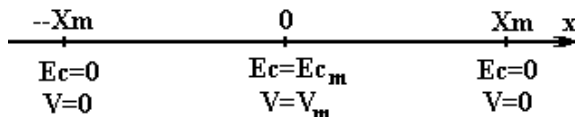
Définition

Oscillateur mécanique : Tout mobile qui effectue un mouvement de va et viens autour de sa position d'équilibre stable



Nous déplaçons légèrement la bille de sa position d'équilibre,

- **La figure A :** elle se met à rouler et ne reviendra pas à sa position de départ. L'équilibre est instable.
- **La figure B :** elle revient dans sa position de départ. L'équilibre est dit stable.

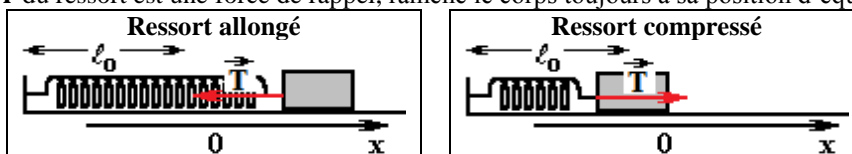


Un pendule élastique, ou **système solide-ressort**, est constitué d'un solide, de masse m , fixé à un ressort, de longueur initiale ℓ_0 et de raideur K , dont l'autre extrémité est attachée à un point fixe.

ℓ_0 Longueur initiale ℓ_0 (m)	K Raideur du ressort (N/m)	$\Delta\ell = \ell - \ell_0$ Allongement du ressort (m)	$T = K \cdot \Delta\ell$ Tension du ressort (N)
--	---------------------------------	--	--

Sens de la tension du ressort \vec{T}

La tension \vec{T} du ressort est une force de rappel, ramène le corps toujours à sa position d'équilibre stable

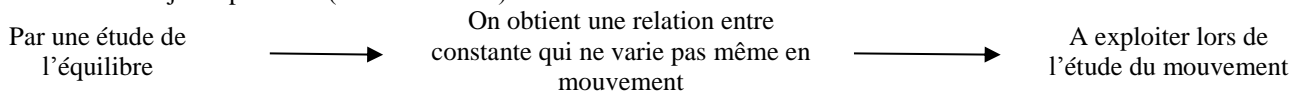


Expression de $\Delta\ell$

<p>Ressort horizontal</p> <p>Ressort horizontal initialement non allongé et fixé directement au mobile ou au moyen d'un fil inextensible et de masse négligeable $\Delta\ell = x$</p>	<p>Ressort vertical ou incliné</p> <p>On admet que le mouvement du solide est dans le sens positif et on conclut</p>			
<p>$\Delta\ell = \ell - \ell_0$</p> <p>Si le ressort s'allonge alors $\Delta\ell = \Delta\ell_0 + x$</p>	<p>$\Delta\ell = \ell_0 - \ell$</p> <p>Si le ressort se comprime alors $\Delta\ell = \Delta\ell_0 - x$</p>	<p>$\Delta\ell = \ell - \ell_0$</p> <p>Si le ressort s'allonge alors $\Delta\ell = \Delta\ell_0 - x$</p>	<p>$\Delta\ell = \ell_0 - \ell$</p> <p>Si le ressort se comprime alors $\Delta\ell = \Delta\ell_0 + x$</p>	

NB :

L'axe d'étude est toujours parallèle (voire confondu) avec l'axe du ressort



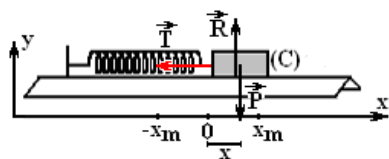
Expression du travail de la tension du ressort \vec{T}

$$W_{1 \rightarrow 2}(\vec{T}) = \frac{1}{2} \cdot K \cdot (\Delta\ell_1^2 - \Delta\ell_2^2) : \text{Travail de la tension du ressort } \vec{T}$$

\vec{T} est une force conservative

Équation différentielle

Un solide, de masse m sur un banc à coussin d'air horizontal, fixé à un ressort à spires non jointives, de longueur initiale ℓ_0 et de raideur K ,



Système : Solide (C)

Bilan des forces :

- \vec{T} : Tension du ressort
- \vec{R} : Réaction du plan horizontal
- \vec{P} : Poids du corps (C)

En appliquant la 2^{ème} loi de Newton : $\sum \vec{F} = m \cdot \vec{a}_G$

$$\vec{T} + \vec{R} + \vec{P} = m \cdot \vec{a}_G$$

$$\vec{T} \begin{pmatrix} T_x = -T \\ T_y = 0 \end{pmatrix} \text{ et } \vec{P} \begin{pmatrix} P_x = 0 \\ P_y = -P = -m \cdot g \end{pmatrix} \text{ et } \vec{R} \begin{pmatrix} R_x = 0 \\ R_y = R \end{pmatrix} \text{ et } \vec{a}_G \begin{pmatrix} a_x = \ddot{x} \\ a_y = 0 \end{pmatrix}$$

Sur l'axe Ox : $T_x + R_x + P_x = m \cdot a_x$

$$-T = m \cdot \ddot{x} \text{ et } -K \cdot \Delta \ell = m \cdot \ddot{x} \text{ et } -K \cdot x = m \cdot \ddot{x} \text{ d'où } -\frac{K}{m} \cdot x = \ddot{x}$$

donc $\ddot{x} + \frac{K}{m} \cdot x = 0$: Equation différentielle de mouvement du centre d'inertie G

L'équation différentielle est de la forme $\ddot{x} + \omega_0^2 \cdot x = 0$ avec $\omega_0^2 = \frac{K}{m}$ ou bien $\omega_0 = \sqrt{\frac{K}{m}}$ (en rad/s)

Équation horaire ou la solution de l'équation différentielle :

$x = x(t) = X_m \cdot \cos\left(\frac{2\pi}{T_0} \cdot t + \varphi\right)$ <p style="text-align: center;">ou bien</p> $x = x(t) = X_m \cdot \cos(\omega_0 \cdot t + \varphi)$ $\omega_0 = \frac{2\pi}{T_0}$	avec	$x(t)$: l'abscisse (élongation) du point G et varie entre X_m et $-X_m$ X_m : Amplitude ou élongation maximale ω_0 : pulsation (rad/s) T_0 : la période (s) $\omega_0 \cdot t + \varphi$: Phase à l'instant t φ : Phase à l'origine des temps $t=0$
---	------	---

Déterminer les constantes X_m , T_0 et φ :

$$x = x(t) = X_m \cdot \cos\left(\frac{2\pi}{T_0} \cdot t + \varphi\right) : \text{l'équation horaire}$$

$$V_x = \dot{x}(t) = -X_m \cdot \frac{2\pi}{T_0} \cdot \sin\left(\frac{2\pi}{T_0} \cdot t + \varphi\right) : \text{l'expression de la composante du vecteur vitesse}$$

NB :

$$x^2 = X_m^2 \cdot \cos^2\left(\frac{2\pi}{T_0} \cdot t + \varphi\right) \text{ et } \frac{x^2}{X_m^2} = \cos^2\left(\frac{2\pi}{T_0} \cdot t + \varphi\right)$$

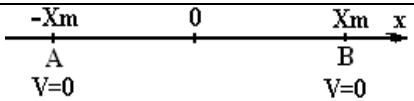
$$V^2 = \left(X_m \cdot \frac{2\pi}{T_0}\right)^2 \cdot \sin^2\left(\frac{2\pi}{T_0} \cdot t + \varphi\right) \text{ et } \frac{V^2}{\left(X_m \cdot \frac{2\pi}{T_0}\right)^2} = \sin^2\left(\frac{2\pi}{T_0} \cdot t + \varphi\right)$$

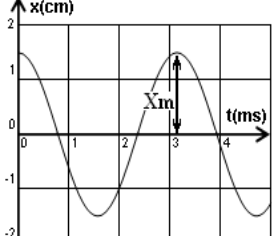
$$\text{Alors } \frac{x^2}{X_m^2} + \frac{V^2}{\left(X_m \cdot \frac{2\pi}{T_0}\right)^2} = 1 \text{ donc } x^2 + \frac{V^2}{\left(\frac{2\pi}{T_0}\right)^2} = X_m^2$$

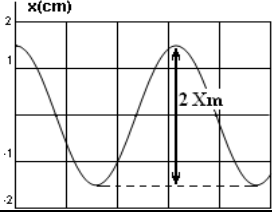
$$x^2 + \left(\frac{T_0}{2\pi}\right)^2 V^2 = X_m^2 \text{ et } x^2 = X_m^2 - \left(\frac{T_0}{2\pi}\right)^2 V^2 \text{ Ou } \frac{V^2}{\left(\frac{2\pi}{T_0}\right)^2} = X_m^2 - x^2 \text{ et } V^2 = \left(\frac{2\pi}{T_0}\right)^2 \cdot (X_m^2 - x^2)$$

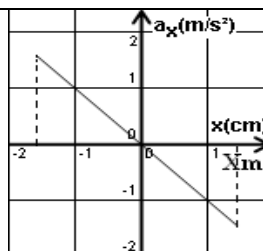
**

Comment déterminer X_m

1. Phrase	
<p>- On écarte le corps de 2cm de sa position d'équilibre et on le libère sans vitesse initiale $X_m = 2\text{cm}$</p> <p>- Le corps oscille entre deux points A et B distante de $AB = 4\text{cm}$ $X_m = 2\text{cm}$ d'où $AB = 2 \cdot X_m = 4\text{cm}$</p>	

2. Graphiquement	<p>2.1. Par rapport à l'axe temps</p> <div style="display: flex; align-items: center;">  <div style="margin-left: 20px;"> <p>$X_m = 1.5\text{cm}$</p> </div> </div>
-------------------------	---

<p>2.2. Par rapport aux extremums</p> <div style="display: flex; align-items: center;">  <div style="margin-left: 20px;"> <p>$X_m = 1.5\text{cm}$</p> </div> </div>

2.3. De la courbe $a_x=f(x)$  $X_m=1.5\text{cm}$ 3. Tableau

Sans aucune indication soit dans un texte ou dans un graphe

t	0	0.2	0.4	0.6	0.8	1.0
x	2	0	-2	0	2	0

La plus élevée en valeur absolue est X_m $X_m=2\text{cm}$ *
** Comment déterminer la pulsation ω_0 1. La fréquence N_0

$$\omega_0 = 2\pi \cdot N_0$$

2. La période propre T_0

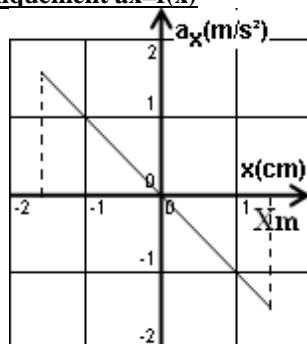
$$\omega_0 = \frac{2\pi}{T_0}$$

3. De l'équation différentielle

$$\ddot{x} + \omega_0^2 \cdot x = 0$$

et $\omega_0^2 = -\frac{\ddot{x}}{x} = -\frac{a_x}{x}$

$$\text{Donc } \omega_0 = \sqrt{-\frac{a_x}{x}}$$

3.1. Graphiquement $a_x=f(x)$ 

Graphiquement : on choisit un point

Soit $x=-1\text{cm}$ et $a_x=1\text{m/s}^2$

$$\omega_0 = \sqrt{-\frac{a_x}{x}} = \sqrt{-\frac{1}{-1 \cdot 10^{-2}}}$$

$$\omega_0 = 10\text{rad/s}$$

3.2. D'un tableau

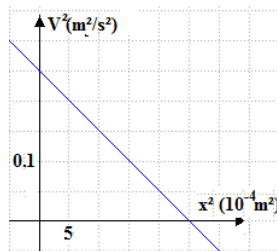
x(cm)	-1.5	-1.0	-0.5	0.5	1.0	1.5
$a_x(\text{m/s}^2)$	1.5	1.0	0.5	-0.5	-1.0	-1.5
$\omega_0^2 = -\frac{a_x}{x}$	100 (rad/s) ²					

Du tableau on désigne un point

Soit $x=-1.5\text{ cm}$ et $a_x=1.5\text{m/s}^2$

$$\omega_0 = \sqrt{-\frac{a_x}{x}} = \sqrt{-\frac{1.5}{-1.5 \cdot 10^{-2}}}$$

$$\omega_0 = 10\text{rad/s}$$

4. Graphiquement $V^2=f(x^2)$ 

$$V^2 = \left(\frac{2\pi}{T_0}\right)^2 \cdot (X_m^2 - x^2)$$

$$V^2 = \frac{1}{\omega_0^2} \cdot (X_m^2 - x^2)$$

Dans ce cas : $X_m^2=25 \cdot 10^{-4}\text{m}^2$ $X_m=5 \cdot 10^{-2}\text{m}$

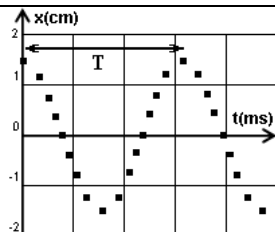
$$\left(\frac{2\pi}{T_0}\right)^2 = \frac{\Delta V^2}{\Delta x^2} = \frac{0.25 - 0}{(25 - 0) \cdot 10^{-4}} = 100$$

*
** Comment déterminer la période propre T_0 1. La fréquence N_0

$$T_0 = \frac{1}{N_0}$$

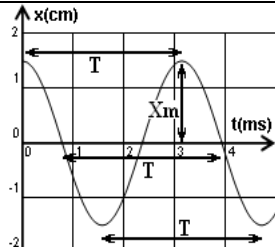
2. La pulsation ω_0

$$T_0 = \frac{2\pi}{\omega_0}$$

3. Enregistrement

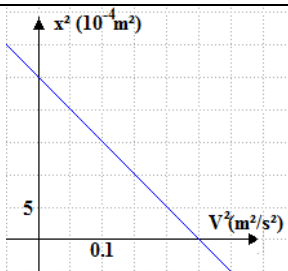
τ : la durée entre l'enregistrement de deux points successifs

$$T = 16 \cdot \tau$$

4. Graphiquement $x=f(t)$ 

Attention à la lecture et à l'échelle

$$T_0 = 3.2 \text{ ms}$$

5. Graphiquement
 $V^2=f(V^2)$ 

$$V^2 = \left(\frac{2\pi}{T_0}\right)^2 \cdot (X_m^2 - x^2)$$

Dans ce cas : $X_m^2 = 25 \cdot 10^{-4} \text{ m}^2$

$$X_m = 5 \cdot 10^{-2} \text{ m}$$

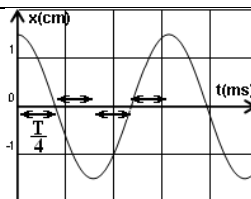
$$\left(\frac{2\pi}{T_0}\right)^2 = \frac{\Delta V^2}{\Delta x^2} = \frac{0.25 - 0}{(25 - 0) \cdot 10^{-4}} = 100$$

$$T_0 = 0.628 \text{ s}$$

6. Tableau

x(cm)	1.5	0	-1.5
t(ms)	0	0.8	1.6

$$T = 3.2 \text{ ms}$$



$\frac{T_0}{4}$: durée du trajet entre $\pm X_m$ et 0 et réciproquement

$\frac{T_0}{2}$: durée du trajet entre $+X_m$ et $-X_m$ et réciproquement

7. Phrase

Δt : la durée nécessaire pour réaliser n oscillations

$$\Delta t = n \cdot T_0$$

L'oscillateur effectue 10 oscillations pendant 2s

$$T_0 = \frac{\Delta t}{n} = \frac{2}{10} = 0.2 \text{ s}$$

**

Comment déterminer la phase à l'origine φ

$x = x(t) = X_m \cdot \cos\left(\frac{2\pi}{T_0} \cdot t + \varphi\right)$: l'équation horaire

$V_x = \dot{x}(t) = -X_m \cdot \frac{2\pi}{T_0} \cdot \sin\left(\frac{2\pi}{T_0} \cdot t + \varphi\right)$: l'expression de la composante du vecteur vitesse

V_x et $\sin\left(\frac{2\pi}{T_0} \cdot t + \varphi\right)$ sont opposées (ont des signes différents)

à l'instant $t=0$

$$x_0 = x(0) = X_m \cdot \cos(\varphi) \text{ d'où } \cos(\varphi) = \frac{x(0)}{X_m}$$

$$V_{0x} = V(0) = \dot{x}(0) = -X_m \cdot \frac{2\pi}{T_0} \cdot \sin(\varphi)$$

V_x à l'instant $t=0$ et $\sin(\varphi)$ sont opposées (ont des signes différents)

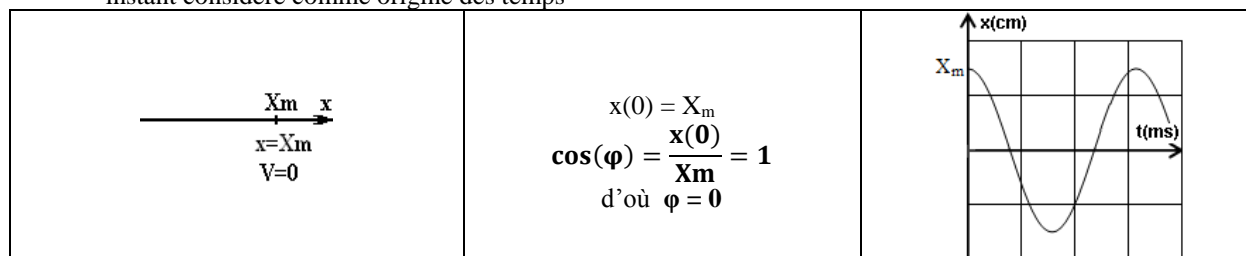
On en conclut que V_x à l'instant $t=0$ et φ sont opposés aussi

En comparant le sens de mouvement avec le sens positif de l'axe, on détermine le signe de V_x la composante de la vitesse et on en déduit le signe de la phase φ

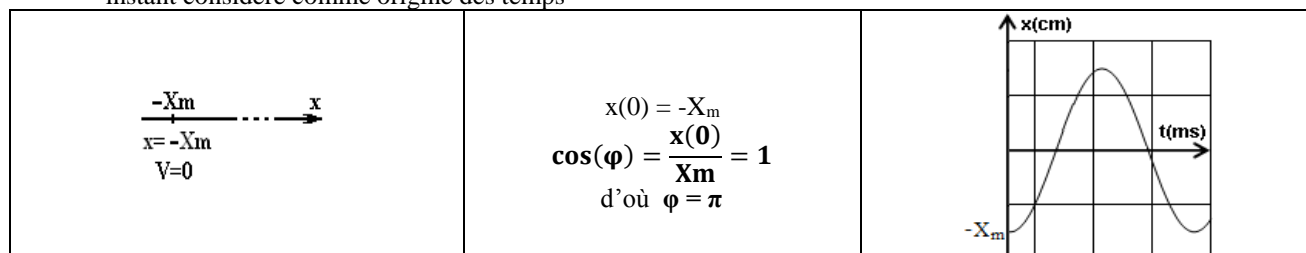
(2)	(3)	(1)
$-X_m$	0	X_m
$x = -X_m$	$x = 0$	$x = X_m$
$V = 0$	$V = V_m$	$V = 0$

1^{er} cas :


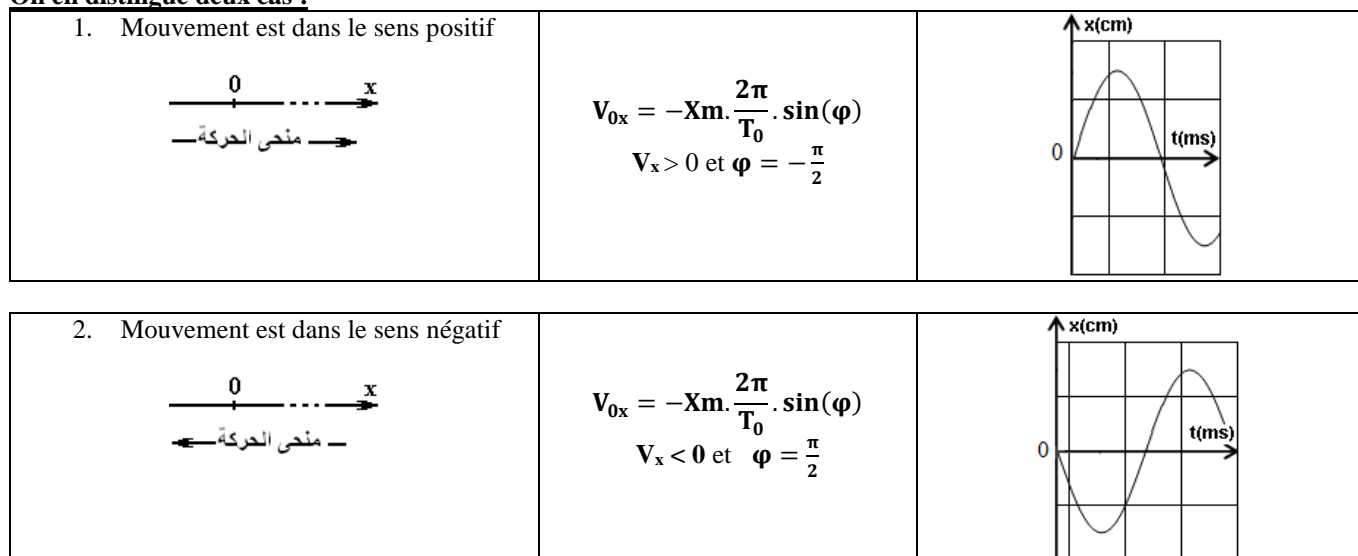
- (1) On écarte le corps, dans le sens positif, de X_m de sa position d'équilibre et on le libère sans vitesse initiale à un instant considéré comme origine des temps

**2^{em} cas :**

- (2) On écarte le corps, dans le sens négatif, de X_m de sa position d'équilibre et on le libère sans vitesse initiale à un instant considéré comme origine des temps

**3^{em} cas :**

- (3) On considère l'instant de passage du corps par sa position d'équilibre comme origine des dates

**On en distingue deux cas :****NB :**

- Ecarter un oscillateur dans un sens et le lâcher sans vitesse initiale alors son premier mouvement serait dans le sens inverse
- Le premier passage d'un oscillateur par sa position d'équilibre est équivalent au 3^{eme} et au 5^{eme} passage (tous les nombres impaires)
- Le deuxième passage d'un oscillateur par sa position d'équilibre est équivalent au 4^{eme} et au 6^{eme} passage (tous les nombres pairs)
- Il est fortement conseillé d'exploiter l'expression $\omega_0 = \frac{2\pi}{T_0}$ à chaque fois que le temps est donné en fonction de la période T_0

t	$\frac{T_0}{4}$	$\frac{T_0}{2}$	$3 \frac{T_0}{4}$	T_0
$\omega_0 \cdot t = \frac{2\pi}{T_0} \cdot t$	$\frac{2\pi}{T_0} \cdot \frac{T_0}{4} = \frac{\pi}{2}$	$\frac{2\pi}{T_0} \cdot \frac{T_0}{2} = \pi$	$\frac{2\pi}{T_0} \cdot 3 \cdot \frac{T_0}{4} = 3 \cdot \frac{\pi}{2}$	$\frac{2\pi}{T_0} \cdot T_0 = 2 \cdot \pi$

ETUDE ENERGETIQUE

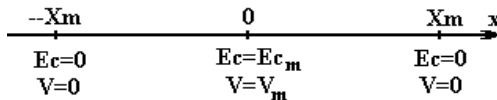
Energie du système est la somme des énergies de ses composantes

❖ Energie cinétique E_c :

$$x = X_m \cdot \cos\left(\frac{2\pi}{T_0} \cdot t + \varphi\right) \quad \text{et} \quad V_x = -X_m \cdot \frac{2\pi}{T_0} \cdot \sin\left(\frac{2\pi}{T_0} \cdot t + \varphi\right) \quad \text{et} \quad \omega_0 = \frac{2\pi}{T_0} = \sqrt{\frac{K}{m}}$$

$$E_c = \frac{1}{2} m \cdot V^2$$

$$\begin{aligned} E_c = \frac{1}{2} m \cdot V^2 &= \frac{1}{2} m \cdot \left(-X_m \cdot \frac{2\pi}{T_0} \cdot \sin\left(\frac{2\pi}{T_0} \cdot t + \varphi\right)\right)^2 \\ &= \frac{1}{2} m \cdot X_m^2 \cdot \left(\frac{2\pi}{T_0}\right)^2 \cdot \sin^2\left(\frac{2\pi}{T_0} \cdot t + \varphi\right) \\ &= \frac{1}{2} m \cdot X_m^2 \cdot \left(\frac{2\pi}{T_0}\right)^2 \cdot (1 - \cos^2\left(\frac{2\pi}{T_0} \cdot t + \varphi\right)) \quad ; \sin^2(a) = 1 - \cos^2(a) \\ &= \frac{1}{2} m \cdot X_m^2 \cdot \left(\frac{2\pi}{T_0}\right)^2 \cdot (1 - \cos^2\left(\frac{2\pi}{T_0} \cdot t + \varphi\right)) \quad ; \omega_0 = \frac{2\pi}{T_0} = \sqrt{\frac{K}{m}} \\ &= \frac{1}{2} K \cdot X_m^2 \cdot (1 - \cos^2\left(\frac{2\pi}{T_0} \cdot t + \varphi\right)) \\ &= \frac{1}{2} K \cdot X_m^2 - \frac{1}{2} K \cdot X_m^2 \cdot \cos^2\left(\frac{2\pi}{T_0} \cdot t + \varphi\right) \quad ; x = X_m \cdot \cos\left(\frac{2\pi}{T_0} \cdot t + \varphi\right) \\ &= \frac{1}{2} K \cdot X_m^2 - \frac{1}{2} K \cdot x^2 \\ &= \frac{1}{2} K \cdot (X_m^2 - x^2) \end{aligned}$$



- Si $x=X_m$ ou $x=-X_m$ alors l'énergie cinétique est nulle donc la vitesse est nulle et l'oscillateur s'arrête et change le sens de son mouvement
- Si $x=0$ alors l'oscillateur passe par sa position d'équilibre et son énergie cinétique est maximale et sa vitesse l'est aussi

❖ Energie potentielle E_p :

L'énergie potentielle (de position), définie à une constante arbitraire près, ne dépend que de la position du corps dans l'espace.

❖ Energie potentielle élastique E_{pe}

$$E_{pe} = \frac{1}{2} \cdot K \cdot \Delta \ell^2 + C$$

La constante C est déterminé à partir d'un cas référentiel de l'énergie potentielle $E_{pe}=0$

Si le pendule élastique est horizontal alors $\Delta \ell = x$ alors

$$E_{pe} = \frac{1}{2} \cdot K \cdot x^2 + C$$

On considère le plan vertical passant par la position d'équilibre comme repère de l'énergie potentielle élastique $x=0$ et $E_{pe}=0$ d'où $C=0$ alors

$$E_{pe} = \frac{1}{2} \cdot K \cdot x^2$$

❖ Energie potentielle de pesanteur E_{pp}

$$E_{pp} = m \cdot g \cdot Z + C$$

La constante C est déterminé à partir d'un cas référentiel de l'énergie potentielle $E_{pp}=0$

On considère le plan vertical passant par la position d'équilibre comme repère de l'énergie potentielle élastique $z=0$ et $E_{pp}=0$ d'où $C=0$ alors

$$E_{pp} = m \cdot g \cdot Z$$

NB :

Pour un pendule élastique horizontal $E_{pp}=0$

Conclusion : $E_p = \frac{1}{2} \cdot K \cdot x^2$

On a $x = X_m \cdot \cos\left(\frac{2\pi}{T_0} \cdot t + \varphi\right)$ alors $E_p = \frac{1}{2} K \cdot X_m^2 \cdot \cos^2\left(\frac{2\pi}{T_0} \cdot t + \varphi\right)$

❖ Expression de la variation de l'énergie potentielle ΔE_p

ΔE_{pe} : Variation de l'énergie potentielle élastique

$$\Delta E_{pe} = \frac{1}{2} \cdot K \cdot (\Delta \ell_2^2 - \Delta \ell_1^2) = -W_{1 \rightarrow 2}(\vec{T})$$

ΔE_{pp} : Variation de l'Énergie potentielle de pesanteur

$$\Delta E_{pp} = m \cdot g \cdot (Z_2 - Z_1) = -W_{1 \rightarrow 2}(\vec{P})$$

❖ Energie mécanique E_m :

L'énergie mécanique est la somme de l'énergie cinétique et de l'énergie potentielle, $E_m = E_c + E_p$

$$E_m = \frac{1}{2} \cdot m \cdot V^2 + \frac{1}{2} \cdot K \cdot x^2 + C$$

Pour les conditions décrites avant on peut écrire

$$E_m = \frac{1}{2} \cdot m \cdot V^2 + \frac{1}{2} \cdot K \cdot x^2$$

❖ Théorème de l'Energie mécanique

$$\Delta E_m = \sum W_{1 \rightarrow 2}(\vec{F}_{NC})$$

La variation de l'énergie mécanique du système est égale à la somme de tous les travaux de toutes les forces extérieures non conservatives s'exerçant sur le système entre deux points (1) et (2)

NB:

Forces conservatives toutes les forces dont le travail ne dépend que de la position initiale et de la position finale

\vec{T} : Tension d'un ressort

$$W_{1 \rightarrow 2}(\vec{T}) = \frac{1}{2} \cdot K \cdot (\Delta \ell_1^2 - \Delta \ell_2^2)$$

\vec{P} : Poids d'un corps

$$W_{1 \rightarrow 2}(\vec{P}) = m \cdot g \cdot (Z_1 - Z_2)$$

❖ Conservation de l'énergie mécanique

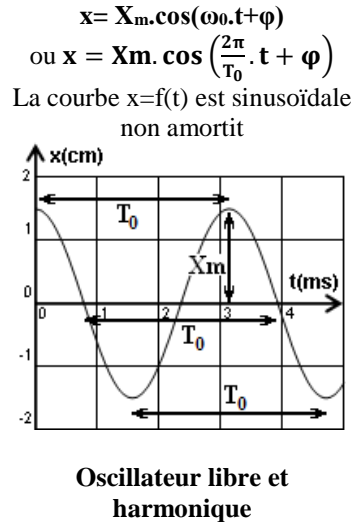
$$\Delta E_m = \sum W_{1 \rightarrow 2}(\vec{F}_{NC})$$

Dans le cas d'un pendule élastique horizontal

$$\Delta E_m = \sum W_{1 \rightarrow 2}(\vec{F}_{NC}) = W_{1 \rightarrow 2}(\vec{R}) = 0$$

$$\Delta E_m = 0$$

Donc $E_m = C^{te}$



Equation différentielle

$$\ddot{x} + \frac{K}{m} \cdot x = 0$$

Ou

$$\ddot{x} + \omega_0^2 \cdot x = 0$$

$$\frac{dE_m}{dt} = 0$$

$$E_m = \frac{1}{2} \cdot m \cdot V^2 + \frac{1}{2} \cdot K \cdot x^2 + C$$

$$\frac{dE_m}{dt} = \frac{1}{2} \cdot m \cdot \left(2 \cdot V \cdot \frac{dV}{dt}\right) + \frac{1}{2} \cdot K \cdot \left(2 \cdot x \cdot \frac{dx}{dt}\right)$$

$$= m \cdot \left(V \cdot \frac{dV}{dt}\right) + K \cdot \left(x \cdot \frac{dx}{dt}\right)$$

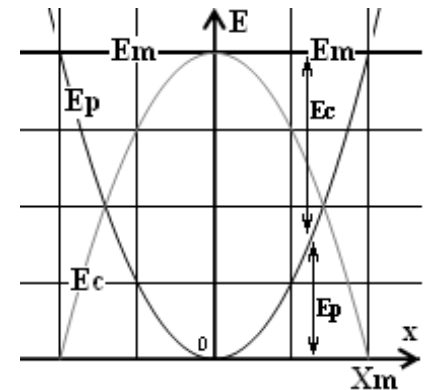
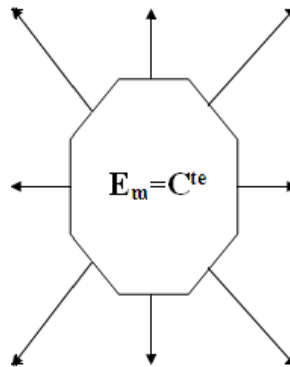
$$= m \cdot \left(\frac{dx}{dt} \cdot \frac{d^2x}{dt^2}\right) + K \cdot \left(x \cdot \frac{dx}{dt}\right)$$

$$= m \cdot \left(\frac{dx}{dt} \cdot \frac{d^2x}{dt^2}\right) + K \cdot \left(x \cdot \frac{dx}{dt}\right)$$

$$= m \cdot \frac{dx}{dt} \cdot \left(\frac{d^2x}{dt^2} + \frac{K}{m} \cdot x\right)$$

$$= m \cdot V \cdot \left(\frac{d^2x}{dt^2} + \frac{K}{m} \cdot x\right) = 0$$

D'où $\frac{d^2x}{dt^2} + \frac{K}{m} \cdot x = 0$ ou $\ddot{x} + \frac{K}{m} \cdot x = 0$



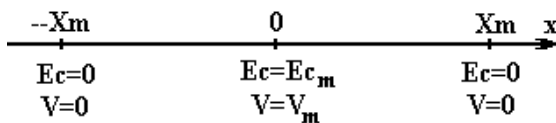
- Au point $x = X_m$ on a $E_m = E_{p_{max}}$
- Au passage par la position d'équilibre $x = 0$ on a $E_m = E_{c_{max}}$

à exploiter à $x=0$ ou $V=V_m$

$$E_m = \frac{1}{2} \cdot m \cdot V_m^2$$

Se calcul souvent à $x=X_m$ ou $V=0$

$$E_m = \frac{1}{2} \cdot K \cdot X_m^2$$



$$E_p = E_m - E_c$$

$$E_p = \frac{1}{2} \cdot m \cdot V_m^2 - \frac{1}{2} \cdot m \cdot V^2$$

$$E_p = \frac{1}{2} \cdot m \cdot (V_m^2 - V^2)$$

$$E_c = E_m - E_p$$

$$E_c = \frac{1}{2} \cdot K \cdot X_m^2 - \frac{1}{2} \cdot K \cdot x^2$$

$$E_c = \frac{1}{2} \cdot K \cdot (X_m^2 - x^2)$$

$$E_m = E_c + E_p = C^{te}$$

L'énergie cinétique se transforme en énergie potentielle et réciproquement

$$E_m = E_c + E_p = \frac{1}{2} \cdot m \cdot V^2 + \frac{1}{2} \cdot K \cdot x^2$$

$$x = X_m \cdot \cos\left(\frac{2\pi}{T_0} \cdot t + \varphi\right)$$

$$V_x = -X_m \cdot \frac{2\pi}{T_0} \cdot \sin\left(\frac{2\pi}{T_0} \cdot t + \varphi\right)$$

$$E_m = \frac{1}{2} \cdot K \cdot X_m^2 = \frac{1}{2} \cdot m \cdot V_m^2$$

❖ **Expression des énergies**

$$x = X_m \cdot \cos\left(\frac{2\pi}{T_0} \cdot t + \varphi\right) \quad \text{et} \quad V_x = -X_m \cdot \frac{2\pi}{T_0} \cdot \sin\left(\frac{2\pi}{T_0} \cdot t + \varphi\right) \quad \text{et} \quad \omega_0 = \frac{2\pi}{T_0} = \sqrt{\frac{K}{m}}$$

$$E_c = \frac{1}{2} m \cdot V^2 = \frac{1}{2} m \cdot \left(-X_m \cdot \frac{2\pi}{T_0} \cdot \sin\left(\frac{2\pi}{T_0} \cdot t + \varphi\right)\right)^2 = \frac{1}{2} m \cdot \left(X_m \cdot \frac{2\pi}{T_0}\right)^2 \cdot \sin^2\left(\frac{2\pi}{T_0} \cdot t + \varphi\right) = \frac{1}{2} K \cdot X_m^2 \cdot \sin^2\left(\frac{2\pi}{T_0} \cdot t + \varphi\right)$$

$$E_p = \frac{1}{2} K \cdot x^2 = \frac{1}{2} K \cdot X_m^2 \cdot \cos^2\left(\frac{2\pi}{T_0} \cdot t + \varphi\right)$$

$$E_m = \frac{1}{2} \cdot K \cdot X_m^2 = \frac{1}{2} \cdot m \cdot V_m^2$$

❖ **La période des énergies****Energie potentielle élastique**

$$E_p = \frac{1}{2} K \cdot x^2 = \frac{1}{2} K \cdot X_m^2 \cdot \cos^2\left(\frac{2\pi}{T_0} \cdot t\right) \quad ; \quad 2 \cdot \cos^2 x = 1 + \cos(2 \cdot x)$$

$$E_p = \frac{1}{4} K \cdot X_m^2 \cdot \left(1 + \cos\left(\frac{4\pi}{T_0} \cdot t\right)\right)$$

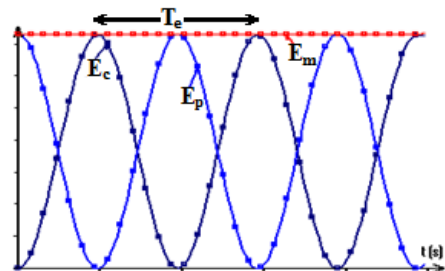
$$E_p = \frac{1}{4} K \cdot X_m^2 \cdot \left(1 + \cos\left(\frac{2\pi}{T_e} \cdot t\right)\right)$$

Energie cinétique

$$E_c = \frac{1}{2} K \cdot X_m^2 \cdot \sin^2\left(\frac{2\pi}{T_0} \cdot t + \varphi\right) \quad ; \quad 2 \cdot \sin^2 x = 1 - \cos(2 \cdot x)$$

$$E_c = \frac{1}{4} K \cdot X_m^2 \cdot \left(1 - \cos\left(\frac{4\pi}{T_0} \cdot t\right)\right)$$

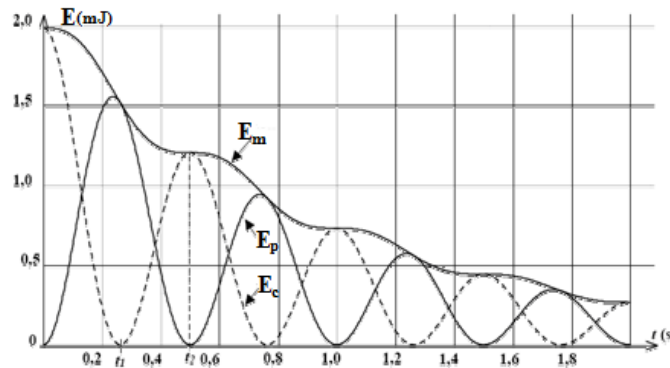
$$E_c = \frac{1}{4} K \cdot X_m^2 \cdot \left(1 - \cos\left(\frac{2\pi}{T_e} \cdot t\right)\right)$$

**NB :**

$T_0 = 2 \cdot T_e$: La période des oscillations T_0 est le double de la période des énergies T_e

NB :

S'il existe frottement alors l'amplitude des oscillations diminue par dissipation (perte) de l'énergie mécanique au cours du temps

**Ec : Energie cinétique**

Rotation
 $E_c = \frac{1}{2} \cdot J_{\Delta} \cdot \dot{\theta}^2$

Translation
 $E_c = \frac{1}{2} \cdot m \cdot V^2$

NB :

$$V = r \cdot \dot{\theta} \quad \text{donc}$$

$$E_c = \frac{1}{2} \cdot J_{\Delta} \cdot \left(\frac{V}{r}\right)^2 = \frac{1}{2} \cdot \frac{J_{\Delta}}{r^2} \cdot V^2$$

Ep : Energie potentielle

Energie potentielle de Torsion
 $E_{p_t} = \frac{1}{2} C \cdot \theta^2 + C'$

Energie potentielle élastique
 $E_{p_e} = \frac{1}{2} K \cdot \Delta \ell^2 + C$

Energie potentielle de pesanteur
 $E_{p_p} = m \cdot g \cdot Z + C$

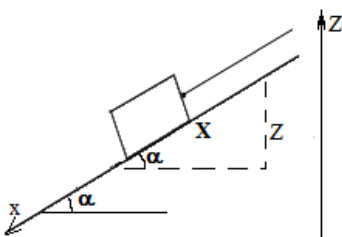
Energie potentielle de pesanteur

X : la distance que parcourt le corps sur le plan incliné et elle constitue l'hypoténuse du triangle

Les deux axes sont opposés et $Z = - X \cdot \sin(\alpha)$

NB : si on change l'orientation de l'axe z

- L'expression de l'énergie potentielle varie $E_{pp} = E_{pp}(Z) = - m \cdot g \cdot Z + C$
- La relation entre abscisse varie aussi $Z = X \cdot \sin(\alpha)$



1. $E_{pp} = E_{pp}(Z) = m \cdot g \cdot Z + C$
2. Déterminer l'expression de la constante C
 - Déterminer le plan horizontal référentielle de l'énergie potentielle $E_{pp}=0$
 - Déterminer l'abscisse correspondant Z_0 $Z = Z_0$ et $E_{pp}(Z_0) = 0$

D'où

$$E_{pp}(Z_0) = m \cdot g \cdot Z_0 + C = 0$$

donc

$$C = - m \cdot g \cdot Z_0$$

3. On remplace C par son équivalent et on obtient alors

$$E_{pp} = E_{pp}(Z) = m \cdot g \cdot Z - m \cdot g \cdot Z_0$$

$$E_{pp} = E_{pp}(Z) = m \cdot g \cdot (Z - Z_0)$$

Energie potentielle élastique

$$1. E_{pe} = \frac{1}{2} \cdot K \cdot \Delta \ell^2 + C$$

Déterminer l'expression de $\Delta \ell$ en fonction de x soit $\Delta \ell = \Delta \ell_0 + x$

2. Déterminer la constante C
 - Déterminer le plan référentiel de l'Energie potentielle $E_{pe}=0$
 - Déterminer l'abscisse correspondant x_0 $x = x_0$ et $E_{pe}(x_0) = 0$

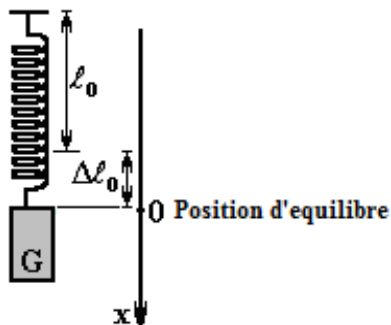
$$D'où E_{pe}(x_0) = \frac{1}{2} \cdot K \cdot (\Delta \ell_0 + x_0)^2 + C = 0$$

$$Donc C = - \frac{1}{2} \cdot K \cdot (\Delta \ell_0 + x_0)^2$$

3. Remplacer dans l'expression de E_{pe}

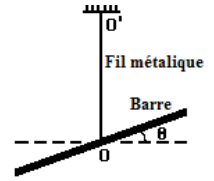
$$E_{pe} = \frac{1}{2} \cdot K \cdot \Delta \ell^2 + C = \frac{1}{2} \cdot K \cdot (\Delta \ell_0 + x_0)^2 + C$$

Cas référentiel	Quand le ressort n'est pas allongé	Passage de corps par <ul style="list-style-type: none"> - Sa position d'équilibre - Un point quand le ressort est allongé de $\Delta \ell_0$ - Un point avec une vitesse maximale
Expression de x_0	$x_0 = - \Delta \ell_0$	$x_0 = 0$
Expression de la constante C	$C = 0$	$C = - \frac{1}{2} \cdot K \cdot (\Delta \ell_0)^2$
Expression de E_{pe}	$E_{pe} = \frac{1}{2} \cdot K \cdot (\Delta \ell_0 + x_0)^2$	$E_{pe} = \frac{1}{2} \cdot K \cdot (\Delta \ell_0 + x_0)^2 - \frac{1}{2} \cdot K \cdot (\Delta \ell_0)^2$ $E_{pe} = \frac{1}{2} \cdot K \cdot [(\Delta \ell_0 + x_0)^2 - (\Delta \ell_0)^2]$



PENDULE DE TORSION

Un pendule de torsion est un dispositif constitué d'une barre horizontale, fixée à un support par l'intermédiaire d'un fil métallique.



❖ Moment de torsion

Le fil métallique s'opposant à sa torsion, d'un angle θ , exerce un couple de force de moment $M = -C \cdot \theta$

θ (rad) : angle de rotation

C (N.m.rad⁻¹): Constante de torsion (spécifique au fil métallique)

❖ Equation différentielle

$$\ddot{\theta} + \omega_0^2 \cdot \theta = 0 \quad \text{avec} \quad \omega_0 = \frac{2\pi}{T_0} = \sqrt{\frac{C}{J_\Delta}}$$

❖ Equation horaire ou solution de l'équation différentielle

$$\theta = \theta_m \cdot \cos\left(\frac{2\pi}{T_0} \cdot t + \varphi\right) : \text{Equation horaire}$$

θ : Elongation angulaire

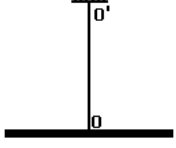
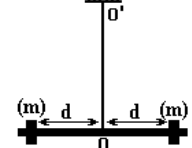
θ_m : Amplitude du mouvement ou élongation angulaire maximale

❖ Expression de T_0 en fonction du moment d'inertie J_Δ

- $J_\Delta = \sum m_i \cdot r_i^2$:
- Moment d'inertie de la barre par rapport à l'axe (Δ)
 - Exprime la répartition de la matière autour de l'axe (Δ)
 - S'exprime en Kg.m²

NB :

Toute modification soit de la masse ou de sa position par rapport à l'axe modifie la valeur J_Δ

 <p style="text-align: center;">$J_0 = \sum m_i \cdot r_i^2$</p> <p style="text-align: center;">$T_0 = 2\pi \cdot \sqrt{\frac{J_\Delta}{C}}$</p>	 <p style="text-align: center;">On fixe deux masselottes identiques de masses m de part et d'autre de l'axe à une distance d</p> <p style="text-align: center;">$J_\Delta = \sum m_i \cdot r_i^2 = J_0 + 2 \cdot m \cdot d^2$</p> <p style="text-align: center;">$T_0 = 2\pi \cdot \sqrt{\frac{J_\Delta}{C}} = 2\pi \cdot \sqrt{\frac{J_0 + 2 \cdot m \cdot d^2}{C}}$</p>
--	--

**

Exploiter la courbe $T^2=f(m)$ ou $T^2=f(d^2)$

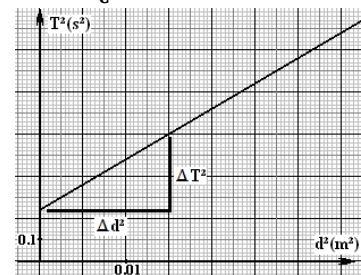
On a $T_0 = 2\pi \cdot \sqrt{\frac{J_0 + 2 \cdot m \cdot d^2}{C}}$ alors $T_0^2 = 4\pi^2 \cdot \frac{J_0}{C} + 8\pi^2 \cdot \frac{m \cdot d^2}{C}$

$m = 50g$ Masse de la masselotte

$$T_0^2 = 4\pi^2 \cdot \frac{J_0}{C} + 8\pi^2 \cdot \frac{m \cdot d^2}{C}$$

La courbe $T^2=f(d^2)$ est une fonction affine donc $T^2 = A \cdot d^2 + B$ avec :

- $A = 8\pi^2 \cdot \frac{m}{C} = \frac{\Delta T_0^2}{\Delta d^2} = \frac{0.36}{0.015} = 24 \text{ s}^2/\text{m}^2$, on en déduit C , $C = 8\pi^2 \cdot \frac{m}{A}$
- $B = 4\pi^2 \cdot \frac{J_0}{C} = 0.24 \text{ s}^2$, on en déduit J_0 , $J_0 = \frac{B \cdot C}{4\pi^2}$



❖ Energie cinétique

$$\theta = \theta_m \cdot \cos\left(\frac{2\pi}{T_0} \cdot t + \varphi\right) \quad \text{et} \quad \dot{\theta} = -\theta_m \cdot \frac{2\pi}{T_0} \cdot \sin\left(\frac{2\pi}{T_0} \cdot t + \varphi\right) \quad \text{avec} \quad \omega_0 = \frac{2\pi}{T_0} = \sqrt{\frac{C}{J_\Delta}}$$

$$E_c = \frac{1}{2} \cdot J_\Delta \cdot \dot{\theta}^2 = \frac{1}{2} \cdot J_\Delta \cdot \left(-\theta_m \cdot \frac{2\pi}{T_0} \cdot \sin\left(\frac{2\pi}{T_0} \cdot t + \varphi\right)\right)^2 = \frac{1}{2} \cdot C \cdot (\theta_m^2 - \theta^2)$$

- Si $\theta = \theta_m$ ou $\theta = -\theta_m$ alors l'énergie cinétique est nulle donc la vitesse est nulle et l'oscillateur s'arrête et change le sens de son mouvement
- Si $\theta = 0$ alors l'oscillateur passe par sa position d'équilibre et son énergie cinétique est maximale et sa vitesse l'est aussi

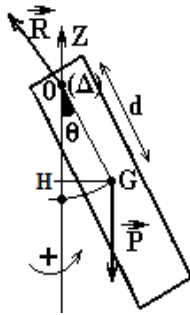
❖ Energie potentielle de torsion E_p

$$E_{p_t} = \frac{1}{2} \cdot C \cdot \theta^2 + C' = \frac{1}{2} \cdot C \cdot \left(\theta_m \cdot \cos\left(\frac{2\pi}{T_0} \cdot t + \varphi\right)\right)^2 + C' = \frac{1}{2} \cdot C \cdot \theta_m^2 \cdot \cos^2\left(\frac{2\pi}{T_0} \cdot t + \varphi\right) + C'$$

PENDULE PESANT

- On appelle pendule pesant tout solide mobile autour d'un axe (Δ) (en principe horizontal) ne passant pas par son centre de gravité et placé dans un champ de pesanteur
- Le solide est en mouvement de rotation autour de l'axe (Δ)

❖ Étude dynamique :



Système : le solide (S)

Bilan des forces : - \vec{R} : La réaction de l'axe (Δ)

- \vec{P} : Poids du solide (S)

On applique la RFD : $\sum M_{\Delta}(\vec{F}) = J_{\Delta} \cdot \ddot{\theta}$

$$M_{\Delta}(\vec{P}) + M_{\Delta}(\vec{R}) = J_{\Delta} \cdot \ddot{\theta}$$

$M_{\Delta}(\vec{R}) = 0$: La réaction de l'axe (Δ) est sécante (se coupe) à l'axe (Δ)

$M_{\Delta}(\vec{P}) = -m \cdot g \cdot HG = -m \cdot g \cdot d \cdot \sin(\theta)$: Moment du poids

$$\text{D'où } -m \cdot g \cdot d \cdot \sin(\theta) = J_{\Delta} \cdot \ddot{\theta} \text{ donc } \ddot{\theta} = -\frac{m \cdot g \cdot d}{J_{\Delta}} \cdot \sin(\theta)$$

$$\ddot{\theta} + \frac{m \cdot g \cdot d}{J_{\Delta}} \cdot \sin(\theta) = 0 : \text{équation différentielle}$$

Conclusion :

Le mouvement du pendule pesant est un mouvement de rotation oscillatoire, périodique mais non sinusoïdale

❖ Cas des faibles oscillations :

Dans le cas de faibles oscillations on a $\sin(\theta) = \theta$ pour des angles $\theta \leq 15^\circ$ ou $\theta \leq 0.26 \text{ rad}$

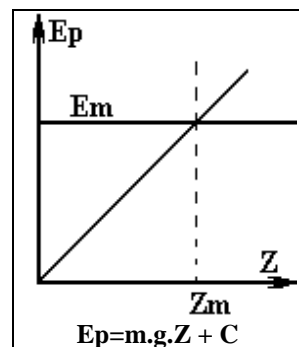
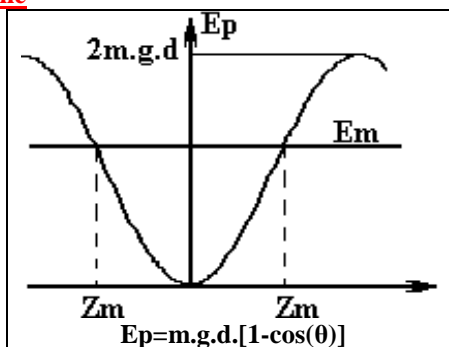
❖ Equation différentielle

$$\ddot{\theta} + \frac{m \cdot g \cdot d}{J_{\Delta}} \cdot \theta = 0 : \text{équation différentielle avec } \omega_0 = \frac{2 \cdot \pi}{T_0} = \sqrt{\frac{m \cdot g \cdot d}{J_{\Delta}}} \text{ et } T_0 = 2 \cdot \pi \cdot \sqrt{\frac{J_{\Delta}}{m \cdot g \cdot d}}$$

❖ Equation horaire ou solution de l'équation différentielle

$$\theta = \theta_m \cdot \cos\left(\frac{2\pi}{T_0} \cdot t + \varphi\right)$$

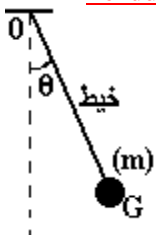
❖ Energie potentielle



$E_m < 2 \cdot m \cdot g \cdot d$: Le système est un oscillateur

$E_m > 2 \cdot m \cdot g \cdot d$: Le système est en rotation autour de l'axe (Δ)

❖ Pendule simple



Le **pendule simple** est une masse ponctuelle fixée à l'extrémité d'un fil inextensible de masse négligeable, et oscillant sous l'effet de la pesanteur.

$$d = \ell \text{ et } J_{\Delta} = m \cdot \ell^2$$

- Expression de la période T_0

$$T_0 = 2\pi \cdot \sqrt{\frac{J_{\Delta}}{m \cdot g \cdot d}} = 2\pi \cdot \sqrt{\frac{m \cdot \ell^2}{m \cdot g \cdot \ell}} = 2\pi \cdot \sqrt{\frac{\ell}{g}}$$

- La longueur du pendule simple synchrone avec le pendule pesant (ont même période propre T_0)

$$T_0 = 2\pi \cdot \sqrt{\frac{J_{\Delta}}{m \cdot g \cdot d}} = 2\pi \cdot \sqrt{\frac{\ell}{g}} \text{ donc } \frac{J_{\Delta}}{m \cdot g \cdot d} = \frac{\ell}{g} \text{ d'où } \ell = \frac{J_{\Delta}}{m \cdot d}$$

❖ Amortissement des oscillations mecaniques

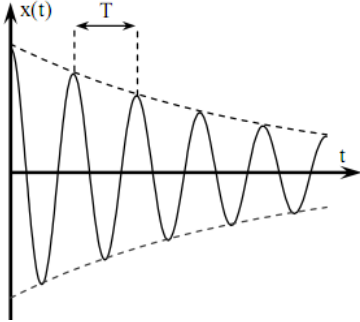
L'amortissement d'un système est une atténuation de l'amplitude de son mouvement par dissipation (perte) de l'énergie mécanique

$$\Delta E_m = W_{A \rightarrow B}(\bar{R}) < 0$$

On en distingue deux types d'amortissement

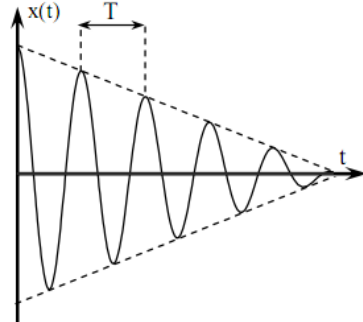
Amortissement fluide

Un solide qui oscille dans un fluide (liquide ou gaz) est soumis à un amortissement



Amortissement solide

Le frottement entre deux solides correspond à une dissipation sous la forme de chaleur.

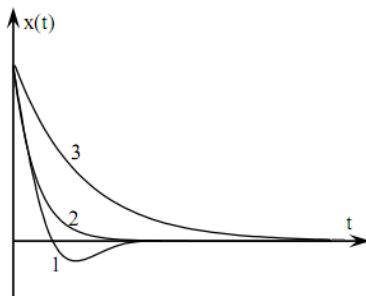


- Cas de faible amortissement

- L'amplitude diminue jusqu'à l'arrêt du mobile
- Mouvement de l'oscillateur est pseudo périodique

T : pseudo période

$T = T_0$: la pseudo période et la période propre sont égales (pour les fortement solide)



Différents régimes de retour à l'équilibre d'un système en fonction du frottement

On observe les régimes :

- Pseudopériodique (1)
- Critique (2)
- Apériodique (3)

NIVEAU D'ENERGIE DANS LES ATOMES

❖ QUANTIFICATION DE L'ENERGIE

On considère l'atome d'hydrogène H constitué d'un proton (m_p, q_p) et d'un électron (m_e, q_e).

L'électron est soumis à : une force de gravitation : $F_G = G \cdot \frac{m_p \cdot m_e}{d^2}$; une force électrostatique : $F_e = G \cdot \frac{q_p \cdot q_e}{d^2}$

En faisant le rapport $\frac{F_G}{F_e}$, on obtient $\frac{F_G}{F_e} = 2,3 \cdot 10^{39}$, on en conclut que **La force de gravitation est négligeable.**

En théorie, le mouvement de l'électron autour du noyau devrait être circulaire et uniforme quel que soit le rayon de son orbite autour du noyau.

Expérimentalement, les électrons des atomes décrivent des orbites de dimension constante, chaque atome ayant un rayon atomique de valeur unique.

La mécanique classique (de Newton) ne permet pas de rendre compte de la structure de l'atome.

Chaque atome est caractérisé par sa configuration électronique. La théorie quantique, élaborée par Planck et Bohr au début du XXe siècle, énonce que l'énergie d'un atome ne peut prendre que certaines valeurs bien déterminées. L'énergie d'un atome ne peut pas varier de façon continue. Elle est quantifiée.

❖ Photon :

Le photon :

- Particule élémentaire, de masse et de charge nulle et une durée de vie illimitée
- Représente l'aspect corpusculaire de la lumière.
- Se déplace avec la vitesse de la lumière, dans le vide, quel que soit le référentiel d'étude, notée C, et $C=3 \cdot 10^8 \text{ m.s}^{-1}$.
- Le quantum d'énergie dont l'énergie dépend de la fréquence ν et de la longueur d'onde λ

$$\Delta E = \varepsilon = h \cdot \nu = \frac{h \cdot C}{\lambda} : \text{Energie du photon avec } h=6.63 \cdot 10^{-34} \text{ j.s}, \text{ Constante de Planck}$$

❖ Spectre de l'atome

- L'atome n'absorbe que les fréquences qu'il peut émettre
- L'absorption ou l'émission d'un rayonnement monochromatique de longueur d'onde λ correspond bien à l'absorption ou l'émission d'un photon dont l'énergie $\Delta E = \varepsilon = h \cdot \nu = \frac{h \cdot C}{\lambda}$
- Les spectres d'émission et d'absorption sont discontinues mais complémentaires donc chacun est un spectre quantifié

❖ Postulats de Bohr :

- L'atome possède différents niveaux d'énergie $E_1, E_2, E_3 \dots$ bien définis. Il s'agit de **valeurs discontinues (ou discrètes)**, et non de valeurs continues.
- Les variations d'énergie ΔE de l'atome sont **quantifiées**. Quand l'atome passe d'un état d'énergie E_n élevé à un niveau d'énergie E_p plus faible, il libère une énergie $\Delta E = E_n - E_p$.

NB :

On appelle transition, le passage d'un niveau d'énergie à un autre

<p>Chaque atome est caractérisé par :</p> <ul style="list-style-type: none"> • Un état (Niveau) fondamental de plus basse énergie et le plus stable <p>Plusieurs états excités et ou l'atome est instable</p>	
--	--

Un photon n'émit que la fréquence qu'il a absorbée

<p>Absorption L'absorption d'un photon par un atome a lieu si ce dernier possède une énergie ΔE qui correspond à l'écart entre deux niveaux d'énergie E_p et E_n de l'atome. On dit que le processus d'absorption provoque l'excitation de la molécule</p>	
<p>Emission Une fois excitée la molécule retourne spontanément de son état de haute énergie E_n vers son état de basse énergie E_p. Ce retour E_n à E_p s'accompagne de l'émission d'un photon qui correspond encore une fois à l'écart $(E_n - E_p)$ entre les deux niveaux.</p>	

NB :

Donc effectivement les fréquences des photons émis sont les mêmes que les fréquences des photons absorbés.

❖ **Niveaux d'énergie de l'atome d'hydrogène.**

$$E_n = -\frac{E_0}{n^2} \text{ (eV)} \quad : \text{ L'énergie du niveau } n \text{ avec } : E_0 = 13.6 \text{ eV} = 21.76 \cdot 10^{-19} \text{ J}$$

n: numéro du niveau ou nombre quantique principal (n est un entier naturel non nul)

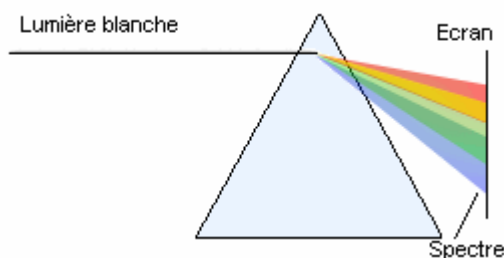
n	1	2	3	4	5	6
E_n (eV)	-13.6	-3.40	-1.51	-0.85	-0.54	-0.38

- $n=1$ et $E_1=-E_0=-13.6\text{eV}$: correspond à l'**état fondamental** (état d'énergie le plus **stable**).
- $1 < n < \infty$ et $E_1 < E_n < 0$: Les niveaux dont l'énergie est supérieure sont dits **excités**.
- $n = \infty$ et $E_n = E_\infty = 0$: Etat d'ionisation de l'atome
- à chaque transition d'un niveau E_n vers un niveau E_p ($E_p < E_n$) un photon est émis

$$\Delta E = \varepsilon = E_n - E_p = h \cdot \nu = \frac{h \cdot c}{\lambda} = E_0 \left(\frac{1}{n^2} - \frac{1}{p^2} \right)$$

Interprétation des spectres de raies

On éclaire un prisme à l'aide d'une source de lumière blanche.

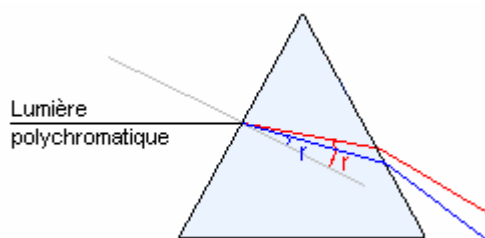


La lumière blanche est décomposée par le prisme. Sur l'écran on obtient un spectre continu.



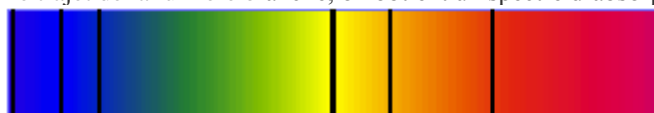
Le spectre de la lumière blanche est un spectre continu

On éclaire maintenant le prisme à l'aide d'une source de lumière polychromatique (lampe à vapeur de mercure par exemple). On obtient un spectre de raies.



Le spectre d'une lampe à vapeur de mercure est un spectre de raies.

Si on intercale une substance sur le trajet de la lumière blanche, on obtient un spectre d'absorption.



Quelques raies du spectre d'absorption du mercure.

La position des raies noires correspond à celle des raies colorées. On en déduit que :

Un atome absorbe la lumière qu'il est capable d'émettre

REACTION D'OXYDO REDUCTION

Définitions d'oxydo réduction :

- **Oxydation** : réaction au cours de laquelle un élément perd des électrons
- **Reduction** : réaction au cours de laquelle un élément gagne des électrons
- **Oxydant** : espèce chimique capable de capter un ou plusieurs électrons.
- **Reducteur** : espèce chimique capable de céder un ou plusieurs électrons.
- **Couple d'oxydoréduction (Ox/Red)** : couple constitué par un oxydant et le reducteur correspondant

NB :

Le nombre multiple est un nombre multiple à la fois du nombre de charge et du nombre d'atomes

Exemples :

	$S_2O_8^{2-}$	$3 S_2O_8^{2-}$	H_2SO_4	$4 HSO_4^-$
H	0	0	2	4
S	2	6	1	4
O	8	24	4	16
Charge	-2	-6	0	-4

Demi équation redox

Comment équilibrer les demis équations redox

1.	Déterminer le couple Ox/Red et préciser lequel est le réactif, soit $Cr_2O_7^{2-}$
	$Cr_2O_7^{2-}/Cr^{3+}$
2.	Équilibrer les atomes autres que l'oxygène O et l'hydrogène H
	$Cr_2O_7^{2-} \rightarrow 2Cr^{3+}$
3.	Équilibrer les atomes d'oxygène O en ajoutant des molécules d'eau H_2O .
	$Cr_2O_7^{2-} \rightarrow 2Cr^{3+} + 7 H_2O$
4.	Équilibrer les atomes d'hydrogène H en ajoutant des protons H^+ .
	$Cr_2O_7^{2-} + 14H^+ \rightarrow 2Cr^{3+} + 7 H_2O$
5.	Équilibrer les charges électriques en ajoutant des électrons
	$Cr_2O_7^{2-} + 14H^+ + 6e \rightarrow 2Cr^{3+} + 7 H_2O$

NB :

On n'équilibre que s'il existe un défaut d'un côté ou de l'autre.

Exemples : On suppose que l'oxydant des couples est l'espèce réagissante

1.	MnO_4^-/Mn^{2+}
2.	$MnO_4^- \rightarrow Mn^{2+}$
3.	$MnO_4^- \rightarrow Mn^{2+} + 4H_2O$
4.	$MnO_4^- + 8H^+ \rightarrow Mn^{2+} + 4H_2O$
5.	$MnO_4^- + 8H^+ + 5e \rightarrow Mn^{2+} + 4H_2O$

1.	NO_3^-/NO
2.	$NO_3^- \rightarrow NO$
3.	$NO_3^- \rightarrow NO + 2H_2O$
4.	$NO_3^- + 4H^+ \rightarrow NO + 2H_2O$
5.	$NO_3^- + 4H^+ + 3e \rightarrow NO + 2H_2O$

1.	$S_2O_8^{2-}/SO_4^{2-}$
2.	$S_2O_8^{2-} \rightarrow 2SO_4^{2-}$
3.	$S_2O_8^{2-} \rightarrow 2SO_4^{2-}$
4.	$S_2O_8^{2-} \rightarrow 2SO_4^{2-}$
5.	$S_2O_8^{2-} + 2e \rightarrow 2SO_4^{2-}$

Réaction d'oxydo réduction

Une réaction d'oxydo-réduction est une transformation chimique mettant en jeu un transfert d'électrons du réducteur d'un couple vers l'oxydant d'un deuxième couple.

Ox₁/Red₁ et Ox₂/Red₂

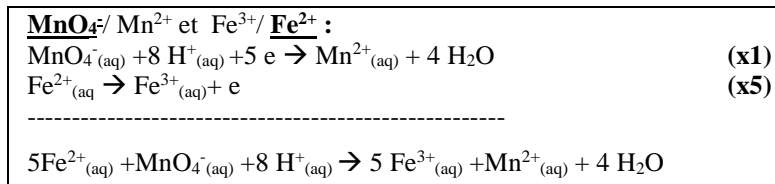
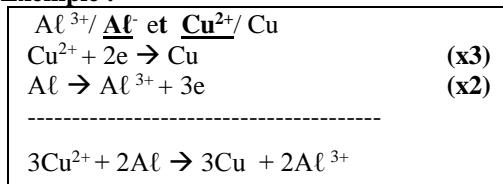
Equation de l'oxydation : $Ox_1 + n_1 e \rightarrow Red_1$ (x n_2)

Equation de réduction : $Red_2 \rightarrow Ox_2 + n_2 e$ (x n_1)

On multiplie les coefficients des équations par un nombre adéquat de façon à supprimer les électrons échangés entre les deux couples

Equation d'oxydo réduction : $n_2 Ox_1 + n_1 Red_2 \rightarrow n_2 Red_1 + n_1 Ox_2$

Exemple :



n QUANTITE DE MATIERE ou NOMBRE DE MOLE (mol)

$n(X) = \frac{N(X)}{N_A}$	N(X) : Nombre d'entité élémentaire (atome, molécule ion ...) N _A : Nombre d'Avogadro (mol ⁻¹).
---------------------------	--

1. Solide ou Liquide :

$n(X) = \frac{m(X)}{M(X)}$	m(X) : masse du corps (X) (g). M(X) : Masse molaire (g.mol ⁻¹)
----------------------------	---

- Masse volumique :

$\varphi(X) = \frac{m(X)}{V(X)}$	m(X) : masse du corps (X) V(X) : Volume du corps (X)
----------------------------------	---

- Densité

$d(X) = \frac{m}{m_0} = \frac{\varphi(X) \cdot V(X)}{\varphi_0 \cdot V(X)} = \frac{\varphi(X)}{\varphi_0}$	ϕ(X) : Masse volumique (X) ϕ ₀ = 1 g.cm ⁻³ : masse volumique d'eau d(X) Densité et sans unité
--	---

- Conclusion

$$n(X) = \frac{m(X)}{M(X)} = \frac{\varphi(X) \cdot V(X)}{M(X)} = \frac{d(X) \cdot \varphi_0 \cdot V(X)}{M(X)}$$

2. Gaz :

$n(G) = \frac{V(G)}{V_m}$	V (G) : Volume du gaz G (ℓ). V _M : Volume molaire (ℓ.mol ⁻¹)
---------------------------	--

- Gaz parfait

Le gaz parfait est un modèle simplifié des gaz. Dans ce modèle on suppose que toutes les interactions entre les molécules sont négligeables (modèle à basse pression).

$p \cdot V = n \cdot R \cdot T$	p : Pression du gaz (Pa) V : Volume du gaz (m ³) n : Quantité de matière (mol) R : Constante des gaz parfaits $R = 8.32 \text{ J} \cdot \text{K}^{-1} \cdot \text{mol}^{-1}$ T : Température absolue (°K) $T(^{\circ}\text{K}) = t(^{\circ}\text{C}) + 273.15$
---------------------------------	--

- Densité d'un gaz

$$d(G) = \frac{M(G)}{29} \quad M(G) : \text{Masse molaire du gaz (g.mol}^{-1}\text{)}$$

Attention

$$p(G) \cdot V(G) = n \cdot R \cdot T$$

- Quelle est la variable : La pression p ou le Volume V ou la température absolue T
- p₀ : la pression atmosphérique intervient-elle dans l'expression de la pression totale p

$p = p_G = \frac{n \cdot R \cdot T}{V_G}$	Ou	$p = p_G + p_0 = \frac{n \cdot R \cdot T}{V_G} + p_0$
---	----	---

- $p = \sum p_i$ la pression totale d'un mélange gazeux est égale à la somme des pressions partielles des gaz constituant le mélange
- L'appareil de mesure de pression donne la pression totale
- R : Constante des gaz parfaits $R = 8.32 \text{ Pa} \cdot \text{m}^3 \cdot \text{K}^{-1} \cdot \text{mol}^{-1} = 8.32 \text{ J} \cdot \text{K}^{-1} \cdot \text{mol}^{-1}$ Ou $R = 0.082 \text{ atm} \cdot \text{ℓ} \cdot \text{K}^{-1} \cdot \text{mol}^{-1}$

3. Solution :

La solution est le produit d'un mélange entre soluté (Solide ou Liquide ou Gaz) et solvant (liquide) :



La solution est dite aqueuse si le solvant est l'eau :



Concentration molaire C :

$$[X] = C = \frac{n(X)}{V_S}$$

C : Concentration molaire ($\text{mol} \cdot \ell^{-1}$)
 $n(X)$: Quantité de matière de X
 V_S : Volume en ℓ

Concentration massique C_m :

$$C_m = \frac{m(X)}{V_S}$$

M(X) : masse du corps (X) (g).
 C_m : Concentration massique de X en $\text{g} \cdot \ell^{-1}$
 V_S : Volume en ℓ

La relation entre C concentration molaire et C_m concentration massique $C = \frac{C_m}{M}$ avec M : la masse molaire

Manipulation sur solution :• **Prélèvement d'une solution :**

Prélever d'une solution c'est prendre une partie (fraction) d'une solution

$$C = C^{te}$$

Le volume V de la prise varie ainsi que la quantité de matière contenu dans le volume V mais la concentration reste constante

• **Diluer une solution :**

La **dilution** est le fait de diminuer la concentration une solution en ajoutant de l'eau

Solution initiale de volume V_i et de concentration C_i (V_i, C_i) $n_i = C_i \cdot V_i$	→	Solution finale de volume V_f et de concentration C_f (V_f, C_f) $n_f = C_f \cdot V_f$
--	---	--

$$V_f = V_i + V_e$$

V_e : Volume d'eau ajoutée

Au cours de la dilution la quantité de matière ne varie pas et $n_i = n_f$ donc :

$$C_i \cdot V_i = C_f \cdot V_f : \text{Relation de la dilution}$$

Au cours d'une dilution la quantité de matière de soluté ne varie pas

• **Mélanger deux solutions :**

Solution (S_1) de volume V_1 et de concentration C_1 (C_1, V_1) $n_1 = C_1 \cdot V_1$: la quantité de matière
--

Solution (S_2) de volume V_2 et de concentration C_2 (C_2, V_2) $n_2 = C_2 \cdot V_2$: la quantité de matière
--

$$V_T = V_1 + V_2 : \text{Le volume totale du mélange}$$

Et la concentration initiale (en absence de toute réaction possible) dans le mélange est :

$$C'_1 = \frac{C_1 V_1}{V_1 + V_2} \quad C'_2 = \frac{C_2 V_2}{V_1 + V_2}$$

4. Conductivité

Une solution électrolytique est une solution conductrice de courant électrique et est composée d'ion positifs et d'ions négatifs

La conductibilité d'une solution électrolytique est la somme des conductibilités ioniques des ions en solution

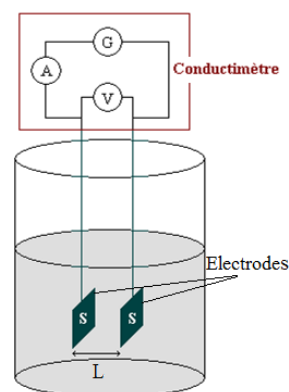
$$\sigma = \sum \sigma_i = \sum \lambda_i \cdot [X_i] \quad \text{avec} \quad [X_i] : \text{Concentration molaire ionique de } X_i \text{ en } \text{mol} \cdot \text{m}^{-3}$$

λ_i : la conductibilité molaire ionique de X_i en $\text{S} \cdot \text{m}^2 \cdot \text{mol}^{-1}$
 σ_i : la conductibilité de l'ion X_i en $\text{S} \cdot \text{m}^{-1}$

La conductibilité est proportionnelle à la surface entre les deux électrodes et inversement proportionnelle à la distance L qui les sépare

$$G = k \cdot \sigma = \sigma \cdot \frac{S}{L} \quad \text{avec} \quad G : \text{La conductance en S}$$

σ : La conductibilité en $\text{S} \cdot \text{m}^{-1}$
 L : La distance séparant les électrodes(m)
 S : la surface des plaques (m^2)
 $k = \frac{S}{L}$: La constante de la cellule conductimétrique en (m)



La cellule conductimétrique

NB :

- Les unités $1 \text{mol}/\ell = 10^3 \text{mol}/\text{m}^3$ ou $1 \text{mol}/\text{m}^3 = 10^{-3} \text{mol}/\ell$
- Lorsque on mélange deux solutions de volume V_1 et V_2 , La concentration des ions inactifs est $\frac{C_1 V_1}{V_1 + V_2}$

TABLEAU D'AVANCEMENT

Équation de réaction aA + bB → cC + dD	<ul style="list-style-type: none"> A et B sont les réactifs : ils sont consommés au cours de la réaction. C et D sont les produits : ils sont créés au cours de la réaction. a, b, c et d sont les coefficients stœchiométriques.
--	--

Equation chimique		a A + b B → c C + d D				
Etat du système	Avancement (mol)	Quantités de matière (mol)				
initial	0	$n_i(A)$	$n_i(B)$	/	0	0
En cours	x	$n_i(A)-a.x$	$n_i(B)-b.x$	/	c.x	d.x
final	x_f	$n_i(A)-a.x_f$	$n_i(B)-b.x_f$	/	c. x_f	d. x_f

x : avancement de la réaction (mol)

L'avancement x d'une réaction est une quantité de matière :

- Qui varie de x = 0 mol à l'état initial et est une valeur toujours positive.
- Croît au cours de la réaction pour atteindre une valeur final x_f à l'état final (voire une valeur maximale x_{max} si la réaction est totale).
- Permet de déterminer la quantité de matière des espèces chimiques en solution

a A	b B
$n_i(A)$	$n_i(B)$
a.x	b.x
$n(A) = n_i(A) - a.x$	$n(B) = n_i(B) - b.x$

: Quantité de matière initiale

: Quantité de matière réagissant (Intervenante (Perdue) en réaction)

: Quantité de matière restante

c C	d D
0	0
c.x	d.x
$n(C) = c.x$	$n(D) = d.x$

: Quantité de matière initiale

: Quantité de matière produite (Formée au cours de la réaction)

: Quantité de matière produite

On a du tableau d'avancement et à tout moment $n(C) = c.x$ et $n(D) = d.x$ donc $x = \frac{n(C)}{c} = \frac{n(D)}{d}$

Composition du mélange en fin de réaction :

- $n(A) = n_i(A) - a.x$: Quantité de matière restante de l'espèce chimique A
- $n(B) = n_i(B) - b.x$: Quantité de matière restante de l'espèce chimique B
- $n(C) = c.x$: Quantité de matière produite de l'espèce chimique C
- $n(D) = d.x$: Quantité de matière produite de l'espèce chimique D

NB :

- Les quantités de matière à l'état initial ne dépendent pas des coefficients stœchiométriques mais les quantités de matière à l'état intermédiaire et l'état final dépendent des coefficients stœchiométriques.
- Le système est à l'état final quand la réaction n'évolue plus et $x = x_f$ avec x_f : l'avancement final
- Le système est à l'état maximale quand la réaction est totale et au moins un des réactifs est limitant (disparaît totalement) et $x = x_m$ avec $x = x_m$ l'avancement maximale
- Un réactif est limitant s'il disparaît totalement et sa quantité de matière à l'état final est nulle
 $n(A) = n_i(A) - a.x = 0$ et $n(B) = n_i(B) - b.x = 0$
- Un réactif est en excès s'il est présent à l'état final (consommé en partie)

Mélange stœchiométrique

Un mélange est **stœchiométrique** (ou proportionnel) si les quantités de matière initiales des réactifs sont proportionnelles aux coefficients **stœchiométriques**

A est limitant $n(A) = n_i(A) - a.x_m = 0$ d'où $x_m = \frac{n_i(A)}{a}$	B est limitant $n(B) = n_i(B) - b.x_m = 0$ d'où $x_m = \frac{n_i(B)}{b}$
--	--

$$\text{et } x_m = \frac{n_i(A)}{a} = \frac{n_i(B)}{b} \text{ donc } x_m = \frac{n_i(A)}{a} = \frac{n_i(B)}{b} = \frac{n(C)}{c} = \frac{n(D)}{d}$$

- Si $\frac{n_i(A)}{a} < \frac{n_i(B)}{b}$ alors A est limitant alors $x_m = \frac{n_i(A)}{a} = \frac{n(C)}{c} = \frac{n(D)}{d}$
- Si $\frac{n_i(A)}{a} > \frac{n_i(B)}{b}$ alors B est limitant alors $x_m = \frac{n_i(B)}{b} = \frac{n(C)}{c} = \frac{n(D)}{d}$

DOSAGE OU TITRAGE

Définition :

Doser (ou titrer) une espèce chimique (molécule ou ion) en solution, c'est déterminer sa concentration molaire dans la solution considérée au moyen d'une solution de concentration connue.

Le réactif A est le réactif titré est l'espèce dont on veut déterminer la concentration, il est contenu dans la solution à doser. La solution chimique B est une solution titrante contenant un réactif titrant choisi en fonction de l'espèce à doser.

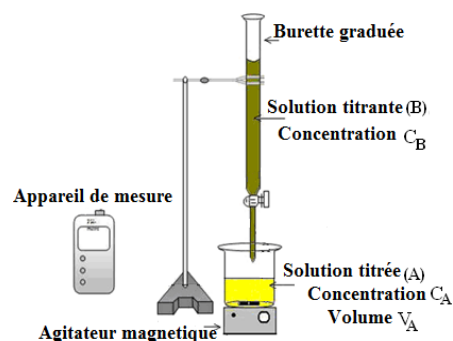
Le matériel nécessaire au dosage est :

- Une burette graduée
- Un bécher
- Un dispositif d'agitation magnétique
- Appareil de mesure (pH-mètre ou Conductimètre ...)

Condition du dosage

Faut que la réaction du dosage soit :

- **Totale** : Un des deux réactifs mis en présence doit disparaître complètement (limitant)
- **Rapide** : la transformation est instantanée
- **Sélective** : le réactif A ne peut réagir que avec le réactif B.



Équivalence :

À l'équivalence, les deux réactifs sont totalement consommés, l'avancement prend la valeur maximale x_m , le mélange est stœchiométrique et il y a donc changement de réactif limitant.

Repérage de l'équivalence :

On peut effectuer ce repérage soit par :

- Dosage colorimétrique : Un changement de couleur du milieu réactionnel (fréquent en oxydoréduction ou avec un indicateur coloré).
- Dosage par conductimétrie : basée sur l'évolution de la conductibilité σ ou la conductance G d'une solution ionique
- Dosage pH métrique : basée sur l'évolution du pH du milieu réactionnel

Déroulement d'un dosage direct :

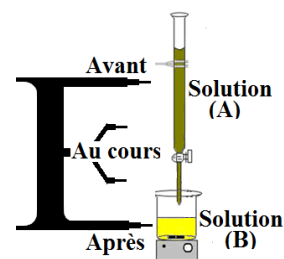
On verse à l'aide de la burette la solution titrante dans la solution à titrer. Il se produit alors la réaction de dosage qui met en jeu le réactif titré et le réactif titrant. Celle-ci peut être soit acido-basique, soit d'oxydoréduction.

NB :

Au cours du dosage, les réactifs réagissent dans les proportions stœchiométriques.

- Avant l'équivalence, le réactif titrant (A) est le réactif limitant (à chaque fois que l'on en verse, il disparaît).
- À l'équivalence, les réactifs sont intégralement consommés, les deux réactifs sont limitants
- Après l'équivalence, le réactif titrant est introduit en excès, il n'y a plus de réactif titré donc plus de réaction, alors le réactif titré est limitant

À l'équivalence il y a donc changement de réactif limitant.



Déterminer une concentration C_A :

Tableau d'avancement :

Equation chimique		$a A + b B \rightarrow c C + d D$				
Etat du système	Avancement (mol)	Quantités de matière (mol)				
initial	0	$n_i(A)$	$n_i(B)$	/	0	0
En cours	x	$n_i(A)-a.x$	$n_i(B)-b.x$	/	c.x	d.x
final	x_f	$n_i(A)-a.x_f$	$n_i(B)-b.x_f$	/	c.x _f	d.x _f

À l'équivalence :

Les réactifs A et B disparaissent totalement et le mélange est stœchiométrique et

$$\frac{n_i(A)}{a} = \frac{n_i(B)}{b} : \text{relation à l'équivalence, alors } \frac{C_A \cdot V_A}{a} = \frac{C_B \cdot V_{B_{eq}}}{b}$$

avec $V_{B_{eq}}$: volume de la solution B versé à l'équivalence

$$\text{d'où } C_A = \frac{a}{b} \cdot \frac{C_B \cdot V_{B_{eq}}}{V_A}$$

Si $a=b=1$ (le cas du tirage acido basique) alors $C_A \cdot V_A = C_B \cdot V_{B_{eq}}$

FACTEURS CINÉTIQUES

La cinétique chimique est l'étude de l'évolution des systèmes chimiques au cours du temps.

Transformation rapide :

Une transformation est rapide si elle se fait en une durée trop courte pour que son évolution puisse être suivie "à l'œil nu" ou avec les appareils de mesure courants (impossible de distinguer des états intermédiaires entre l'état initial et l'état final du système)

Transformation lente :

C'est une transformation dont l'évolution peut être suivie "à l'œil nu" ou avec les appareils de mesure courants pendant quelques secondes (ou plus longtemps).

Facteurs cinétiques :

Les facteurs cinétiques sont les grandeurs qui vont modifier la vitesse d'évolution d'un système chimique (qui vont influencer sur la durée d'une transformation chimique)

L'influence des facteurs cinétiques

- **Température :**
La vitesse de réaction augmente avec la température
Eau froide, glace ou refroidissement → Stopper la transformation
- **Concentration initiale des réactifs :**
La vitesse de réaction augmente si l'on fait croître la concentration initiale des réactifs
Dilution : Ajouter de l'eau, le volume augmente → Stopper la transformation
- **Catalyseur :**

Un catalyseur : espèce chimique capable de modifier la vitesse d'une réaction sans changer l'état d'équilibre du système (il n'apparaît pas dans l'équation de la réaction).

Le catalyseur : **Modifie :**

- * la vitesse de réaction.
- * les différentes étapes réactionnelles permettant de passer des réactifs aux produits.

Ne modifie pas :

- * la constante d'équilibre du système
- * le sens d'évolution de la réaction chimique

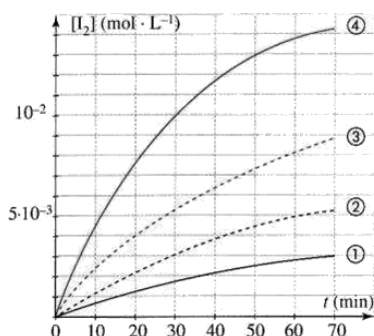
Type de catalyse :

- Catalyse homogène Lorsque le réactif et le catalyseur font partie de la même phase (solide liquide eau gazeuse).
- Catalyse hétérogène Lorsque le catalyseur et le réactif sont dans des phases différentes.
- Autocatalyse lorsque la transformation produit une espèce qui catalyse la transformation
- Catalyse enzymatique lorsque le catalyseur est une enzyme.

**** Comparer les vitesses de réaction**

- Pendant la même durée la quantité formée par l'expérience (4) est la plus importante.
- Pour la même quantité formée : l'expérience (4) met peu de temps relativement aux autres expériences
- Conclusion : la vitesse de réaction de la transformation (4) est la plus importante

$$V_4 > V_3 > V_2 > V_1$$



Expérience N°	(a)	(b)	(c)	(d)
Température	20	20	35 *	35 *
Quelques gouttes d'un catalyseur	Non	Non	Non	Oui *
$[I^-]_0$ (mmol·L ⁻¹)	20	40 *	20	40 *
$[S_2O_8^{2-}]_0$ (mmol·L ⁻¹)	10	20 *	10	20 *

$$V_{(d)} > V_{(b)} > V_{(c)} > V_{(a)}$$

NB :

En comparant, pour le même facteur cinétique, les cases et en notant chaque case dominante par un point et en sommant le nombre de points on conclut la réaction la plus rapide

VITESSE VOLUMIQUE DE REACTION

1. Définition :

$$V = \frac{d}{dt} \left(\frac{x}{V_S} \right)$$

Si V_S : Le volume de la solution est constant alors $V = \frac{1}{V_S} \frac{dx}{dt}$

2. Détermination graphique de la vitesse :

Détermination graphique :

La vitesse est le coefficient directeur de la droite tangente à la courbe $x=f(t)$ à un instant donné t_i .

$$V = \frac{1}{V_S} \frac{\Delta x}{\Delta t} \quad \text{avec} \quad \begin{array}{l} V : \text{Vitesse de réaction (mol} \cdot \ell^{-1} \cdot \text{s}^{-1}) \\ x : \text{avancement de réaction (mol)} \\ V_S : \text{Volume de la solution (}\ell\text{)} \end{array}$$

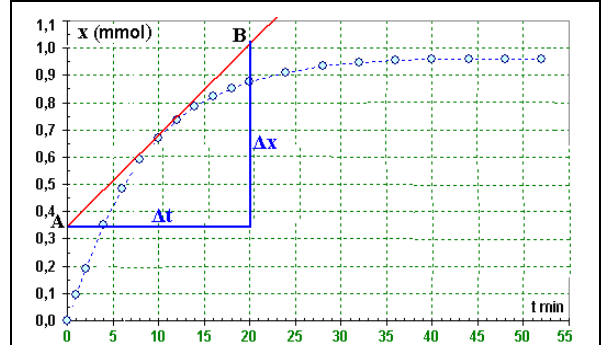
On choisit deux points A et B de la tangente $A \left(\begin{smallmatrix} t_A \\ x_A \end{smallmatrix} \right)$ et $B \left(\begin{smallmatrix} t_B \\ x_B \end{smallmatrix} \right)$

$$\text{et la vitesse } V = \frac{1}{V_S} \frac{\Delta x}{\Delta t} = \frac{1}{V_S} \cdot \frac{x_B - x_A}{t_B - t_A}$$

La vitesse de réaction maximale au début de la transformation, diminue avec le temps et tend vers zéro en fin de réaction.

Explication :

La diminution de la vitesse est due à la diminution de la concentration des réactifs au cours de la transformation.



Le volume de la solution est $V_S = 200 \text{ ml}$

$\Delta x = 0.675 \text{ mmol}$ et $\Delta t = 20 \text{ min}$

$$V = \frac{1}{V_S} \frac{\Delta x}{\Delta t}$$

$$V = \frac{1}{200 \cdot 10^{-3}} \cdot \frac{0.675 \cdot 10^{-3}}{20} = 1.68 \cdot 10 \text{ mol} \cdot \text{min}^{-1} \cdot \ell^{-1}$$

3. Autres expressions de la vitesse de réaction

	Réactif		Produit
	aA	→	bB
t=0	n_1		0
t	$n_1 - a \cdot x$		b · x
t _f	$n_1 - a x_f$		b · x _f

On peut déterminer du tableau d'avancement la quantité de matière à l'instant t

t	$n(A) = n_1 - a \cdot x$	$n(B) = b \cdot x$
---	--------------------------	--------------------

En exploitant les expressions des quantités de matière on obtient l'expression d'une grandeur et par suite l'expression de la vitesse de réaction en fonction de cette grandeur

Exemples :

En fonction de la concentration :

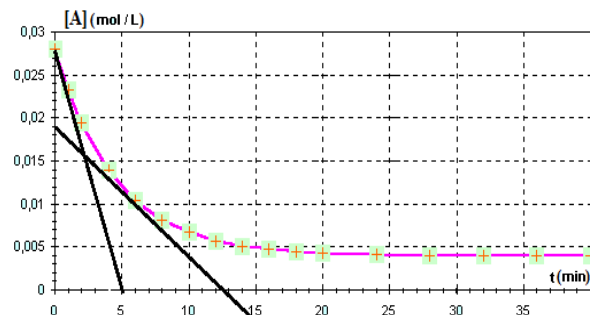
Cas d'un réactif :

	Réactif A
	aA
t=0	n_1
t	$n_1 - a \cdot x$

On a $n(A) = n_1 - a \cdot x$ alors $[A] = \frac{n(A)}{V_S} = \frac{n_1 - a \cdot x}{V_S}$

$$\text{d'où } x = \frac{n_1 - [A] \cdot V_S}{a}$$

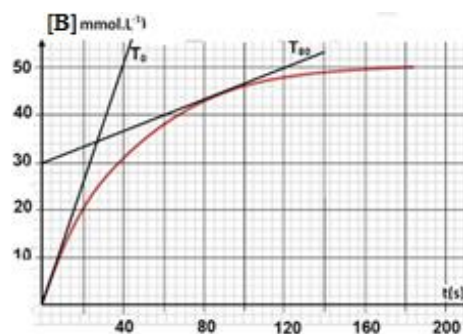
et la vitesse : $V = \frac{1}{V_S} \frac{dx}{dt} = -\frac{1}{a} \cdot \frac{d[A]}{dt} = -\frac{1}{a} \cdot \frac{\Delta[A]}{\Delta t}$



Cas d'un produit :

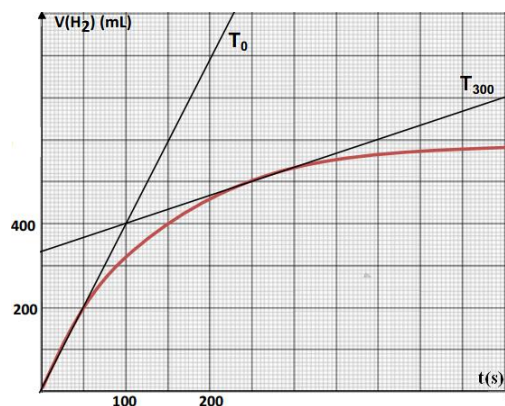
	Produit B
	bB
t=0	0
t	b.x

On a $n(B)=b.x$ alors $[A] = \frac{n(B)}{V_S} = \frac{b.x}{V_S}$
 d'où $x = \frac{[B].V_S}{b}$ et la vitesse : $V = \frac{1}{V_S} \frac{dx}{dt} = \frac{1}{b} \cdot \frac{d[B]}{dt} = \frac{1}{b} \cdot \frac{\Delta[B]}{\Delta t}$

**En fonction de volume du gaz formé :**

$$n(G) = \frac{V(G)}{V_m}$$

si le produit B est un gaz alors $n(B)=b.x$
 donc $b.x = \frac{V(G)}{V_m}$ d'où $x = \frac{1}{b} \cdot \frac{V(G)}{V_m}$
 et la vitesse : $V = \frac{1}{V_S} \frac{dx}{dt} = \frac{1}{b.V_m.V_S} \cdot \frac{dV(G)}{dt} = \frac{1}{b.V_m.V_S} \cdot \frac{\Delta V(G)}{\Delta t}$

**Cas des gaz parfait**

$$p.V=n.R.T$$

si le produit B est un gaz alors $n(B)=b.x$

❖ En fonction du volume v :

$$v = \frac{n.R.T}{p} = \frac{b.x.R.T}{p}$$

d'où $x = \frac{p.v}{b.R.T}$
 et la vitesse : $V = \frac{1}{V_S} \frac{dx}{dt} = \frac{p}{b.R.T.V_S} \cdot \frac{dv}{dt} = \frac{p}{b.R.T.V_S} \cdot \frac{\Delta v}{\Delta t}$

❖ En fonction de la pression p :

$$p = \frac{n.R.T}{v} = \frac{b.x.R.T}{v}$$

d'où $x = \frac{p.v}{b.R.T}$
 et la vitesse : $V = \frac{1}{V_S} \frac{dx}{dt} = \frac{p}{b.R.T.V_S} \cdot \frac{dp}{dt} = \frac{v}{b.R.T.V_S} \cdot \frac{\Delta p}{\Delta t}$

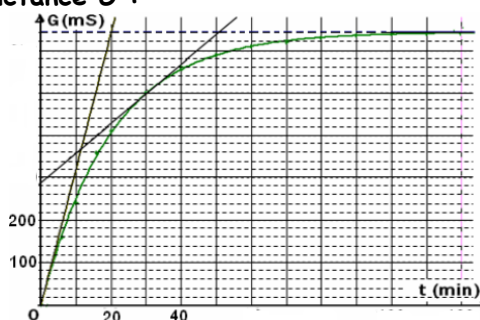
En fonction pH ou la conductibilité σ ou la conductance G :

$$[H_3O^+] = 10^{-pH}$$

$$\sigma = \sum \lambda_{ion} \cdot [ion]$$

$$G = k \cdot \sigma$$

et la vitesse : $V = \frac{d}{dt} \left(\frac{x}{V_S} \right)$

**4. Temps de demi-réaction $t_{1/2}$**

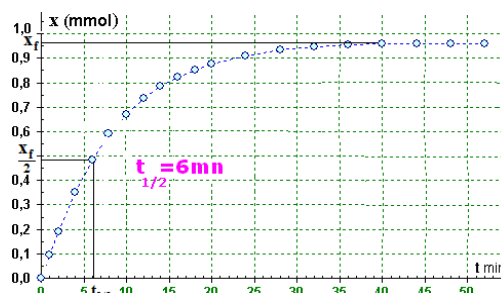
Le **temps de demi-réaction** (par rapport à un réactif donné A) est la durée au bout de laquelle l'avancement atteint la moitié de sa valeur finale.

Si $t=t_{1/2}$ alors $x = \frac{x_f}{2}$

Si la transformation est totale alors $x_f=x_m$: l'avancement maximale

NB : Le **temps de demi-réaction** $t_{1/2}$:

- Peut évaluer la durée de l'expérience
- N'est déterminé graphiquement que sur l'axe des temps



SOLUTIONS ACIDES ET SOLUTIONS BASIQUES

1. Autoprotolyse de l'eau :

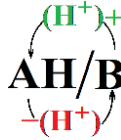


2. Définition de Bronsted :

- Un **acide de Bronsted** est une espèce qui, au cours d'une réaction chimique, **donne** un proton
- Une **base de Bronsted** est une espèce qui, au cours d'une réaction chimique, **accepte** un proton

3. Couples acide base :

AH/B : couple acide base avec AH : L'acide conjugué de la base B
B : La base conjuguée de l'acide AH



Exemples de couple acide base

$\text{NH}_4^+/\text{NH}_3$	$\text{H}_3\text{O}^+/\text{H}_2\text{O}$	$\text{H}_2\text{O}/\text{OH}^-$	HCN/CN^-	$\text{HCOOH}/\text{HCOO}^-$	$\text{CH}_3\text{COOH}/\text{CH}_3\text{COO}^-$
-----------------------------	---	----------------------------------	--------------------------	------------------------------	--

Expression du pH

$$\text{pH} = -\log([\text{H}_3\text{O}^+]) \text{ et } [\text{H}_3\text{O}^+] = 10^{-\text{pH}}$$

Produit ionique de l'eau

$$K_e = [\text{H}_3\text{O}^+] \cdot [\text{OH}^-]$$

K_e : dépend uniquement de la température
On définit aussi $\text{p}K_e$: $\text{p}K_e = -\log(K_e)$ et $K_e = 10^{-\text{p}K_e}$

Constante d'acidité K_A :

$$K_A = \frac{[\text{B}][\text{H}_3\text{O}^+]}{[\text{AH}]}$$

$K_A = K_A(\text{AH/B})$: constante d'acidité spécifique au couple AH/B

- Dépend uniquement de la température
- Augmente avec la force de l'acide
- On définit aussi $\text{p}K_A = -\log K_A$ et $K_A = 10^{-\text{p}K_A}$

K_A est d'autant plus élevée que $\text{p}K_A$ est faible

Taux d'avancement final τ

$$\tau = \frac{x_f}{x_m} \quad \text{avec} \quad \begin{cases} 0 \leq \tau \leq 1 \\ \tau \text{ s'exprime souvent en pourcentage} \end{cases}$$

4. Etude qualitative d'une solution d'acide AH avec l'eau :

- **Couples acide base intervenant dans la transformation :** AH/B et $\text{H}_3\text{O}^+/\text{H}_2\text{O}$

- **Equation de la réaction :** $\text{AH} + \text{H}_2\text{O} \rightleftharpoons \text{B} + \text{H}_3\text{O}^+$

- **Tableau d'avancement :**

Equation de la réaction		AH + H ₂ O		\rightleftharpoons	B + H ₃ O ⁺	
Etat du système		Quantité de matière en mol				
Etat initial	0	C.V	En Excès		0	0
Etat intermédiaire	x	C.V - x		x	x	
Etat final	x _f	C.V - x _f		x _f	x _f	

- **Lecture du Tableau d'avancement :**

$x_m = C \cdot V$: Avancement maximal
$[\text{AH}] = \frac{C \cdot V - x_f}{V} = C - [\text{H}_3\text{O}^+]$

$[\text{B}] = [\text{H}_3\text{O}^+] = \frac{x_f}{V}$
$x_f = [\text{H}_3\text{O}^+] \cdot V$: Avancement final

- **Expression de τ : taux d'avancement final :**

$$\tau = \frac{x_f}{x_m} = \frac{[\text{H}_3\text{O}^+].V}{C.V} = \frac{[\text{H}_3\text{O}^+]}{C}$$

Une réaction est limitée (non totale) si :

- $\tau < 1$
- $x_f < x_m$
- $[\text{H}_3\text{O}^+] < C$

- **Force de l'acide**

L'acide A_1H est plus fort que l'acide A_2H si pour des concentrations identiques son taux d'avancement est plus élevé que celui de l'acide A_2H ($\tau_1 > \tau_2$)

- **Expression de K_A la constante d'acidité du couple AH/B**

$$K_A = \frac{[\text{B}][\text{H}_3\text{O}^+]}{[\text{AH}]} = \frac{[\text{H}_3\text{O}^+]^2}{C - [\text{H}_3\text{O}^+]}$$

NB : Force de l'acide

Un acide est d'autant plus fort que son K_A est élevé et son pK_A est faible

- **Autres expressions de K_A :**

$$K_A = \frac{[\text{B}][\text{H}_3\text{O}^+]}{[\text{AH}]} = \frac{[\text{H}_3\text{O}^+]^2}{C - [\text{H}_3\text{O}^+]}$$

On peut remplacer C ou $[\text{H}_3\text{O}^+]$ et obtenir autres expressions de K_A :

1. $[\text{H}_3\text{O}^+] = C \cdot \tau$; $K_A = \frac{(C \cdot \tau)^2}{C - C \cdot \tau} = C \cdot \frac{\tau^2}{1 - \tau}$

2. $[\text{H}_3\text{O}^+] = 10^{-pH}$; $K_A = \frac{(10^{-pH})^2}{C - 10^{-pH}} = \frac{10^{-2 \cdot pH}}{C - 10^{-pH}}$

3. $[\text{H}_3\text{O}^+] = \frac{x_f}{V}$; $K_A = \frac{(\frac{x_f}{V})^2}{C - \frac{x_f}{V}} = \frac{(x_f)^2}{V^2(C - \frac{x_f}{V})} = \frac{(x_f)^2}{V(C \cdot V - x_f)}$

4. $C = \frac{[\text{H}_3\text{O}^+]}{\tau}$; $K_A = \frac{[\text{H}_3\text{O}^+]^2}{\frac{[\text{H}_3\text{O}^+]}{\tau} - [\text{H}_3\text{O}^+]} = \frac{[\text{H}_3\text{O}^+]}{\frac{1}{\tau} - 1} = [\text{H}_3\text{O}^+] \frac{\tau}{1 - \tau}$

5. Etude qualitative d'une solution basique B avec l'eau :

- **Couples acide base intervenant dans la transformation :** AH/B et $\text{H}_2\text{O}/\text{OH}^-$
- **Equation de la réaction :** $\text{B} + \text{H}_2\text{O} \rightleftharpoons \text{AH} + \text{OH}^-$
- **Tableau d'avancement :**

Equation de la réaction		B + H ₂ O		\rightleftharpoons	AH + OH ⁻	
Etat du système		Quantité de matière en mol				
Etat initial	0	C.V	En Excès		0	0
Etat intermédiaire	x	C.V - x			x	x
Etat final	x _f	C.V - x _f			x _f	x _f

- **Lecture du Tableau d'avancement :**

$x_m = C \cdot V$: Avancement maximal

$[\text{B}] = \frac{C \cdot V - x_f}{V} = C - [\text{OH}^-]$

$[\text{AH}] = [\text{OH}^-] = \frac{x_f}{V}$

$x_f = [\text{H}_3\text{O}^+].V$: Avancement final

- **Expression de τ : taux d'avancement final :**

$$\tau = \frac{x_f}{x_m} = \frac{[\text{OH}^-].V}{C.V} = \frac{[\text{OH}^-]}{C}$$

Une réaction est limitée (non totale) si :

- $\tau < 1$
- $x_f < x_m$
- $[\text{OH}^-] < C$ ou $[\text{H}_3\text{O}^+] < K_e \cdot C$ ou $\text{pH} > \text{p}K_e - \log C$

- **Force de la base**

La base B₁ est plus forte que la base B₂ si pour des concentrations identiques son taux d'avancement est plus élevé que celui de la base B₂ ($\tau_1 > \tau_2$)

- **Expression de K_A la constante d'acidité du couple AH/B**

$$K_A = \frac{[B][H_3O^+]}{[AH]} = \frac{(C - [OH^-]) \cdot [H_3O^+]}{[OH^-]}$$

NB : Force de la base

Une base est d'autant plus forte que son pK_A est élevé et son K_A est faible

- **Autres expressions de K_A :**

$$K_A = \frac{[B][H_3O^+]}{[AH]} = \frac{(C - [OH^-]) \cdot [H_3O^+]}{[OH^-]}$$

Sachant que $Ke = [H_3O^+] \cdot [OH^-]$ on remplace alors :

- $[H_3O^+] = \frac{Ke}{[OH^-]}$ on obtient $K_A = \frac{(C - [OH^-]) \cdot [H_3O^+]}{[OH^-]} = \frac{(C - [OH^-]) \cdot Ke}{[OH^-]^2}$ (1)

- $[OH^-] = \frac{Ke}{[H_3O^+]}$ on obtient $K_A = \frac{(C - [OH^-]) \cdot [H_3O^+]}{[OH^-]} = \frac{(C - \frac{Ke}{[H_3O^+]}) \cdot [H_3O^+]}{\frac{Ke}{[H_3O^+]}} = \frac{(C - \frac{Ke}{[H_3O^+]}) \cdot [H_3O^+]^2}{Ke}$ (2)

On peut remplacer C ou [OH⁻] ou [H₃O⁺] et obtenir autres expressions de K_A :

1. $[OH^-] = C \cdot \tau$ dans (1) ;	$K_A = \frac{C - C \cdot \tau}{(C \cdot \tau)^2} \cdot Ke = \frac{Ke}{C} \cdot \frac{1 - \tau}{\tau^2}$
---------------------------------------	---

2. $[H_3O^+] = 10^{-pH}$ dans (2) ;	$K_A = \frac{(C - \frac{Ke}{10^{-pH}}) \cdot (10^{-pH})^2}{Ke} = \frac{C - Ke \cdot 10^{-pH}}{Ke \cdot 10^{2pH}}$
-------------------------------------	---

3. $[OH^-] = \frac{x_f}{V}$ dans (1) ;	$K_A = \frac{C - \frac{x_f}{V}}{(\frac{x_f}{V})^2} \cdot Ke = \frac{V^2(C - \frac{x_f}{V})}{(x_f)^2} \cdot Ke = Ke \cdot V \cdot \frac{C \cdot V - x_f}{(x_f)^2}$
--	---

4. $C = \frac{[OH^-]}{\tau}$ dans (1) ;	$K_A = \frac{\frac{[OH^-]}{\tau} - [OH^-]}{[OH^-]^2} \cdot Ke = \frac{\frac{1}{\tau} - 1}{[OH^-]} \cdot Ke = \frac{1 - \tau}{\tau} \cdot \frac{Ke}{[OH^-]} = \frac{1 - \tau}{\tau} \cdot [H_3O^+]$
---	--

6. Réaction Acidobasique :

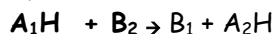
Réaction dans laquelle l'acide d'un couple réagit avec la base d'un autre couple, et au cours de laquelle il y a échange de protons :



L'acide A₁H cède un proton : $A_1H \rightarrow B_1 + H^+$

La base B₂ capte ce proton : $B_2 + H^+ \rightarrow A_2H$

Et l'équation acide basique (ou équation bilan) :



7. La constante d'acidité et la dominance de l'acide AH ou de la base B

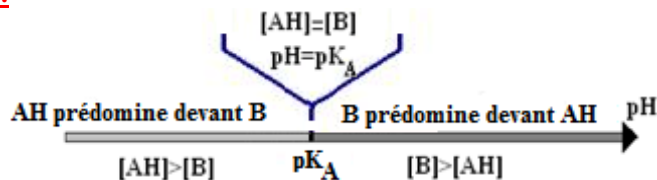
On a : $K_A = \frac{[B][H_3O^+]}{[AH]}$ on en déduit : $\frac{[B]}{[AH]} = \frac{K_A}{[H_3O^+]} = \frac{10^{-pK_A}}{10^{-pH}} = 10^{pH-pK_A}$

ou $pH = pK_A + \frac{[B]}{[AH]}$

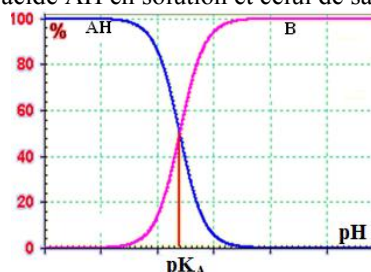
Comparer pH et pK_A :

$$\frac{[B]}{[AH]} = 10^{pH-pK_A}$$

- $pH > pK_A$: $\frac{[B]}{[AH]} > 1$ et $[B] > [AH]$ donc la base B est la prédominante
- $pH < pK_A$: $\frac{[B]}{[AH]} < 1$ et $[B] < [AH]$ donc l'acide AH est le prédominant
- $pH = pK_A$: $\frac{[B]}{[AH]} = 1$ et $[B] = [AH]$ donc aucun prédominant ni l'acide ni la base

Diagramme de prédominance :**Diagramme de distribution (répartition) :**

Le diagramme représente le pourcentage de l'acide AH en solution et celui de sa base conjuguée



Le pourcentage de l'acide AH :

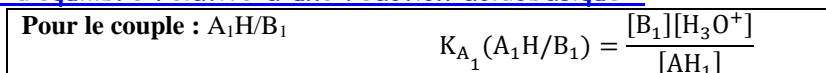
$$\%AH = \frac{[AH]}{[AH] + [B]} = \frac{1}{1 + \frac{[B]}{[AH]}} = \frac{1}{1 + 10^{\text{pH} - \text{pK}_A}}$$

Le pourcentage de la base B :

$$\%B = \frac{[B]}{[AH] + [B]} = \frac{1}{\frac{[AH]}{[B]} + 1} = \frac{1}{10^{\text{pK}_A - \text{pH}} + 1}$$

NB :

Graphiquement on peut déterminer le pourcentage de l'acide et celui de la base et le pH correspondant ainsi que pK_A

8. La constante d'équilibre relative à une réaction acidobasique :

- La réaction entre l'acide AH et l'eau : $AH + H_2O \rightleftharpoons B + H_3O^+$

$$K = K_A(AH/B) = \frac{[B][H_3O^+]}{[AH]}$$

- La réaction entre la base B et l'eau : $B + H_2O \rightleftharpoons AH + OH^-$

$$K = \frac{[AH][OH^-]}{[B]} = \frac{[AH][OH^-] \cdot [H_3O^+]}{[B] \cdot [H_3O^+]} = \frac{K_e}{K_A}$$

Avec $K_e = [H_3O^+] \cdot [OH^-]$

- La réaction entre l'acide A_1H du couple A_1H/B_1 et la base B_2 du couple A_2H/B_2 :



$$K = \frac{[B_1] \cdot [A_2H]}{[A_1H] \cdot [B_2]} = \frac{[B_1] \cdot [A_2H] \cdot [H_3O^+]}{[A_1H] \cdot [B_2] \cdot [H_3O^+]} = \frac{K_{A1}}{K_{A2}} = 10^{\text{pK}_{A2} - \text{pK}_{A1}}$$

K : la constante d'équilibre relative au sens directe

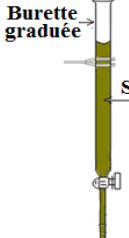
NB :

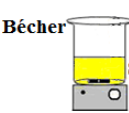
Le taux d'avancement final d'une réaction à température donnée dépend de la constante d'équilibre (plus cette constante est grande, plus le taux d'avancement est grand), mais dépend aussi des conditions initiales.

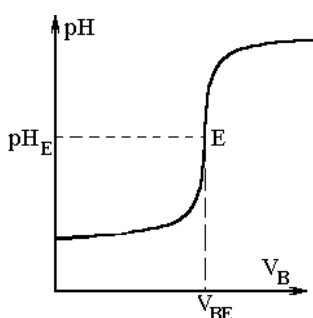
DOSAGE (TITRAGE) ACIDOBASIQUE

- Le but du dosage : Doser (ou titrer) une solution acide, c'est déterminer sa concentration molaire dans la solution considérée au moyen d'une solution basique de concentration connue et réciproquement.
- Doser la solution du bécher (solution titrée) par la solution de la burette graduée (solution titrante).
- Condition du dosage : la transformation doit être totale, rapide et sélective

1. Dosage d'une solution d'acide chlorhydrique par une solution basique d'hydroxyde de sodium

 <p>Burette graduée Solution ()</p>	<p><u>Dans la burette :</u> Solution d'hydroxyde de sodium NaOH (Na⁺+OH⁻)</p>	<p><u>Equation de dissolution :</u> NaOH \longrightarrow Na⁺ + OH⁻ L'ion Na⁺ est inactif H₂O/OH⁻</p>
---	--	---

 <p>Bécher Solution ()</p>	<p><u>Dans le bécher :</u> Solution d'acide chlorhydrique HCl (Solution de chlorure d'hydrogène) (H₃O⁺+Cl⁻)</p>	<p><u>Equation de dissolution :</u> HCl + H₂O \longrightarrow H₃O⁺ + Cl⁻ L'ion Cl⁻ est inactif H₃O⁺/H₂O</p>
--	---	---

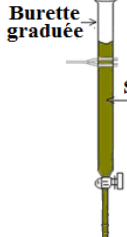


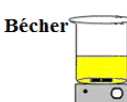
Espèces majoritaires à l'équivalence : H₂O

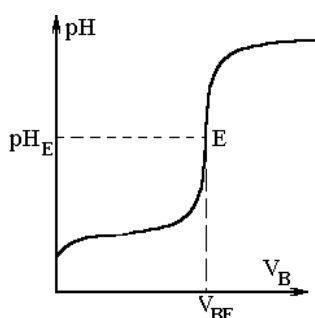
Milieu à l'équivalence : Milieu neutre : pH_E = 7

Relation à l'équivalence : C_AV_A = C_BV_{BE}

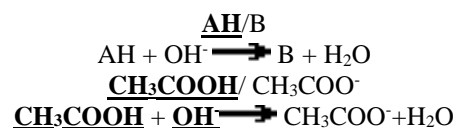
2. Dosage d'une solution acide (AH) par une solution basique d'hydroxyde de sodium :

 <p>Burette graduée Solution ()</p>	<p><u>Dans la burette :</u> Solution d'hydroxyde de sodium NaOH (Na⁺+OH⁻)</p>	<p><u>Equation de dissolution :</u> NaOH \longrightarrow Na⁺ + OH⁻ L'ion Na⁺ est inactif H₂O/OH⁻</p>
---	--	---

 <p>Bécher Solution ()</p>	<p><u>Dans le bécher :</u> Solution d'acide AH <u>AH/B</u></p>	<p><u>Equation de dissolution :</u> <u>AH</u> + H₂O \rightleftharpoons H₃O⁺ + B</p>
--	---	--



Equation du dosage :

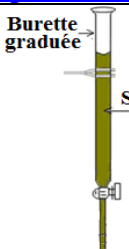


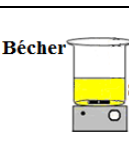
Espèces majoritaires à l'équivalence : B et H₂O

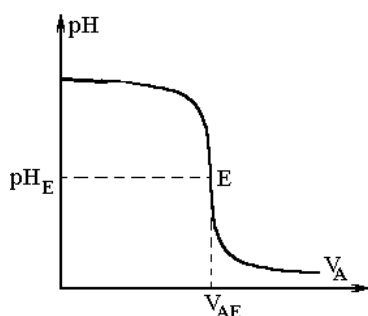
Milieu à l'équivalence : Milieu basique : pH_E > 7

Relation à l'équivalence : C_AV_A = C_BV_{BE}

3. Dosage d'une solution basique d'hydroxyde de sodium par une solution d'acide chlorhydrique

 <p>Burette graduée Solution ()</p>	<p>Dans la burette : Solution d'acide chlorhydrique HCl (Solution de chlorure d'hydrogène) ($\text{H}_3\text{O}^+ + \text{Cl}^-$)</p>	<p>Equation de dissolution : $\text{HCl} + \text{H}_2\text{O} \longrightarrow \text{H}_3\text{O}^+ + \text{Cl}^-$ L'ion Cl^- est inactif</p> <p>$\text{H}_3\text{O}^+/\text{H}_2\text{O}$</p>
---	---	--

 <p>Bécher Solution ()</p>	<p>Dans le bécher : Solution d'hydroxyde de sodium NaOH ($\text{Na}^+ + \text{OH}^-$)</p>	<p>Equation de dissolution : $\text{NaOH} \longrightarrow \text{Na}^+ + \text{OH}^-$ L'ion Na^+ est inactif</p> <p>$\text{H}_2\text{O}/\text{OH}^-$</p>
--	---	--



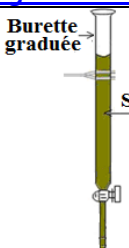
Equation du dosage : $\text{H}_3\text{O}^+ + \text{OH}^- \longrightarrow 2 \text{H}_2\text{O}$

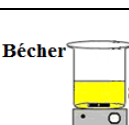
Espèces majoritaires à l'équivalence : H_2O

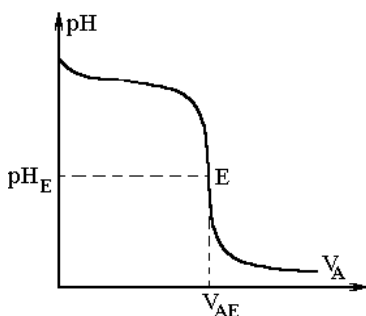
Milieu à l'équivalence : Milieu neutre : $\text{pH}_E = 7$

Relation à l'équivalence : $C_A V_{AE} = C_B V_B$

4. Dosage d'une solution basique (B) par une solution d'acide chlorhydrique

 <p>Burette graduée Solution ()</p>	<p>Dans la burette : Solution d'acide chlorhydrique HCl (Solution de chlorure d'hydrogène) ($\text{H}_3\text{O}^+ + \text{Cl}^-$)</p>	<p>Equation de dissolution : $\text{HCl} + \text{H}_2\text{O} \longrightarrow \text{H}_3\text{O}^+ + \text{Cl}^-$ L'ion Cl^- est inactif</p> <p>$\text{H}_3\text{O}^+/\text{H}_2\text{O}$</p>
--	---	--

 <p>Bécher Solution ()</p>	<p>Dans le bécher : Solution d'une base B AH/B</p>	<p>Equation de dissolution : $\text{B} + \text{H}_2\text{O} \rightleftharpoons \text{OH}^- + \text{AH}$</p>
--	---	---



Equation du dosage :

$$\text{B} + \text{H}_3\text{O}^+ \longrightarrow \text{AH} + \text{H}_2\text{O}$$

$$\text{NH}_3 + \text{H}_3\text{O}^+ \longrightarrow \text{NH}_4^+ + \text{H}_2\text{O}$$

Espèces majoritaires à l'équivalence : AH et H_2O

Milieu à l'équivalence : Milieu acide : $\text{pH}_E < 7$

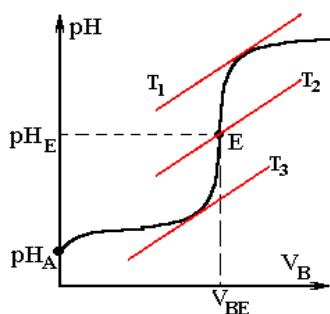
Relation à l'équivalence : $C_A V_{AE} = C_B V_B$

NB :

Les ions Na^+ et Cl^- sont ions inactifs, ne réagissent pas mais subit une dilution et leurs concentrations en solution diminuent :

$$[\text{Na}^+] = \frac{C_B \cdot V_B}{V_A + V_B} \quad \text{et} \quad [\text{Cl}^-] = \frac{C_A \cdot V_A}{V_A + V_B}$$

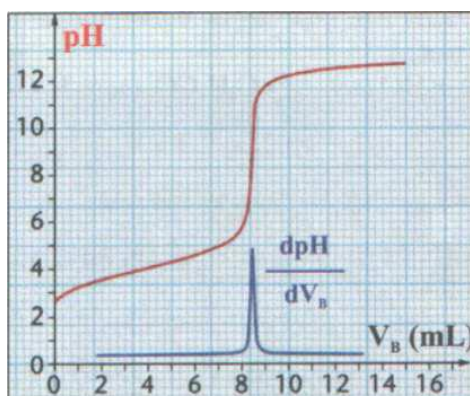
Etude du graphe $\text{pH} = f(V_B)$:



Graphiquement on peut déduire :

- pH_A de la solution du bécher ($V_B=0$: aucun ajout de la solution basique) :
 - La nature de la solution initiale du bécher (pH_A)
 - La dissolution de la solution du bécher est limitée ou totale.
 - Le type de dosage (le cas est dosage d'un acide par une base vu la courbe $\text{pH} = f(V_B)$ est croissante)
- A tout instant le pH et le volume V_B correspondant et aussi la composition du mélange :
 - Déterminer la concentration des ions hydronium $[\text{H}_3\text{O}^+] = 10^{-\text{pH}}$ et en déduire la concentration des ions hydroxyde $[\text{OH}^-] = \frac{K_e}{[\text{H}_3\text{O}^+]}$, ($K_e = [\text{H}_3\text{O}^+].[\text{OH}^-]$)
 - Déterminer les concentrations des ions $[\text{Na}^+] = \frac{C_B \cdot V_B}{V_A + V_B}$ et $[\text{Cl}^-] = \frac{C_A \cdot V_A}{V_A + V_B}$
- Les coordonnées du point d'équivalence $E(V_{BE}, \text{pH}_E)$:
 - V_{BE} et exploiter la relation de l'équivalence : $C_A V_A = C_B V_{BE}$
 - pH_E : déterminer la nature du mélange à l'équivalence (basique ou acide ou neutre)
 - L'indicateur coloré adéquat (pH_E encadré par la zone de virage de l'indicateur coloré)

Comment déterminer les coordonnées du point d'équivalence sur la courbe d'un dosage par suivi pH-métrique ?



- **Méthode des tangentes parallèles :**
 - Consiste à tracer deux tangentes T_1 et T_3 parallèles de part et d'autre du saut de pH, puis de tracer une troisième droite T_2 équidistante et parallèle aux deux premières : $d(T_1, T_2) = d(T_2, T_3)$
 - Le **point d'équivalence E** est le point d'intersection de la droite (T_2) avec la courbe $\text{pH} = f(V_B)$.
- Une seconde méthode de détermination des coordonnées du point d'équivalence à partir de la courbe $\frac{d\text{pH}}{dV_B} = f(V_B)$ la dérivée première du pH en fonction de V_B , le **volume à l'équivalence** est le volume pour lequel la dérivée est maximale (remarquable par un pic sur la courbe).
- Les **indicateurs colorés** :

Un indicateur coloré est un composé qui existe en solution aqueuse sous la forme d'un couple acide base (HIn/In^-) dont la forme acide HIn , a une couleur (teinte) différente de celle de la forme basique (In^-).

La zone intermédiaire entre les teintes acide et basique d'un indicateur coloré est nommée **zone de virage**.

Le taux d'avancement finale de la réaction de dosage (PC+SM)

Dosage d'une solution basique B par la solution d'acide chlorhydrique HCl

Equation de la réaction		B + $\underline{\text{H}_3\text{O}^+}$		\longrightarrow	AH + H ₂ O	
Etat du système		Quantité de matière en mol				
Etat initial	0	$C_B \cdot V_B$	$C_A \cdot V_A$		0	0
Etat intermédiaire	x	$C_B \cdot V_B - x$	$C_A \cdot V_A - x$		x	x
Etat final	x_f	$C_B \cdot V_B - x_f$	$C_A \cdot V_A - x_f$		x_f	x_f

Déterminer x_f :

Du tableau d'avancement on a $n(\text{H}_3\text{O}^+) = C_A \cdot V_A - x_f$ d'où $[\text{H}_3\text{O}^+] = \frac{n(\text{H}_3\text{O}^+)}{V_A + V_B} = \frac{C_A \cdot V_A - x_f}{V_A + V_B}$
 et $C_A V_A - x_f = (V_A + V_B) \cdot [\text{H}_3\text{O}^+]$ donc $x_f = C_A V_A - (V_A + V_B) \cdot [\text{H}_3\text{O}^+]$ et $x_f = C_A V_A - (V_A + V_B) \cdot 10^{-\text{pH}}$

Déterminer x_m :

On détermine le réactif limitant et en déduire x_m en comparant :

1.	$C_A \cdot V_A$ et $C_B \cdot V_B$ La plus faible définit x_m
-----------	--

2.	Le volume V_A versé et le volume V_{AE} versé à l'équivalence $\text{B} + \underline{\text{H}_3\text{O}^+} \longrightarrow \text{AH} + \text{H}_2\text{O}$ - $V_A < V_{AE}$: avant l'équivalence et H_3O^+ est le limitant donc $x_{\text{max}} = C_A \cdot V_A$ - $V_A > V_{AE}$: après l'équivalence et B est le limitant donc $x_{\text{max}} = C_B \cdot V_B$ - $V_A = V_{AE}$: à l'équivalence B et H_3O^+ sont tous deux limitant donc $x_{\text{max}} = C_A \cdot V_{AE} = C_B \cdot V_B$
-----------	---

Déduire τ : dans le cas ou $V_A < V_{AE}$

On a $x_f = C_A V_A - (V_A + V_B) \cdot 10^{-\text{pH}}$ et $x_{\text{max}} = C_A \cdot V_A$ donc :

$$\tau = \frac{x_f}{x_m} = \frac{C_A V_A - (V_A + V_B) \cdot 10^{-\text{pH}}}{C_A V_A} = 1 - \frac{(V_A + V_B) \cdot 10^{-\text{pH}}}{C_A V_A}$$

Dosage d'une solution acide AH par une solution d'hydroxyde NaOH :

Equation de la réaction		AH + $\underline{\text{OH}^-}$		\longrightarrow	B + H ₂ O	
Etat du système		Quantité de matière en mol				
Etat initial	0	$C_A \cdot V_A$	$C_B \cdot V_B$		0	0
Etat intermédiaire	x	$C_A \cdot V_A - x$	$C_B \cdot V_B - x$		x	x
Etat final	x_f	$C_A \cdot V_A - x_f$	$C_B \cdot V_B - x_f$		x_f	x_f

Déterminer x_f :

Du tableau d'avancement on a $n(\text{OH}^-) = C_B \cdot V_B - x_f$ d'où $[\text{OH}^-] = \frac{n(\text{OH}^-)}{V_A + V_B} = \frac{C_B \cdot V_B - x_f}{V_A + V_B}$ et $C_B V_B - x_f = (V_A + V_B) \cdot [\text{OH}^-]$
 $x_f = C_B V_B - (V_A + V_B) \cdot [\text{OH}^-]$ et $x_f = C_B \cdot V_B - (V_A + V_B) \cdot 10^{\text{pH} - \text{pKe}}$
 or $\text{Ke} = [\text{H}_3\text{O}^+] \cdot [\text{OH}^-]$ alors

$$x_f = C_B V_B - (V_A + V_B) \cdot \frac{\text{Ke}}{[\text{H}_3\text{O}^+]} = C_B V_B - (V_A + V_B) \cdot \frac{\text{Ke}}{10^{-\text{pH}}} = C_B V_B - (V_A + V_B) \cdot \frac{10^{-\text{pKe}}}{10^{-\text{pH}}} = C_B V_B - (V_A + V_B) \cdot 10^{\text{pH} - \text{pKe}}$$

Déterminer x_m :

On détermine le réactif limitant et en déduire x_m en comparant :

1.	$C_A \cdot V_A$ et $C_B \cdot V_B$ La plus faible définit x_m
-----------	--

2.	Le volume V_B versé et le volume V_{BE} versé à l'équivalence $\text{AH} + \underline{\text{OH}^-} \longrightarrow \text{B} + \text{H}_2\text{O}$ - $V_B < V_{BE}$: avant l'équivalence et OH^- est le limitant donc $x_{\text{max}} = C_B \cdot V_B$ - $V_B > V_{BE}$: après l'équivalence et AH est le limitant donc $x_{\text{max}} = C_A \cdot V_A$ - $V_B = V_{BE}$: à l'équivalence AH et OH^- sont tous deux limitant donc $x_{\text{max}} = C_A \cdot V_A = C_B \cdot V_{BE}$
-----------	--

Déduire τ : dans le cas ou $V_B < V_{BE}$

On a $x_f = C_B V_B - (V_A + V_B) \cdot 10^{\text{pH} - \text{pKe}}$ et $x_{\text{max}} = C_B \cdot V_B$ donc :

$$\tau = \frac{x_f}{x_m} = \frac{C_B V_B - (V_A + V_B) \cdot 10^{\text{pH} - \text{pKe}}}{C_B V_B} = 1 - \frac{(V_A + V_B) \cdot 10^{\text{pH} - \text{pKe}}}{C_B V_B}$$

INDICATEURS COLORES

Définition :

Un indicateur coloré acido basique est un composé qui existe en solution aqueuse sous la forme d'un couple acide base noté HIn/In^- dont la forme acide HIn , a une couleur (teinte) différente de celle de la forme basique (In^-).

Tonisation de l'indicateur coloré :



HIn : forme acide de l'indicateur coloré

In^- : la forme basique de l'indicateur coloré

$$K_A = K_A(\text{HIn}/\text{In}^-) = \frac{[\text{In}^-][\text{H}_3\text{O}^+]}{[\text{HIn}]} : \text{la constante d'acidité de l'indicateur coloré}$$

et on peut en déduire $\text{pH} = \text{p}K_A + \log \frac{[\text{In}^-]}{[\text{HIn}]}$

On en distingue trois cas :

$[\text{HIn}] \gg [\text{In}^-]$ La forme acide HIn est dominante $\frac{[\text{HIn}]}{[\text{In}^-]} \geq 10$ $\text{pH} = \text{p}K_A + \log \frac{[\text{In}^-]}{[\text{HIn}]} < \text{p}K_A - 1$
--

$[\text{HIn}] = [\text{In}^-]$ Aucune forme n'est dominante $\frac{[\text{In}^-]}{[\text{HIn}]} = 10$ La teinte obtenue est la teinte sensible $\text{pH} = \text{p}K_A$ et $[\text{H}_3\text{O}^+] = K_A$
--

$[\text{HIn}] \ll [\text{In}^-]$ La forme basique In^- est dominante $\frac{[\text{In}^-]}{[\text{HIn}]} \geq 10$ $\text{pH} = \text{p}K_A + \log \frac{[\text{In}^-]}{[\text{HIn}]} > \text{p}K_A + 1$

De quoi dépend la teinte d'un indicateur :

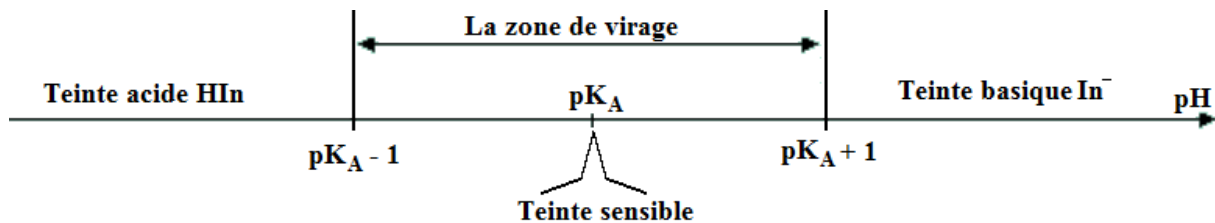
La teinte d'un indicateur dépend des proportions de la forme acide HIn et de la forme basique In^-

Comment peut-on modifier sa teinte :

On peut modifier sa teinte en faisant varier le pH de la solution dans laquelle il est dissous (variation des % de HIn et In^-)

Zone de virage d'un indicateur :

La zone de virage est le domaine de valeur de pH pour lequel ni HIn ni In^- ne domine nettement



NB :

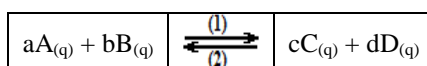
La zone de virage d'un indicateur coloré :

- N'est pas centré sur la valeur de $\text{p}K_A$
- Sa largeur n'est pas égale à deux unités de pH
- Exemples d'indicateurs colorés :

Indicateur	$\text{p}K_A$	Zone de virage	Couleur (acide, base)
Hélianthine	3.40	(3.9 - 4.5)	(Rouge, Jaune Orangé)
Bleu de bromothymol (B.B.T)	4.10	(3.0 - 4.6)	(Jaune, Bleu violet)
Rouge de phénol	6.25	(6.4 - 8.0)	(Jaune, Rouge)
Phénolphtaléine	9.20	(8.0 - 9.6)	(Incolore, Violet)

ETAT D'EQUILIBRE D'UN SYSTEME

Soit la réaction chimique :



avec a,b,c et d sont les coefficients stœchiométriques

$$Q_r = \frac{[C_{(aq)}]^c \cdot [D_{(aq)}]^d}{[A_{(aq)}]^a \cdot [B_{(aq)}]^b} : \text{Quotient de réaction associé à la réaction dans le sens direct}$$

On ne fait figurer dans l'expression de Q_r que les concentrations des espèces dissoutes alors :
[Solide]=1 et [Eau comme solvant]=1.

A une température donnée, le quotient de réaction à l'équilibre $Q_{r,eq}$ est une constante quel que soit l'état initial considéré :

$$K = Q_{r,eq}$$

- La constante d'équilibre dépend uniquement de la température.
- Le taux d'avancement final d'une réaction à température donnée dépend de la constante d'équilibre (plus cette constante est grande, plus le taux d'avancement est grand), mais dépend aussi des conditions initiales.

Lorsqu'une transformation n'est pas totale, la réaction associée peut s'effectuer dans les deux sens, une telle réaction est dite réversible. L'équilibre atteint est un équilibre dynamique dans lequel les réactions inverses l'une de l'autre ont lieu simultanément et à la même vitesse.

PREVISION DE L'EVOLUTION DU SYSTEME

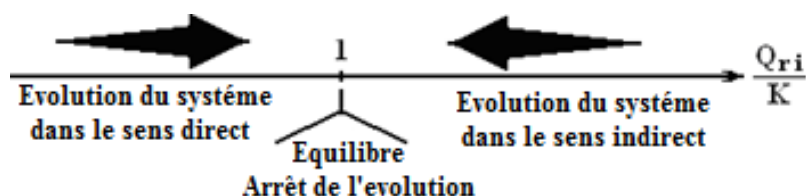
Un système chimique va évoluer de façon que Q_r tend vers la valeur de la constante d'équilibre K

On en distingue trois cas

$K = Q_r$ Le système est en équilibre et n'évolue dans aucun sens : la composition du système ne varie plus.

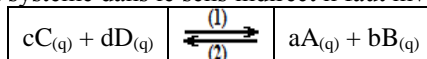
$K > Q_r$ L'évolution spontanée se produit dans le **sens direct (1)** (sens de consommation des réactifs) $K \rightarrow Q_r$

$K < Q_r$ L'évolution spontanée se produit dans le **sens indirect (2)** (sens de consommation des Produits) $K \leftarrow Q_r$



NB :

- Dans la cas ou $K < Q_r$ et évolution du système dans le sens indirect il faut inverser l'écriture de l'équation

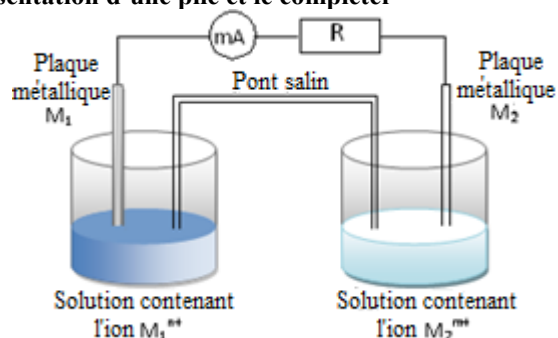


- Lorsque l'on modifie la quantité de matière de l'une des espèces chimiques présente dans un système chimique à l'équilibre, l'évolution s'oppose à cette modification :
 - Si une espèce chimique est apportée, l'évolution se fait dans le sens de sa consommation.
 - Si une espèce chimique est éliminée, l'évolution se fait dans le sens de sa production.

REACTIONS SPONTANEE DANS LES PILES ET PRODUCTION D'ENERGIE

- **Réaction spontanée** : toute réaction chimique qui peut se dérouler sans apport d'énergie du milieu extérieur est appelée réaction spontanée.
- **Une pile électrochimique** est un générateur qui transforme de l'énergie chimique en énergie électrique. Une pile est constituée par deux demi-piles reliées par un **pont salin**.
 - Une demi-pile est l'ensemble constitué d'un métal plongeant dans une solution contenant son cation conjugué. Les deux métaux sont appelés électrodes et constituent les pôles de la pile. Elles font donc référence chacune à **un couple oxydo-réducteur $M^{n+}(aq)/M(s)$** .
 - Un pont salin : il permet d'assurer la fermeture du circuit électrique, le déplacement de porteurs de charges et la neutralité de chaque électrolyte. Il n'intervient en rien dans l'équation de la réaction qui fournit l'énergie.
- **Anode** : est l'électrode qui est le siège de l'**oxydation** et constitue le **pôle négatif (-)** de la pile.
- **Cathode** : est l'électrode qui est le siège de la **réduction** et constitue le **pôle positif (+)** de la pile

Représentation d'une pile et le compléter



On a besoin d'une **information** pour :

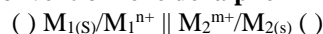
Information du circuit

- Sens du courant électrique
- Pole positif du pole négatif
- Sens de déplacement du courant
- Sens de déplacement des porteurs de charges
 - Les électrons dans le circuit extérieur
 - Les ions positifs et négatifs dans les solutions et le pont salin

Transformation chimique

- Le réactif ou produit : M_1^{n+}/M_1 et M_2^{m+}/M_2
- Ecrire les demis équations redox
- En déduire l'équation bilan

Représentation conventionnelle de la pile



INFORMATION

L'information peut être relative :

Au Circuit	A un Réactif	A un Produit	A la Prédiction de l'évolution
<ul style="list-style-type: none"> - Sens du courant - Sens des électrons - Pole positif ou pole négatif (COM) - Sens de déplacement des ions 	<ul style="list-style-type: none"> - Réagit - Diminue - S'oxyde - Se réduit - Disparition - Dégradation 	<ul style="list-style-type: none"> - Se produit ou Production - Dépôt de - Apparait ou Apparition - Augmentation - Dégagement 	Comparer K et Qr <ul style="list-style-type: none"> - $K > Qr$: Evolution dans le sens direct - $K < Qr$: Evolution dans le sens indirect

Quantité d'électricité fournie :

$1F = 1N_A \cdot e = 96500C \cdot mol^{-1} = 9.65 \cdot 10^4 C \cdot mol^{-1}$; Quantité de matière d'une mole d'électron

$$n(e) = \frac{N}{N_A} = \frac{Q}{N_A \cdot e} = \frac{Q}{F} = \frac{I \cdot \Delta t}{F} : \text{la quantité de matière des électrons échangés}$$

avec :	$n(e)$: la quantité de matière d'électrons échangés en moles (mol) $Q = I \cdot \Delta t = N \cdot e = n(e) \cdot F$: la quantité d'électricité en Coulomb (C) I : l'intensité du courant en ampère (A) Δt : le temps de transfert des électrons en seconde (s) N : Le nombre d'électrons traversant une portion de circuit pendant Δt
--------	--

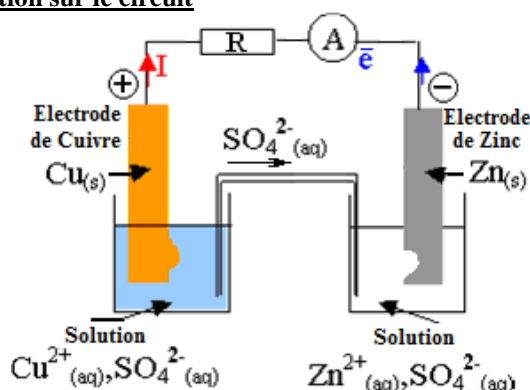
NB :

Lorsque la pile :

- **Débite**, le système chimique est **hors équilibre** $Qr \neq K$,
- **Est usée** correspond à l'état d'équilibre $Qr = K$, il ne se produit plus de réaction aux électrodes. L'intensité du courant est alors nulle.

PILE DANIELL

- La pile est constituée de deux compartiments dont l'un contient une solution de sulfate de zinc ($Zn^{2+} + SO_4^{2-}$) dans laquelle est immergée une plaque de zinc métallique (Anode). L'autre compartiment de la pile contient une solution de sulfate de cuivre ($Cu^{2+} + SO_4^{2-}$) dans laquelle baigne une plaque métallique de cuivre (Cathode).
- Les deux solutions sont reliées par un **pont salin** (solution de **chlorure de potassium** KCl ou de **nitrate de potassium** KNO_3 qui sert à équilibrer les charges.
- La pile Daniell est constituée de deux demi piles constituées par les deux couples $Cu^{2+}_{(aq)}/Cu_{(s)}$ et $Zn^{2+}_{(aq)}/Zn_{(s)}$
- L'aiguille de l'ampèremètre (ou du voltmètre) dévie : le courant électrique passe alors de la plaque de cuivre Cu vers la plaque de zinc Zn

Représentation de la pile et information sur le circuit

- Le sens du courant électrique est de l'électrode Cuivre vers l'électrode zinc
- Les électrons circulent, dans le circuit électrique extérieur, de l'électrode zinc vers l'électrode Cuivre
- Les ions, dans les électrolytes, assurent le transport du courant
 - La solution de sulfate de zinc s'enrichit en ions zinc Zn^{2+} , alors pour compenser cet excès de charge positive, des ions négatifs du pont salin passent dans cette solution.
 - La solution de sulfate de cuivre II s'appauvrit en ions cuivre Cu^{2+} , pour compenser ce défaut de charge positive, des ions positifs du pont salin passent dans cette solution.

Cette double migration des ions du pont salin assure le passage du courant entre les deux demi-piles.

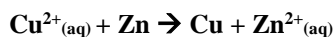
Transformation

- Des électrons sont cédés par l'électrode de Zinc :

$$Zn \rightarrow Zn^{2+} + 2e$$
- Des électrons sont captés par la solution ionique d'ions cuivre II :

$$Cu^{2+} + 2e \rightarrow Cu$$

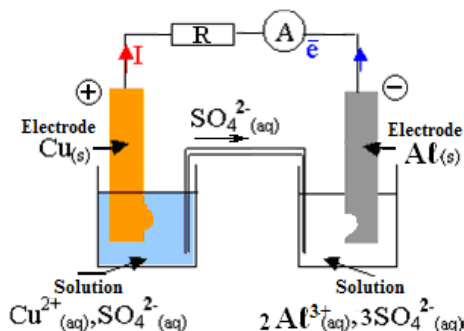
- L'équation bilan est alors :

**Représentation conventionnelle de la pile**

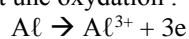
Exemple de pile

Soit la pile : (-) Al/Al³⁺ || Cu²⁺/Cu (+)

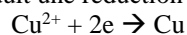
Représentation de la pile et équations :



À l'anode se produit une oxydation :



À la cathode se produit une réduction :



L'équation bilan :

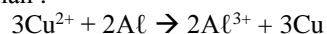


Tableau d'avancement :

$3\text{Cu}^{2+} + 2\text{Al} \rightarrow 2\text{Al}^{3+} + 3\text{Cu}$					6e
t=0	n ₁	n ₂	n ₃	n ₄	0
t	n ₁ -3.x	n ₂ -2.x	n ₃ +2.x	n ₄ +3.x	6.x
t _f	n ₁ -3.x _f	n ₂ -2.x _f	n ₃ +2.x _f	n ₄ +3.x _f	6.x _f

$$\Delta n(\text{Cu}^{2+}) = (n_1 - 3.x_f) - n_1 \quad : \text{La variation de la quantité de matière des ions Cuivre Cu}^{2+}$$

$$= -3.x_f \quad : \text{La quantité de matière des ions Cu}^{2+} \text{ a diminué de } 3.x$$

De la même manière on peut déterminer Δn la variation de la quantité de matières des autres espèces chimiques

Δn : La variation de la quantité de matière

	3Cu^{2+}	2Al	\rightarrow	2Al^{3+}	3Cu	6e
Δn	$-3.x_f$	$-2.x_f$		$2.x_f$	$2.x_f$	$6.x_f$
	Quantité de matière a diminuer de :			Quantité de matière a augmenter de :		
	$3.x_f$ Pour les ions Cu ²⁺ $\Delta C.V = 3.x_f$	$2.x_f$ Pour la plaque d'aluminium $\frac{\Delta m}{M} = 2.x_f$		$2.x_f$ Pour les ions Al ³⁺ $\Delta C'.V' = 3.x_f$	$2.x_f$ Pour la plaque de cuivre $\frac{\Delta m'}{M'} = 3.x_f$	$n(e) = 6.x_f$ $n(e) = \frac{I.\Delta t}{F}$

TRANSFORMATIONS FORCÉES : L'ELECTROLYSE (PC+SM)

Electrolyse :

Une réaction qui se déroule dans le sens opposé à l'évolution spontanée est une évolution forcée. Cette réaction s'appelle électrolyse et s'arrête dès que l'on stoppe le générateur qui apporte l'énergie nécessaire

NB :

- Le courant imposé est inverse à celui qui serait observé lorsque le système évolue spontanément.
- Dans une électrolyse :
 - L'électrode reliée au pôle – du générateur électrique est le siège d'une **réduction** ; il s'agit de la **cathode** :
 - L'électrode reliée au pôle + du générateur électrique est le siège d'une **oxydation** ; il s'agit de l'**anode** :
- Pour une transformation forcée, le **quotient de réaction du système chimique s'éloigne de la constante d'équilibre**.

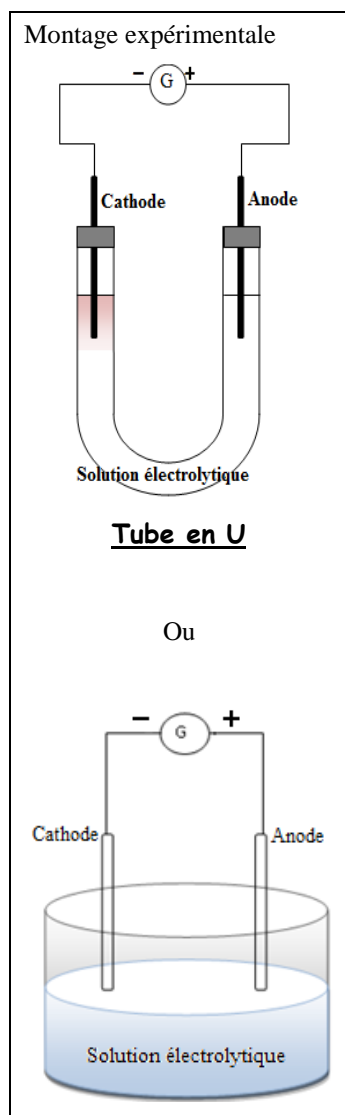
A retenir :

 on doit savoir :

- Les espèces chimiques en solution (soluté, solvant et électrodes)
- Les couples redox intervenants
- Toutes les réactions possibles au niveau des électrodes :
 - A l'anode (**pole +**) se produit une oxydation de tout réducteur à l'exception des ions positifs
 - A la cathode (**pole -**) se produit une réduction de tout oxydant à l'exception des ions négatifs
- Les réactions qui se produisent au niveau des électrodes

Exemple : Electrolyse d'une solution aqueuse de chlorure de sodium NaCl

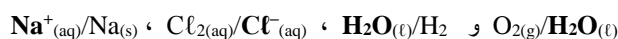
On introduit dans un tube en U une solution aqueuse de chlorure de sodium ($\text{Na}^+(\text{aq}) + \text{Cl}^-(\text{aq})$). Deux électrodes en graphite plongées dans la solutions et reliées chacune à l'une des bornes (positive ou négative) d'un générateur de tension continue G .



▪ Les espèces chimiques en solutions :

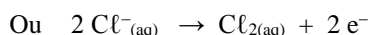
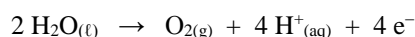
Soluté	Solvant	Electrodes
$\text{Na}^+ , \text{Cl}^-$	$\text{H}_2\text{O} , \text{H}_3\text{O}^+ \text{ et } \text{OH}^-$	Graphite

▪ Les couples redox intervenant :

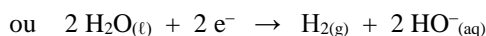
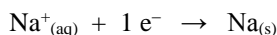


▪ Toutes les réactions possibles au niveau des électrodes :

- A l'anode se produit oxydation d'un réducteur :



- A la cathode se produit réduction d'un oxydant :

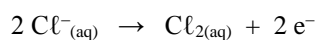


Après plusieurs minutes de fonctionnement, on constate :


- À l'anode, il s'est formé un dégagement gazeux de dichlore Cl_2 (Décoloration de l'indigo initialement bleu).
- À la cathode, il s'est formé un dégagement de dihydrogène H_2 (détonation en présence d'une flamme) et il est apparu des ions hydroxyde OH^- (Phénolphaléine prends une coloration rose).

▪ Les réactions qui se produisent au niveau des électrodes :

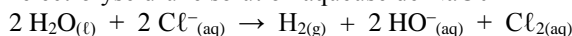
- A l'anode se produit oxydation des ions chlorure Cl^- :



- A la cathode se produit réduction de l'eau H_2O :



Equation bilan de l'électrolyse d'une solution aqueuse de NaCl



Nomenclature des ALCANES

Les alcanes sont des molécules organiques uniquement composées d'atomes de carbone et d'hydrogène tous liés ensemble uniquement par des liaisons simples et dont la formule brute est C_nH_{2n+2} avec n un nombre naturel

1. Les alcanes linéaires ou les n-alcanes :

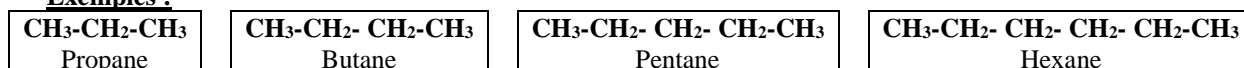
Définition :

Les chaînes carbonées sont linéaires si chaque atome de carbone n'est lié au maximum qu'à deux autres atomes de carbones au sein de la chaîne .

Nomenclature :

Le nom de l'alcanes est formé du suffixe « ane » précédé d'un terme grecque qui correspond au nombre de carbone dans la chaîne

Exemples :



2. Les alcanes ramifiés :

Définition :

Les chaînes carbonées ramifiées sont des chaînes où au moins l'un des atomes carbones de la chaîne est lié au moins à trois autres atomes de carbones

Nomenclature :

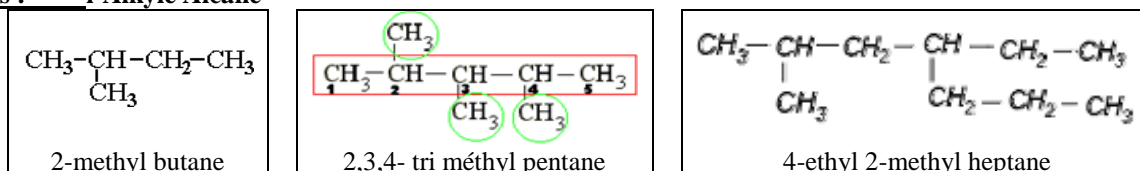
Pour nommer cette molécule il faut procéder de la façon suivante :

1. Ecrire la formule semi développée de la molécule (ou l'écriture topologique)
2. Identifier la chaîne principale (la chaîne carbonée la plus longue), on lui attribue le nom de l'alcanes
3. Identifier les groupes alkyles (groupes ramifiés) liés à cette chaîne
4. Numéroter les atomes de carbone, à partir de l'extrémité qui permet d'obtenir **la somme**, des numéros associés aux groupes alkyles, **la plus petite possible**.
5. Le nom de la molécule est constitué du nom de l'alcanes principale, précédé des noms des radicaux et chaque radical est précédé par son numéro

NB :

Si plusieurs groupes identiques figurent dans la molécule, on ajoute les préfixes "di" pour 2 et "tri" pour 3 et "tetra" pour 4

Exemples : i-Alkyle Alcane



Les dix premiers alcanes linéaires

Nombre de carbone	1	2	3	4	5	6	7	8	9	10
Alcane (C_nH_{2n+2})	méthane	éthane	propane	butane	pentane	hexane	heptane	octane	nonane	décane
Radical (C_nH_{2n+1})	méthyl	éthyl	propyl	butyl						

3. Les alcanes cycliques :

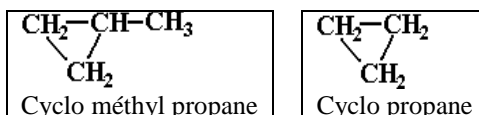
Définition :

Les chaînes carbonées cycliques qui ne comportent pas d'extrémités et qui forment une boucle

Nomenclature :

Les règles sont les même que pour les alcanes linéaires ou ramifiés mais l'on ajoute le préfixe cyclo devant le nom de la chaîne principale.

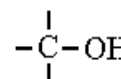
Exemples :



NOMENCLATURE DES COMPOSES ORGANIQUES

ALCOOL :

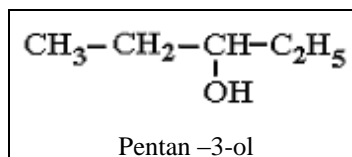
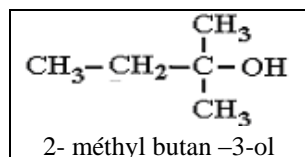
On appelle alcool un composé organique dans lequel le groupe hydroxyle $-OH$ est lié à un atome de carbone saturé.



Nomenclature :




- On détermine le nom de l'alcane à condition :
 - La chaîne principale est la chaîne la plus longue qui porte le groupe $-OH$.
 - La numérotation de la chaîne est choisie de façon que le groupe $-OH$ ait le numéro le plus petit possible.
- Le nom de l'alcool est formé en ajoutant le suffixe ol au nom de l'alcane (**alcane -i-ol**)

Exemples :



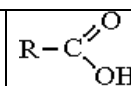
Classes d'alcool :

Selon que l'atome de carbone portant le groupe caractéristique $-OH$ est lié à 1, 2, 3 atomes de carbone, l'alcool est qualifié de primaire, secondaire, tertiaire

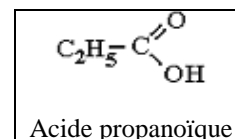
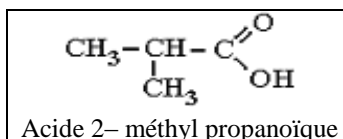
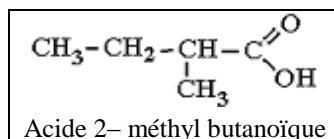
Classe de l'alcool	Alcool primaire	Alcool secondaire	Alcool tertiaire
Formule générale	$\begin{array}{c} \text{H} \\ \\ \text{R}-\text{C}-\text{OH} \\ \\ \text{H} \end{array}$	$\begin{array}{c} \text{H} \\ \\ \text{R}-\text{C}-\text{OH} \\ \\ \text{R}' \end{array}$	$\begin{array}{c} \text{R}'' \\ \\ \text{R}-\text{C}-\text{OH} \\ \\ \text{R}' \end{array}$
Exemples			
	Butanol ou butan -1 ol	butan -2- ol	2 -methyl propan -2- ol

ACIDE CARBOXYLIQUE :

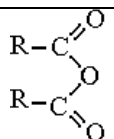
- Repérer la chaîne carbonée la plus grande contenant le carbone fonctionnel de l'acide.
- Numéroter les carbones en commençant par le carbone fonctionnel de l'acide.
- Le nom de l'acide est le nom de l'alcane précédé par le mot acide et finira par la terminaison -oïque



Acide alcanoïque

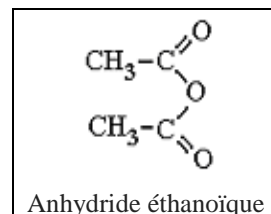
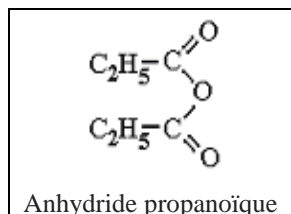
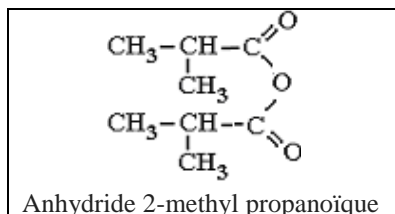


ANYDRIDE D'ACIDE :



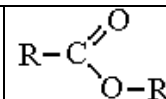
On nomme le composé, de la même manière que l'acide carboxylique juste on remplace le mot **acide** par le mot **anhydride** (anhydride **alcanoïque**)

Exemples :

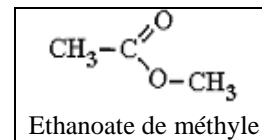
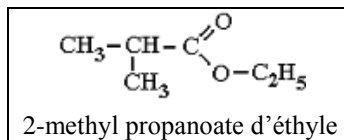
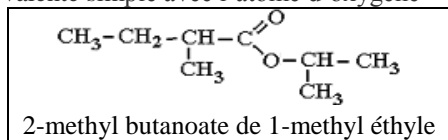
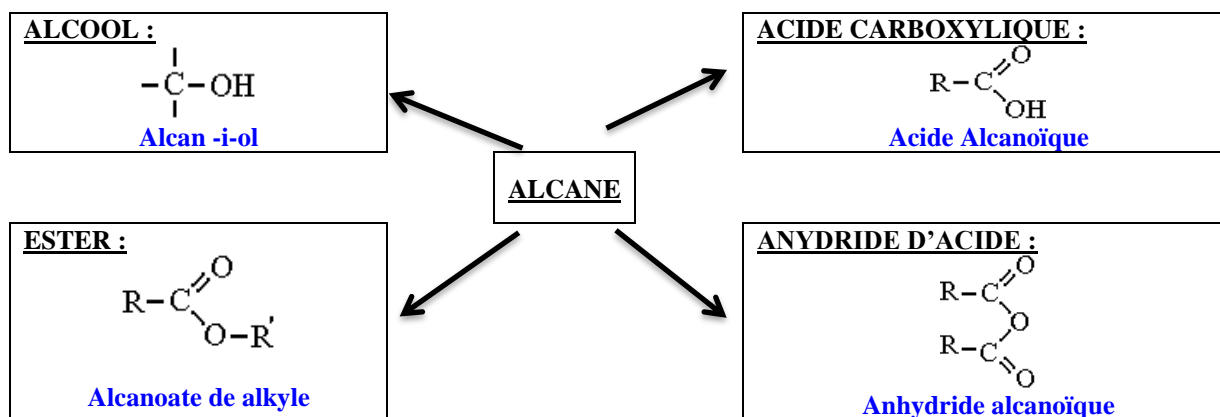
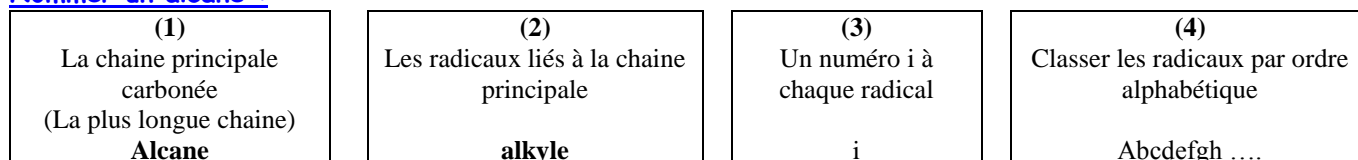


ESTER :

La nomenclature des esters est composée de deux termes, le premier terminant en -oate désignant la chaîne carbonée issue de l'acide et le deuxième terminant par -yle désignant la chaîne carbonée de l'alcool.



- Déterminer la longueur de la chaîne provenant de l'acide et rajouté le suffixe OATE : → Alcanoate
- Ajouter un "de" après le nom en -oate
- Déterminer la longueur de chaîne provenant de l'alcool puis terminer par le suffixe -yle (avec le "e" car en fin de nom.)
- Ce qui donne Alcanoate de alkyle
- Dans le cas des ramifications la chaîne carbonée est numéroté à partir de l'atome de carbone lié avec une liaison covalente simple avec l'atome d'oxygène

**NB :****Nommer un alcane :**

i-Alkyle Alcane

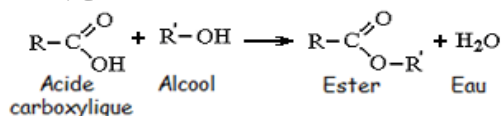
Les dix alcanes linéaires

n	Formule moléculaire C _n H _{2n+2}	Nom	n	Radical C _n H _{2n+1}	Nom
1	CH ₄	Méthane	1	CH ₃	Méthyl
2	C ₂ H ₆	Ethane	2	C ₂ H ₅	Ethyl
3	C ₃ H ₈	Propane	3	C ₃ H ₇	Propyl
4	C ₄ H ₁₀	Butane	4	C ₄ H ₉	Butyl
5	C ₅ H ₁₂	Pentane	5	C ₅ H ₁₁	Pentyl
6	C ₆ H ₁₄	Hexane	6	C ₆ H ₁₃	Hexyl
7	C ₇ H ₁₆	Heptane	7	C ₇ H ₁₅	Heptyl
8	C ₈ H ₁₈	Octane	8	C ₈ H ₁₇	Octyl
9	C ₉ H ₂₀	Nonane	9	C ₉ H ₁₉	Nonyl
10	C ₁₀ H ₂₂	Décane	10	C ₁₀ H ₂₁	Décy

ESTERIFICATION ET HYDROLYSE

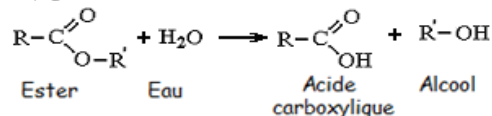
ESTERIFICATION :

Une estérification est une réaction entre un alcool et un acide. Elle conduit à un ester et de l'eau



HYDROLYSE :

Une hydrolyse est une réaction entre un ester et de l'eau. Elle conduit à un acide et un alcool



Caractéristiques de l'estérification et de l'hydrolyse : sont deux transformations chimiques :

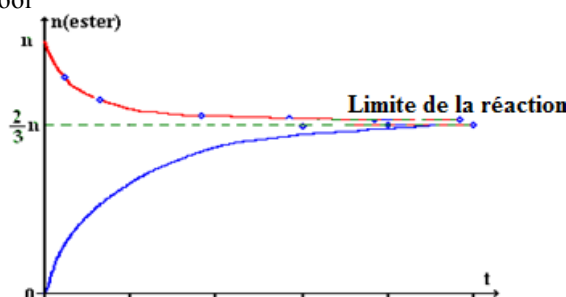
- **Lente** : nécessite trop de temps pour atteindre sa limite
- **Limitée** : aucun réactif n'est limitant et l'estérification est limitée par l'hydrolyse de l'ester formé
- **Athermique** : ne nécessite pas d'apport d'énergie thermique (chaleur) pour se produire et ne dégage pas d'énergie thermique

NB :

Athermique ne signifie pas qu'un apport d'énergie thermique soit sans effet sur la transformation

La limite de la réaction :

- Est indépendante de la température, de la pression, du catalyseur et de la nature de l'acide utilisé
- Dépend de la classe de l'alcool

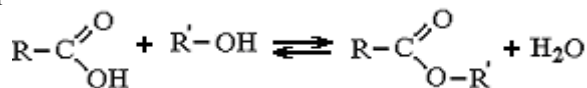


À l'équilibre :

- L'estérification et de l'hydrolyse sont deux transformations chimiques l'une inverse de l'autre et elles se font simultanément et se limitent mutuellement
- L'état d'équilibre est la situation pour laquelle la vitesse de la réaction d'estérification est la même que la vitesse d'hydrolyse de l'ester formé. Les quatre espèces (acide, alcool, ester et eau) coexistent.
- Le taux d'avancement final τ est inférieur à 1.

NB :

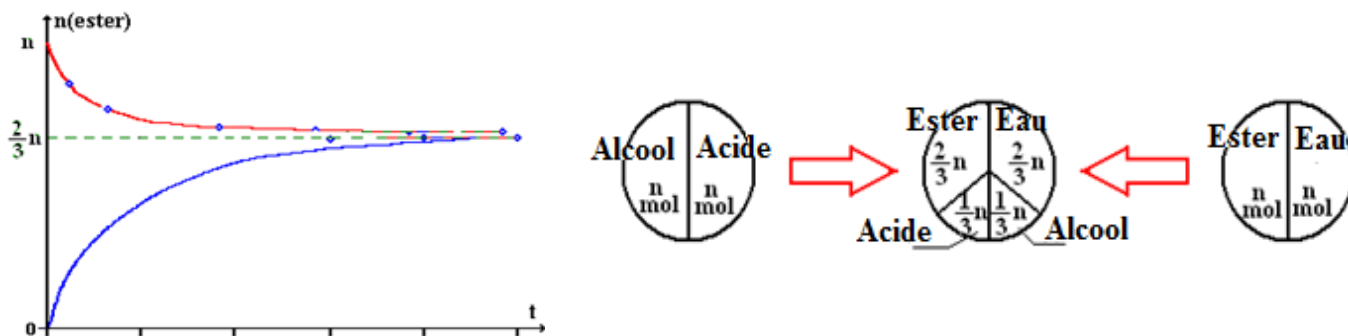
On aboutit avec un mélange équimolaire d'acide carboxylique et d'alcool au même état d'équilibre (même limite) qu'avec un mélange équimolaire d'ester correspondant et d'eau



Equation d'estérification	$\text{CH}_3\text{COOH} + \text{CH}_3\text{-CH}_2\text{-OH} \rightarrow \text{CH}_3\text{COOC}_2\text{H}_5 + \text{H}_2\text{O}$			
Etat initial	1 mol	1 mol	0	0
Etat intermédiaire	1 - x	1 - x	x	x
Etat final	1 - x _f	1 - x _f	x _f	x _f
Etat final	$\frac{1}{3}$	$\frac{1}{3}$	$\frac{2}{3}$	$\frac{2}{3}$

Généralement :

Equation d'estérification	$\text{CH}_3\text{COOH} + \text{CH}_3\text{-CH}_2\text{-OH} \rightarrow \text{CH}_3\text{COOC}_2\text{H}_5 + \text{H}_2\text{O}$			
Etat initial	n mol	n mol	0	0
Etat intermédiaire	n - x	n - x	x	x
Etat final	n - x _f	n - x _f	x _f	x _f
Etat final	$\frac{1}{3} \cdot n$	$\frac{1}{3} \cdot n$	$\frac{2}{3} \cdot n$	$\frac{2}{3}$



Rendement de réaction :

Le rendement r d'une réaction est le rapport de la quantité de matière formé expérimentalement n_{exp} et la quantité de matière formée n_{theo} si la réaction est considérée comme totale et $0 < r \leq 1$

$$r = \frac{n_{\text{exp}}}{n_{\text{theo}}} \quad \begin{array}{l} n_{\text{exp}} : \text{quantité de matière formé expérimentalement} \\ n_{\text{theo}} : \text{quantité de matière formé si la réaction est considérée comme totale} \end{array}$$

Augmenter la vitesse de réaction :

- Augmenter la température
- Augmenter la concentration initiale
- Ajouter un catalyseur

Améliorer le rendement :

- Ajouter un réactif en excès
- Eliminer un produit formé
-

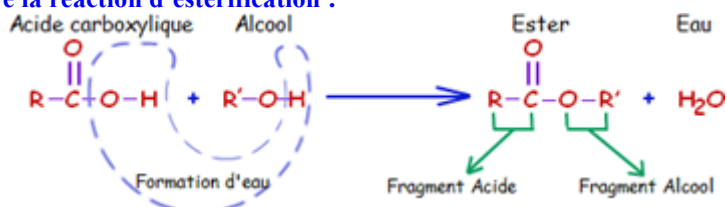
Le **rendement** d'une réaction d'estérification entre un acide carboxylique et un alcool **dépend de la classe** de l'alcool utilisé. Le tableau suivant donne l'ordre de grandeur du rendement de la réaction en fonction de la classe de l'alcool :

Classe de l'alcool	Primaire	Secondaire	Tertiaire
Rendement	67 %	60 %	5 %

NB :

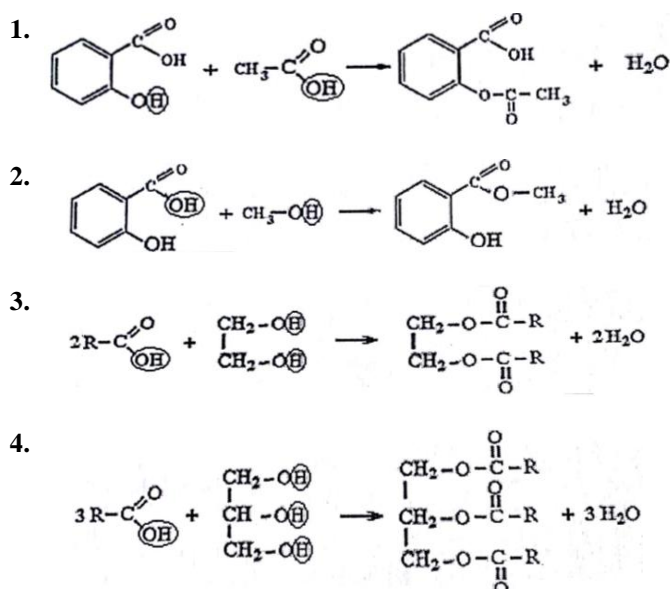
Le rendement de la transformation n'est pas le taux d'avancement finale de la transformation

NB : Essayer de comprendre la réaction d'estérification :

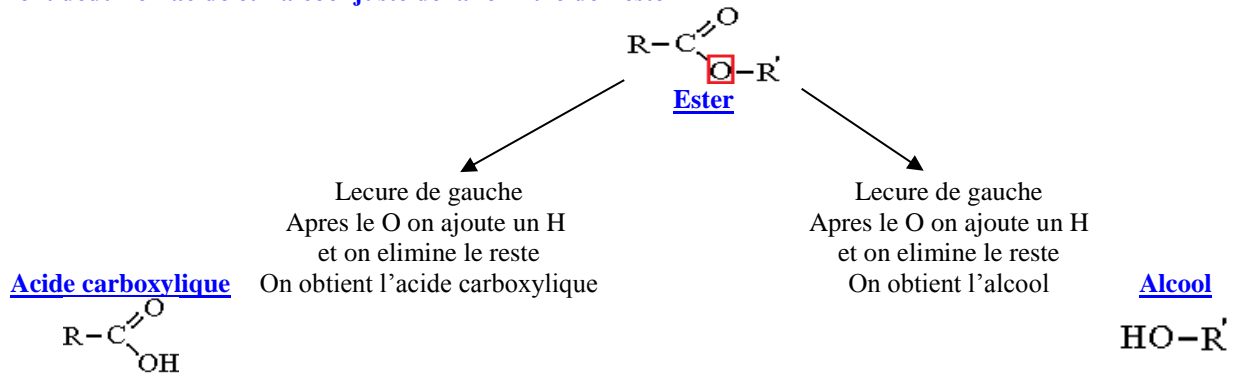


Pour la formation d'eau H_2O , l'acide participe par un **OH** par contre l'alcool participe par un **H**

Exemples :



Comment déduire l'acide et l'alcool juste de la formule de l'ester

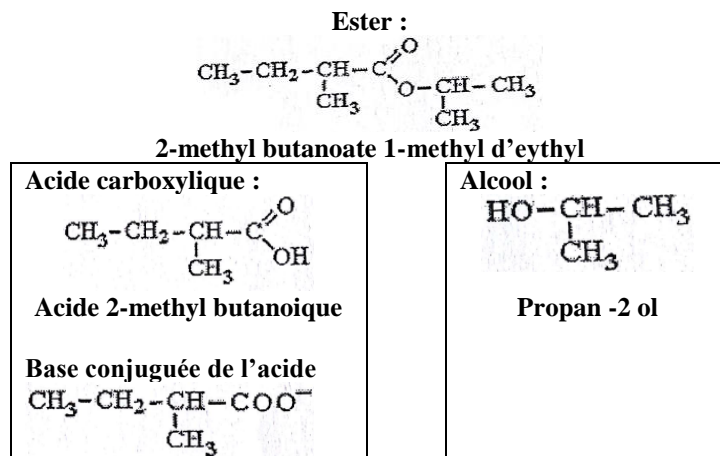


NB :

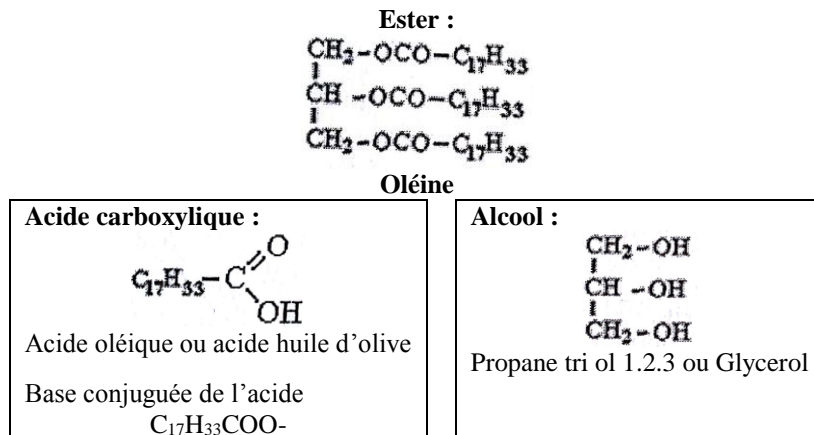
- On garde la chaîne carbonée intacte surtout du côté de l'alcool (on ne fait que dessiner)
- Déterminer l'acide RCOOH c'est aussi déterminer sa base conjuguée RCOO^- et l'anhydride correspondant $(\text{RCO})_2\text{O}$

Exemples :

Exemple 1 :



Exemple 2 :

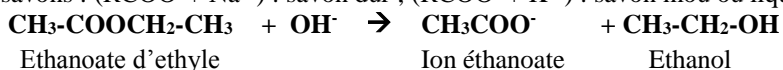


LA SAPONIFICATION

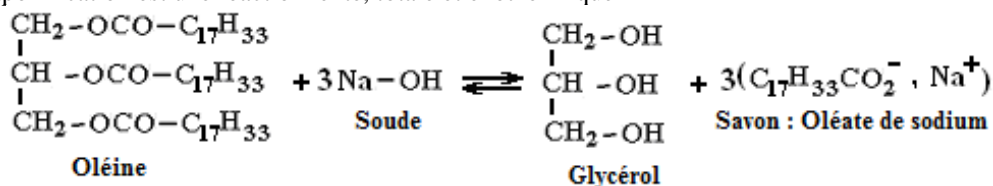
La saponification est une réaction chimique transformant un ester en un ion carboxylate et un alcool. Il s'agit en fait de l'hydrolyse en milieu basique d'un ester. Cette réaction permet la synthèse du savon.

Préparation du savon :

- Un savon est un mélange de carboxylate de sodium (ou de potassium). La chaîne carbonée non ramifiée (saturée ou non) possède au moins dix atomes de carbone.
- Formule générale des savons : $(\text{RCOO}^- + \text{Na}^+)$: savon dur ; $(\text{RCOO}^- + \text{K}^+)$: savon mou ou liquide



La réaction de saponification est une réaction lente, totale et exothermique

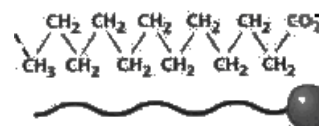
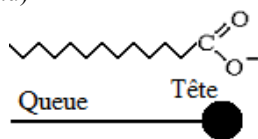


Oléine : constituant principale de l'huile d'olive

Caractères hydrophile et hydrophile des ions carboxylate

L'ion carboxylate R-COO^- est constitué de :

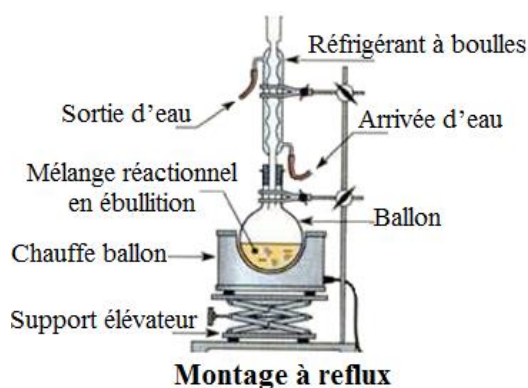
- Tête hydrophile COO^- : s'entoure facilement des molécules d'eau
- Queue hydrophobe R- : il a beaucoup d'affinité pour les chaînes carbonées présentes dans les graisses (déteste l'eau)



La solution du savon est une solution mousseuse et détergente, les ions carboxylates forment autour de la surface de l'eau un ruban, les têtes s'enfoncent dans l'eau et les queues s'enfoncent dans les substances grasses

Chauffage à reflux :

- En chauffant, on augmente la température du mélange réactionnel, on accélère la réaction de saponification qui est une réaction lente à température ambiante.
- Le chauffage à reflux permet de condenser les vapeurs des réactifs et des produits grâce au réfrigérant à bulles et de les faire retourner à l'état liquide dans le ballon



Quel est le rôle de l'éthanol ?

- Les deux réactifs, oléine et soude, sont tous deux solubles dans l'éthanol : l'éthanol permet aux réactifs d'être en contact dans la solution. On parle de transfert de phase des réactifs.
- L'utilisation de l'éthanol rend le mélange réactionnel plus homogène.

Quel est le rôle de l'acide sulfurique H_2SO_4 ?

L'acide sulfurique joue le rôle d'un catalyseur dans le but d'augmenter la vitesse de la réaction

Quel est le rôle de pierre ponce ?

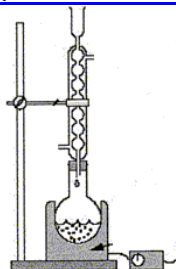
Pierre ponce (pierre lunaire) : trop légère et régularise l'ébullition (homogénéité de température dans le mélange) en évitant la formation aléatoire et incontrôlée de grosses bulles de vapeur.

Quel est le rôle de la solution saturée de chlorure de sodium (Solution salée) ?

- Laver le savon : diluer au maximum la soude
- Précipiter le savon : le savon est peu soluble dans l'eau salée, on parle alors de relargage du savon
- Après filtration et rinçages, on récupère le savon

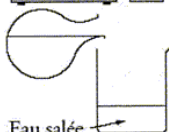
Étapes de la fabrication du savon

Étape (1)



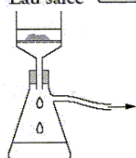
- Chauffer à reflux pendant 30 min
- En travaillant à température modérée on accélère la réaction tout en évitant les pertes de matière : les vapeurs se condensent dans le réfrigérant et retombent dans le ballon.

Étape (2)

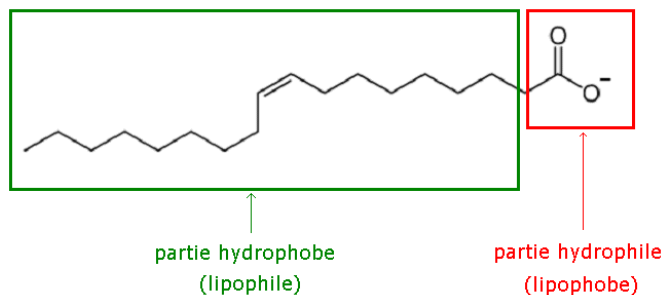


- À la fin du chauffage verser le mélange chaud dans le béccher contenant l'eau salée froide.
- Le savon est peu soluble dans l'eau froide et salée : le savon précipite en grande partie (relargage) ;

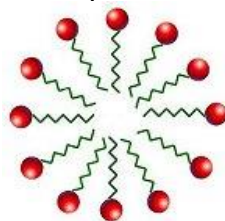
Étape (3)



- Filtration : récupérer le savon et le sécher.

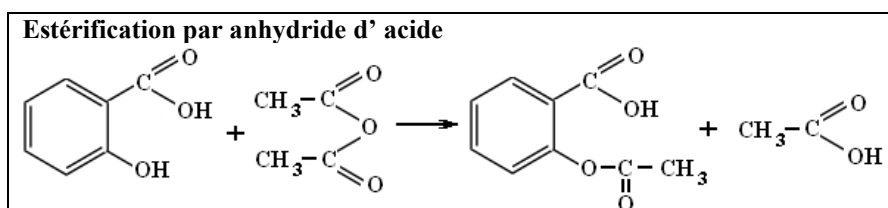
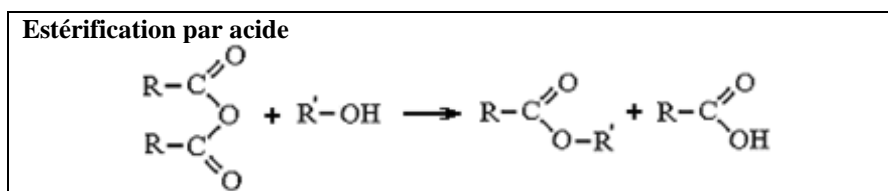
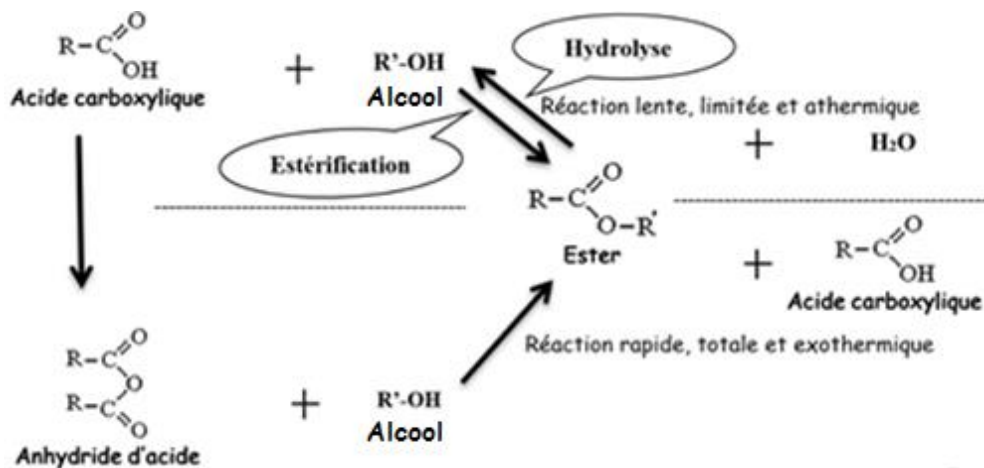
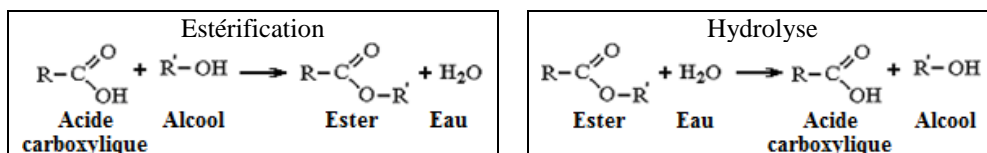


Hydrophile : qui aime l'eau
Hydrophobe : qui n'aime pas l'eau

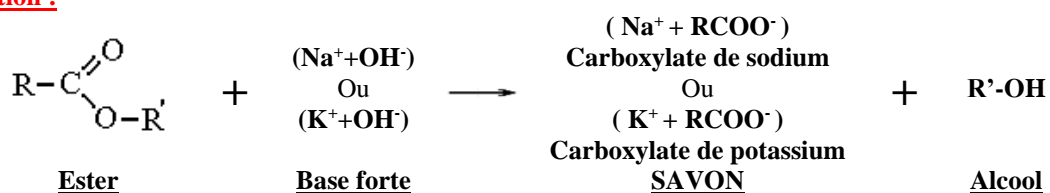


Micelle

RESUME DE LA CHIMIE ORGANIQUE



La saponification :



La saponification est une réaction lente, totale et exothermique

Exemples :

